



# الزعيم 8

## في الدراسات الاجتماعية

نهاية الفصل الأول 23 / 22 م

المستوى الثامن (8)

الشيخ محمد بن عبد الوهاب

إعداد /

D R - H

Tel: 70719992

[155 - 148]

[81 - 74]

8

أولاً: الموضوعات الأثرانية:

الموضوعات الإثرائية للصف (الثامن 8)

الوحدة الثالثة / المواطنة والمشاركة المدنية / الدرس الثاني: المشاركة المدنية في دولة قطر  
الوحدة السادسة / الأمن الوطني والتغير الاجتماعي / الدرس الثاني: التغير الاجتماعي وأثره في المجتمع القطري



## الوحدة الأولى : الجغرافيا



### أولاً: اختر الإجابة الصحيحة للعبارات التالية:

(1) - الطبقة التي تقع أسفل القشرة الأرضية مباشرة:

- ☐ النواة الداخلية. ☐ النواة الخارجية. ☐ الوشاح العلوي. ☐ الوشاح السفلي.

(2) - إحدى طبقات الأرض رقيقة السمك:

- ☐ النواة. ☐ الكسوة. ☐ القشرة. ☐ الوشاح.

(3) - تمثل طبقة السيماء:

- ☐ قمم الجبال. ☐ قيعان المحيطات. ☐ نواة الداخلية. ☐ النواة الخارجية.

(4) أكثر الطبقات سمكاً:

- ☐ النواة. ☐ الكسوة. ☐ القشرة. ☐ الوشاح.

(5) - يتركز الحديد والنيكل في طبقة:

- ☐ النواة. ☐ الكسوة. ☐ القشرة. ☐ الوشاح.

(6) - من أنواع الصخور النارية:

- ☐ النيس. ☐ الشيست. ☐ الجرانيت. ☐ الطين.

(7) - من الصخور التي تحتوي على حفریات:

- ☐ النارية. ☐ المتحولة. ☐ الرسوبية. ☐ البركانية.

(8) - الوسط الذي تعيش فيه الكائنات الحية يُعرف بالغلاف:

- ☐ الحيوي. ☐ الصخري. ☐ الجوي. ☐ الغازي.

(9) - أكبر المحيطات مساحةً، المحيط:

- ☐ الهادي. ☐ الهندي. ☐ الأطلنطي. ☐ المتجمد الشمالي.

السؤال الثاني: - أجب عن الأسئلة التالية:-

### 1 - عدد طبقات الأرض الرئيسية.

- أ- .....  
ب- .....  
ج- .....

### 2 - اذكر مصادر المعلومات عن تركيب باطن الأرض.

- أ- .....  
ب- .....  
ج- .....

### 3 - بم تفسر: أهمية الغلاف المائي.

- أ- .....  
ب- .....  
ج- .....

### 4 - عدد أنواع صخور القشرة الأرضية.

- أ- .....  
ب- .....  
ج- .....

### 5 - بم تفسر: أهمية الغلاف الصخري.

- أ- .....  
ب- .....  
ج- .....

### 6 - أكتب عن : أهمية الغلاف الجوي للحياة على سطح الأرض.

- أ- .....  
ب- .....  
ج- .....

### 7 - عدد طبقات الغلاف الجوي.

- أ- .....  
ب- .....  
ج- .....

## 8 - ما النتائج المترتبة على: وجود طبقة الأوزون في الغلاف الجوي.

.....

.....

## 9 - أكتب فقرة موجزة عن : طبقة الأوزون.

.....

.....

## 10 - ما الفرق بين كل من :

### أ - النواة الداخلية والخارجية.

أ - .....

ب - .....

### ب - طبقة السيل والسيما.

أ - .....

ب - .....

.

## 11 - ما النتائج المترتبة على: ارتفاع نسبة المياه المالحة على سطح الأرض.

.....

.....

## 12 - عرّف ما يلي:

### أ - الغلاف الصخري:

.....

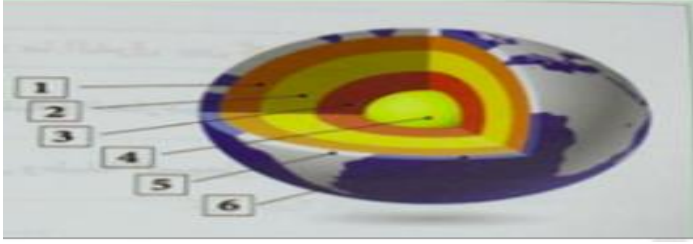
.....

### ب - الغلاف الجوي

.....

.....

### 13 - من الشكل التالي وضع ما تشير إليه الأرقام الآتية؟



- 1 - طبقة .....
- 2 - طبقة .....
- 3 - طبقة .....
- 4 - طبقة .....
- 5 - طبقة .....
- 6 - طبقة .....

### 14 - اذكر أقسام الغلاف الحيوي

- أ - .....
- ب - .....
- ج - .....

### 15 - قارن بين : أنواع صخور القشرة الأرضية من خلال الجدول التالي :

نوع الصخور	النارية	الرسوبية
الشكل	.....	.....
المميزات	.....	.....
الأمثلة	.....	.....

### 16 - قارن بين: أقسام الغلاف المائي من خلال الجدول التالي :

الأقسام	المياه العذبة	المياه المالحة
النسبة %	.....	.....
الأمثلة	.....	.....

### 17 - أمامك خريطة للعالم وضع ما تدل عليه الأرقام:



- 1 - المحيط .....
- 2 - المحيط .....
- 3 - المحيط .....
- 4 - البحر .....
- 5 - نهر .....
- 6 - نهر .....



## الوحدة الثانية: التاريخ

### أولاً: اختر الإجابة الصحيحة للعبارات التالية:

- (1) - أطلق عصر بناء الأهرامات بالحضارة المصرية القديمة على الدولة :  
☐ العصر العتيق. ☐ الحديثة. ☐ القديمة. ☐ الوسطى.
- (2) - تم توحيد القطرين الشمالي والجنوبي لمصر على يد الملك :  
☐ نارمر. ☐ خوفو. ☐ زوسر. ☐ سنفرو.
- (3) - من النساء اللاتي كان لهن دور في مواجهة الهكسوس :  
☐ نفرتيتي. ☐ حتشبسوت. ☐ إياح حتب. ☐ مريت أتون.
- (4) - تميزت مصر بالرخاء الاقتصادي في عصر الدولة :  
☐ القديمة. ☐ الوسطى. ☐ الحديثة. ☐ العتيق.
- (5) - أقدم الصناعات في الحضارة المصرية القديمة الصناعات :  
☐ الحجرية. ☐ المعدنية. ☐ الخشبية. ☐ الورقية.
- (6) - من الصناعات القائمة على نبات البردي :  
☐ الأثاث. ☐ الورق. ☐ المنسوجات. ☐ التيجان.
- (7) - الملك الذي قام بطرد الهكسوس من مصر هو :  
☐ أخناتون. ☐ حور محب. ☐ أحمس. ☐ سنوسرت الثالث.
- (8) - الكتابة المصرية القديمة عرفت باسم :  
☐ الأوردية. ☐ المسمارية. ☐ السنسكريتية. ☐ الهيروغليفية.
- (9) - تم فتح مصر في عهد الخليفة الراشد :  
☐ أبو بكر الصديق. ☐ عمر بن الخطاب. ☐ عثمان بن عفان. ☐ علي بن أبي طالب.

### ثانياً أجب عن الأسئلة التالية:





(1) - فسر: أطلق على المجتمع المصري القديم اسم المجتمع الهرمي.

- أ- .....  
 ب- .....  
 ج- .....

(2) - برهن بالأدلة على :: دور المرأة في المجتمع المصري القديم؟

- أ- .....  
 ب- .....  
 ج- .....

(3) - عدد: أهم خصائص الديانة المصرية القديمة.


- أ- .....  
 ب- .....  
 ج- .....

(4) ما العلاقة بين : نهر النيل وقيام الحضارة المصرية القديمة.

- أ- .....  
 ب- .....  
 ج- .....

(5) - رتب الأحداث التالية من الأقدم إلى الأحدث على الخط الزمني التالي:

( دخول عمرو بن العاص مصر - توحيد القطرين - طرد الهكسوس من مصر - بناء سد اللاهون )



(6) برع المصريون القدماء في العلوم . وضح ذلك.

- أ- .....  
 ب- .....  
 ج- .....

(7) - عدد: عوامل قيام الحضارة المصرية القديمة.

- أ- .....  
ب- .....  
ج- .....

(8) - بم تفسر: - ضعف واضطراب مصر عقب نهاية الدولة الحديثة.

- أ- .....  
ب- .....  
ج- .....

(9) اذكر:- أهم أنواع الصناعات في مصر القديمة .

- أ- .....  
ب- .....  
ج- .....

[74 - 81]

الوحدة الثالثة: المواطنة إثرأى



أولاً: اختر الإجابة الصحيحة للعبارات التالية:

(1) - أي مما يأتي من واجباتنا تجاه الوطن:

- اتباع الأنظمة والقوانين. ○ توفير فرص العمل. ○ تطوير الخدمات الصحية. ○

(2) - أول منظمة خيرية تطوعية بدولة قطر:

- إحسان. ○ جمعية الهلال الأحمر القطري. ○ طموح. ○ نماء. ○

(2) - تلبية احتياجات أجهزة الدولة الحكومية والخاصة من المتطوعين، من أهداف مؤسسة:

- نماء. ○ طموح. ○ وفاق. ○ دريمة. ○

(3) - تمكين كبار السن ورعايتهم من أهداف:

- الشفاح. ○ إحسان. ○ دريمة. ○ أمان. ○

(4) - ( انتماء الفرد للوطن الذي يعيش فيه ) يشير المفهوم إلى تعريف:

- الانتماء. ○ المواطنة. ○ التطوع. ○ الهوية. ○





(5) - تهدف جمعية الهلال الأحمر القطري إلى:

○ رعاية كبار السن. ○ تمويل المشاريع الصغيرة. ○ تقديم مساعدات للفئات المتضررة.

(6) - جمعيات غير ربحية مستقلة عن الحكومة ينشئها أشخاص بغرض خدمة المجتمع وتحقيق

أهدافه) يشير هذا التعريف إلى :

○ مؤسسات محلية. ○ مؤسسات بحثية. ○ مؤسسات المجتمع المدني.

**ثانياً أجب عن الأسئلة التالية:**

(1) - بم تفسر: أهمية المواطنة.

- أ- .....  
 ب- .....  
 ج- .....

(2) - عُدّد: مقومات المواطنة.

- أ- .....  
 ب- .....  
 ج- .....

(3) - اذكر: مجالات مشاركة الفرد في هيئات المجتمع المدني.

- أ- .....  
 ب- .....  
 ج- .....

(4) - أجب : ما أهداف جمعية الهلال الأحمر القطري.


- أ- .....  
 ب- .....  
 ج- .....

(5) - اذكر: أثراً لمشاركة الفرد في هيئات المجتمع المدني.

- أ- .....  
 ب- .....  
 ج- .....

(6) **وضح الجهة (المؤسسة) التي تتوجه لها في حال أردت التطوع بأحد الأعمال التالية:**

الجهة (المؤسسة)	العمل التطوعي	العنصر
	تقديم مساعدات مالية وعينية للفئات الضعيفة لتغطية مصاريف المعيشة.	(أ)
	مساعدة كبار السن ورعايتهم للتمتع بحياة كريمة وأمنة ومنتجة.	(ب)



## الوحدة الرابعة : الجغرافيا



السؤال الاول: اختر البديل الصحيح من بين البدائل الآتية:

(1) - **الجهة المسؤولة عن إجراء التعدادات السكانية بدولة قطر هي:**

- ☐ الاقتصاد والتجارة. ☐ الثقافة والرياضة. ☐ التعليم والتعليم العالي. ☐ جهاز التخطيط والإحصاء.

(2) - **من مصادر البيانات السكانية:**

- ☐ المسح بالعينة. ☐ الوزارات. ☐ الكتب. ☐ الدوريات.

(3) - **أكثر الدول انخفاضا في معدلات الوفيات على مستوى العالم:**

- ☐ الصومال. ☐ قطر. ☐ اليمن. ☐ صربيا.

(4) - **يوجد ما يقرب من نصف سكان العالم في شرق وجنوب شرق قارة:**

- ☐ آسيا. ☐ إفريقيا. ☐ أوروبا. ☐ أستراليا.

(5) - **أكثر جهات القارة الأوروبية ارتفاعاً في الكثافة:**

- ☐ الشرق. ☐ الغرب. ☐ الشمال. ☐ الجنوب.

(6) - **من الدول التي تشهد معدلات مواليد مرتفعة دولة:**

- ☐ النيجر. ☐ أوكرانيا. ☐ إيطاليا. ☐ البرتغال.

السؤال الثاني: - **أجب عن الأسئلة التالية:**

(1) عدد الخصائص التي يجب توافرها في التعداد الشامل للسكان.

- أ- .....  
 ب- .....  
 ج- .....

2 - بم تفسر:

أ - يوفر استخدام أسلوب المسح بالعينة مميزات عديدة:

- أ- .....  
 ب- .....

ب - النطاق الآسيوي أكبر الأقاليم السكانية في العالم.

- أ- .....  
 ب- .....  
 ج- .....

ج - أهمية واستخدامات البيانات السكانية:

- أ- .....  
 ب- .....  
 ج- .....

(3) - أجب عما يلي : تركز السكان في منطقة شمال وشرق الولايات المتحدة الأمريكية.

- أ- .....  
 ب- .....  
 ج- .....

(4) - عدد طرق إجراء التعداد السكاني

- أ- .....  
 ب- .....  
 ج- .....

(5) - اذكر أهم نطاقات التركيز السكاني في العالم :

- أ- .....

ب -

ج -

(6) لماذا يندر السكان في شمال آسيا وأمريكا الشمالية :

أ -


ب -

ج -

(5) - عرف المفاهيم التالية:

أ - التعداد السكاني :

ب - الإحصاءات الحيوية:



## الوحدة الخامسة: التاريخ

السؤال الأول: اختر البديل الصحيح من بين البدائل الآتية:

(1) - السلطان العثماني الذي أسس جيش الإنكشارية هو:

- ☐ بايزيد الأول    ☐ أورخان    ☐ محمد الثاني    ☐ سليمان الأول

(2) - السبب في هجرة القبائل التركمانية إلى الأناضول:

- ☐ هجوم البيزنطيين عليهم    ☐ هجوم المغول على تركستان    ☐ هجوم السلاجقة على تركستان

(3) - سيطرت الدولة العثمانية على بلاد المغرب العربي ما عدا:

- ☐ تونس    ☐ الجزائر    ☐ مراكش    ☐ طرابلس

(4) - وصلت الفتوحات الإسلامية أقصى اتساع لها في أوروبا عند مدينة:

- ☐ روما    ☐ فيينا    ☐ باريس    ☐ البندقية

(5) - السلطان الذي اتخذ من أسكي شهر عاصمة لدولته هو:

- ☐ بايزيد الأول    ☐ عثمان الأول    ☐ محمد الثاني    ☐ سليمان الأول



(6) - اتجهت الدولة العثمانية إلى البلاد العربية في القرن الميلادي:

- الرابع عشر. ☐ الخامس عشر. ☐ السادس عشر. ☐ السابع عشر. ☐

(7) - الحدث التاريخي الذي يشكل حداً فاصلاً بين العصور الوسطى والحديثة

- فتح فيينا. ☐ هجرة العثمانيين من التركستان. ☐ سن سليمان للقوانين. ☐ فتح القسطنطينية. ☐

(8) - قام السلطان مراد الأول بنقل العاصمة إلى مدينة:

- أدرنة. ☐ صوفيا. ☐ بورصة. ☐ إسطنبول. ☐

(9) - أصبح العراق كله تحت السيطرة العثمانية في عهد السلطان:

- بايزيد الأول. ☐ عثمان الأول. ☐ محمد الثاني. ☐ سليمان القانوني. ☐

(10) - ترتب على إكتشاف رأس الرجاء الصالح:

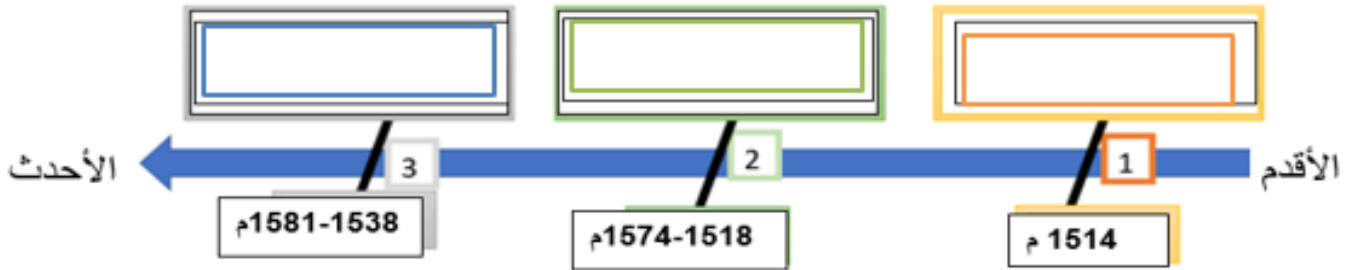
- احتلال البرتغاليين لمصر. ☐ ضعف دولة المماليك سياسياً واقتصادياً. ☐

السؤال الثاني: - أجب عن الأسئلة التالية: - (1) أذكر أهم أعمال عثمان

- أ- .....  
 ب- .....  
 ج- .....

2 - رتب الأحداث التالية من الأقدم إلى الأحدث على الخط الزمني التالي:

{ ضم اليمن - ضم العراق - ضم بلاد المغرب العربي }  
 { ضم اليمن - ضم العراق - ضم بلاد المغرب العربي }



(1) أذكر عوامل توسع وتطور الدولة العثمانية

- أ- .....  
 ب- .....  
 ج- .....

(2) بم تفسر: "يعد عصر السلطان سليمان القانوني هو العصر الذهبي للدولة العثمانية"

- أ - .....  
 ب - .....  
 ج - .....

**(3) - اذكر: دوافع الدولة العثمانية للتوجه نحو البلاد العربية.**

- أ - .....  
 ب - .....  
 ج - .....

**(4) ما العوامل التي دفعت محمد الثاني إلى فتح القسطنطينية.**

- أ - .....  
 ب - .....  
 ج - .....

**(5) - ما النتائج المترتبة على : أ - ضم الدولة العثمانية لمصر.**

- أ - .....  
 ب - .....  
 ج - .....

**ب - فتح مدينة القسطنطينية.**

- أ - .....  
 ب - .....  
 ج - .....

**ج - معركة مرج دابق 1516 م.**

- أ - .....  
 ب - .....  
 ج - .....

**(6) - قارن في الجدول : أ - قارن بين : معركة جالديران ومعركة الريدانية من حيث:**

**ج - النتائج.**

**ب - الأسباب**

**أ - الأطراف .**

معركة الريدانية	معركة مرج دابق	أوجه المقارنة
.....	.....	التاريخ



النتائج

ب - النتائج.

أ - التاريخ.

ب - قارن بين: معركة مرج دابق ومعركة الريدانية من حيث:

(7) - اذكر أهم المعارك التي خاضها السلطان سليم الأول.

1- خالدان [1514] 2- مرج دابق [1516] 3- الريدانية [1517]

[155 - 148]

إثرائي



المواطنة



السؤال الأول: اختر البديل الصحيح من بين البدائل الآتية:

معركة الريدانية	معركة جالديران	أوجه المقارنة
.....	.....	التاريخ
.....	.....	النتائج

(1) - أي من التالي من مقومات الأمن الاجتماعي القطري:

توفر الموارد المالية ☐ توفر الموارد البشرية ☐ سيادة القانون ☐ انفتاح قطر على العالم الخارجي ☐

(2) - وضع السياسات العامة في المجالات الاقتصادية من مهام:



جهاز قطر للاستثمار. ☐ المجلس الأعلى للشؤون الاقتصادية والاستثمار. ☐

(3) - الجهة التي تسهم في خلق وتوجيه الرأي العام:

الإعلام ☐ النوادي ☐ المساجد ☐ الجامعات ☐

(4) - المؤسسة التي تتولى إعداد النشئ اجتماعياً ونفسياً ومعرفياً:

الأمنية ☐ التربية ☐ الدينية ☐ الجامعات ☐

(5) - الجهة التي تعمل علي المشاركة في تمويل المشروعات الصناعية في دولة قطر:

جهاز قطر للاستثمار. ☐ بنك قطر للتنمية. ☐ وزارة الطاقة والصناعة. ☐

السؤال الثاني: - أجب عن الأسئلة التالية: -

(1) - " عدد: مقومات الأمن الاجتماعي في دولة قطر.

- أ- .....  
ب- .....  
ج- .....

(2) - " وضح: دور المؤسسات الوطنية في تحقيق الأمن الاجتماعي في دولة قطر.

- أ- .....  
ب- .....  
ج- .....

(3) - " اذكر: مقومات الأمن الاقتصادي في دولة قطر.

- أ- .....  
ب- .....  
ج- .....

(4) - " وضح: دور المؤسسات الاقتصادية في تحقيق الأمن الاقتصادي.

- أ- .....  
ب- .....  
ج- .....

(5) عدد أثر الاعتزاز بالهوية الوطنية في تحقيق الأمن الاقتصادي.

- أ- .....  
ب- .....  
ج- .....

## الموضوعات الإثرائية

الوحدة الثالثة / المواطنة والمشاركة المدنية / الدرس الثاني:

\* المواطنة المشاركة المدنية (من صفحة 74 إلى صفحة 81)

الوحدة السادسة / الأمن الوطني والتغير الاجتماعي / الدرس الثاني:

التغير الاجتماعي وأثره على المجتمع القطري

(من صفحة 148 إلى صفحة 155)

# مع أطيب المنى وأرق تحياتي



# الزعيم

DR-H

DR - H // DR- HANDU DEWIB

