

مدرسة الأندلس الخاصة للبنات
العام الأكاديمي 2025/2024
نهاية الفصل الدراسي الأول



أوراق عمل إثرائية
مادة الحاسب الآلي
الصف: الأول

اسم الطالبة/.....

الصف والشعبة /.....

السؤال الأول: الأسئلة الموضوعية: اختار الإجابة الصحيحة:

أنت كفرد وور
تقي بنفسك

1.1	حافظ على نظافة مكتبك وحاسوبك " <u>تجنب الأكل أثناء استخدام الحاسوب</u> ".
	A
	B
	C

1.2	حافظ على نظافة مكتبك وحاسوبك " <u>تجنب الشرب أثناء استخدام الحاسوب</u> ".
	A
	B
	\ C

حافظ على نظافة مكتبك وحاسوبك " احذر من أسلاك الكهرباء".

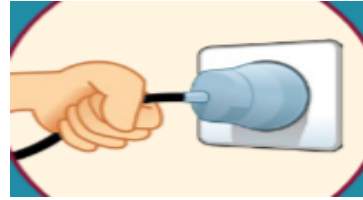
1.3



A



B



C

اجلس دائما بطريقة صحيحة " الجلسة الصحيحة".

1.4









A









B



C

<p>من مكونات سطح مكتبي " <u>جهاز الحاسوب</u> " .</p>	<p>1.5</p>
	<p>A</p>
	<p>B</p>
	<p>C</p>
<p>من مكونات سطح مكتبي " <u>سلة المحذوفات</u> " .</p>	<p>1.6</p>
	<p>A</p>
	<p>B</p>
	<p>C</p>

من مكونات سطح مكتبي "مجلد".		1.7
	A	
	B	
	C	
من مكونات سطح مكتبي "متصفح الانترنت".		1.8
	A	
	B	
	C	

من مكونات سطح مكتبي " التاريخ والوقت".		1.9
	A	
	B	
	C	

اختر الملف الرقمي الذي يتم إنشاؤه عندما "نكتب على لوحة المفاتيح".		1.10
	A	
	B	
	C	

<p>اختر الملف الرقمي الذي يتم إنشاؤه عندما <u>تُسجل صوتك</u>.</p>	<p>1.11</p>
	<p>A</p>
	<p>B</p>
	<p>C</p>
<p>اختر الملف الرقمي الذي يتم إنشاؤه عندما <u>تلتقط صورة بواسطة الهاتف الذكي</u>.</p>	<p>1.12</p>
	<p>A</p>
	<p>B</p>
	<p>C</p>

<p>اختر الملف الرقمي الذي يتم إنشاؤه عندما <u>تسجل فيديو</u>.</p>	<p>1.13</p>
	<p>A</p>
	<p>B</p>
	<p>C</p>

<p>أدواتي في الرسام " الممحاة".</p>	<p>1.14</p>
	<p>A</p>
	<p>B</p>
	<p>C</p>

أدواتي في الرسام " القلم".		1.15
	A	
	B	
	C	

أدواتي في الرسام " أداة التعبئة".		1.16
	A	
	B	
	C	

أدواتي في الرسام " الفرشاة".		1.17
	A	
	B	
	C	

أدواتي في الرسام " الألوان".		1.18
	A	
	B	
	C	

أدواتي في الرسام " الأشكال " .		1.19
	A	
	B	
	C	

الأسئلة المقالية:







السؤال الثاني: صل بين العمودين

ب.	أ
	احذر من أسلاك الكهرباء
	تجنب الأكل أثناء استخدام الحاسوب
	تجنب الشرب أثناء استخدام الحاسوب
	الجلسة الصحيحة
	استعمل كلتا يديك بطريقة صحيحة أثناء الطباعة

السؤال الثالث: صل بين العمودين

ب	أ
	نص
	صوت
	صورة
	فيديو
	برنامج الرسام

السؤال الرابع: صلي بين العمودين

ب.







أ
الأشكال
ممحاة
القلم
أداة التعبئة
الفرشاة
الألوان

انتهت الأسئلة