

	اسم الطالب : .....				رؤيتنا: الارتقاء الشامل بالأجيال	
	الصف	التاريخ	اليوم	المادة	مدرسة الأرقم الخاصة	
	الثاني	30/9/2024	الثلاثاء	الدراسات الاجتماعية	ورقة عمل خاصة بالوحدة الأولى	

### السؤال الأول: اختر الإجابة الصحيحة فيما يلي :


1. الكرة التي نعيش عليها هي كرة : صغيرة – كبيرة جداً – صغيرة جداً
2. يستغرق دوران الأرض حول نفسها: 20 ساعة - 12 ساعة - 24 ساعة
3. عمر النهار: 12 ساعة – 10 ساعات – 5 ساعات
4. كم قمر للأرض:



5. تمت الأرض بالضوء والحرارة: الشمس – القمر – الكواكب
6. ثاني أكبر قارات العالم مساحة وسكاناً هي قارة: آسيا – أوروبا – أفريقيا
7. تقع دولة الإمارات العربية المتحدة في قارة: آسيا – أوروبا – أفريقيا
8. يعيش حيوان الباندا في ( الصين ) في قارة : آسيا – أوروبا – أفريقيا
9. تقع جبال الألب في قارة : آسيا – أوروبا – أفريقيا
10. يعيش حيوان اللاما في قارة: آسيا – أوروبا – أمريكا الجنوبية
11. يعيش البطريق في القارة: آسيا – أوروبا – القطبية الجنوبية
12. في قارة آسيا أعلى قمة في العالم قمة: الأخضر - إفريقيا - إفرست – الألب
13. سميت بالقارة السمراء: آسيا – أوروبا – أفريقيا
14. أصغر القارات في العالم من حيث المساحة تحيط بها المياه من جميع الجهات قارة: آسيا – أوروبا – استراليا
15. من أشهر الجبال في قارة أوروبا: الأخضر - إفريقيا - إفرست – الألب
16. ثاني أصغر قارات العالم: آسيا – أوروبا – أفريقيا

السؤال الثاني : صل بخط بين الصورة ومايناسبها من الكلمات والعبارات:

1. بحر



2. محيط



3. مضيق



4. خليج



5. الأشخاص ينامون في



6. يظهر في الليل، وهو براق



7. تظهر في النهار، وتمدنا بالحرارة والضوء

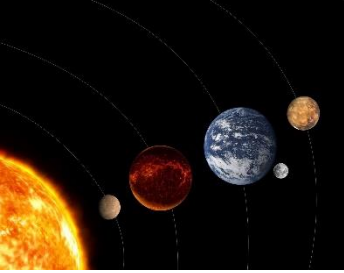
### السؤال الثالث :أكمل يا قمر الفراغ بالكلمات المناسبة:

**الكلمات المساعدة:** البحار - الفضاء - الصيف - القارة - العربي



- أذهب إلى البحر في فصل .....

- مسطحات مائية أصغر من المحيطات هي .....



- المكان الذي توجد به الأرض والشمس والقمر هي .....



- تشرف بلادي دولة الإمارات العربية المتحدة على الخليج .....

- قطعة كبيرة جداً من اليابسة على سطح الأرض .....



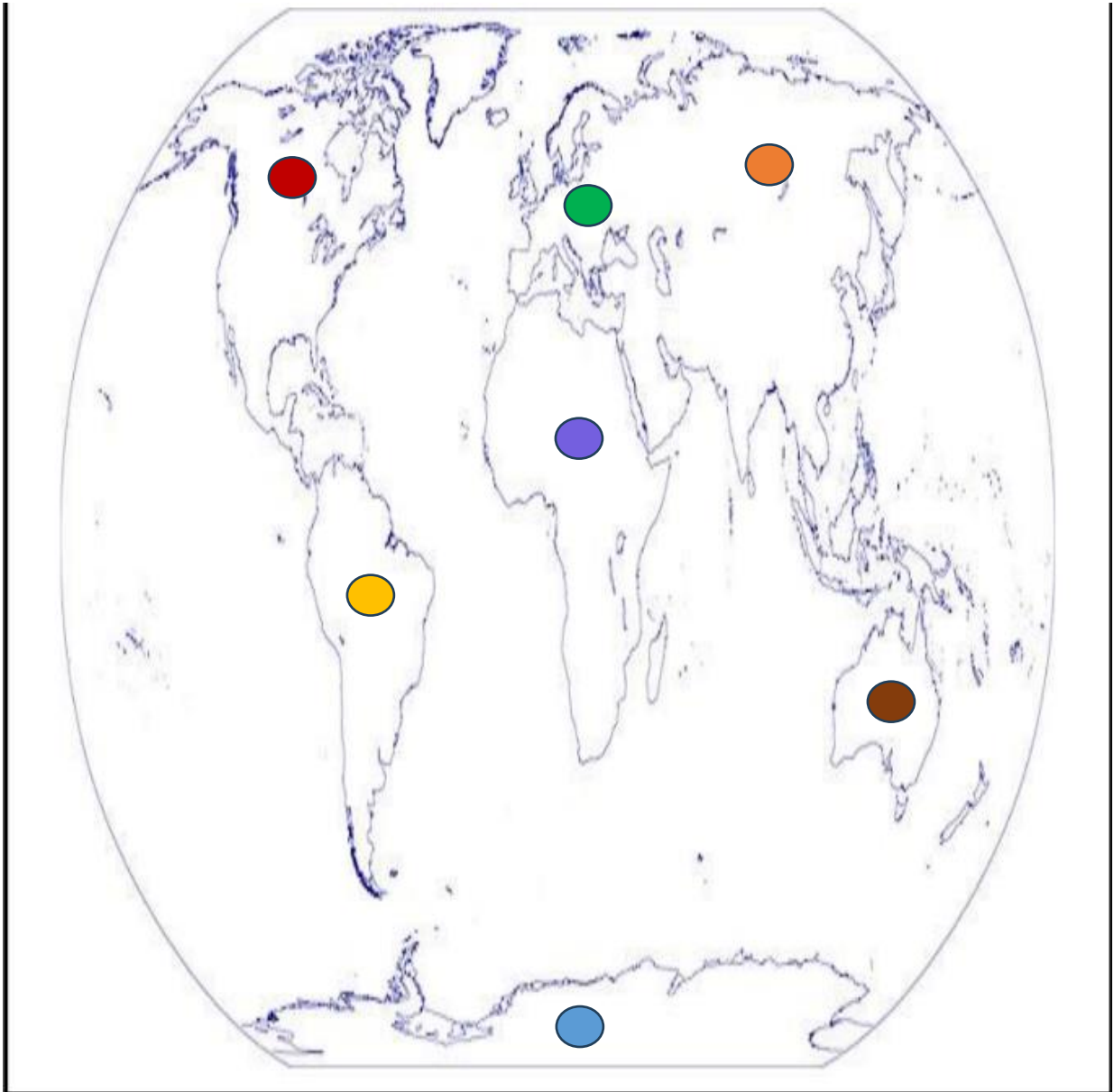
- وسيلة النقل في البحار والمحيطات .....

**السؤال الرابع: ضع إشارة ✓ أمام العبارة الصحيحة، وإشارة ✗ أمام العبارة الخاطئة:**

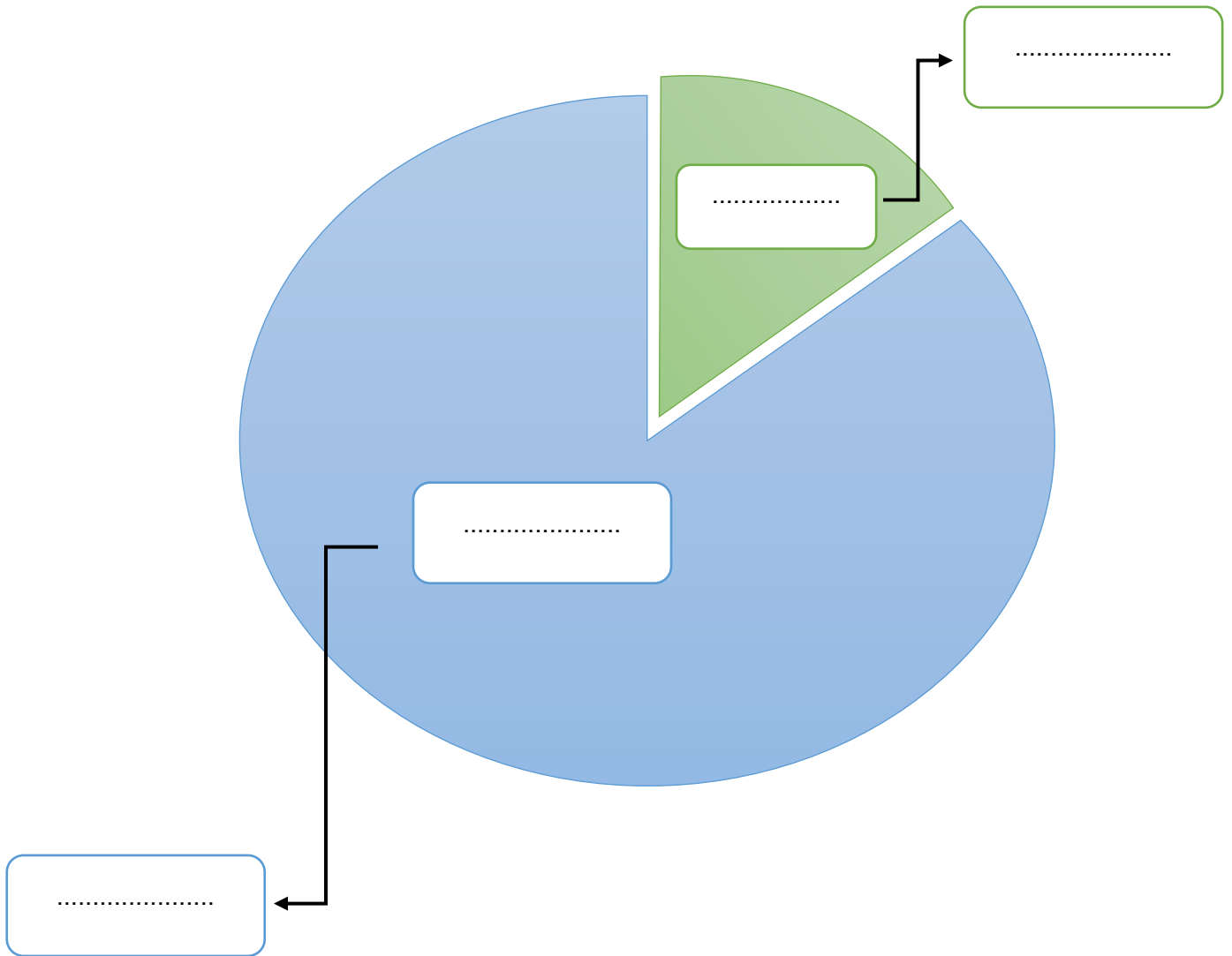
- ثالث أكبر القارات في العالم من حيث المساحة قارة أمريكا الشمالية ( )
- تتصل الخلجان بالمحيطات عبر فتحات ضيقة تسمى البحار ( )
- الماء العذب هو ماء لا يحتوي على ملح. ( )
- تمثل اليابسة حوالي 71% من مساحة الكرة الأرضية، وتوجد على شكل قارات. ( )

**السؤال الخامس: ضع القارات في مكانها المناسب يا عسل، ثم ألون كل قارة مستعيناً بلونها على خريطة العالم الصماء:**

استراليا - أمريكا الجنوبية - أمريكا الجنوبية - القارة القطبية الجنوبية - أفريقيا - آسيا - أوروبا




السؤال الخامس: أكمل المخطط بما يناسبه لتوضح نسبة اليابسة والمياه على سطح الكرة الأرضية:



## الدَّرسُ الأوَّلُ : كوكب الأرض

### أوَّلاً : أرضنا في الفضاء

ضع إشارة (√) أمام العبارة الصحيحة وإشارة (x) أمام العبارة غير الصحيحة.



- 1- ( ) لون اليابسة أخضر .
- 2- ( ) الهواء لا لون له ولا طعم ولا رائحة .
- 3- ( ) لا أحرص على نظافة كوكب الأرض .
- 4- ( ) النباتات كائنات حيّة لا تتحرك ولا تتنفس .
- 5- ( ) يعيش على كوكب الأرض كائنات حيّة .

اختر الكلمة المناسبة وضعها في الفراغ المناسب .


الحياة - الأزرق - الشمس - الماء - حيّة



- 1- الماء أَسْمَنُ \_\_\_\_\_
- 2- يُسمّى كوكب الأرض بالكوكب \_\_\_\_\_
- 3- المصنر الأساسي للضوء على الأرض هو \_\_\_\_\_ .
- 4- يتكوّن كوكب الأرض من اليابسة و \_\_\_\_\_ ويحيط به الهواء
- 5- يعيش على كوكب الأرض الإنسان والنبات والحيوان وهم كائنات \_\_\_\_\_ .

الدَّرْسُ الأوَّلُ : كوكب الأرض  
ثانياً : الحركة اليومية للأرض

ضع إشارة (√) أمام العبارة الصحيحة وإشارة (x) أمام العبارة غير الصحيحة.



- 1- ( ) للأرض قمر واحد ..
- 2- ( ) تظهر الشمس في الليل
- 3- ( ) المصدر الأساسي للضوء هو القمر .
- 4- ( ) تدور الأرض حول نفسها باستمرار ولا تتوقف .
- 5- ( ) ينتج عن حركة الأرض حول نفسها تعاقب الليل والنهار .

اختر الكلمة المناسبة وضعها في الفراغ المناسب .

النَّهَارُ - الْقَمَرُ - الْفَضَاء - اللَّيْلُ

- 1- ابدأ عند طلوع الشمس.
- 2- عمري 12 ساعة أظهر بعد غياب الشمس .
- 3- المكان الذي توجد به الأرض والشمس والقمر.
- 4- أنير السماء و يأتي معي وقت النوم والراحة .

الدَّرْسُ الأوَّلُ : كوكب الأرض  
ثالثًا : الحركة السنوية للأرض

اختر الكلمة المناسبة وضعها في الفراغ المناسب .

الصَّيْف - الخريف - الأربعة - الربيع - الغرب - الشتاء

- 1 - يَعتَدِلُ الجَوُّ وتُشرقُ الشَّمْسُ في فصل \_\_\_\_\_ .
- 2 - تتساقطُ أوراقُ الأشجارِ في فصل \_\_\_\_\_ .
- 3 - أَذهبُ إلى البَحْرِ في فصل \_\_\_\_\_ .
- 4 - تَدورُ الأرضُ حَوْلَ الشَّمْسِ مِنْ \_\_\_\_\_ إلى الشرق .
- 5 - تَغْزُرُ الأمطارُ في فصل \_\_\_\_\_ .
- 6 - يَنْتُجُ عَن حَرَكَةِ الأرضِ حَوْلَ الشَّمْسِ الفصول \_\_\_\_\_ .

اكتب اسم كل فصل من الفصول الأربعة في مكانه المناسب .






## الدَّرْسُ الثَّانِي : القَارَاتِ وَالْمَحِيطَاتِ أَوَّلًا : الْبَحَارُ وَالْمَحِيطَاتِ

اخْتَرِ الْمَصْطَلَحَ الْمُنَاسِبَ وَضَعْهُ فِي الْفَرَاغِ الْمُنَاسِبِ .

الْبَحَارُ - الْمَحِيطَاتُ - الْخَلِيجُ - الْمَضِيقُ

- 1 - مُسَطَّحٌ كَبِيرٌ جَدًّا مِنْ الْمَاءِ الْمَالِحِ  
\_\_\_\_\_
- 2 - فَتَحَاتٍ ضَيِّقَةٌ تَصِلُ الْخِلْجَانُ بِالْمَحِيطَاتِ  
\_\_\_\_\_
- 3 - مُسَطَّحٌ مَائِيٌّ تُحِيطُ بِهِ الْيَابِسَةُ مِنْ ثَلَاثِ جِهَاتٍ  
\_\_\_\_\_
- 4 - مُسَطَّحَاتٌ مَائِيَّةٌ أَصْغَرُ مِنَ الْمَحِيطَاتِ فِي الْمَسَاحَةِ وَالْعُمُقِ  
\_\_\_\_\_

ضَعْ إِشَارَةَ (√) أَمَامَ الْعِبَارَةِ الصَّحِيحَةِ وَإِشَارَةَ (x) أَمَامَ الْعِبَارَةِ غَيْرِ الصَّحِيحَةِ.



- 1 - ( ) تُغَطِّي الْمِيَاهُ الْقِسْمَ الْأَكْبَرَ مِنْ سَطْحِ الْأَرْضِ .
- 2 - ( ) تَعِيشُ الْأَسْمَاكُ فِي الْبَحَارِ وَالْمَحِيطَاتِ .
- 3 - ( ) أَكْبَرُ الْمَحِيطَاتِ مِسَاحَةً هُوَ الْمَحِيطُ الْهِنْدِيُّ .
- 4 - ( ) عَدَدُ مُحِيطَاتِ الْعَالَمِ سِتَّةُ مُحِيطَاتٍ .
- 5 - ( ) تُشْرِفُ دَوْلَةُ الْإِمَارَاتِ الْعَرَبِيَّةِ الْمُتَّحِدَةِ عَلَى الْخَلِيجِ الْعَرَبِيِّ .
- 6 - ( ) يَتَشَكَّلُ سَطْحُ الْكُرَةِ الْأَرْضِيَّةِ مِنْ مُسَطَّحَاتٍ مَائِيَّةٍ مِثْلُ الْبَحَارِ وَالْمَحِيطَاتِ وَالْأَنْهَارِ .

الدَّرسُ الثَّاني : القارات والمحيطات  
ثالثًا : نسبة اليابسة والماء

اختر المصطلح المناسب وضعه في الفراغ المناسب .

الماء العذب - النهر - الغلاف المائي - الغلاف الأرضي

- 1- ماء لا يحتوي على ملح \_\_\_\_\_
- 2- مُسطح مائي يجري فيه الماء العذب \_\_\_\_\_
- 3- الجزء الذي تغطيه المياه على سطح الأرض يُسمى . \_\_\_\_\_
- 4 - الجزء الذي تغطيه اليابسة على سطح الأرض يُسمى \_\_\_\_\_

ضع إشارة (✓) أمام العبارة الصحيحة وإشارة (x) أمام العبارة غير الصحيحة



- 1- ( ) تغطي المياه القسم الأكبر من سطح الأرض .
- 2- ( ) نسبة المياه العذبة في العالم كبيرة .
- 3- ( ) تمثل اليابسة حوالي 29% من مساحة الكرة الأرضية .