



مؤسسة الإمارات للتعليم المدرسي  
EMIRATES SCHOOLS ESTABLISHMENT



**Grade**



**الاختبار التشخيصي 2024-2025**

		Student Name / اسم الطالب
		School / المدرسة
		Class / الصف
		Subject المادة

Grade		الدرجة
	١٠٠	

	Teacher Name / اسم المعلم
	sign/ التوقيع

الاختبار التشخيصي لمادة  
الرياضيات العام الدراسي  
٢٠٢٤ - ٢٠٢٥

الاسم : ..... الصف الأول / .....

حوظ رمز الإجابة الصحيحة ..



١- ما عدد النمور ؟

A

6

B

4

C

3



٢- ما عدد حبات البرتقال في الصورة ؟

A

9



B

8

C

10

٣ - كم عدد الثمار في الصورة ؟



A

١٣


B

١٨

C

١٥

٤- أي المجموعات تحتوي على العدد الأكبر



A



B



C



5. اختر جملة الجمع العددية التي تمثل النموذج :



A

$$2 + 2 = 4$$

B

$$3 - 2 = 5$$

C

$$3 + 2 = 5$$



6- اختر جملة الطرح التي تمثل النموذج

A

$$2 - 1 = 1$$

B

$$5 - 2 = 3$$

C

$$3 + 2 = 5$$



٧ - حدد المجموعة التي لها نفس لون ؟


A



B



C



8 - أي الأشياء التالية شكلها مربع ؟

A



B



C



9 - حدد الشكل الأطول

A



B



C



10 - حوِّط صورة الحيوان الأكبر

A



B



C



11 - حدد الشكل الذي تكون فيه الكرة فوق الطاولة .

A



B



C



12 - كم الوقت على الساعة التناظرية ؟



5 : 00

9 : 00

12 : 30

١٣- أي الأشكال ثنائية الأبعاد التالية مقسمه الى نصفين متساويين؟

A



B



C



14- باب الغرفة هو شكل ؟



A

مستطيل

B

دائرة

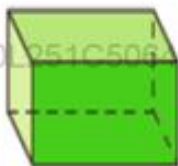
C

مثلث

15- أي من الأشكال ثلاثية الأبعاد التالية يشبه القبة ؟



A



B



C



١٦ - اكمل تسلسل الاعداد من ١ إلى ١٠

