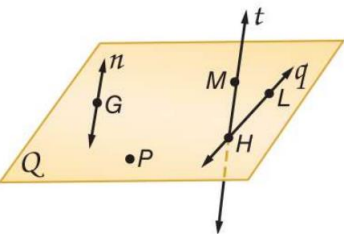


المادة: رياضيات	النشاط الكتابي الأول للفصل الدراسي الثالث	اسم المعلم: أ. مصطفى الأحمد
الصف: الثامن	للعام الدراسي 2023 - 2024	
الشعبة:	الدرجة	
اليوم: الإثنين	20	اسم الطالبة: .....
التاريخ: 20\5\2024		



السؤال الأول : في الشكل المرسوم جانباً:

1 – سم مستوي يحتوي على M و H

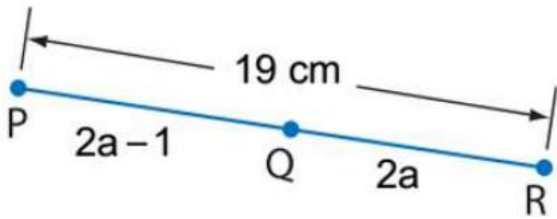
2 – مستقيم يحتوي على L

3- سم نقطة تقاطع المستقيمين t , q

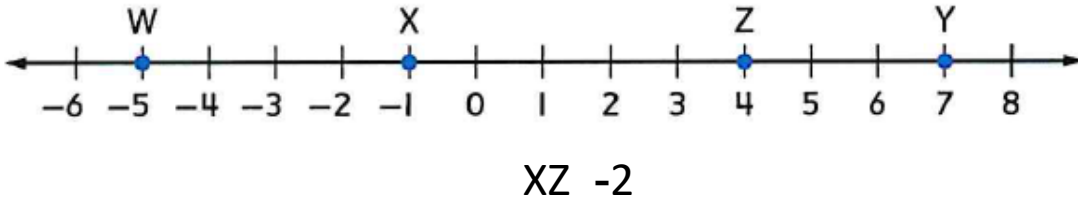
4 – سم ثلاث مستويات مختلفة في هذا الشكل

السؤال الثاني: أوجد طول PQ إذا كانت Q تقع بين P و R

و  $QR = 2a$  و  $PR = 19 \text{ cm}$



السؤال الثالث: في الشكل المرسوم جانبا أوجد:




السؤال الرابع: أوجد المسافة بين الزوج التالي من النقاط M ( 3 , -2 ) و N ( -3 , 5 )

السؤال الخامس: أوجد إحداثيي نقطة المنتصف في القطعة المستقيمة المعطاة

A ( 4 , 3 ) , B ( -6 , 5 )

السؤال السادس: ماهو طول الكائن الحي



UMM AL QURAA PRIVATE SCHOOL  
UM AL QUWAIN



مدرسة أم القرى الخاصة  
UMM AL QURAA PRIVATE SCHOOL