




صباح الخير و التميز لأبطال الإمارات





سنبدأ بعد قليل





مرحبا بكم يا أبطال الرياضيات ، يوم جديد
مليء بالنشاط والحيوية.
هل أنتم مستعدون؟ هيا لننطلق معا في درس
جديد.

اليوم:- الاثنين ، التاريخ: ٢٠٢١/٤/٢٦
المادة : رياضيات ، الأسبوع : الثاني





اليوم: الاثنين ، التاريخ: 2021 - 4 - 26 ، المادة: رياضيات .

قوانين الصف

أفتراضي



أحدث عندما يسمح لي

أبتعد عن ضجيج
من حولي

أستمع إلى المعلمة
بتركيز



أفكر وأجيب
بمفردتي
دون مساعدة أُمي

أدون ملاحظاتي

ألتزم الهدوء



اليوم: الاثنين ، التاريخ: 2021 - 4 - 26 ، المادة: رياضيات .

محطات درس اليوم :



5

التقويم الختامي

3

حل الكتاب

1


التقويم القبلي

4

استراتيجية الألعاب

2

التهيئة





اليوم: الاثنين ، التاريخ: 2021 - 4 - 26 ، المادة: رياضيات .



2:00



QUIZ

قراءة التمثيل البياني بالصور

89% average accuracy • 253 plays

1st grade • Mathematics

a year ago by laila allai

2 Save Share Copy and Edit

INSTRUCTOR-LED SESSION Start a live quiz

ASYNCHRONOUS LEARNING Assign homework

8 questions SHOW ANSWERS PREVIEW

Question 1 30 seconds

كم عدد الأشخاص الذين يفضلون الطقس الممطر؟ Q.

الاجابة	معدل الاجابة	الاجابة
مشمس		
مطر		
منا		

— answer choices

التقويم
القبلي



<https://quizizz.com/admin/quiz/5e8c672a85e04e001e78a5ad/%D9%82%D8%B1%D8%A7%D8%A1%D8%A9-%D8%A7%D9%84%D8%AA%D9%85%D8%AB%D9%8A%D9%84-%D8%A7%D9%84%D8%A8%D9%8A%D8%A7%D9%86%D9%8A-%D8%A8%D8%A7%D9%84%D8%B5%D9%88%D8%B1>



2:00



اليوم: الاثنين ، التاريخ: 2021 - 4 - 26 ، المادة: رياضيات .



<https://www.jigsawplanet.com/?rc=play&pid=23c5be7abcd4>

التهيئة



استنتج عنوان درس اليوم
من خلال النشاط التفاعلي

تعليمات

1. الذهاب للدرشة ودخول إلى الرابط.
2. حل النشاط بكل تركيز.
3. ارسال النشاط على الدردشة.
4. الالتزام بالوقت المحدد.

التحقق من تفهمي





ماذا سوف نتعلم اليوم:

أن يميز الطالب بين التمثيلات البيانية
أن يقرأ بيانات ومعلومات التمثيلات البيانية بجدول
العلامات وبالصور .



اليوم: الاثنين ، التاريخ: 26-4-2021 ، المادة: رياضيات، العنوان : التحقق من تقديمي.

سوف نتعلم: أن يقرأ الطالب معلومات تمثيل بياني بالصور، وبعلامات العد.

السؤال الأساسي :



كيف أرسم التمثيلات البيانية
و أقرأوها ؟

اليوم: الاثنين ، التاريخ: 26-4-2021 ، المادة: رياضيات، العنوان : التحقق من تقديمي.
سوف نتعلم: أن يقرأ الطالب معلومات تمثيل بياني بالصور، وبعلامات العد.

المفردات :

تمثيل بياني
بالصور



تمثيل بياني
بجدول العلامات



اليوم: الاثنين ، التاريخ: 26-4-2021 ، المادة: رياضيات، العنوان : التحقق من تقديمي.

سوف نتعلم: أن يقرأ الطالب معلومات تمثيل بياني بالصور، وبعلامات العد.

مراجعة المفردات

كتاب
الطالب

صفحة

٥٣٩



مُراجَعَةُ المِفْرَدَاتِ

أَرْسَمْ خُطُوطًا لِتَوْصِيلِ الْكَلِمَاتِ بِمَا يُطَابِقُهَا.

١. تَمَثِيلٌ بَيَانِيٌّ بِالصُّوَرِ
تَمَثِيلٌ بَيَانِيٌّ يَسْتَخْدِمُ صُورًا مُخْتَلِفَةً
فِي عَرْضِ الْبَيَانَاتِ.

٢. الْبَيَانَاتُ
تَجْمِيعُ الْبَيَانَاتِ بِطَرَحِ سُؤَالٍ
مُوَحَّدٍ.

٣. اسْتِطْلَاعُ رَأْيٍ
أَعْدَادٌ أَوْ صُورٌ تُجْمَعُ لِعَرْضِ
الْمَعْلُومَاتِ.

٤. جَدْوَلُ الْعَلَامَاتِ
جَدْوَلٌ يَعْرِضُ عِلَامَةً لِكُلِّ صَوْتٍ
فِي اسْتِطْلَاعِ الرَّأْيِ.

اليوم: الاثنين ، التاريخ: 26-4-2021 ، المادة: رياضيات، العنوان : التحقق من تقديمي.

سوف نتعلم: أن يقرأ الطالب معلومات تمثيل بياني بالصور، وبعلامات العد.

تقييم بنائي

مراجعة المفاهيم

المعلم الصغير

كتاب
الطالب

صفحة

2:00



مُراجَعَةُ المَفَاهِيمِ

اُكْتُبِ الإِجْمَالِيَّ، وَاسْتَخْدِمِ جَدْوَلَ العَلَامَاتِ
فِي الإِجَابَةِ عَنِ السُّؤَالِ.

5. ما الرِّيَاضَةُ الَّتِي حَصَلَتْ عَلَى أَصَوَاتٍ

أَكْثَرَ مِنْ كُرَةِ السَّلَةِ؟

كرة القدم

الرياضة المفضلة		
الرياضة	علامات الاحصاء	الإجمالي
 كرة القدم		٨
 كرة السلة		٥
 كرة التنس		٣

اليوم: الاثنين ، التاريخ: 26-4-2021 ، المادة: رياضيات، العنوان : التحقق من تقديمي.

سوف نتعلم: أن يقرأ الطالب معلومات تمثيل بياني بالصور، وبعلامات العد.



طَلَبْتُ سَهِيَّةً مِنْ أَسْدِقَائِهَا تُحْدِثُ لُونَهُمُ الْهَفْضُ.

أعتمد على

نفسي

تقييم ذاتي

كتاب الطالب
صفحة

اللون المفضل		
اللون	علامات الاحصاء	الإجمالي
أخضر		٤
أزرق		٥
أحمر		٢

6. أكتب الإجمالي في جدول العلامات.

7. استخدم جدول العلامات في إكمال التمثيل البياني بالصور.

8. هل من اختاروا اللون الأزرق أكثر أم من اختاروا الأخضر؟

الازرق

٢

9. كم شخصاً اختار الأحمر؟

10. هل من اختاروا اللون الأزرق أكثر أم من اختاروا الأحمر؟

الازرق

11. كم يزيد عدد من اختاروا اللون الأخضر عن من اختاروا الأحمر؟

$$4 - 2 = 2$$

12. كم شخصاً شارك في استطلاع الرأي؟

١١

اللون المفضل					
أخضر	●	●	●	●	
أزرق	●	●	●	●	●
أحمر	●	●			

أنا ذكي

و أحل بمفردي
دون مساعدة أمي



اليوم: الاثنين ، التاريخ: 26-4-2021 ، المادة: رياضيات، العنوان : التحقق من تقديمي.

سوف نتعلم: أن يقرأ الطالب معلومات تمثيل بياني بالصور، وبعلامات العد.

تقييم بنائي



داخل محل الألعاب
بنك الأسئلة



اليوم: الاثنين ، التاريخ: 26-4-2021 ، المادة: رياضيات، العنوان : التحقق من تقديم.

سوف نتعلم: أن يقرأ الطالب معلومات تمثيل بياني بالصور، وبعلامات العد.

عدد التلاميذ الذين يفضلون كرة القدم

الرِّبَاصَاتُ الَّتِي نَلْعِبُهَا									
									كُرَةُ الْقَدَمِ 
									كُرَةُ السَّلَةِ 
									الْكُرَةُ الطَّائِرَةُ 
									تَنْمُسُ الطَّاوِلَةِ 

٣





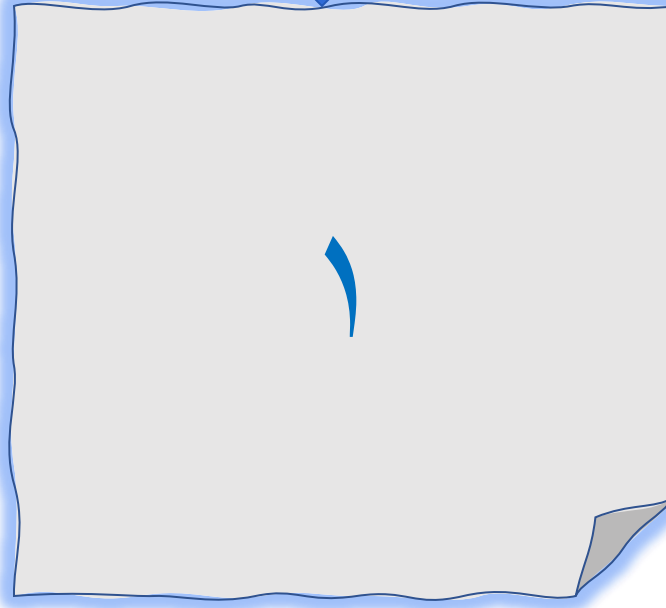
اليوم: الاثنين ، التاريخ: 26-4-2021 ، المادة: رياضيات، العنوان : التحقق من تقديمي.

سوف نتعلم: أن يقرأ الطالب معلومات تمثيل بياني بالصور، وبعلامات العد.

بكم يزيد عدد التلاميذ الذين يفضلون كرة السلة
عن كرة القدم



الرَّيَاضَاتُ الَّتِي نَلْعَبُهَا									
									كُرَةُ الْقَدَمِ 
									كُرَةُ السَّلَةِ 
									الْكُرَةُ الطَّاوِلَةُ 
									تِنِيسُ الطَّاوِلَةِ 





اليوم: الاثنين ، التاريخ: 26-4-2021 ، المادة: رياضيات، العنوان : التحقق من تقديمي.

سوف نتعلم: أن يقرأ الطالب معلومات تمثيل بياني بالصور، وبعلامات العد.

أي من الأنشطة الرياضية مفضلة أكثر

الرياضة المفضلة		
كرة القدم	111	
القفز بالحبل	11	
ركوب الدراجة		

كرة القدم



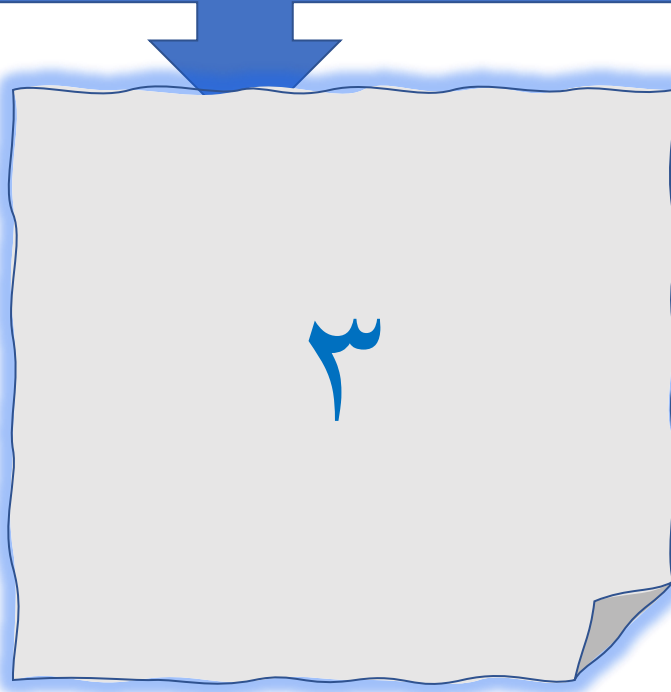


اليوم: الاثنين ، التاريخ: 26-4-2021 ، المادة: رياضيات، العنوان : التحقق من تقديمي.

سوف نتعلم: أن يقرأ الطالب معلومات تمثيل بياني بالصور، وبعلامات العد.

بكم يقل عدد الذين يفضلون القفز بالحبل عن ركوب الدراجة ؟

الرياضة المفضلة		
كرة القدم	1111	
القفز بالحبل	11	
ركوب الدراجة		



اليوم: الاثنين ، التاريخ: 26-4-2021 ، المادة: رياضيات، العنوان : التحقق من تقديمي.

سوف نتعلم: أن يقرأ الطالب معلومات تمثيل بياني بالصور، وبعلامات العد.

ماذا نوع التمثيل البياني الذي أمامنا ؟

حيواناتنا الأليفة

	طيور
	قطط
	أسماك

التمثيل البياني
بالصور





اليوم: الاثنين ، التاريخ: 26-4-2021 ، المادة: رياضيات، العنوان : التحقق من تقديمي.

سوف نتعلم: أن يقرأ الطالب معلومات تمثيل بياني بالصور، وبعلامات العد.

أي من الحيوانات الأليفة أقل تفضيلاً

حيواناتنا الأليفة

	طيور
	قطط
	أسماك

الأسماء





اليوم: الاثنين ، التاريخ: 26-4-2021 ، المادة: رياضيات، العنوان : التحقق من تقديمي.

سوف نتعلم: أن يقرأ الطالب معلومات تمثيل بياني بالصور، وبعلامات العد.

كم شخصاً اختار القطط

حيواناتنا الأليفة

	طيور
	قطط
	أسماك

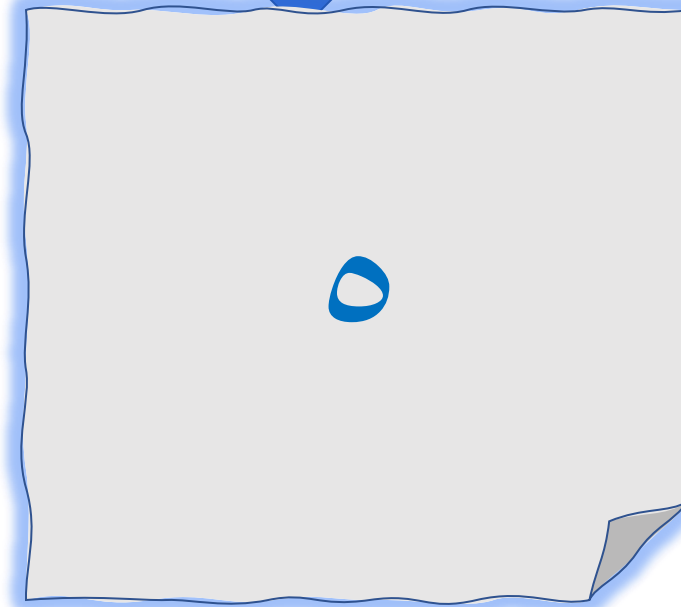
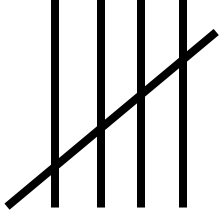
٤



اليوم: الاثنين ، التاريخ: 26-4-2021 ، المادة: رياضيات، العنوان : التحقق من تقديمي.

سوف نتعلم: أن يقرأ الطالب معلومات تمثيل بياني بالصور، وبعلامات العد.

كم العدد



اليوم: الاثنين ، التاريخ: 26-4-2021 ، المادة: رياضيات، العنوان : التحقق من تقديمي.

سوف نتعلم: أن يقرأ الطالب معلومات تمثيل بياني بالصور، وبعلامات العد.

كم شخصاً اختار الطقس الممطر

الطقس المفضل		
الطقس	علامات الاحصاء	الإجمالي
 مشمس		
 ممطر		
 غائم		





اليوم: الاثنين ، التاريخ: 26-4-2021 ، المادة: رياضيات، العنوان : التحقق من تقديمي.
سوف نتعلم: أن يقرأ الطالب معلومات تمثيل بياني بالصور، وبعلامات العد.

ماذا نسمي الجدول الذي أمامنا ؟

الطقس المفضل		
الطقس	علامات الاحصاء	الإجمالي
 مشمس		
 مطر		
 غائم		

جدول
العلامات



اليوم: الاثنين ، التاريخ: 26-4-2021 ، المادة: رياضيات، العنوان : التحقق من تقديمي.

سوف نتعلم: أن يقرأ الطالب معلومات تمثيل بياني بالصور، وبعلامات العد.

هناك ٩ أشخاص اختاروا الرياضة المفضلة. فكم شخص اختار السباحة

الرياضة المفضلة	
    	
	
	



اليوم: الاثنين ، التاريخ: 26-4-2021 ، المادة: رياضيات، العنوان : التحقق من تقديمي.

سوف نتعلم: أن يقرأ الطالب معلومات تمثيل بياني بالصور، وبعلامات العد.

أي من الرياضات مفضلة أكثر

الرياضة المفضلة	

كرة القدم





اليوم: الاثنين ، التاريخ: 26-4-2021 ، المادة: رياضيات، العنوان : التحقق من تقديمي.
سوف نتعلم: أن يقرأ الطالب معلومات تمثيل بياني بالصور، وبعلاجات العد.

لك وسام



اليوم: الاثنين ، التاريخ: 26-4-2021 ، المادة: رياضيات، العنوان : التحقق من تقديمي.

سوف نتعلم: أن يقرأ الطالب معلومات تمثيل بياني بالصور، وبعلامات العد.

حاول مرة أخرى





اليوم: الاثنين ، التاريخ: 26-4-2021 ، المادة: رياضيات، العنوان : التحقق من تقديمي.

سوف نتعلم: أن يقرأ الطالب معلومات تمثيل بياني بالصور، وبعلاجات العد.

هيا نمرح في
منصة

matific



04:59



يوجد 11 حيوانات في الغابة. اعر عليهم جميعاً.

<https://www.matific.com/aue/ar-ae/home/episode/JungleSurvey4Types>

اليوم: الاثنين ، التاريخ: 26-4-2021 ، المادة: رياضيات، العنوان : التحقق من تقديم.

سوف نتعلم: أن يقرأ الطالب معلومات تمثيل بياني بالصور، وبعلامات العد.

أن يميز الطالب بين التمثيلات البيانية
أن يقرأ بيانات ومعلومات التمثيلات البيانية
بجدول العلامات وبالصور .

إذا
ماذا تعلمت
اليوم؟















اليوم: الاثنين ، التاريخ: 26-4-2021 ، المادة: رياضيات، العنوان : التحقق من تقديمي.

سوف نتعلم: أن يقرأ الطالب معلومات تمثيل بياني بالصور، وبعلامات العد.

التقويم الختامي


تحدي الدردشة

استخدم التمثيل البياني في الإجابة عن الأسئلة التالية:

العصير المفضل لدى طلبة الصف الأول						
عصير البرتقال						
عصير الفراولة						
عصير الموز						

ما العصير الذي حصل على

أكبر عدد من الأصوات؟



تعليمات

١. حل السؤال بكل تركيز.
٢. ارسال الإجابة على الدردشة.
٤. الالتزام بالوقت المحدد.



بطاقة خروج



اليوم: الاثنين ، التاريخ: 26-4-2021 ، المادة: رياضيات، العنوان : التحقق من تقديمي.

سوف نتعلم: أن يقرأ الطالب معلومات تمثيل بياني بالصور، وبعلامات العد.




إلى اللقاء يا صغاري ونلتقي غدا بإذن الله

لا

احتاج إلى تدريب أكثر

نعم



أقيم نفسي
هل فهمت درس اليوم ؟