



مدارس المنارة الخاصة  
AL MANARA PRIVATE SCHOOLS

AL MANARA PRIVATE SCHOOLS

3  
صف

# مراجعة الدراسات الاجتماعية والأخلاقية مدرسة المنارة فرع محمد بن زايد

## 2023



### الدروس التي تتضمنها المراجعة

• سباق التكنولوجيا / عادات الشعوب

• القارات والمحيطات

• رحلة صناعية

### الفصل

### الدراسي

### الثاني

### الامتحان الختامي

إعداد: أ/ وليد عبداللطيف

نائب المدير الأكاديمي



## 2 الإنترنت

شبكة اتصالات عالمية تسمح بتبادل المعلومات.  
أصبحت الإنترنت حاجة أساسية في كل بيت.



## 1 التكنولوجيا

الاستخدام الأمثل للمعرفة العلمية، وتطبيقاتها،  
وتطويعها لخدمة الإنسان.  
الساعة الذكية إحدى اختراعات التكنولوجيا الحديثة.



## 4 التطبيقات الذكية

هي البرامج التي توجد في الهواتف المحمولة  
وأجهزة الحاسوب.  
في هاتفي المحمول الكثير من التطبيقات المفيدة.



## 3 الأقمار الصناعية

أجهزة تُطلق إلى الفضاء، تقوم بمهام كثيرة مثل  
الاتصالات وجمع المعلومات.  
(خليفة سات) أول قمر صناعي إماراتي.



## 2 الفولكلور

مجموعة الفنون القديمة من أغاني شعبية ورقصات  
وقصص شعبية، حيثن عادات وتقاليد محتسب ما.  
فن الغنائية من الفولكلور الإماراتي.



## 1 الثقافة

كل ما يتعلق الإنسان من علوم وتعاريف وقنون  
وأداب.  
القراءة طريق نحو الثقافة.



## 4 الأجيال

مقررها الجيل، وتغني أبناء الزمان الواحد. ويُطلق  
الجيل على كل مجموعة من البشر تتعايش مدة  
ثلاث وثلاثين سنة.  
كان حدي من جيل الشبيبات.



## 3 السلوكات

مقررها السلوك، وهي سيرة الإنسان وتصرفه  
وآخاؤه.  
نحرص أي على تقليد السلوكات الحسنة.





**• التدريب الأول . اقرأ الفقرة الآتية ثم اختر الاجابة الصحيحة من بين البدائل .**

(وهكذا تكون للتكنولوجيا فوائد عظيمة ، منها أنها سهلت حياة البشر ، واختصرت بينهم المسافات ووفرت لهم وسائل التواصل السريع رغم اختلاف أماكنهم ومكنتهم من العيش براحة ورفاهية وساعدتهم في إنجاز الكثير من الأعمال في وقت وجهد أقل )

1/ الاستخدام الأمثل للمعرفة العلمية وتطبيقاتها وتطويرها لخدمة الإنسان .  
أ/ التكنولوجيا ب/ الثقافة ت / الإنترنت ث/ الأقمار الصناعية

2/ هي البرامج التي توجد في الهواتف المحمولة وأجهزة الحاسوب .  
أ/ العادات ب/ التقاليد ت / الفولكلور ث/ التطبيقات الذكية

3/ أجهزة تطلق إلى الفضاء لجمع المعلومات .  
أ الحواسيب ب/ الهواتف ت/ الأقمار الصناعية ث/ الأجراس

4/ شبكة اتصالات عالمية تسمح بتبادل المعلومات في أي مكان في العالم .  
أ/ الإنترنت ب/ التطبيقات الذكية ت/ التكنولوجيا ث/ الوزارة

5/ اهتمت دولة الإمارات بالتكنولوجيا لذلك تحتضن دبي كل عام معرض .  
أ/ تورنتو ب/ تيانجين ت / جيتكس ث/ دنفر

6/ ما المعنى المقصود من العبارة الآتية ( اختراع الكهرباء غير وجه العالم )  
أ/ الكهرباء أفادت جميع سكان العالم ب/ الكهرباء أثرت على مجالات الحياة كافة  
ت/ الكهرباء أضاءت كل بيوت العالم ث/ الكهرباء ذات تكلفة عالية

7/ تعتبر من أمثلة التكنولوجيا في العصر الحديث .  
أ/ السيارات الكهربائية ب/ الساقية ت/ القارب ث/ شبكة الصيد

• التدريب الثاني . اقرأ الفقرة الآتية ثم اختر الإجابة الصحيحة من بين البدائل .

( تتشابه معظم الدول العربية والإسلامية بعادات استقبالها لشهر رمضان الكريم فتزين البيوت والشوارع بالزينة والأنوار والفوانيس ويلتقي الجميع في صلاة التراويح وتعد موائد الإفطار الجماعي في الخيام أو في طرقات المدينة ليتمكن الفقراء والمساكين من الإفطار وتعج الموائد بأنصاف الطعام والشراب ، وكذلك يتشابه الاحتفال بعيد الفطر والأضحى )

1/ تتحدث الفرة السابقة عن بعض عادات الشعوب في .....

أ/ المناسبات      ب/ المأكّل      ت/ التحية      ث / الملبس

2/ تحتفل بلاد الشام في رمضان وتهتم بمشروب .....

أ/ الأبري      ب/ الزلابية      ت / عرق السوس      ث/ جلاب جامون

3/ يعتبر السوشي من أشهر أطباق الطعام في .....

أ/ الهند      ب/ مصر      ت/ لبنان      ث/ اليابان

4/ يقوم أفراد المجتمع الإماراتي بتحية بعضهم البعض عن طريق .....

أ/ المخاشمة      ب/ المصافحة باليد      ت / هز الرأس      ث/ الانحناء

5/ يُعد ارتداء القفطان رمزا للتمسك بالتراث الشعبي .....

أ/ الياباني      ب/ الخليجي      ت/ المغربي      ث/ الباكستاني

6/ يعتز اليابانيون بأزيائهم التراثية ويتمسكون بلبس .....

أ/ الساري الهندي      ب/ القفطان      ت/ الجلاب      ث/ الكيمونو

7/ هو مجموعة الفنون القديمة من أغاني شعبية ورقصات وقصص شعبية .....

أ/ الفولكلور      ب/ الثقافة      ت/ السلوكات      ث/ الأجيال

8/ يعتبر فن ..... من الفولكلور الإماراتي ويظهر ذلك في المناسبات الاجتماعية .

أ/ الدبكة      ب/ المهرجانات      ت/ العيالة      ث/ المسرحي

9/ السبب الأهم في اختلاف العادات بين الشعوب هو .....  
أ/ اختلاف اللغات ب/ اختلاف الملابس ت/ اختلاف الطعام ث/ اختلاف اللغات

10/ المعنى المقصود بعبارة ( اختلاف عادات الشعوب يُغني الثقافات ) هو .....  
أ/ يزيد من تنوع الثقافة ب/ يفرح شعوب العالم ت/ يزيد من ثروة الشعوب ث/ أنها محدودة

**النشاط الأول : صل بين العبارة و الكلمة المناسبة لها ...**



السلوكات الحسنة



الفولكلور الإماراتي



طريقي نحو الثقافة

**النشاط الأول : صل بين الصورة و المصطلح المناسب لها .....**



سوشي



الفولكلور  
الإماراتي



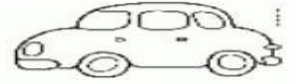
رقصة التتين

## أولاً: اختر الإجابة الصحيحة: 6

1- من الاختراعات :






2- من الاختراعات في مجال التواصل اختراع :



3- ساهمت التكنولوجيا في مجال في مجال



## ثانياً: صل بين الكلمة وما يناسبها من الصورة: 6



## ثالثاً: حوّل الصورة التي تعبر عن المواد الخام: 3





• التدريب الثالث . اقرأ الفقرة التالية ثم اختر الإجابة الصحيحة .

( هي أصغر قارة في العالم وتقع في الجزء الجنوبي من الأرض وتحيط بها المياه من كل جانب وأكثر من ثلثي أراضيها عبارة عن صحراء وهي موطن حيوان الكنغر والكوالا . أما المحيطات فعددها خمسة أكبرها مساحة المحيط الهادي يليه المحيط الاطلسي ( الأطلسي ) ويأتي المحيط الهندي في المرتبة الثالثة ثم المحيط الجنوبي وأخيراً المحيط المتجمد الشمالي وتشكل المحيطات 70% من مساحة كوكب الأرض )

1/ تتحدث الفقرة السابقة عن قارة

أ/ آسيا      ب/ إفريقيا      ت / أوروبا      ث/ أستراليا

2/ تقع أطول سلسلة جبال في العالم في قارة أمريكا الجنوبية وتعرف باسم جبال

أ / الأنديز      ب/ الطور      ت / الألب      ث/ ظفار

3/ هي القارة الوحيدة التي لا يوجد بها صحراء وتُعد مدينتا باريس ولندن من أكثر المدن ازدحاماً

أ/ إفريقيا      ب/ أمريكا الشمالية      ت / أوروبا      ث/ أنتاركتيكا

4/ قارة تقع في نصف الكرة الشمالي وبها ثلاث دول فقط وبها أكبر بحيرة مياه عذبة تسمى (سوبرير) هي

أ/ أمريكا الشمالية      ب/ أمريكا الجنوبية      ت / آسيا      ث / إفريقيا

5/ هي أكبر القارات مساحة وتشكل 30% من مساحة اليابسة على الأرض ويعيش فيها أكثر من نص سكان العالم

أ/ إفريقيا      ب/ أمريكا الشمالية      ت/ أمريكا الشمالية      ث/ آسيا

6/ من خلال دراستك لرحلة الصناعة ما المرحلة الصناعية التي تنمو بسرعة كبيرة

أ/ المرحلة الأولى      ب/ المرحلة الثانية      ت/ المرحلة الثالثة      ث / المرحلة الرابعة

7/ في هذه المرحلة يتم تحويل المنتجات الطبيعية التي جمعت في المرحلة الاولى إلى منتجات مُصنعة

أ/ مرحلة المعالجة والتصنيع      ب/ مرحلة الجمع      ت/ مرحلة تقديم الخدمات      ث/ مرحلة التطور والتكنولوجيا

8/ ما المادة الخام التي تُجمع من باطن الأرض من المواد التالية

أ/ الأسماك      ب/ الاخشاب      ت / الأقمشة      ث/النفط

## \*أمامك خريطة لدولة الإمارات العربية المتحدة وضع ما يلي

- 1 - ارسم مدار السرطان على خريطة دولة الإمارات .
- 2- لون الخليج العربي وبحر عمان على الخريطة باللون الأزرق .



### قارن بين فصلي الشتاء والصيف في الجدول الآتي :

الصيف	الشتاء	أوجه المقارنة الأشهر التي يمتد فيها
.....	.....	درجة الحرارة
.....	.....	كمية الأمطار

مدار المنارة الحاصيه

### أكمل ما يلي بالكلمة المناسبة مما بين الأقواس :

مصباح دبي - شرطي دبي الآلي - الإنترنت



--	--	--



ضع دائرة حول الصورة التي تحمل المعنى:

1- فصل الصيف



2- فصل الشتاء



3- فصل الخريف



## أكمل العبارات بأحد المفاهيم والكلمات المساعدة الآتية :

( الصيف - الشتاء - المزارع - السائق - الصياد )

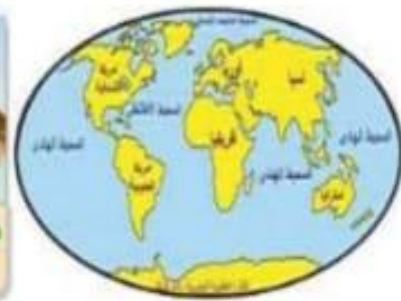
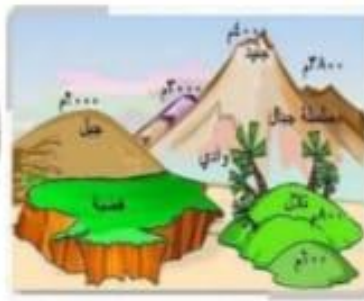
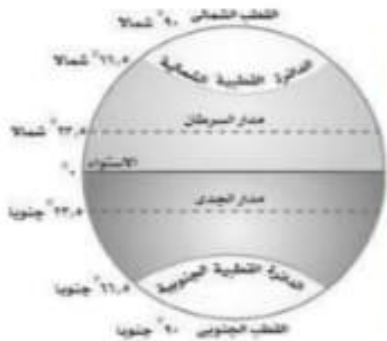
- 1- تسقط الأمطار في دولة الإمارات في فصل .....
- 2- ترتفع الرطوبة في دولة الإمارات في فصل .....
- 3- يستفيد ..... من الطقس معرفة زراعة المحاصيل وريها .
- 4- يستفيد ..... من معرفة الطقس تجنب مخاطر الضباب والأمطار.
- 5- يستفيد ..... من معرفة الطقس تجنب مخاطر الرياح والموج العالي.

## أربط بين الصورة والكلمة المناسبة فيما يتعلق بالعوامل المؤثرة في المناخ

التضاريس

توزيع اليابس والماء

دوائر العرض



الفرع	الإجابة
التدريب الأول	
1	أ
2	ث
3	ت
4	أ
5	ت
6	ب
7	أ
التدريب الثاني	
1	أ
2	ث
3	ث
4	أ
5	ث
6	ث
7	أ
8	ث
9	ث
10	أ

مدارس المنارة الخاصة

AL MANARA PRIVATE SCHOOLS



التدريب الثالث	الإجابة
1	ث
2	أ
3	ت
4	أ
5	ث
6	ث
7	أ
8	ث

مدارس المنارة الخاصة  
AL MANARA PRIVATE SCHOOLS