


أنظمة المتباينات اليوم .....حل نظام المعادلات باستخدام التمثيل البياني


$$y \leq 3, \quad x + y \geq 1$$

الحل :

حل نظام المعادلات باستخدام التمثيل البياني

$$2x + y \geq 2, \quad 2x + y < 4$$


الحل



حل نظام المعادلات باستخدام التمثيل البياني

$$y \geq -4, \quad 3x + y \leq 2$$

الحل



حل نظام المعادلات باستخدام التمثيل البياني

$$x + y > 2 \quad . \quad -4x + 2y < 8$$

الحل

