

السؤال الاول : صل بين الكلمة والصورة المناسبة





- الفصل الذي تتفتح فيه الازهار

- الفصل الذي يكون فيه الطقس حارا

- الفصل الذي يكون نهاره قصيرا وتسقط الامطار
والثلوج

- الفصل الذي تخزن فيه الحيوانات الغذاء

السؤال الثاني : ضع دائرة حول ما تراه ليلا



السؤال الثالث : في اي صورة تعتقد أن الجو أكثر دفئا ؟ ولماذا ؟



2



1

رقم 1 : أي إجابة معقولة تكون صحيحة (يجب فيه الطالب حسب فهمه)


السؤال الرابع : رتب الفصول الاربعة ترتيبا صحيحا بداية من فصل الربيع :




4



1



3



2

السؤال الخامس : ضع علامة (v) او (x) :

1- في فصل الربيع يرتدي الناس الملابس السميكة / الثقيلة (x)

2- في فصل الصيف تكون السماء غائمة (x)

3- نستخدم التلسكوب في مراقبة النجوم البعيدة في السماء (v)

4- في فصل الشتاء يصبح النهار طويل (x)

5- أحيانا يمكنك رؤية القمر في النهار (v)

6- عندما تغرب الشمس يكون الجو حارا (x)

السؤال السادس : صل بين كل صورة واسم الفصل المناسب:



الربيع	الشتاء	الخريف	الصيف
--------	--------	--------	-------