

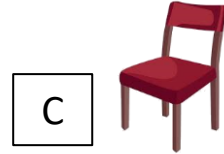

**الاختبار التكويني الأول في مادة العلوم**  
**للفصل الأول الدراسي الأول**  
**2023 – 2024 م**

20


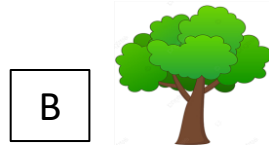

اسم الطالب/ة ..... الصف الأول .....

**السؤال الأول : حوّل الإجابة الصحيحة ..**

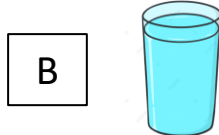
1- الكائن الحي ..





2- الشيء الغير حي ..





3- الكائنات الحية تحتاج ..... كي تنمو وتكبر




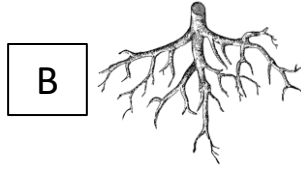

4- نبات لا يحتاج الى ماء كثير كي يعيش



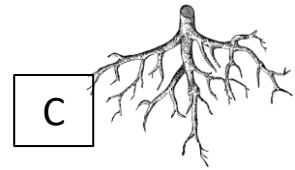
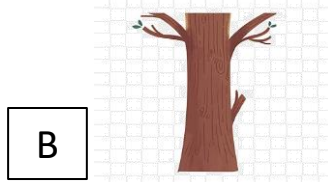
5- نبات يحتاج الى الكثير من ضوء الشمس



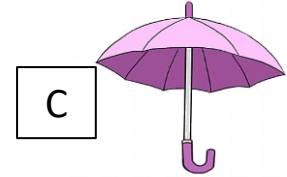


6- جزء من النبات يثبت النبات ويمتص الماء



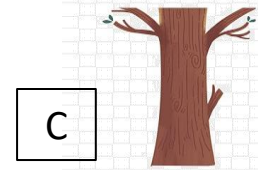
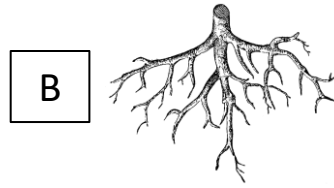
7- جزء من النبات يصنع الغذاء



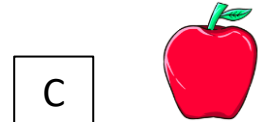


8- تحتاج الورقة الماء و ..... لتصنع الغذاء




9- حدد صورة الجذع ...



10 - نبات نأكل جذوره ..



السؤال الثاني : صل بين الصورة والكلمة ..



ساق

جذور

جذع

بذور

أوراق