



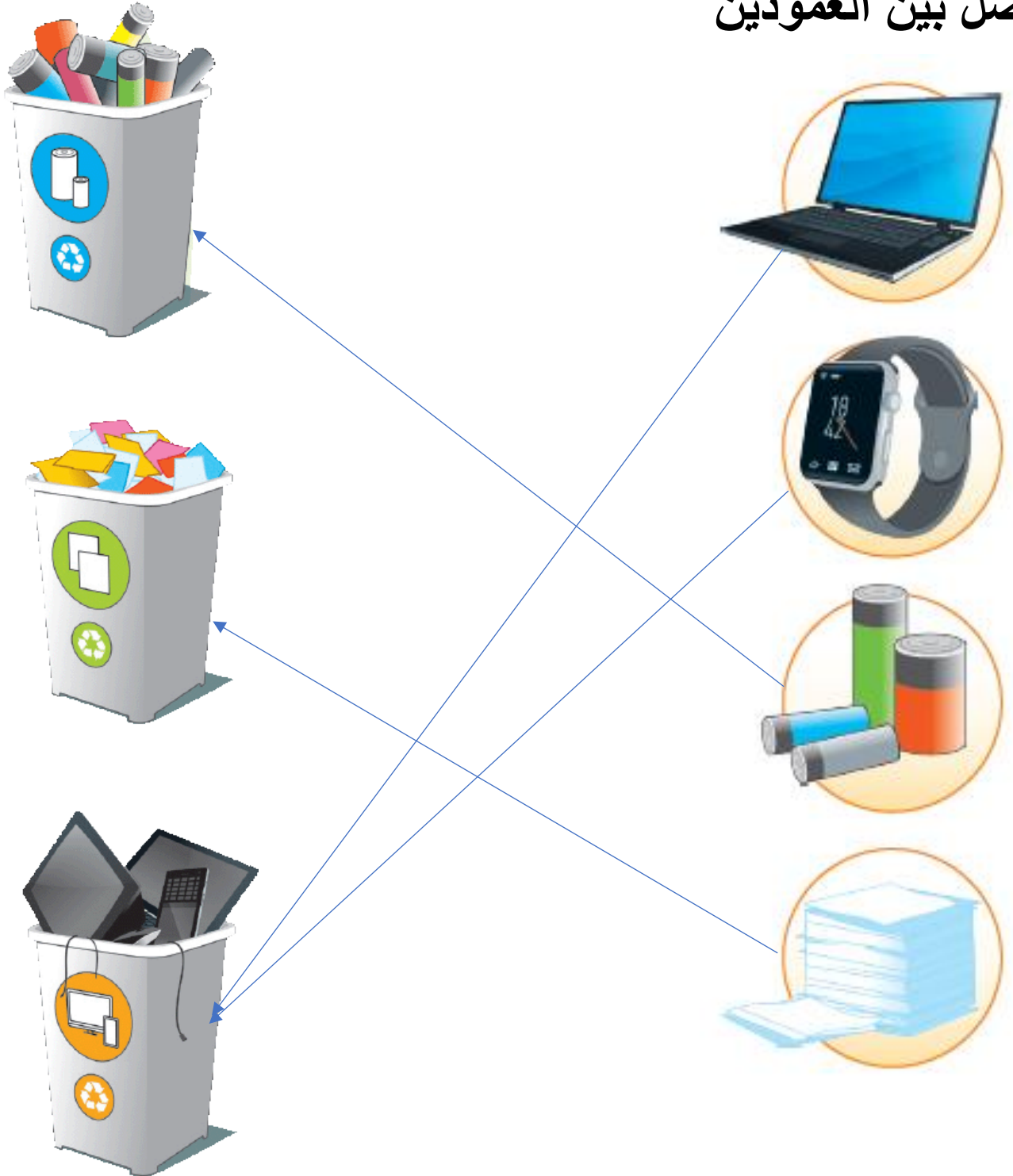
مراجعة مادة الحوسبة وتكنولوجيا المعلومات

للفصل الثاني – الجانب النظري

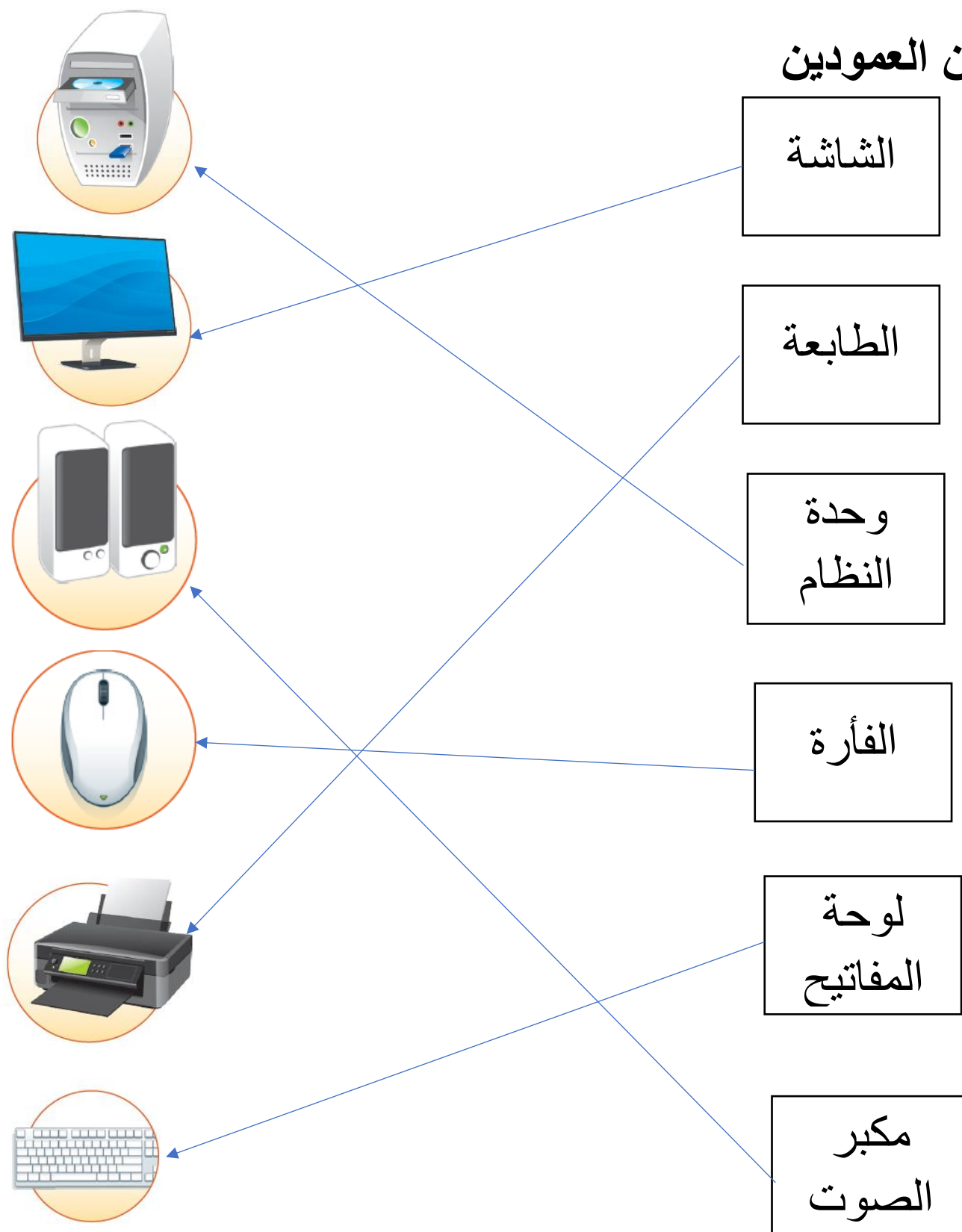
تذكري طالبتي مع أوراق المراجعة الاطلاع على كتاب

الطالب وكتاب التدريبات والأنشطة

صل بين العمودين



صل بين العمودين



صل بين العمودين

الماسح
الضوئي

سماعة
الأذن

الميكرفون

الكاميرا
الرقمية

كاميرات
الويب



صل بين العمودين

المكونات الموجودة في وحدة النظام



صل بين العمودين



1

2 الاستماع إلى الملفات الصوتية.

2



2

1 تحريك المؤشر.

1



3

4 طباعة الصور والصفحات.

4



4

3 إدخال المستندات إلى الحاسوب.

3




5

5 مشاهدة الأصدقاء عبر الإنترنت.

5

اختاري الإجابة الصحيحة

كتابة أرقام وحروف



إدخال صورة للحاسوب

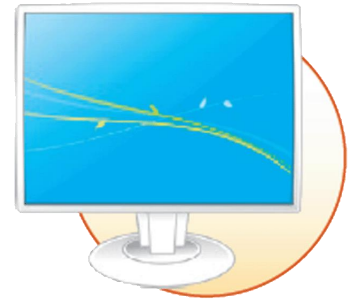
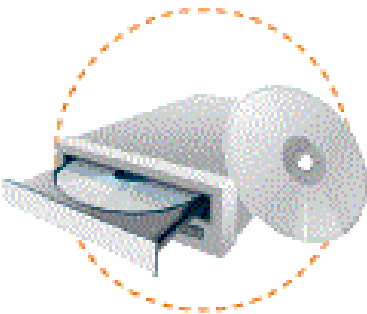


اختاري الإجابة الصحيحة

الاستماع إلى الملفات الصوتية

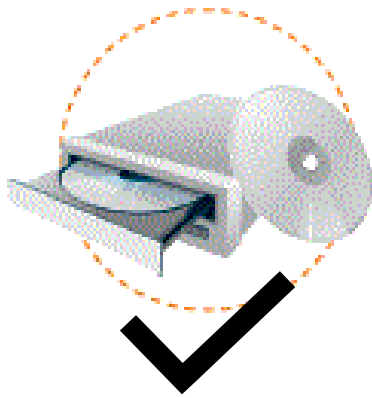


طباعة صفحة


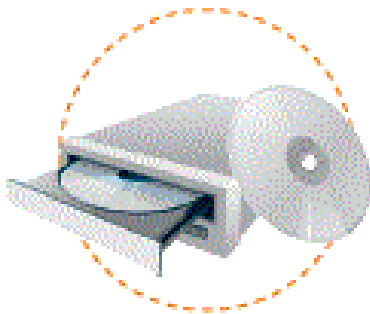


اختاري الإجابة الصحيحة

حفظ صورة



عرض صورة من برنامج الرسام



اختاري الإجابة الصحيحة

طباعة ورقة



تسجيل ملف صوتي



اختاري الإجابة الصحيحة

هذه هي الطريقة الصحيحة للجلوس.



هذه هي الطريقة الصحيحة لاستخدام الاجهزة الذكية.



اختاري الإجابة الصحيحة

لا تسحب أساك الكهرباء بهذه الطريقة



تجنب لمس الحاسوب بأيدي مبتلة



اختاري الإجابة الصحيحة

حافظ على نظافة مكتبك



عدم الضغط على مفاتيح لوحة المفاتيح بقوة



اختاري الإجابة الصحيحة

عدم إحضار الطعام إلى معمل الحاسوب.




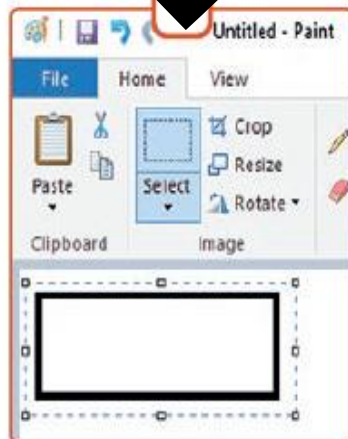
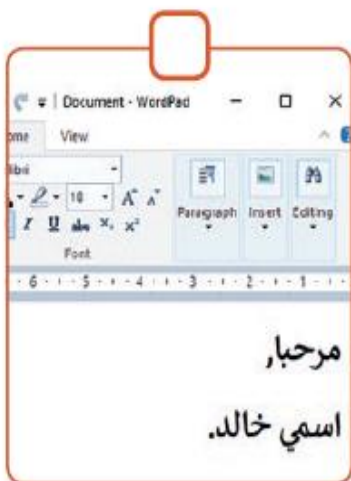
عدم إحضار الشراب إلى معمل الحاسوب.




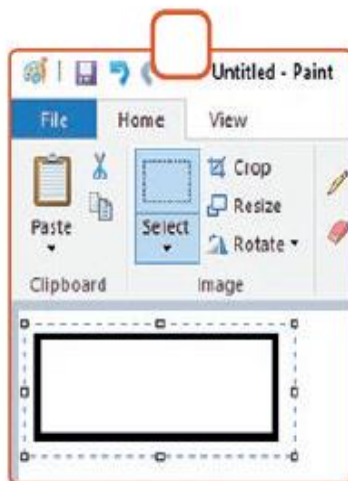
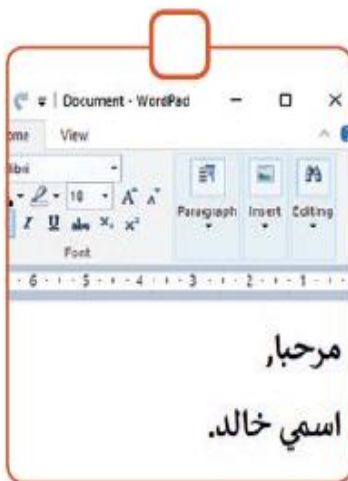
اختاري الإجابة الصحيحة

I

متى يظهر هذا المؤشر




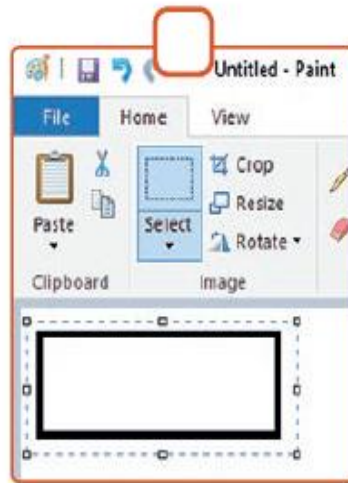
متى يظهر هذا المؤشر





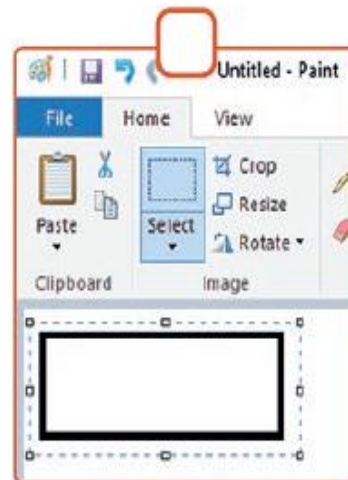
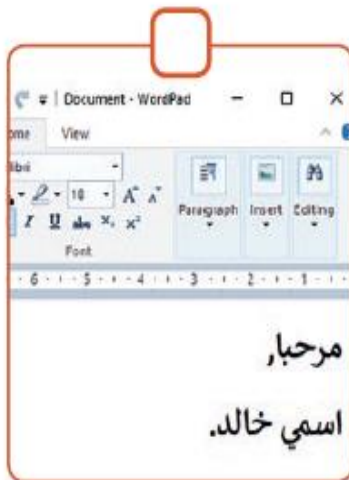
اختاري الإجابة الصحيحة



متى يظهر هذا المؤشر




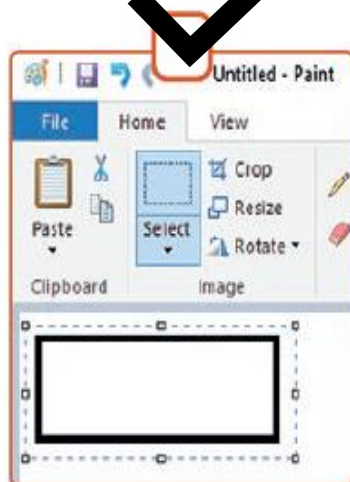
متى يظهر هذا المؤشر



اختاري الإجابة الصحيحة



متى يظهر هذا المؤشر



اكتب الرقم المناسب لبطاقات أسماء الأجهزة المذكورة أدناه في المكان المناسب لتسمية صور الأجهزة الآتية:



3



1



6



2



4



5

الشاشة

1

الطابعة

2

وحدة
النظام

3

الفأرة

4

لوحة
المفاتيح

5

مكبر
الصوت

6

اكتب الرقم المناسب لبطاقات أسماء الأجهزة المذكورة أدناه في المكان المناسب لتسمية صور الأجهزة الآتية:



2



4



3



1



5

الماسح
الضوئي

1

سماعة
الأذن

2

الميكرفون

3

الكاميرا
الرقمية

4

كاميرات
الويب

5

صنفي:



5



4



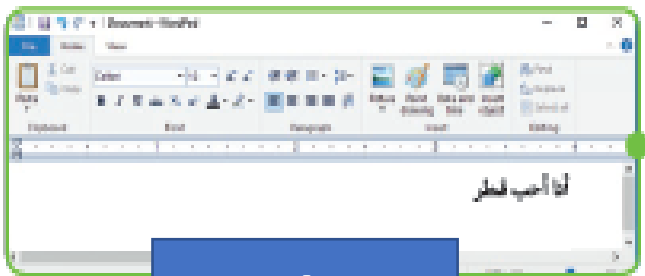
3



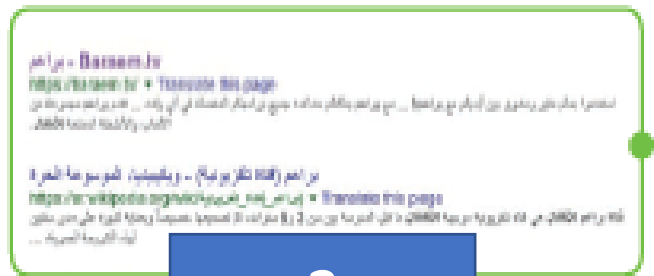
2



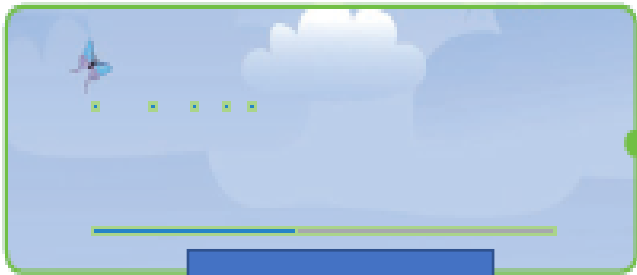
1



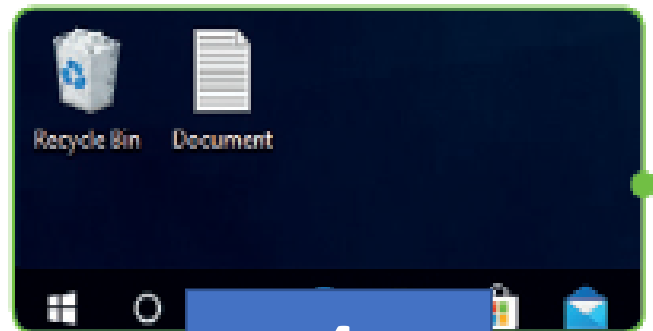
1



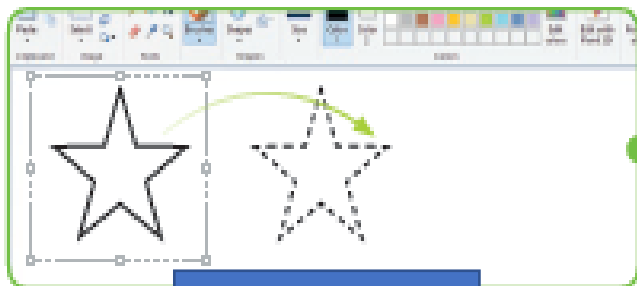
2



3



4




5

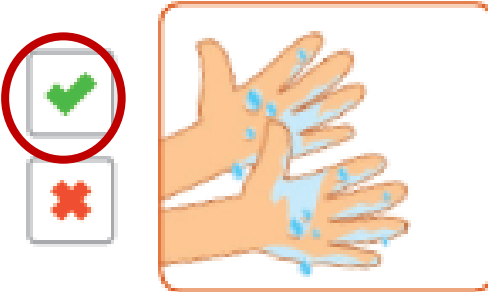
اختاري الإجابة الصحيحة



هذه هي الطريقة الصحيحة
للجلوس.



لا تسحب أسلاك الكهرباء
بهذه الطريقة.



تجنب لمس الحاسوب
بأيدي مبتلة.



عدم إحضار الطعام أو المشروبات
إلى معمل الحاسوب.



الطريقة الصحيحة
لاستخدام الأجهزة الذكية.



عدم الضغط على مفاتيح
لوحة المفاتيح بقوة.

لنلعب ونذاكر معاً

اضغط
هنا

مساحة عملي

اضغط
هنا

أجزاء الحاسوب

اضغط
هنا

مؤشر الفاره