

الوحدة الاولى : الأرض من حولي

عنوان الدرس

مراجعة الوحدة الأولى ص 12 - 39

الدراسات الاجتماعية



قم بفتح الكتاب المدرسي ص 27 وحل السؤال الأول

ثانيّة:
التدريبات

السؤال الأول: اختر الإجابة الصحيحة من بين البدائل التالية:

- 1- ينتج عن اختلاف طول النهار من منطقة لأخرى:
أ- زيادة كميّة الأمطار.
ب- اختلاف درجة الحرارة.
ج- تغير اتجاه الرياح.
د- ارتفاع الضغط الجوي.
- 2- أكبر المناطق الحرارية على سطح الأرض امتدادًا للمنطقة:
أ- الباردة.
ب- المعتدلة الدافئة.
ج- الحارة.
د- المعتدلة الباردة.
- 3- يرتفع الضغط الجوي عند المنطقة القطبية بسبب:
أ- انخفاض درجة الحرارة.
ب- هبوب الرياح القطبية.
ج- زيادة نسبة الرطوبة.
د- ارتفاع درجة الحرارة.
- 4- الرياح المحلية التي تهبّ على دولة قطر هي:
أ- الكوس.
ب- الطوز.
ج- السموم.
د- المسترال.
- 5- تنخفض درجة الحرارة درجة واحدة مئوية كلما ارتفعنا عن سطح الأرض بمقدار:
أ- 120 مترًا.
ب- 130 مترًا.
ج- 140 مترًا.
د- 150 مترًا.



قم بفتح الكتاب المدرسي ص 28

6- تُعرف حركة المياه السطحية في المحيطات في اتجاهات ثابتة بـ:

أ- الرياح. ب- ظل المطر.

د - المُنَاخ.

ج- التيارات البحرية.

7- ينتج عن مرور التيارات البحرية الدافئة بجوار سواحل القارات:

أ- قلة التبخر. ب- انخفاض درجة الحرارة.

د - ارتفاع درجة الحرارة.

ج- زيادة التبخر.

8- تعتدل درجات الحرارة في المناطق ذات الغطاء النباتي الكثيف؛ مثل:

ب- قطر.

أ- إندونيسيا.

د - ليبيا.

ج- السعودية.



السؤال الثاني: عرّف المصطلحات التالية:

- 1 - الإشعاع الشمسي: هو مقدار الأشعة الشمسية الساقطة على مساحة معينة.
- 2 - التساقط: هو قطرات مائية سائلة أو متجمدة أو بلورات ثلجية تسقط من السحب.
- 3 - الرطوبة: بخار الماء الموجود في الهواء

السؤال الثالث: يَم تفسّر:

- 1 - اختلاف درجة الحرارة من منطقة لأخرى على سطح الأرض.
اختلاف زاوية سقوط أشعة الشمس - اختلاف طول النهار
- 2 - اختلاف مناطق الضغط الجوي على سطح الأرض.
اختلاف الحرارة - توزيع اليابس والماء - الارتفاع عن سطح البحر

قم بفتح الكتاب المدرسي ص 29

3 - وجود علاقة بين درجة الحرارة والضغط الجوي.

علاقة عكسية فإذا ارتفعت درجة الحرارة انخفض الضغط الجوي

4 - هبوب الرياح الموسمية.

اختلاف درجات الحرارة والضغط الجوي بين اليابس والماء

5 - الأشعة العمودية أكثر حرارة من الأشعة المائلة.

لأنها تقطع مسافة أقل وتسقط على مساحة أصغر

6 - انخفاض الضغط الجوي فوق المرتفعات.

لقصر عمود الهواء كلما ارتفعنا إلى أعلى

7 - الصحاري الحارة أكثر تأثراً بأشعة الشمس من المناطق الاستوائية.

لأنها مناطق مكشوفة وخالية من النبات الطبيعي



السؤال الرابع: أجب عما يلي:

1 - عيّد أنواع الرياح الدائمة.

التجارية - العكسية - القطبية

2 - ما الفرق بين الرياح الموسمية الصيفية والشتوية؟

الرياح الموسمية الصيفية ممطرة - الرياح الموسمية الشتوية جافة

السؤال الخامس: ماذا يتربّب على:

1 - مرور التيارات البحرية الباردة بجوار السواحل؟

خفض درجة حرارة هواء السواحل التي تمر عليها

2 - كثافة الغطاء النباتي في حوض الأمازون في البرازيل؟

اعتدال درجة الحرارة



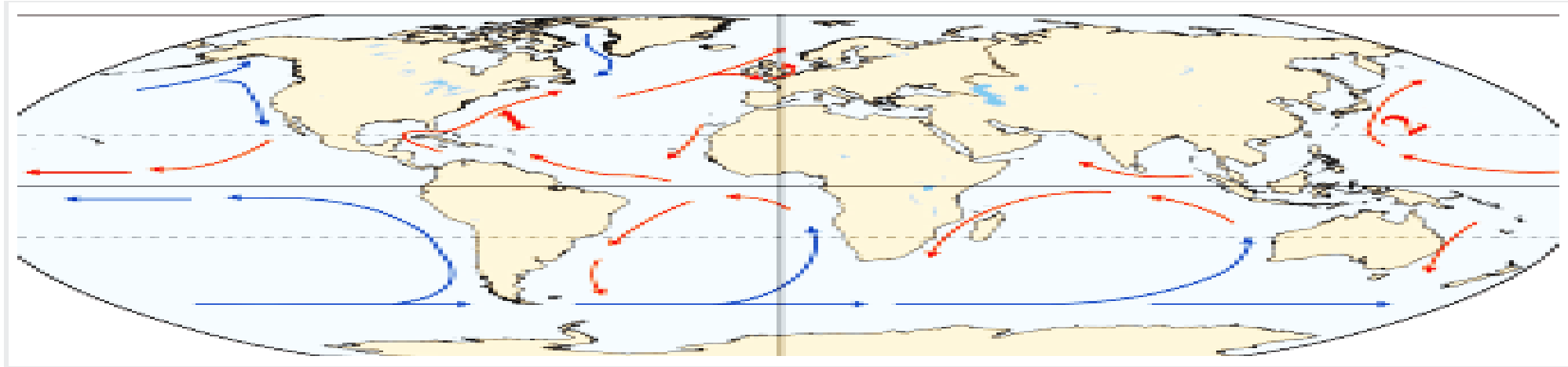
السؤال السادس:

وضح أثر توزيع اليابس والماء على المناخ.

تتميز المناطق الساحلية باعتدال درجة حرارتها معظم السنة.
أما المناطق الداخلية شديدة الحرارة صيفا شديدة البرودة شتاء

السؤال السابع:

اكتب البيانات الناقصة للتيارات البحرية على الخريطة.



الخليج

1 - تيار.

اليابان

2 - تيار.

السؤال الأول: اختر الإجابة الصحيحة من بين البدائل التالية:

- 1- أيُّ الأقاليم التالية يتميز بصيف حارٍّ وجافٍّ، وشتاء دافئ وممطر؟
أ- البحر المتوسط
ب- الصيني
ج- القطبي
د- اللورانسبي
- 2- إقليم مناخي يمتدُّ بين دائرتي عرض 0° و 8° شمالاً وجنوباً:
أ- الصيني
ب- الاستوائي
ج- المداري
د- الصحراوي
- 3- من أوجه التشابه بين الإقليم الصيني وإقليم البحر المتوسط أن كليهما:
أ- يمتدُّ في شرق القارات.
ب- ترتفع فيه الحرارة طوال العام.
ج- تسقط فيه الأمطار طوال العام.
د - يقع بين دائرتي عرض $30^\circ - 40^\circ$.
- 4- توجد دولة قطر ضمن إقليم المناخ:
أ- المداري.
ب- الصحراوي.
ج- اللورانسبي.
د - الصيني.
- 5- إقليم مناخي يتميز بارتفاع درجة الحرارة صيفاً وانخفاضها شتاءً ونسبة الأمطار:
أ- القاري.
ب- الصحراوي.
ج- المداري.
د - الصيني.

قم بفتح الكتاب المدرسي ص 38

السؤال الثاني:

قارن بين الإقليم الصحراوي وإقليم البحر المتوسط من حيث الموقع الفلكي، والحرارة والأمطار.

وجه المقارنة	الإقليم الصحراوي	إقليم البحر المتوسط
الموقع الفلكي	دائرتي عرض 18 و 30 ش و ج	دائرتي عرض 30 و 40 ش و ج غرب القارات
الحرارة والأمطار	ارتفاع درجة الحرارة صيفا وانخفاضها شتاء والأمطار نادرة	صيف حار وجاف، شتاء دافئ ممطر

السؤال الثالث:

عرّف مفهوم الإقليم المناخي.

هو منطقة متشابهة في خصائصها المناخية من حرارة وأمطار ورياح ورطوبة ومتميزة عن غيرها من الأقاليم المجاورة.

السؤال الرابع:

ما الخصائص المشتركة بين كل من:

1- الإقليم الاستوائي والمداري؟

الحرارة المرتفعة – غزارة الأمطار

2- الإقليم اللوراني وغرب القارات؟

بين دائرتي عرض 40 و 60 ش و ج / كلاهما بارد شتاء ومعتدل صيفا وأمطار طوال العام

3- الإقليم القاري والمقطبي؟

الشتاء طويل شديد البرودة ، وصيف قصير دافئ.

قم بفتح الكتاب المدرسي ص 39

السؤال الخامس: اكتب مدلول الأرقام الموجودة على خريطة الأقاليم المناخية:

الصحراوي

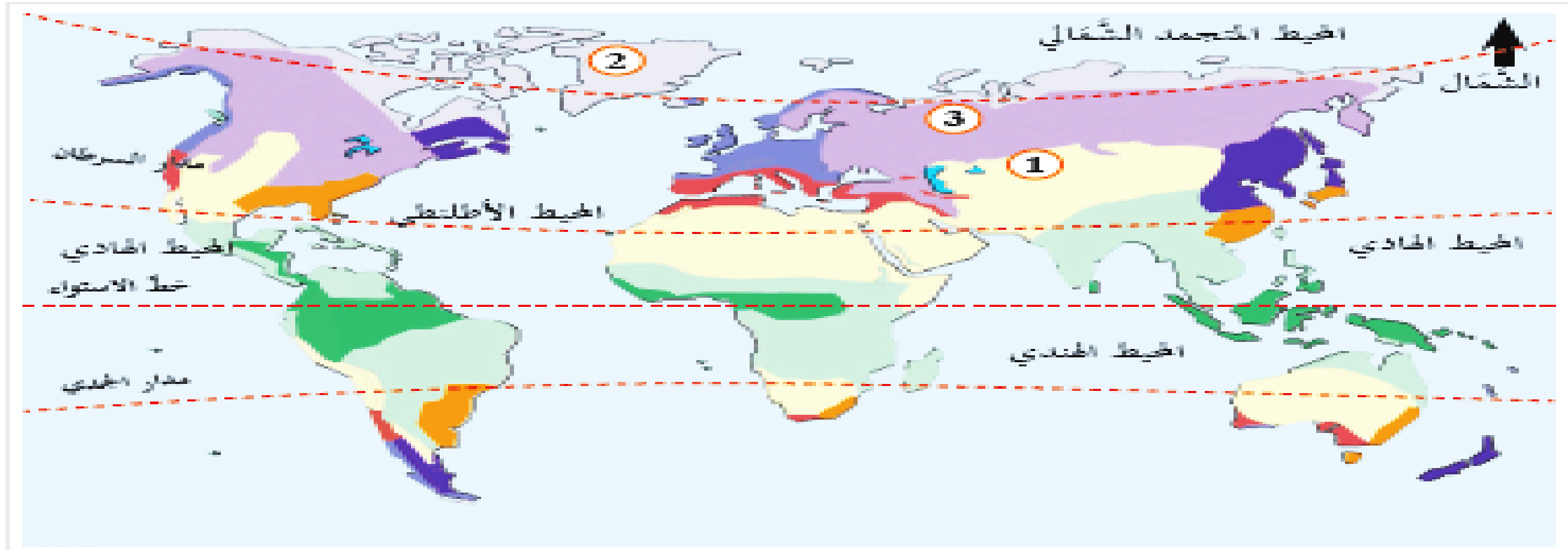
1 - الإقليم

القطبي

2 - الإقليم

القاري

3 - الإقليم



■ الوحدة الثانية

■ حضارات بلاد الرافدين

مراجعة الوحدة الثانية



1 - أول الشعوب التي سكنت بلاد الرافدين:

ب - الأكاديون.

أ - البابليون.

د - السومريون.

ج - الآشوريون.

2 - ثبت دعائم دولته على ركائز متينة من خلال التشريعات والقوانين:

ب - آشور بانيبال.

أ - سرجون الأول.

د - نبوخذ نصر.

ج - حمورابي.

السؤال الثاني: أجب عما يأتي:

أ - ما المقصود ببلاد الرافدين؟

هي حاليا العراق وسميت بالرافدين لوجود نهرا دجلة والفرات بها

ب - اذكر ثلاث شخصيات مؤثرة في تاريخ بلاد الرافدين.

أورنمو - حمورابي - آشور بانيبال

ج - اذكر عوامل قيام حضارة بلاد الرافدين.

الموقع الجغرافي - نهرا دجلة والفرات - الهجرات البشرية

السؤال الثالث: قَيِّر ما يأتي:

1 - تمكّن سرجون الأول من تحطّط سيطرته على المدن المسمرية.

بفضل قوة الجيش النظامي

2 - انهيار الدولة البابلية الأولى.

ضعف شخصية الملوك بعد حمورابي - كثرة الثورات الداخلية

3 - سقوط الدولة الآشورية في نهاية القرن السابع قبل الميلاد على يد الكلدانيين.

سياسة العنف والتدمير - إهمال ثروات البلاد الاقتصادية

السؤال الرابع: ما النتائج المترتبة على:

1 - سياسة العنف والقسوة التي اتبعها الآشوريون في البلاد التي توسعوا فيها ؟

ثورات الشعوب ضدهم مما أدى إلى سقوط الدولة الآشورية

2 - كثرة الثورات الداخلية في عهد الدولة البابلية الأولى.

انهيار وسقوط الدولة البابلية الأولى.



1 - سجل سكان بلاد الرافدين الوثائق الرسمية والعقود على ألواح:

أ - خشبية.

ب - طينية.

ج - زجاجية.

د - معدنية.

2 - من مميزات الحياة الدينية عند سكان بلاد الرافدين:

أ - تعدد المعبودات.

ب - الاعتقاد بعدم وجود حياة بعد الموت.

ج - الإيمان باليوم الآخر.

د - الإيمان بآله واحد.

3 - تُعدُّ من روائع حضارة بلاد الرافدين في مجال النحت:

أ - قصر خور سباد.

ب - حدائق بابل.

ج - الثور المجنح.

د - برج بابل.

4 - تمثلت الطبقة الوسطى في مجتمع بلاد الرافدين من:

أ - العمال والفلاحين.

ب - أسرى الحروب والعبيد.

ج - الملك والكهنة.

د - مُلاك الأراضي وكيار الثَّجار.

السؤال الثاني: **يَم تفسّر:**

أ - ازدهار الزراعة في حضارة بلاد الرافدين.

توفر المياه - خصوبة التربة - شق القنوات

ب - تنوّع المنتجات الصناعية في حضارة بلاد الرافدين.

توفر المادة الخام - التربة الطينية

د - نموّ الحركة التجارية في حضارة بلاد الرافدين.

الموقع المتميز - وفرة المنتجات - وجود الأمن - المواصلات

السؤال الثالث: **أجب عما يأتي:**

أ - ما النتائج المترتبة على اختراع الكتابة المسمارية؟

كتابة العقود والوثائق الرسمية

ب - اذكر أهمّ القوانين التي عرّفها بلاد الرافدين.

قوانين حمورابي

ج - عند طبقات المجتمع في بلاد الرافدين.

العليا (الكهنة وكبار التجار) الوسطى (العمال والفلاحين)
الدنيا (العبيد وأسرى الحروب)

الدراسات

الاجتماعية

الصف السابع

الوحدة الثالثة: السلطات الدستورية في دولة قطر

الدرس الأول :

السلطة التشريعية و التنفيذية في دولة قطر



السؤال الأول: اختر الإجابة الصحيحة من بين البدائل التالية:

1- يتولى أمير البلاد السلطة التنفيذية ويعاونه:

- أ- مجلس الوزراء. 
- ب- مجلس الشورى.
- ج- المجلس القضائي.
- د - المجلس البلدي.

2- يُعتبر مجلس الشورى ممثلًا للسلطة:

- أ - التنفيذية.
- ب- القضائية.
- ج- التشريعية. 
- د - الإعلامية.

3- عَدَدُ أَعْضَاءِ مَجْلِسِ الشُّورَى فِي دَوْلَةِ قَطَرِ.

ب- 35.

أ- 25.

د - 55.

ج- 45.



4- تَتَوَلَّى الرِّقَابَةُ عَلَى أَعْمَالِ السَّلْطَةِ التَّنْفِيزِيَّةِ.

ب- السَّلْطَةُ الْقَضَائِيَّةُ.

أ - السَّلْطَةُ التَّشْرِيعِيَّةُ.



د - المَجْلِسُ الْبَلَدِي.

ج- مَجْلِسُ الْوُزَرَاءِ.

السؤال الثاني: اذكر ثلاثة من اختصاصات مجلس الوزراء.

1 - إدارة جميع الشؤون الداخلية و الخارجية للدولة .

2 - اقتراح القوانين و تنفيذها .

3 - الرقابة العليا على سير النظام الحكومي .

السؤال الثالث: بيّن اختصاصات السلّطة التشريعية في دولة قطر.

1 - تشريع القوانين .

2 - إقرار الموازنة العامة للدولة .

3 - الرقابة على أعمال السلطة التنفيذية حسب أحكام الدستور .

السؤال الرابع: حدّد الدستور القطري كل ما يتعلّق بالسلطة التنفيذية.

1 - من الذي يتولّى السلطة التنفيذية في دولة قطر؟ وبمعاونة مَنْ؟

1 - يتولاها الأمير

2 - و يعاونه في ذلك مجلس الوزراء

2- اذكر اختصاصات أمير البلاد .

1 - رسم السياسة العامة للدولة بمعاونة مجلس الوزراء .

2 - المصادقة على القوانين ، ولا يصدر قانون ما لم يصادق عليه الأمير .

3 - اعتماد رؤساء البعثات الدبلوماسية و القنصلية .



■ الوحدة الرابعة

■ مراجعة الوحدة الرابعة

■ وحل التدريبات



1- من أمثلة مناطق تركّز السُّكَّان في العالم:

أ- الصحاري الحارة. ب- الصحاري الجليدية.

ج- السهول الفيضية.  د- الغابات الاستوائية.

2- أكثر قارات العالم من حيث عدد السُّكَّان:

أ- آسيا.  ب- إفريقيا.

ج- أوروبا. د- أمريكا الشمالية.

3- من العوامل الطبيعية المؤثرة في توزيع السُّكَّان:

أ- الثروات المعدنية.  ب- النقل والمواصلات.

ج- الزراعة. د- الأحداث السياسية.

1 - تركُّز السُّكَّان في السهول الفَيْضِيَّة.

بسبب توفر الأنهار وخصوبة التربة.

2 - تُعدُّ السهول من أفضل وأنسب أنواع السطح للتركُّز البشري.

سهولة مد الطرق - إقامة المنشآت العمرانية - سهولة ممارسة الأنشطة الزراعية والصناعية

3 - تضمُّ الأقاليم المُناخية المعتدلة نصف سكان العالم.

لأن أمطارها مناسبة - ودرجة حرارتها معتدلة

4 - يقلُّ التُّركُّز السُّكَّاني في المناطق الجبلية.

وعورة وتعرج السطح - صعوبة التنقل والحركة - تعرض التربة للتعرية

5 - تتوافق خريطة توزيع السكان وكثافتهم بشكل كبير مع خريطة توزيع الأمطار.

حيث أن الكثافة المرتفعة في جنوب شرق آسيا لها علاقة بالأمطار الغزيرة الموسمية

السؤال الثالث: دِلِّل على صحة العبارة التالية:

1 - ليست جميع المناطق المرتفعة طاردة للسكان.

تركز السكان في المناطق المرتفعة حيث المناخ المعتدل مثل (صنعاء)

2 - للمناخ تأثير غير مباشر على توزيع السُّكَّان.

المناخ المعتدل يؤدي إلى تركيز السكان والعكس صحيح

السؤال الرابع: أجب عما يلي:

1 - ما النتائج المترتبة على ظهور النفط في منطقة الخليج العربي.

ساهم في نشأة المدن ومراكز التعدين وموانئ التصدير

2 - «للتربة دورها المؤثر في توزيع السُّكَّان» وَضِّح ذلك.

تركز السكان في التربة الفيضية الخصبة - التربة البركانية

السؤال الأول: اختر الإجابة الصحيحة مما يلي:

صفحة 106

1- من العوامل البشرية المؤثرة في توزيع سكان العالم:

- أ- معدّلات الأمطار.
- ب- مصادر الطاقة.
- ج- النشاط الاقتصادي
- د- التربة.

2- من المدن الصناعية التي تشهد تركّزًا سُكّانيًا بدولة قطر:

- أ- مدينة مسييعيد.
- ب- مدينة الشّمال.
- ج- مدينة الشحانية.
- د- مدينة أمّ صلال.

3- الحرفة التي لا تحتاج لأعداد كبيرة من السكان:

- أ- الزراعة.
- ب- الصناعة.
- ج- التجارة.
- د- الرّعي.

السؤال الثاني: بِمَ تُفسِّر:

1 - الهجرة القسرية للسكان.

بسبب الحروب والمشكلات السياسية

2 - تجتذب الزراعة أعدادًا قليلة من السُّكَّان في دول العالم المتقدِّم.

بسبب استخدام الآلات الزراعية في الزراعة

3 - تركُّز السكان في غرب أوروبا.

بسبب النشاط الصناعي ووجود المدن الصناعية

السؤال الثالث: دَلِّل على صحة العبارة التالية:

1 - تأثير المواصلات على التركز السكاني.

تؤثر المواصلات في تعمير وجذب السكان للمناطق النائية

2 - تأثير النشاط الاقتصادي على التركز السكاني.

مثل اليابان ومدينة مسعيد في قطر لوجود المصانع

السؤال الرابع: ما النتائج المترتبة على:

1 - الاحتلال الإسرائيلي لأرض فلسطين (سكانيًا)؟

هجرة قسرية إلى الدول العربية المجاورة

2 - استخدام الآلات في الزراعة بالدول المتقدمة؟

قلة الأيدي العاملة وأعداد السكان

تدريبات الكتاب
المدرسي

صفحة

120-119-118

السؤال الأول: اختر الإجابة الصحيحة من بين البدائل:

3- أنشأ الخليفة المعتصم بالله مدينة:

أ- بغداد.

ب- سُرَّ مَنْ رَأَى.

ج- خُراسان.

د- دمشق.

4- من إنجازات الخليفة هارون الرشيد:

أ- فتح عموريّة.

ب- الاهتمام بحركة الترجمة.

ج- إنشاء مرصد فلكي في بغداد.

د- إنشاء بيت الحكمة.

السؤال الثاني: بِمَ تُفسَّر:

1- يُطلق على العصر العباسي الأول اسم عصر القوة.

- (1) قوة الخلافة واستقلالها التام.
- (2) تمسك الخلفاء بإحياء السُّنة.
- (3) ازدهار الحضارة الإسلامية في كافة المجالات .

2- يُعدُّ أبو جعفر المنصور المؤسس الحقيقي للدولة العباسية.

- (1) ثبّت أركان الدولة ، وتمكّن من القضاء على الثورات .
- (2) أنشأ جهازاً إدارياً محكماً لمراقبة وضبط موظفي الدولة ومحاسبتهم .
- (3) حماية وتحصين الدولة.
- (4) بنى مدينة بغداد عام 145هـ ، واتخذها عاصمة للدولة العباسية.

السؤال الثاني: بِمَ تُفسِّر:

3- اشتهر عصر المأمون بالنهضة العلمية والثقافية.

- 1) اهتمّ بالعلم والعلماء .
- 2) ازدهرت في عهده مختلف العلوم .
- 3) نشطت في عهده حركة الترجمة .
- 4) أصبح بيت الحكمة في عهده أكبر مركز علمي وثقافي.

4- نجاح العباسيين في إسقاط الدولة الأموية.

بسبب مرور الدولة الأموية في أواخر عهدها بحالة من الضعف والتفكك وتردّ للأوضاع الاقتصادية .

السؤال الثالث: أَجِبْ عن الأسئلة التالية:

1- عِدّد أعمال الخليفة هارون الرشيد.

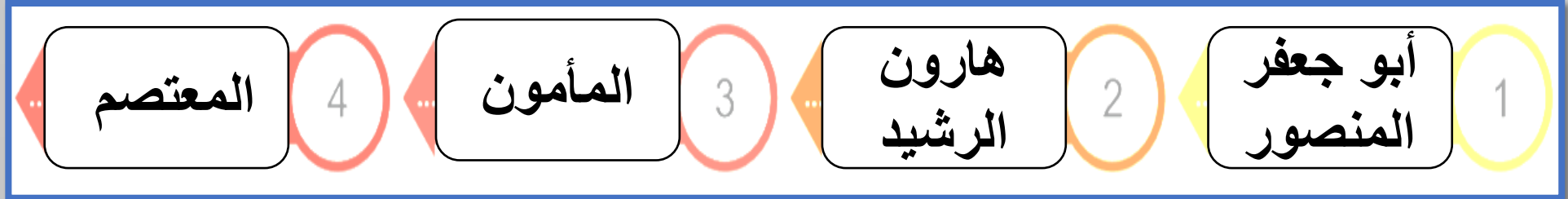
- 1) شجّع الحركة العلمية والأدبية، وأنشأ مكتبة ضخمة في بغداد سُميت بيت الحكمة.
- 2) نشطت الحياة الاقتصادية في المجالات الزراعية والتجارية والصناعية ، وأصبحت بغداد مركزاً للنشاط الاقتصادي .

2- اذكر أعمال الخليفة المعتصم بالله.

- 1) قضى على الثورات التي ظهرت في عهده .
- 2) بنى مدينة " سُرَّ مَنْ رَأَى " (سامراء حالياً) .

السؤال الرابع: رتبّ خلفاء الدولة العباسية من الأقدم إلى الأحدث.

(المعتصم – هارون الرشيد – أبو جعفر المنصور – المأمون).



السؤال الخامس: ما النتائج المترتبة على:

1- معركة الزاب الكبير سنة 132 هـ؟

تمكنت القوات العباسية من القضاء على جيش الدولة الأموية .

2- إنشاء الخليفة أبي جعفر المنصور جهازًا إداريًا مُحَكَّمًا؟

تمكن من خلاله من مراقبة وضبط موظفي الدولة ومحاسبتهم .

السؤال السادس: دَلِّل على ما يلي:

1- تشجيع الخليفة هارون الرشيد الحركة العلمية والأدبية.

حيث أنشأ مكتبة ضخمة في بغداد سُميت بيت الحكمة.

2- تشجيع الخليفة المأمون لحركة الترجمة من الكتب الأجنبية إلى اللغة العربية.

كان يُعطي للمترجم وزنَ الكتاب الذي ترجمه ذهباً .


حل تدريبات الكتاب المدرسي
صفحة 129 - 130 - 131

السؤال الأول: اختر الإجابة الصحيحة من بين البدائل التالية:

1- من أسباب سقوط الدولة العباسية:

أ- وحدة البيت العباسي.

ب - الاهتمام بالزراعة والصناعة.

تزايد الأطماع الخارجية في الدولة. 

د - وجود خلفاء قادرين على إدارة شؤون الدولة.

2- بدأ منصب الخلافة العباسية يضعف مع وفاة الخليفة:

أ- المعتصم. 

ج- المأمون. د- المهدي.

3- سقطت الدولة العباسية على يد:

أ- الصليبيين.

ب- الفاطميين.

المغول. 

د- السلاجقة.

4- فُتحت عمورية عام 223 هـ على يد الخليفة:

أ- المأمون.

ب- المنصور.

المعتصم بالله. 

د- الواثق بالله.

السؤال الثاني: قارن بين العصر العباسي الأول والعصر العباسي الثاني:

وجه المقارنة	العصر العباسي الأول	العصر العباسي الثاني
المدة الزمنية	(132 – 232 هـ)	(232 – 656 هـ)
سمات كل عصر	<p>قوة الخلافة واستقلالها التام لتركز السلطة في يد الخليفة.</p> <p>تمسك الخلفاء بإحياء السنة وإقامة العدل والمساواة بين الناس .</p> <p>ازدهار الحضارة الإسلامية في كافة المجالات</p>	<p>ضعف الخلافة</p> <p>التفكك والانقسام</p> <p>تردي الأوضاع الاقتصادية والاجتماعية</p> <p>تراجع النشاط العسكري</p>

السؤال الثالث: أجب عن الأسئلة التالية:

1- ما العلاقة بين تراجع القوة العسكرية وسقوط الدولة العباسية؟

أدى تراجع النشاط العسكري إلى ظهور قوى وأخطار خارجية ، مما مهد إلى سقوط الدولة العباسية.

2- ماذا ترتب على عوامل الفُرقة والانقسام داخل الدولة العباسية؟

☐ تراجع النشاط العسكري للدولة العباسية.

☐ سقوط الدولة العباسية على يد المغول .

3- عُد أسباب سقوط الدولة العباسية؟

تولى الخلافة عدد من الخلفاء الضعفاء غير القادرين على إدارة شؤون الدولة



سيطرة عناصر غير مخصصة على نظم الجيش والإدارة بالدولة



اهمال الزراعة والصناعة والتجارة



اتساع رقعة الدولة مما شجع ذوي النفوذ على الخروج عن طاعة الدولة والاستقلال بمناطق نفوذهم .



تزايد الأطماع الخارجية في الدولة وكان أخطرها الغزو الصليبي للعالم الاسلامي، والخطر المغولي



4- اذكر أهم الإجراءات التي اتخذها العباسيون لحماية دولتهم.

1- تقوية إقليم العواصم والثغور ببناء القلاع والحصون والأسوار على الحدود مع الروم .

2- فتح عمورية في عهد المعتصم عام 223هـ إحدى أقوى الحصون الرومانية بعد حصار استمر 55 يوماً.

السؤال الرابع: فسّر ما يلي:

1- تجزؤ أراضي الدولة العباسية إلى عدد من الدويلات المستقلة.

التفكك والانقسام الذي ساد الدولة العباسية خلال العصر العباسي الثاني ، واتساع رقعة الدولة .

2- تردّي الأوضاع الاقتصادية والاجتماعية في عصر الدولة العباسية الثاني.

تولي خلفاء ضعفاء لمنصب الخلافة مما أدى إلى انتشار الفساد والترف والوهو، و زادت النفقات وتراجعت الإيرادات .

3- ظهور قوى وأخطار خارجية هددت الدولة العباسية في عصرها الثاني.

حدوث الفرقة والانقسام داخل الدولة العباسية ، وتراجع النشاط العسكري وخاصة على ثغور الدولة وأطرافها

السؤال الخامس: ما النتائج المترتبة على:

- انغماس الخلفاء خلال العصر العباسي الثاني في حياة الترف والملذات؟

أدى إلى ضعف وسقوط الخلافة العباسية.