

مدرسة المرحية الابتدائية للبنات

رؤيتنا: الريادة في توفير فرص تعلم دائمة ومبتكرة وذات جودة عالية للمجتمع القطري

الوحدة السادسة: التصنيف

الاسم: الصف الثالث/.....

السؤال الأول:

اختر الإجابة الصحيحة مما يلي:-

1- أي مما يأتي ليست من خصائص الكائن الحي؟

☐ يمكن أن تتكاثر

☐ يمكن ان ينمو

☐ لا يتغذى

☐ يخرج الفضلات

2- اي من الاتي من الكائنات الحية؟

☐ النقطة

☐ الحاسوب

☐ القلم

☐ الكتاب

3. أي مما يلي يتكاثر بالولادة؟

☐ الزواحف

☐ البرمائيات

☐ الثدييات

☐ الطيور

4- أي من الصفوف التالي تشترك في أنها تتكاثر بالبيض

☐ الثدييات والزواحف والطيور والأسماك

☐ الطيور والبرمائيات والزواحف والأسماك

☐ الأسماك والثدييات والطيور والبرمائيات

☐ الثدييات والبرمائيات والزواحف والطيور

5- إلى أي صف من الحيوانات ينتمي الثعبان؟

☐ الطيور

☐ الاسماك

☐ الزواحف

☐ البرمائيات

مدرسة المرحية الابتدائية للبنات

رؤيتنا: الريادة في توفير فرص تعلم دائمة ومبتكرة وذات جودة عالية للمجتمع القطري

الوحدة السادسة: التصنيف

الاسم: الصف الثالث/.....

6- إلى أي صف من الحيوانات ينتمي الأرنب؟

☐ الأسماك

☐ الطيور

☐ الزواحف

☐ الثدييات

7- أي من هذه الحيوانات برمائي؟

☐ العصفور

☐ سكة التونة

☐ السحلية

☐ الضفدع

8- ما نوع التصنيف المعتمد عند وضع نبات المانجو ونبات الطماطم في مجموعة واحدة؟

☐ نباتات زهرية

☐ نباتات لا زهرية

☐ نباتات لها ثمار

☐ نباتات أوراقها أشواك

9- أي من الآتي ليس من الفقاريات ؟

☐ الدجاجة

☐ الفيل

☐ الفراشة

☐ السمكة

10- ما المقصود (هو سلسلة من الأوصاف مرتبة في أزواج تساعدنا على تحديد الكائنات الحية وتصنيفها)

☐ مفتاح التصنيف.

☐ صفوف الفقاريات.

☐ صفوف اللافقاريات.

☐ خصائص الحيوانات.

مدرسة المرحية الابتدائية للبنات

رؤيتنا: الريادة في توفير فرص تعلم دائمة ومبتكرة وذات جودة عالية للمجتمع القطري

الوحدة السادسة: التصنيف

الاسم: الصف الثالث/.....

2-صنف الكائنات الحية الاتية الى مجموعات

(الجمال – التمساح – الضفدع – الثعبان – القطة – السمندل)

مجموعة الثدييات	مجموعة البرمائيات	مجموعة الزواحف

3-قارن بين الطيور و الزواحف

الطيور	الزواحف	
		غطاء الجسم
		طريقة التكاثر
		مثال لكائن حي

4-قارن بين الدب والضفدع

الدب	الضفدع	
		غطاء الجسم
		طريقة التكاثر
		التنفس
		المجموعة

مدرسة المرحية الابتدائية للبنات

رؤيتنا: الريادة في توفير فرص تعلم دائمة ومبتكرة وذات جودة عالية للمجتمع القطري

الوحدة السادسة: التصنيف

الاسم: الصف الثالث/.....

5- اجب عن الأسئلة من خلال الجدول:

الكائن الحي	رقم 1	رقم 2	رقم 3
غطاء الجسم	الريش	الشعر أو الفرو	القشور
الحركة	الاجنحة	أربعة أرجل	الزعانف والذيل
التكاثر	بالبويض	يلد	بالبويض

أ- ما المجموعة التي ينتمي لها رقم 2؟

الإجابة:

ب- أي حيوان يعبر عنه رقم 1؟

الإجابة:

ج- اين يضع رقم 3 البويض؟

الإجابة:

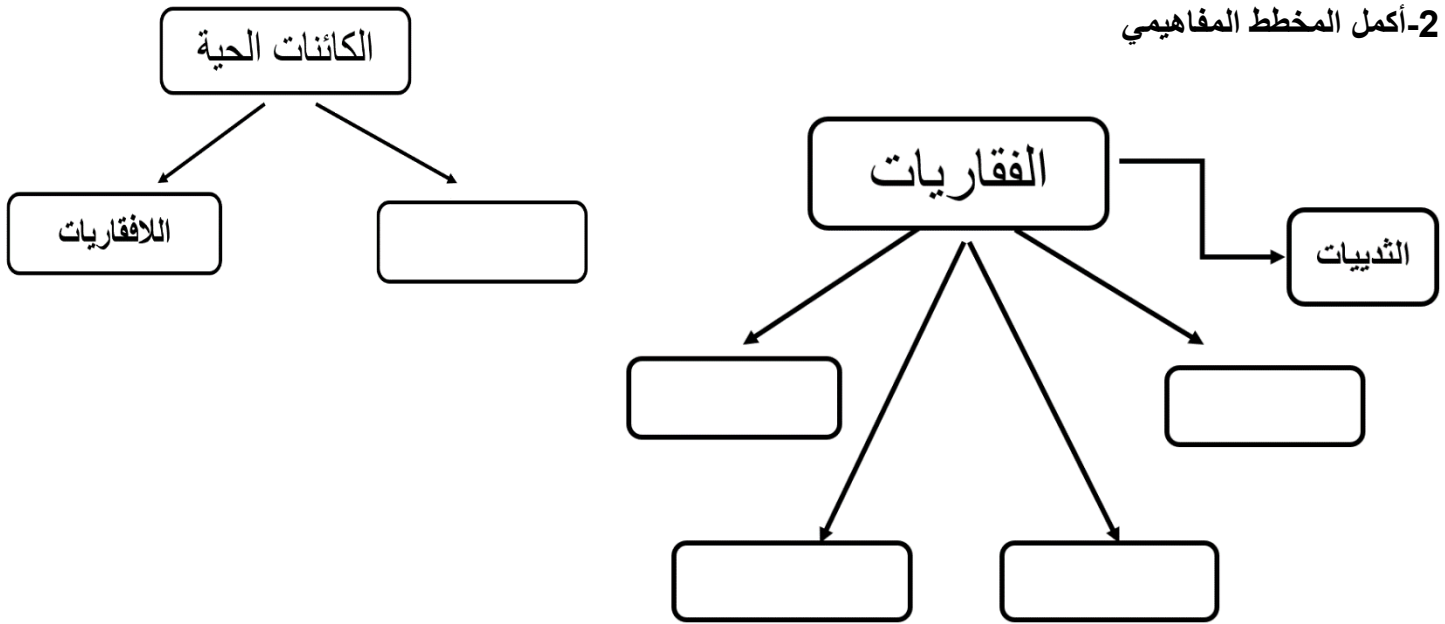
مدرسة المرحية الابتدائية للبنات

رؤيتنا: الريادة في توفير فرص تعلم دائمة ومبتكرة وذات جودة عالية للمجتمع القطري

الوحدة السادسة: التصنيف

الاسم: الصف الثالث/.....

2- أكمل المخطط المفاهيمي



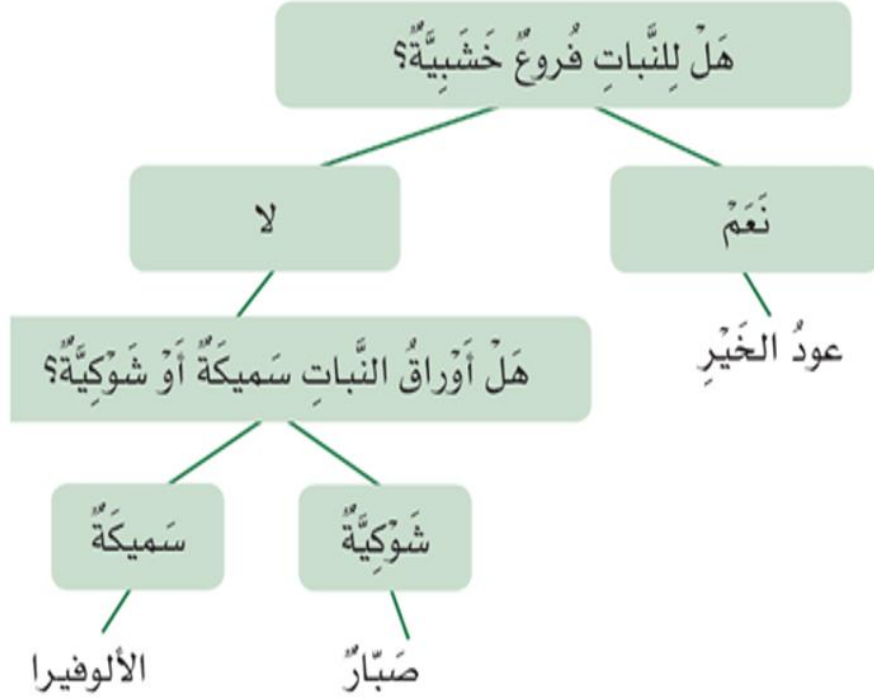
3- استخدم مفتاح التصنيف لتحديد النبات

مدرسة المرحية الابتدائية للبنات


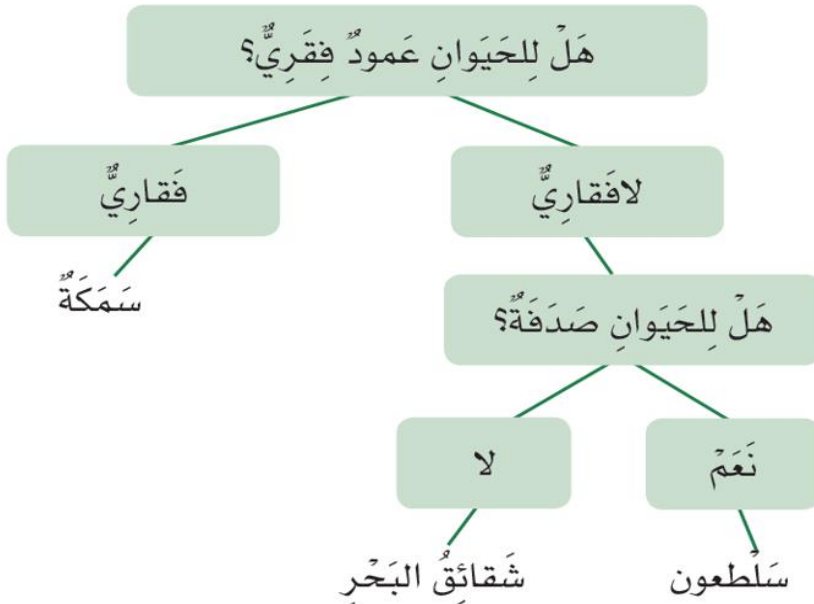
رؤيتنا: الريادة في توفير فرص تعلم دائمة ومبتكرة وذات جودة عالية للمجتمع القطري

الوحدة السادسة: التصنيف

الاسم: الصف الثالث/.....



اسم النبات (س):



مدرسة المرخية الابتدائية للبنات

رؤيتنا: الريادة في توفير فرص تعلم دائمة ومبتكرة وذات جودة عالية للمجتمع القطري

الوحدة السادسة: التصنيف

الاسم: الصف الثالث/.....

4- ما اسم الكائن الحي(س)؟

انتهت الأسئلة