



تدريبات إثرائية للوحدة 5 (استخدام المواد)


الاسم: الصف: أول /

تعليمات: عند الإجابة على الأسئلة من 1 إلى 13، ضع علامة X على الجواب الصحيح.

السؤال (1)	1 /
 <p>ما المادة المصنوعة منها الشوكة في الصورة التالية؟</p>	
A	طين
B	قماش
C	معدن

السؤال (2)	1 /
<p>أي من الأشياء التالية مصنوع من مادة طرية؟</p>	
 <p>A الكرسى</p>	
 <p>B اللعبة</p>	
 <p>C المطرقة</p>	



1 /.....	السؤال (3)	
		ما ملمس الحجر في الصورة التالية؟
	خشن	A
	ناعم	B
	طري	C




1 /.....	السؤال (4)	
		ما الصفة التي تميز هذا الشيء؟
	لامع	A
	يطفو	B
	يغوص	C



1 /.....	السؤال (5)
	
ما صفة هذه الكرة؟	
باهتة	A
شفافة	B
لامعة	C

1 /.....	السؤال (6)
أي من هذه الأشياء يتميز بأنه شفاف؟	
	A
	B
	C



1 /.....	السؤال (7)
أي من هذه الأشياء صنع من مادة الخشب؟	
	A
	B
	C

1 /.....	السؤال (8)
	بماذا يتميز الباب؟
	A شفاف
	B طري
	C معتم



1 /.....	السؤال (9)
أي المواد التالية لا تستخدم في صناعة الأبواب؟	
خشب	A
زجاج	B
مطاط	C

1 /.....	السؤال (10)
ما المادة الأفضل صناعة نوافذ السيارة؟	
بلاستيك	A
خشب	B
زجاج	C

1 /.....	السؤال (11)
بماذا نصف المادة التي تحد من لمعان الضوء غير المرغوب فيه في أعيننا؟	
باهتة	A
شفافة	B
ناعمة	C



1 /.....	السؤال (12)	
ما المادة الأفضل لصناعة الأشياء القاسية والجذابة؟		
	بلاستيك	A
	معدن	B
	ورق	C

1 /.....	السؤال (13)	
بماذا يتميز الورق؟		
	طري وشفاف	A
	قاس ومعتم	B
	طري ومعتم	C

4/.....

السؤال (14)(أ)

أكمل الفراغات التالية مستعيناً بالكلمات في الجدول التالي:

شفافة	خشن	تغوص	طري
-------	-----	------	-----



1. ملمس الحصى الصغير -----.



2. ملمس الإسفنجة -----.



3. العملة المعدنية ----- تحت سطح الماء.

4. المواد التي نستطيع أن نرى من خلالها تسمى -----.

4/.....

السؤال (14)(ب)

أكمل الفراغات التالية مستعيناً بالكلمات في الجدول التالي:

خصائص	الخشب	المعدن	اللامعة
-------	-------	--------	---------

1. يستخدم ----- في بناء المباني والجسور.

2. يستخدم ----- لصنع الأبواب والأثاث.

3. يمكن للأشياء ----- أن تعكس الضوء.

4. يتم اختيار المواد لصنع الأشياء بحسب ----- المواد.



2 /.....

السؤال (15) (أ)

العمود (ب)

A



B



C



D



العمود (أ)

1. بلاستيك

2. زجاج





3. خشب

4. معدن



2 /

السؤال (15) (ب)

العمود (ب)		العمود (أ)
<p>A</p> 	<p>■ ■</p>	<p>1. باهت</p>
<p>B</p> 	<p>■ ■</p>	<p>2. معتم</p>
<p>C</p> 	<p>■ ■</p>	<p>3. يغيص</p>
<p>D</p> 	<p>■ ■</p>	<p>4. قاس</p>



5/.....

السؤال (16)

ضع علامة (✓) أمام العبارة الصحيحة وعلامة (x) أمام العبارة الخاطئة:

1. بعض المواد تغوص وتبقى فوق سطح الماء. ()

2. يمكن للأشياء الباهتة أن تحد من لمعان الضوء غير المرغوب فيه في أعيننا. ()

3. يمكن أن نرى من خلال المواد المعتمة. ()

4. المعدن مادة طرية جداً وله استخدامات مختلفة. ()

5. الخشب مادة قاسية ومعتمة وله استخدامات مختلفة. ()



1/.....

السؤال (17)

أنظر إلى صور الأطعمة ثم أجب عن السؤال التالي: -



ما المادة التي صنع منها المقص؟

الإجابة: _____

1/.....

السؤال (18)

أنظر إلى الصورة ثم أجب عن السؤال التالي: -



ما ملمس هذه الحجارة؟

الإجابة: _____

1/.....

السؤال (19)

أنظر إلى الصورة ثم أجب عن السؤال التالي: -



بماذا نصف هذا الكوب؟ (شفاف - معتم)

الإجابة: _____

انتهت الأسئلة

نتمنى لكم التوفيق