



مدرسة عبد الحميد الدايل للبنين
الفصل الدراسي الثاني للعام 2022-2023
بنك الأسئلة الوحدة الثامنة

الاسم: الصف: أول/.....

اختر الإجابة الصحيحة لكل من الأسئلة من 1 إلى 3، وذلك بوضع علامة × داخل المربع المجاور للإجابة الصحيحة:

السؤال رقم 1																															
<table border="1"><tr><td>1</td><td>2</td><td>3</td><td>4</td><td>5</td><td>6</td><td></td><td>8</td><td>9</td><td>10</td></tr><tr><td>11</td><td>12</td><td>13</td><td>14</td><td>15</td><td>16</td><td></td><td>18</td><td>19</td><td>20</td></tr><tr><td>21</td><td>22</td><td>23</td><td>24</td><td>25</td><td>26</td><td>27</td><td>28</td><td>29</td><td>30</td></tr></table>	1	2	3	4	5	6		8	9	10	11	12	13	14	15	16		18	19	20	21	22	23	24	25	26	27	28	29	30	أي مما يلي يمثل الأعداد الناقصة في اللوحة ؟
1	2	3	4	5	6		8	9	10																						
11	12	13	14	15	16		18	19	20																						
21	22	23	24	25	26	27	28	29	30																						
<input type="checkbox"/> A 17, 27																															
<input type="checkbox"/> B 7, 17																															
<input type="checkbox"/> C 7, 8																															

السؤال رقم 2																					
<table border="1"><tr><td>1</td><td>2</td><td>3</td><td>4</td></tr><tr><td>11</td><td></td><td>13</td><td>14</td></tr><tr><td>21</td><td></td><td>23</td><td>24</td></tr><tr><td>31</td><td></td><td>33</td><td>34</td></tr><tr><td>41</td><td>42</td><td>43</td><td>44</td></tr></table>	1	2	3	4	11		13	14	21		23	24	31		33	34	41	42	43	44	أي مما يلي يمثل الأعداد الناقصة في لوحة الأعداد ؟
1	2	3	4																		
11		13	14																		
21		23	24																		
31		33	34																		
41	42	43	44																		
<input type="checkbox"/> A 12, 13, 14																					
<input type="checkbox"/> B 21, 22, 223																					
<input type="checkbox"/> C 12, 22, 32																					

السؤال رقم 3					
<table border="1"><tr><td></td><td></td><td>23</td><td>24</td></tr></table>			23	24	أي مما يلي يمثل الأعداد الناقصة في اللوحة ؟
		23	24		
<input type="checkbox"/> A 11, 12					
<input type="checkbox"/> B 21, 22					
<input type="checkbox"/> C 31, 32					

السؤال رقم 4

أكتب الأعداد الناقصة على لوحة الأعداد .

71	72	73	74	75	76	77	78	79	___
___	___	83	84	85	86	87	88	89	90
91	92	93	94	95	96	97	98	99	100

السؤال رقم 5

أكتب الأعداد الناقصة على لوحة الأعداد لإكمال النمط.

41	42	___	44	45	46	47	48	49	50
51	52	___	54	55	56	57	58	59	60
61	62	___	64	65	66	67	68	69	70
71	72	73	74	75	76	77	78	79	80


السؤال رقم 6

أكتب الأعداد الناقصة على لوحة الأعداد لإكمال النمط.

1	2	3	___	5	___	7	8	___	10
11	12	___	14	15	16	17	18	19	___
___	___	23	24	25	26	___	28	29	30
31	32	33	34	___	36	37	38	___	___
41	42	43	___	45	___	47	48	___	50

اختر الإجابة الصحيحة لكل من الأسئلة من 1 إلى 3، وذلك بوضع علامة × داخل المربع المجاور للإجابة الصحيحة:

السؤال رقم 1




ما العدد الذي تمثله المكعبات؟

☐ A 30

☐ B 40

☐ C 60

السؤال رقم 2



ما العدد الذي تمثله المكعبات؟

☐ A 47

☐ B 51

☐ C 60

السؤال رقم 3






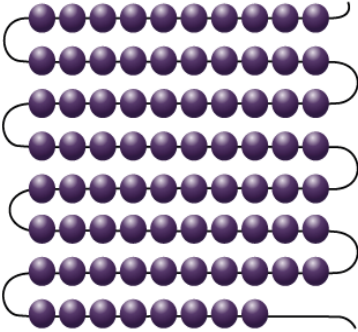



ما العدد الكلي لنحلات؟

☐ A 18

☐ B 25

☐ C 27

الدرجة (2)	السؤال رقم 4
<p style="text-align: right;">عد بالعشرات ثم أكتب العدد :</p> <div style="display: flex; justify-content: space-around; align-items: flex-start;"> <div style="text-align: center;">  <input style="width: 100px; height: 40px; margin-top: 20px;" type="text"/> </div> <div style="text-align: center;">  <input style="width: 100px; height: 40px; margin-top: 20px;" type="text"/> </div> <div style="text-align: center;">  <input style="width: 100px; height: 40px; margin-top: 20px;" type="text"/> </div> </div>	

	السؤال رقم 5
<p style="text-align: right;">عد بالعشرات وبالأحاد، ثم أكتب العدد الكلي :</p> <div style="display: flex; justify-content: space-around; align-items: flex-start;"> <div style="text-align: center;">  <input style="width: 100px; height: 40px; margin-top: 20px;" type="text"/> </div> <div style="text-align: center;">  <input style="width: 100px; height: 40px; margin-top: 20px;" type="text"/> </div> </div> <div style="display: flex; justify-content: space-around; align-items: flex-start; margin-top: 20px;"> <div style="text-align: center;">  <input style="width: 100px; height: 40px; margin-top: 20px;" type="text"/> </div> <div style="text-align: center;">  <input style="width: 100px; height: 40px; margin-top: 20px;" type="text"/> </div> </div>	

أكتب الأعداد الناقصة على لوحة الأعداد لإكمال النمط.

1	2	3	4	5	6	7	8	9	10
11	12	—	—	—	—	—	—	19	20
21	22	23	24	25	26	27	28	29	30

1	2	—	4	5	6	—	—	9	
11	12	13	14	15	16	17	18	19	
21	—	23	24	25	26	27	28	29	30
31	32	33	34	—	36	37	38	39	
41	42	43	44	45	—	47	48	49	

1	2	3	4	5	6	7	8	9	10
11	12	13	14	15	—	—	—	19	20
21	22	23	24	25	26	27	28	29	30
31	32	33	34	35	36	37	38	39	40
41	42	—	—	—	46	47	48	49	50

لوحة المئة

