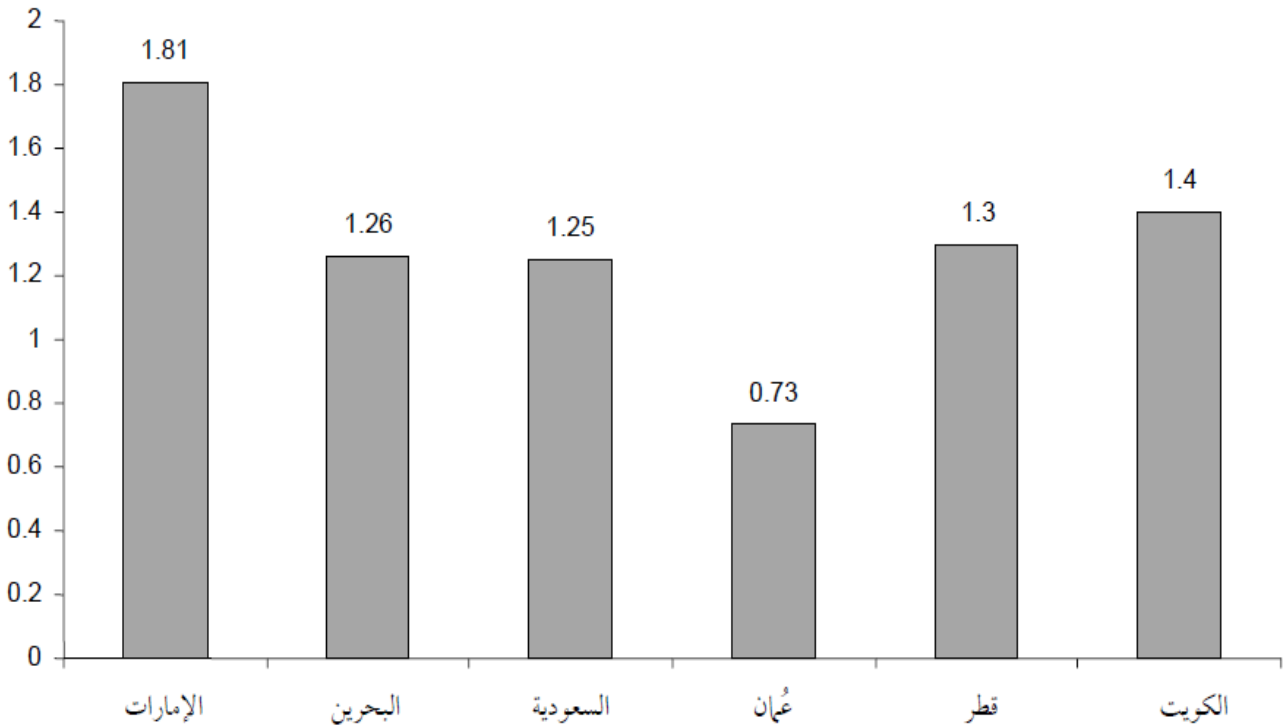




اختر الإجابة الصحيحة

يهدف مؤشر توليد النفايات الصلبة إلى قياس التأثير السلبي للنشاط الصناعي على النظم " البيئية والموارد الطبيعية المختلفة، مُمثلاً بكمية النفايات الصناعية الصلبة في ضوء العبارة السابقة، وبيانات الرسم البياني الآتي، استنتج النتائج السلبية المترتبة على زيادة مشروعات البناء والإعمار في دولة الإمارات العربية المتحدة

توليد النفايات الصلبة في دول مجلس التعاون لدول الخليج العربية (كجم/ فرد/ يوم)



قلّة الصناعات الاستهلاكية

زيادة كميات النفايات المتولدة

انخفاض مُعدّل النُموّ الاقتصاديّ

زيادةُ أجورِ العاملين في المصانع

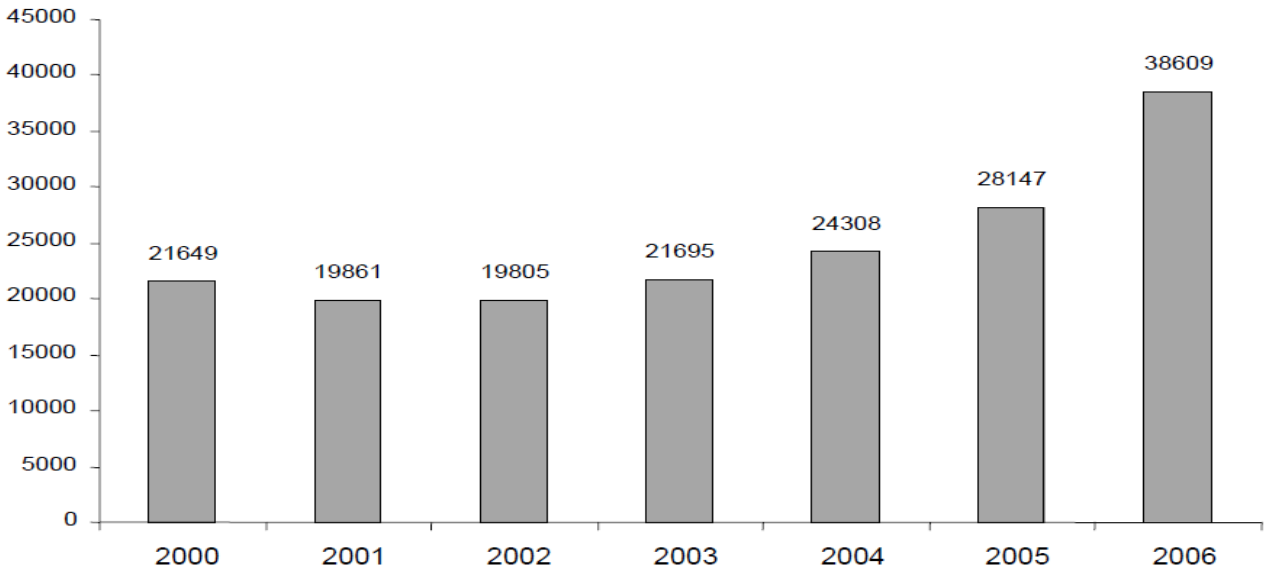
سؤال 2

اختر الإجابة الصحيحة

يعدُّ مُؤشِّرُ نصيب الفرد من الناتج المحلي الإجمالي أحد المؤشّرات المهمّة التي تستخدم " لقياس مُستوى الاقتصاد، وتقييم الأداء ومُقارنته ما بين الدُول المُختلفة من خلال فهمك للعبارة السابقة، الشّكلُ البيانيّ الآتي يوضّح ارتفاع مُؤشِّر نصيب الفرد من الناتج المحلي الإجمالي

وضّح ما الدّلالة العامّة التي تُشيرُ إلى ارتفاع مُؤشِّر نصيب الفرد الإماراتي من الناتج المحلي الإجمالي .

الناتج المحلي الإجمالي للفرد خلال الفترة 2000 - 2006 (بالدولار الأمريكي)



انخفاض استهلاك الفرد من الطاقة

قلّة أعداد السّكان الموجودين في الدّولة

اعتماد الاقتصاد على الصّناعات الثّقيلة

متانة وقوّة الاقتصاد الإماراتي

رؤية المدرسة: شخصية قيادية مبدعة لجيل واع يسمو لتطوير ذاته ووطنه وأمتة
رسالة المدرسة: مدرسة براعم العين الخاصة تهدف إلى تعليم متميز لإعداد جيل واع يستفيد من قدراته ويواجه تحديات العصر طبقاً للمنظومة التربوية

سؤال 4

اختر الإجابة الصحيحة

إنَّ واجبَ الوفاءِ والعرفانِ لوطنٍ وقرَّ الحياةَ الكريمةَ والسَّعيدةَ لكلِّ أبنائِهِ والمُقيمينَ على أرضِهِ يتطلَّبُ مِنَّا جميعًا أنْ نجعلَهُ دوماً في أعماقِ قُلُوبِنَا
صاحبُ السُّمو الشَّيخُ مُحَمَّدُ بْنُ زَايِدٍ آلِ نَهْيَانَ - حفظَهُ اللهُ



-ما القيمة النبيلة التي دلَّت عليها المقولة السابقة؟

التعاون والكرم

التشاور مع الآخرين

الحب والإخلاص

التفاوض والمقابلة

رؤية المدرسة: شخصية قيادية مبدعة لجيل واع يسمو لتطوير ذاته ووطنه وأمته
رسالة المدرسة: مدرسة براعم العين الخاصة تهدف إلى تعليم متميز لإعداد جيل واع يستفيد من قدراته ويواجه تحديات العصر طبقاً للمنظومة التربوية



تطوع بمهارة أو بكفاءة أو بعلم. تطوع بساعة أو بيوم أو بأسبوع ...
..... تطوع بشيء من طاقتك ... تطوع بنصيحة أو مشورة تطوع
وأحدث فرقاً في مجتمعك

بيئتنا التي نعيش فيها تحتاج منا الكثير من الخير أن ننظف شواطئها
"ونعمر صحاريها، ونزعى أشجارها، ونرفق بمن يعيش فيها

الأم تحثنا كلمات صاحب السمو الشيخ محمد بن راشد آل مكتوم - رعاه الله -؟

زراعة الورود في الحدائق العامة

زراعة أشجار النخيل في الصحراء

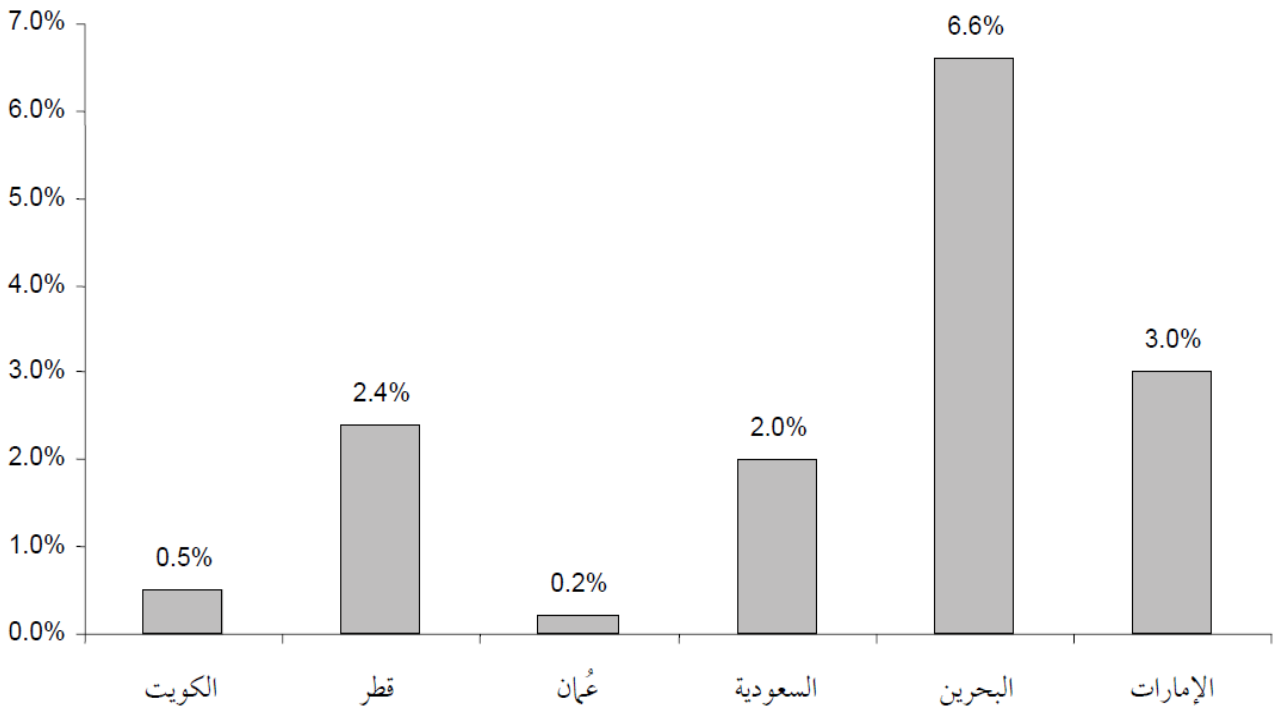
الذهاب إلى تنظيف الشاطئ

غرس ثقافة العمل التطوعي

سؤال 6

استعن بالأعمدة البيانية الآتية، ثم رتب تصاعدياً دول الخليج العربي حسب نسبة مساحة الأراضي الصالحة للزراعة الدائمة:

نسبة مساحة الأراضي الصالحة للزراعة بالمحاصيل الدائمة إلى مساحة اليابسة
في دول مجلس التعاون لدول الخليج العربية لعام 2006



دولة الكويت--المملكة العربية السعودية--سلطنة عُمان-- دولة قطر-- دولة الإمارات العربية المتحدة-- مملكة البحرين

سلطنة عُمان--دولة الكويت--المملكة العربية السعودية--دولة قطر-- دولة الإمارات العربية المتحدة-- مملكة البحرين

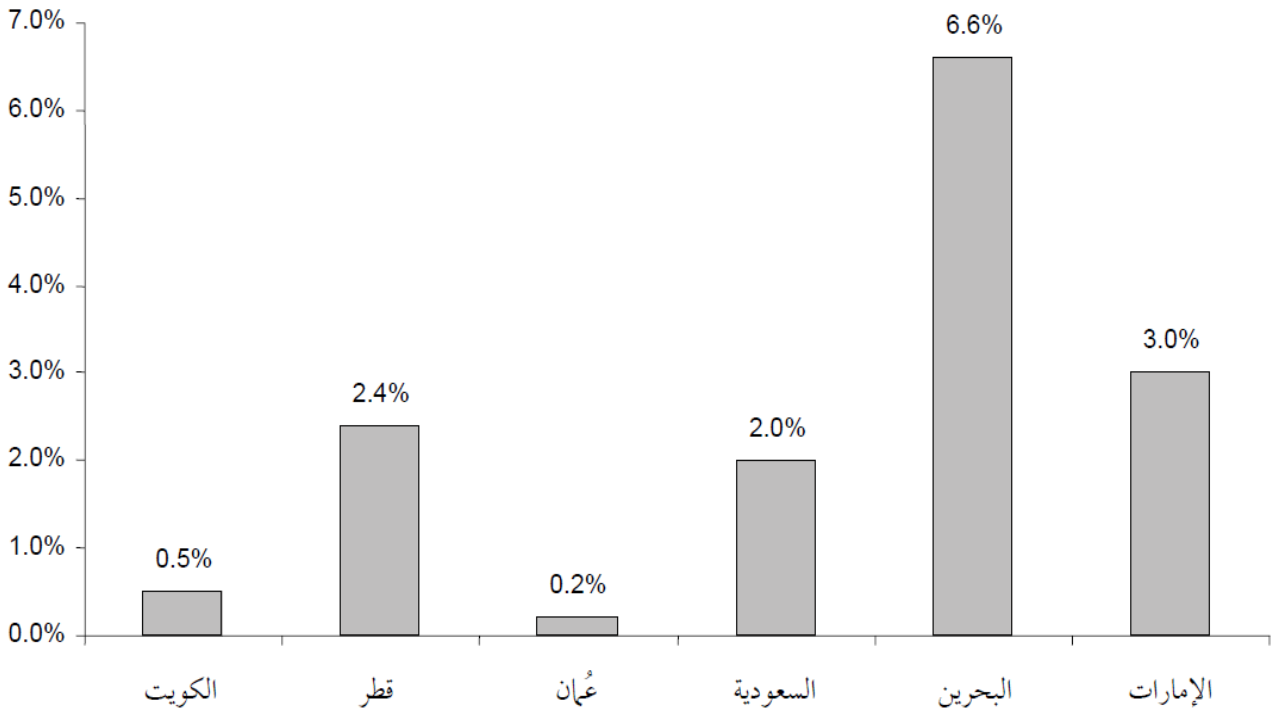
مملكة البحرين--دولة الإمارات العربية المتحدة--دولة قطر--سلطنة عُمان--المملكة العربية السعودية--دولة الكويت

دولة الإمارات العربية المتحدة--مملكة البحرين--دولة الكويت--سلطنة عُمان--المملكة العربية السعودية--دولة قطر

اختر الإجابة الصحيحة

استعن بالأعمدة البيانية الآتية ، ثم رتب تنازلياً دول الخليج العربي حسب نسبة مساحة الأراضي الصالحة للزراعة الدائمة

نسبة مساحة الأراضي الصالحة للزراعة بالمحاصيل الدائمة إلى مساحة اليابسة
في دول مجلس التعاون لدول الخليج العربية لعام 2006



مملكة البحرين--دولة الإمارات العربية المتحدة--دولة قطر--سلطنة عُمان--المملكة العربية السعودية--دولة الكويت

مملكة البحرين--دولة الإمارات العربية المتحدة--دولة قطر -- المملكة العربية السعودية -- دولة الكويت -- سلطنة عُمان

دولة الإمارات العربية المتحدة--مملكة البحرين--دولة الكويت--سلطنة عُمان--المملكة العربية السعودية--دولة قطر

دولة الكويت--المملكة العربية السعودية--سلطنة عُمان--دولة قطر - دولة الإمارات العربية المتحدة--مملكة البحرين

سؤال 8

اختر الإجابة الصحيحة

تشير البيانات المتاحة والقليلة عن البطالة في دولة الإمارات إلى ارتفاع معدلها من " 1.8 % خلال الفترة (1995 – 1999) إلى 2.3 % خلال الفترة (2000 – 2003) ومع ذلك، يبقى هذا المعدل منخفضاً مقارنةً بمعدل البطالة على الصعيد العالمي البالغ 6.3 % وفي الدول المتقدمة الذي يتخطى 7% .

ما الفرق بين معدل البطالة العالمي ومعدل البطالة في دولة الإمارات العربية المتحدة في الفترة (2000 – 2003)؟

☐

3% .

☐

5% .

☐

8% .

☐

9% .

سؤال 9

اختر الإجابة الصحيحة

نجحت دولة الإمارات العربية المتحدة في زيادة المساحات الخضراء المزروعة بالنخيل " وأنواع أخرى من النباتات داخل المدن وخارجها لخلق حزام أخضر فما الدور الذي يقوم به "الحزام الأخضر"؟



رؤية المدرسة: شخصية قيادية مبدعة لجيل واع يسمو لتطوير ذاته ووطنه وأمتة
رسالة المدرسة: مدرسة براعم العين الخاصة تهدف إلى تعليم متميز لإعداد جيل واع يستفيد من قدراته ويواجه تحديات العصر طبقاً للمنظومة التربوية

زيادة عدد أشجار النّخيل، والفاكهة والخضراوات في المُدن

حماية المنشآت في المُدن من تآكل واجهات المباني والمنشآت الخارجية

ارتفاع مؤشر النسبة المئوية لمجموع السّكان المُقيمين في المناطق الساحليّة

نقص مؤشر السحب السنوي من المياه الجوفيّة والسّطحيّة

سؤال 10

اقرأ، ثمّ أجب

تقيس نسبة الأطفال الذين يلتحقون بالدراسة في الصّفّ الأوّل ويصلون إلى الصّفّ الخامس نوعيّة التعليم، علاوة على ظاهرة التسرّب في مرحلة التعليم الابتدائيّ، كما تعدّ " مُؤشراً على التّقدّم المحرّر نحو تحقيق تعميم التعليم الابتدائيّ

فعلام يدلّ ارتفاع نسبة الأطفال الذين يصلون إلى الصّفّ الخامس من 80 % في عام 1990 إلى 96.8 % في عام 2005 في دولة الإمارات العربيّة المتّحدة؟

الجُهود المبذولة لدولة الإمارات العربيّة المتّحدة نحو تحقيق تعميم التعليم الابتدائيّ

الجُهود المبذولة لدولة الإمارات العربيّة المتّحدة نحو رفع كفاءة إنتاج الطاقة واستهلاكها

الجُهود المبذولة لدولة الإمارات العربيّة المتّحدة نحو زيادة معدّل القراءة والكتابة بين البالغين

الجُهود المبذولة لدولة الإمارات العربيّة المتّحدة نحو تحقيق تعميم التعليم الثانوي

سؤال 11

اختر الإجابة الصحيحة

شهد استهلاك الفرد من الطاقة في دولة الإمارات ارتفاعاً ملحوظاً خلال الفترة 2000 - 2006؛ إذ ارتفع من 64 برميلاً مكافئاً نفطاً عام 2000 إلى 71.3 برميلٍ مكافئٍ نفطٍ عام 2006 ، ويُعزى الارتفاع في استخدام الطاقة في دولة الإمارات إلى اعتماد اقتصادها المحلي على صناعة كثيفة لاستهلاك للطاقة

من خلال فهمك للفقرة السابقة، استنتج النتيجة التي ترتبت على اعتماد اقتصاد دولة الإمارات العربية المتحدة المحلي على صناعات كثيفة الاستهلاك للطاقة

تراجع معدلات النمو الاقتصادي

انخفاض أسعار الصناعات النفطية

زيادة المخزون العام للطاقة المستخدمة

ارتفاع استهلاك الفرد من الطاقة

سؤال 12

دون الإجابة الصحيحة من خلال الصورة

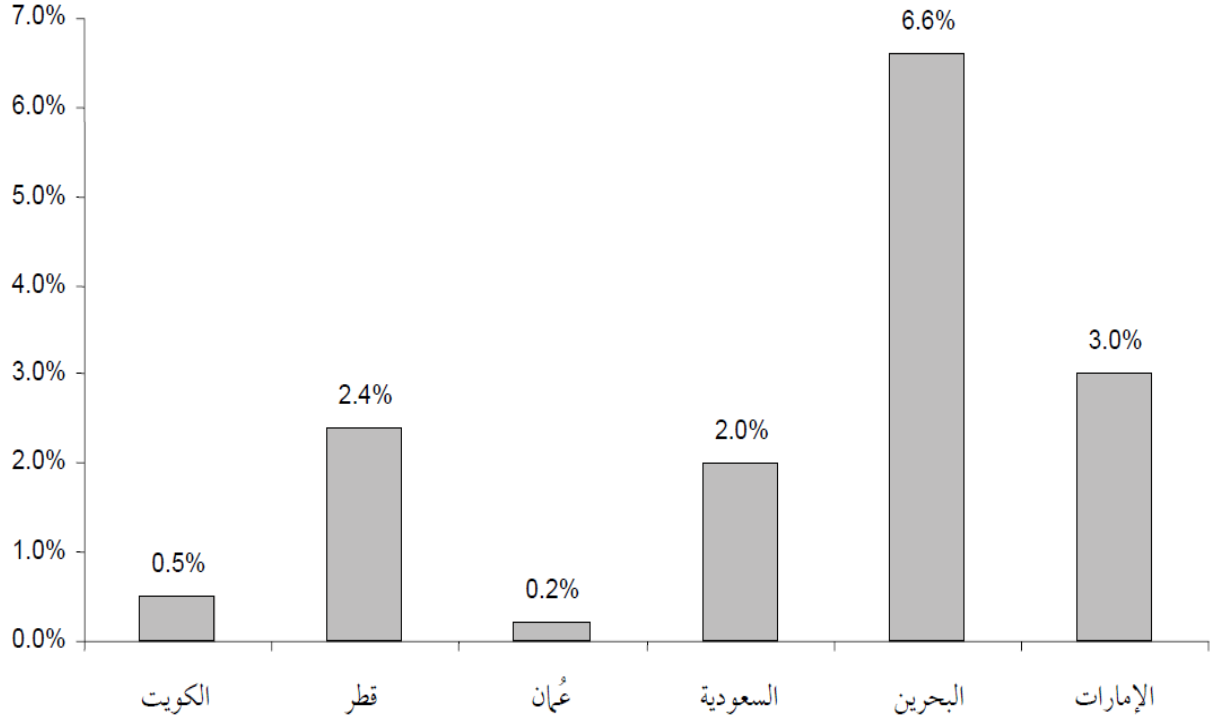
تتراكم لديك أسبوعياً كميات من مخلفات الطعام في المنزل، فما الطريقة المثلى للتعامل مع هذه الكميات بما يحقق الحفاظ على البيئة؟



روية المدرسة: شخصية قيادية مبدعة لجيل واع يسمو لتطوير ذاته ووطنه وأمتة
رسالة المدرسة: مدرسة براعم العين الخاصة تهدف إلى تعليم متميز لإعداد جيل واع يستفيد من قدراته ويواجه تحديات العصر طبقاً للمنظومة التربوية

أمعن النظر إلى الأعمدة البيانية الآتية، ثم استخرج حقيقة واحدة

نسبة مساحة الأراضي الصالحة للزراعة بالمحاصيل الدائمة إلى مساحة اليابسة
في دول مجلس التعاون لدول الخليج العربية لعام 2006



بلغت حصة الأراضي الصالحة للزراعة في المملكة البحرينية أقل من نصف إجمالي مساحة الدولة لعام 2006م

بلغت حصة الأراضي الصالحة للزراعة في دولة الإمارات العربية المتحدة 3% من إجمالي مساحة الدولة لعام 2006م

بلغت حصة الأراضي الصالحة للزراعة في المملكة العربية السعودية 4.2% من إجمالي مساحة الدولة لعام 2006م

بلغت حصة الأراضي الصالحة للزراعة في سلطنة عُمان أكثر من نصف إجمالي مساحة الدولة لعام 2006م

سؤال 14

اقرأ، ثم أجب

بحضور معالي الدكتور راشد أحمد بن فهد وزير البيئة والمياه (سابقاً)، انطلق الاجتماع الـ 27 للأطراف لبروتوكول مونتريال الخاص بالمواد المستنفذة لطبقة الأوزون الذي استضافته دولة الإمارات العربية المتحدة، خلال الفترة من 1 إلى 5 نوفمبر 2015 في فندق كونراد دبي، حيث شارك في الاجتماع 197 دولة، مُتمثلة بأكثر من 50 وزيراً وشخصية دولية يمثلون قطاعات البيئة والعمل والاقتصاد والصناعة ورؤساء عدد من المنظمات الدولية إضافة إلى 500 شخصية رفيعة المستوى يمثلون المنظمات التابعة للأمم المتحدة والقطاع الخاص والجامعات.

من وجهة نظرك، ما السبب الذي دفع دولة الإمارات العربية المتحدة إلى استضافة الاجتماع الـ 27 للأطراف لبروتوكول مونتريال الخاص بالمواد المستنفذة لطبقة الأوزون من 1 إلى 5 نوفمبر 2015؟

تطوير قطاع الاتصالات

إنشاء مصانع للأدوات الثقيلة

المحافظة على طبقة الأوزون

إنشاء ناطحات سحاب

سؤال 15

اقرأ، ثم اختر الإجابتين الصحيحتين

إنَّ أهمَّ المعوقات التي تحول دون الاستغلال الأمثل للثروة السمكية في دولة الإمارات وتؤدي إلى انخفاض معدلات الإنتاج قياساً بالإمكانيات والمخزون المتوافر تتمثل بضعف استخدام التقنيات المتطورة في الصيد، وتلوث المياه وضعف الاستثمار الخاص، وصعوبة الظروف الاقتصادية والاجتماعية التي يعيشها صيادو الأسماك، بالإضافة إلى نقص العمالة المتخصصة، ونقص المساحات المشتركة للموارد السمكية.

استتبط المعوقات التي تحول دون الاستغلال الأمثل للثروة السمكية في دولة الإمارات العربية المتحدة.

صعوبة المناخ وارتفاع درجات الحرارة في الجو

□
الاهتمام بالصناعات القائمة على إنتاج اللحوم

□
للموارد السمكية نقص المساحات المشتركة

□
صعوبة الظروف الاقتصادية والمعيشية للصيادين

سؤال 16

اختر الإجابة الصحيحة

تعمل الاستثمارات على تقوية التراكم الاقتصادي و الاقتصاد الوطني من خلال تهيئة

" المناخ المناسب والمُساند للاستثمار

في ضوء العبارة السابقة، اسحب الإجابة الأدق ، والتي توضح كيف تُشجّع دولة الإمارات العربية المتحدة على الاستثمار

دعم المشاريع الصغيرة

تنظيم الرحلات الترفيهية

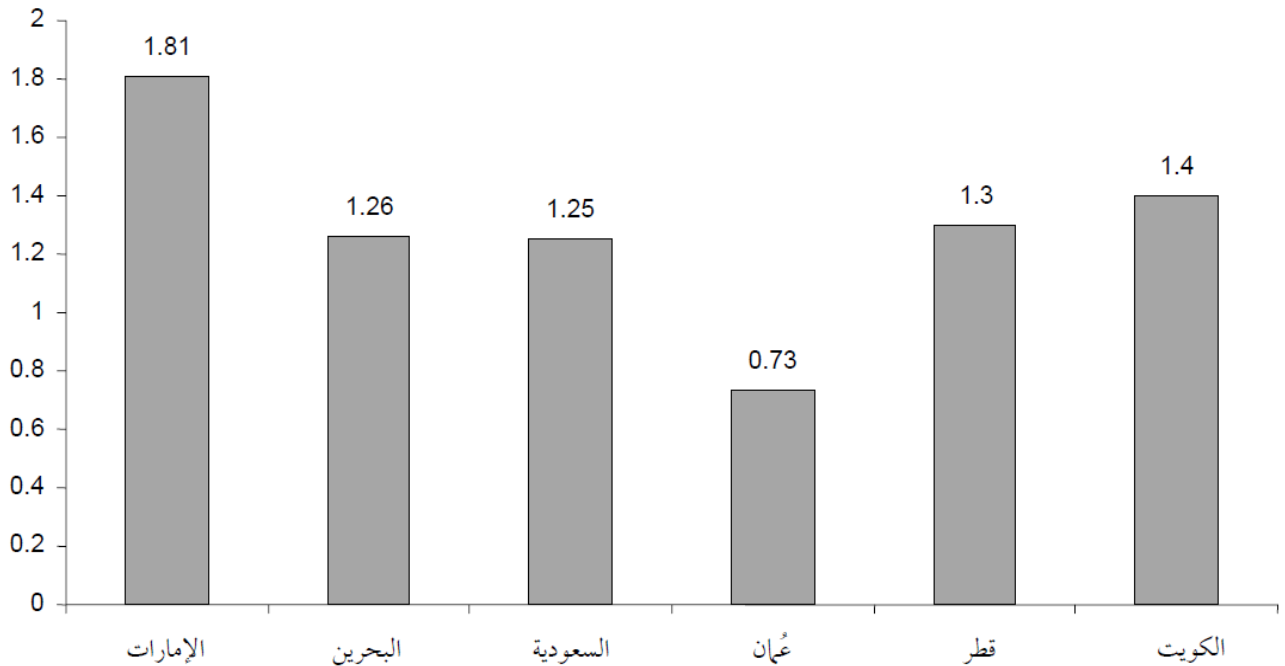
زيارة المواقع الأثرية القديمة

تنظيم المبادرات المجتمعية

سؤال 17

انظر إلى الرسم البياني، ثم اختر حقيقة واحدة

توليد النفايات الصلبة في دول مجلس التعاون لدول الخليج العربية (كجم/ فرد/ يوم)



رؤية المدرسة: شخصية قيادية مدعة لجيل واع يسمو لتطوير ذاته ووطنه وأمتة
رسالة المدرسة: مدرسة براعم العین الخاصة تهدف إلى تعليم متميز لإعداد جيل واع يستفيد من قدراته ويواجه تحديات العصر طبقاً للمنظومة التربوية

بلغ مُعدَّل توليد النفايات الصُّلبة 1.4 كيلوجرامٍ للفرد يومياً في المملكة العربيَّة السُّعُوديَّة.

بلغ مُعدَّل توليد النفايات الصُّلبة 1.25 كيلوجرامٍ للفرد يومياً في سلطنة عُمان .

بلغ مُعدَّل توليد النفايات الصُّلبة 1.81 كيلوجرامٍ للفرد يومياً في دولة الإمارات العربيَّة المُتَّحدة.

الكويتُ في مُقدِّمة الدُّول العربيَّة والخليجيَّة في مُعدَّل توليد النفايات الصُّلبة لكلِّ فردٍ في اليوم .

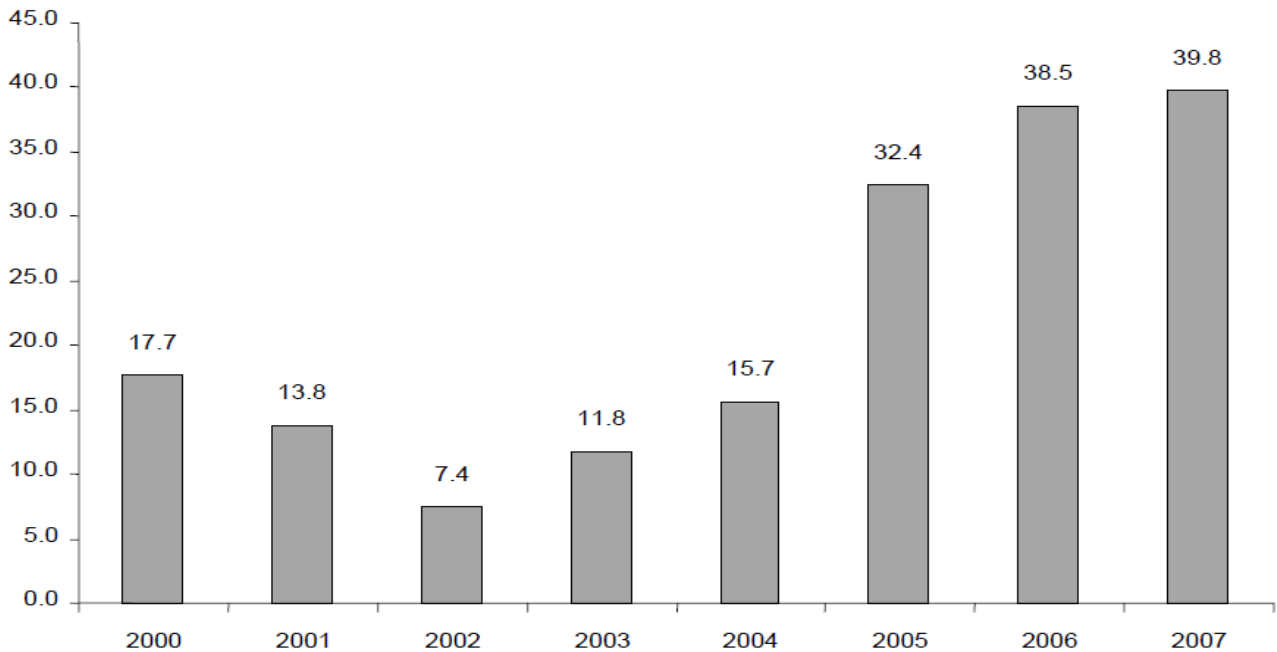
سؤال 18

اختر الإجابة الصَّحيحة

يُبيِّن مُؤشِّرُ الميزان التِّجاريِّ للسِّلَع والخدمات مدى انفتاح الاقتصاد أو درجة تعرُّضه "للخطر".

بناءً على المقولة السابقة و الرَّسَم البيانيِّ الآتي، وضح ما الَّذي يشيرُ إليه الميزانُ التِّجاريُّ لدولة الإمارات العربيَّة المُتَّحدة؟

الميزان التجاري للسِّلَع والخدمات خلال الفترة 2000 – 2007 (مليار دولار)



رؤية المدرسة: شخصية قيادية مبدعة لجيل واعٍ يسمو لتطوير ذاته ووطنه وأمته
رسالة المدرسة: مدرسة براعم العِين الخاصة تهدف إلى تعليم متميز لإعداد جيل واعٍ يستفيد من قدراته ويواجه تحديات العصر طبقاً للمنظومة التربوية

ثبات قيمة الميزان التجاري للسلع والخدمات طيلة الفترة 2000-2007

انخفاض قيمة الميزان التجاري للسلع والخدمات طيلة الفترة 2000-2007

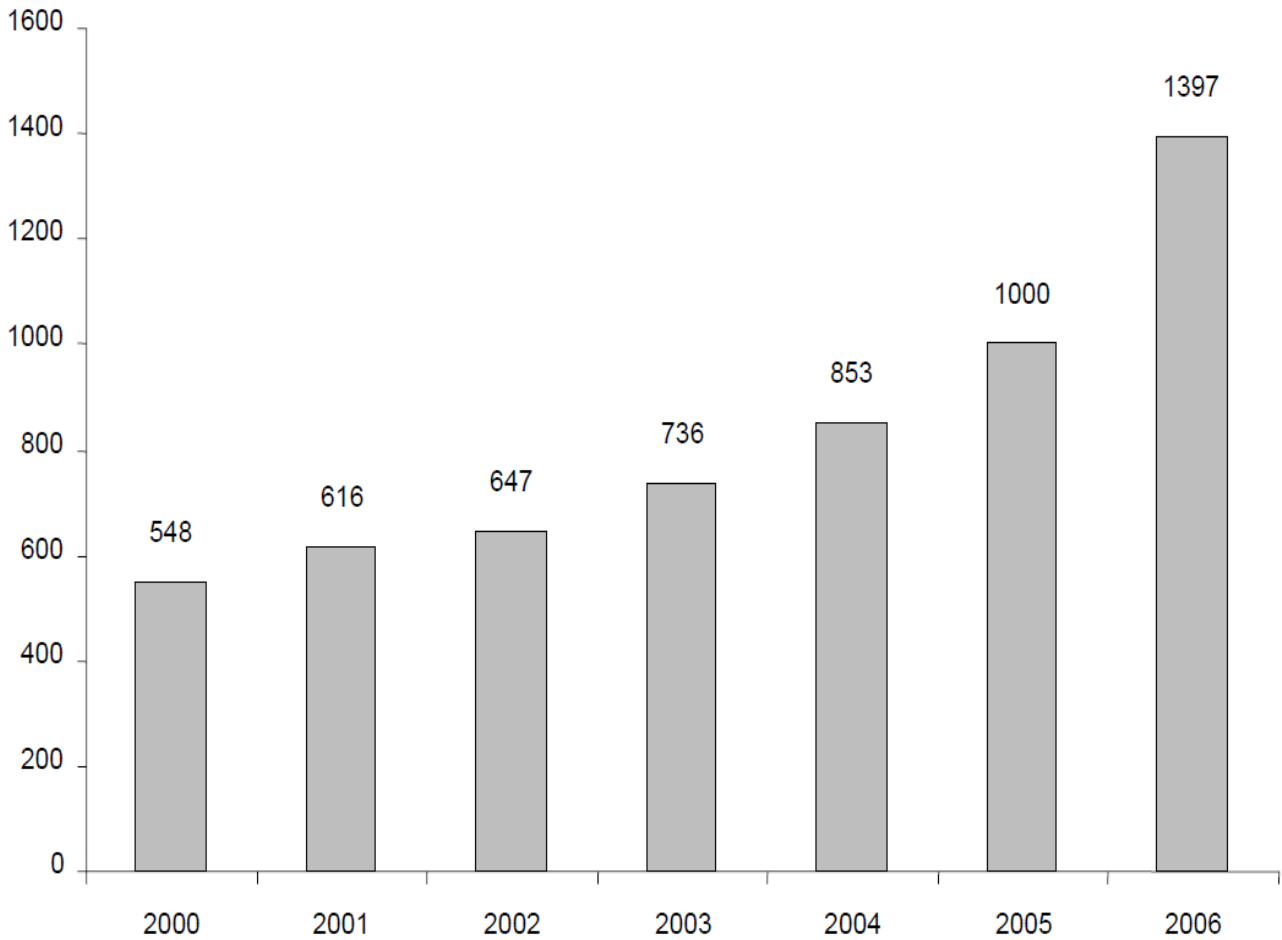
انخفاض نسبة مساهمة الصادرات والواردات في الناتج المحلي الإجمالي

تحقيق فائض في الميزان التجاري للسلع والخدمات طيلة الفترة 2000-2007

سؤال 19

استعن بالأعمدة البيانية الآتية، ثم استنتج حقيقة واحدة

عدد مستخدمي الهاتف النقال لكل 1000 من السكان خلال الفترة 2000 - 2006



معدل انتشار الهاتف النقال في دولة الإمارات العربية المتحدة قد تخطى حاجز

الـ 800 خط في عام 2000م

رؤية المدرسة: شخصية قيادية مبدعة لجيل واع يسمو لتطوير ذاته ووطنه وأمتة
رسالة المدرسة: مدرسة براعم العيون الخاصة تهدف إلى تعليم متميز لإعداد جيل واع يستفيد من قدراته ويواجه تحديات العصر طبقاً للمنظومة التربوية

مُعدّل انتشار الهاتف النقال في دولة الإمارات العربية المتحدة قد تخطّى حاجز الـ 1000 خطّ في عام 2006م

مُعدّل انتشار الهاتف النقال في دولة الإمارات العربية المتحدة لم يتخطّ حاجز الـ 700 خطّ في عام 2005م

مُعدّل انتشار الهاتف النقال في دولة الإمارات العربية المتحدة لم يتخطّ حاجز الـ 300 خطّ في عام 2001م

سؤال 20

استعن بالشكل الموجود أمامك، لتربط بين المحميات الموجودة في دولة الإمارات العربية المتحدة والإمارة الموجودة فيها، ثمّ أجب:



محميّة الوثبة تقع في إمارة

محميّة رأس الخور تقع في إمارة

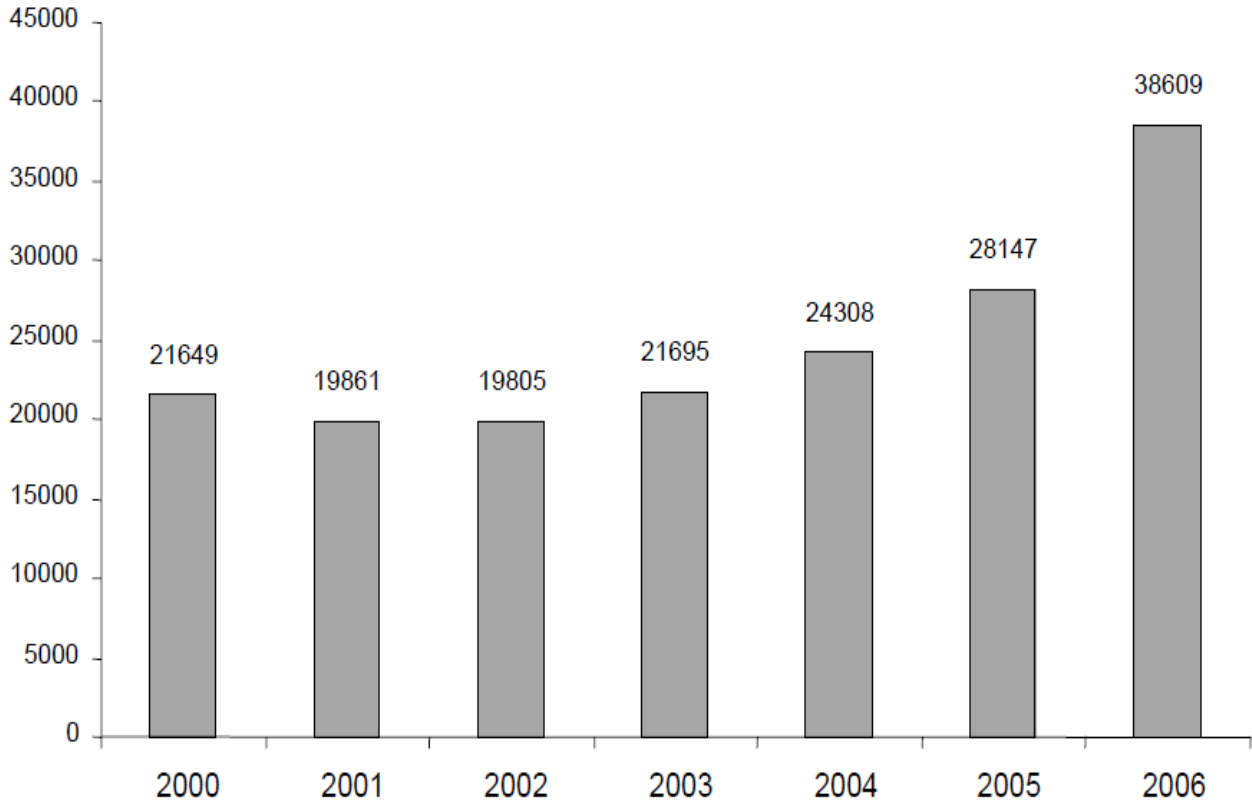
محميّة المها العربي تقع في إمارة

محميّة وادي وريعة تقع في إمارة

سؤال 21

أمعن النظر في الرسم البياني الآتي، ثم استنتج حقيقة واحدة

الناتج المحلي الإجمالي للفرد خلال الفترة 2000 - 2006 (بالدولار الأمريكي)



بلغ نصيب الفرد من الناتج المحلي أقل قيمة عام 2006م

بلغ نصيب الفرد من الناتج المحلي أعلى قيمة عام 2006م

انخفاض نصيب الفرد من الناتج المحلي الإجمالي عام 2005م

بلغ نصيب الفرد من الناتج المحلي أعلى قيمة عام 2002م

سؤال 22

دون الإجابة الصحيحة في الفراغ

القيمة السوقية لكل السلع النهائية والخدمات المُعترف بها محلياً، والتي يتم إنتاجها في

"دولة ما خلال فترة زمنية مُحددة

ما المفهوم الذي تُشير إليه الفقرة السابقة.....

سؤال 3 2

اجب عن السؤال التالي

ما السبب في عدم وجود ظاهرة الفقر في دولة الإمارات العربية المتحدة ؟

سؤال 24

اختر الاجابة الصحيحة

إنَّ أهمَّ المُعَوَّقاتِ الَّتِي تحوّلُ دونَ الاستغلالِ الأمثلِ للثروة السَّمَكِيَّةِ في دولة الإماراتِ " وتؤدي إلى انخفاضِ مُعدَّلاتِ الإنتاجِ قياساً بالإمكانياتِ والمخزونِ المتوافرِ تتمثلُ بضعفِ استخدامِ التَّقنياتِ المُتطوِّرة في الصَّيدِ، وتلوّثِ المياهِ وضعفِ الاستثمارِ الخاصِّ، وصُعوبةِ الظُّروفِ الاقتصاديَّةِ والاجتماعيَّةِ الَّتِي يعيشُها صيَّادو الأسماكِ، بالإضافةِ إلى نقصِ العمالةِ المُتخصِّصةِ، ونقصِ المُسوحاتِ المُشتركةِ للمواردِ السَّمَكِيَّةِ

من خلال الصورة التي امامك استنتب ابرز المعوقات التي تحوّل دون الاستغلال الأمثل للثروة السمكية في دولة الإمارات العربية المتحدة .



ارتفاع حركة الأمواج
ضعف استخدام التقنيات المتطورة
زيادة حركتي المدّ والجزر
انخفاض منسوب المياه

روية المدرسة: شخصية قيادية مبدعة لجيل واع يسمو لتطوير ذاته ووطنه وأمتة
رسالة المدرسة: مدرسة براعم العين الخاصة تهدف إلى تعليم متميز لإعداد جيل واع يستفيد من قدراته ويواجه تحديات العصر طبقاً للمنظومة التربوية

سؤال 25

اختر الإجابة الصحيحة

ارتفع مؤشر نسبة الأراضي المغطاة بالغابات من مساحة الأراضي في دولة الإمارات "العربية المتحدة" من 2.9 % في عام 1990 إلى 3.7 % في عام 2005. علام يدل ذلك؟

زيادة المساحات الخضراء المزروعة بالنخيل والفاكهة داخل المدن الداخلية

تحتل دولة الإمارات العربية المتحدة الصدارة في مجال علوم الفضاء

تحتل دولة الإمارات العربية المتحدة الصدارة في مجال الاهتمام بالبيئة

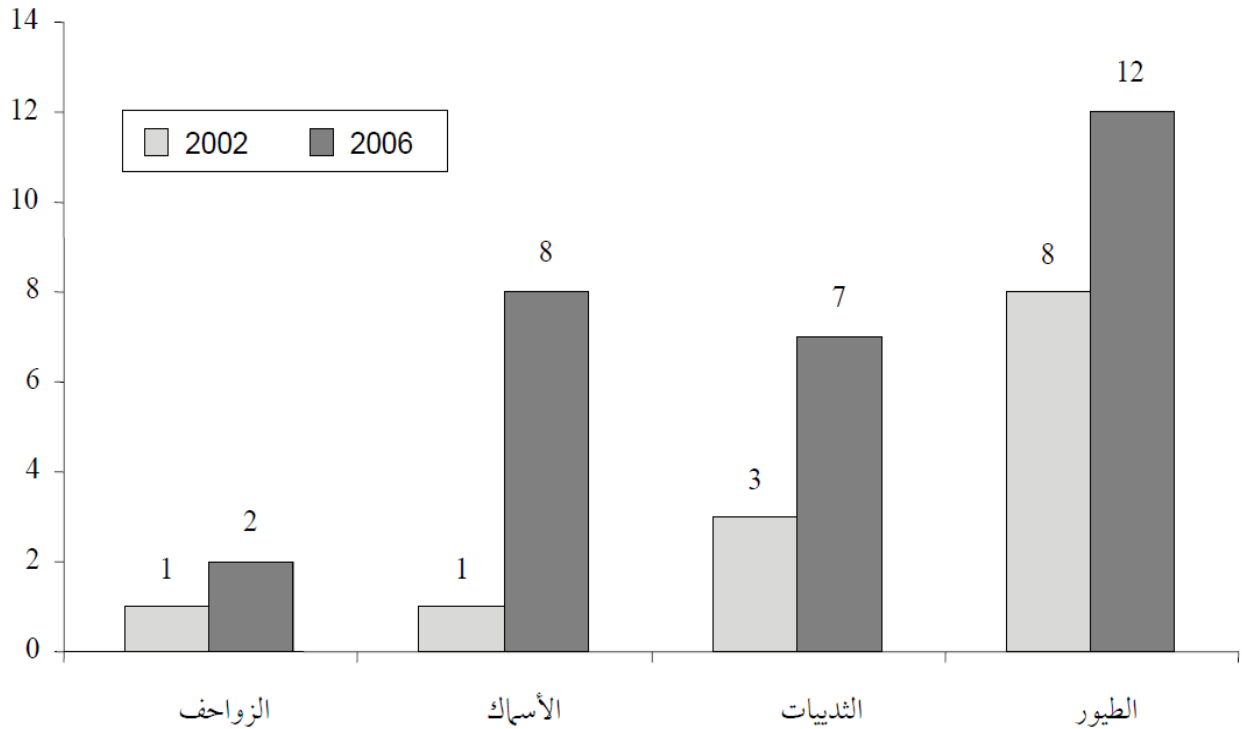
خلق حزام أخضر يحمي المنشآت في المدن التي توجد بها المصانع الثقيلة

سؤال 26

استعن بالأعمدة البيانية الآتية، ثم استنتج حقيقة واحدة

عدد أنواع الكائنات الحية المعرضة لخطر الانقراض والمسجلة

في دولة الإمارات لعامي 2002 و2006



رؤية المدرسة: شخصية قيادية مبدعة لجيل واع يسمو لتطوير ذاته ووطنه وأمتة
رسالة المدرسة: مدرسة براعم العين الخاصة تهدف إلى تعليم متميز لإعداد جيل واع يستفيد من قدراته ويواجه تحديات العصر طبقاً للمنظومة التربوية

بلغ عدد فصائل الزواحف المهددة بالانقراض 1 نوع عام 2006م

بلغ عدد فصائل الثدييات المهددة بالانقراض 7 أنواع عام 2002م

بلغ عدد فصائل الطيور المهددة بالانقراض 12 نوعاً عام 2006م

بلغ عدد فصائل الأسماك المهددة بالانقراض 8 أنواع عام 2002م

سؤال 27

اختر الإجابة الصحيحة

ترتبط المؤشرات البيئية بانبعاث الغازات، ومنها انبعاث غاز ثاني أكسيد الكربون، وهو الغاز المنبعث من استهلاك أنواع الوقود الصلبة والسائلة والغازية وإنتاج الإسمنت، وهو من الغازات الضارة بالبيئة والصحة العامة

ما النتائج المترتبة على زيادة انبعاثات غاز ثاني أكسيد الكربون في الجو؟

ضعف القدرة الإنتاجية للأفراد أصحاب المؤسسات الخاصة

ظهور ظاهرة ارتفاع تدرجي في منسوب مياه سطح البحر

الاحتباس الحراري التي تسبب التغير المناخي ظهور ظاهرة

ضعف الاستثمار الخاص بالمؤسسات الحكومية

سؤال 28

اقرأ، ثم أجب

تشير البيانات المتوافرة في دولة الإمارات العربية المتحدة عن معدل وفيات الأطفال دون الخامسة إلى تحسن هذا المؤشر خلال الفترة 1990 - 2005م؛ حيث انخفض المعدل من 14 حالة وفاة لكل ألف مولود حي في عام 1990م إلى 9 حالات في عام 2005م

ما الدلالة العامة التي تشير إليها الفقرة السابقة؟

ارتفاع معدل وفيات الأطفال في دولة الإمارات العربية المتحدة

ارتفاع مُعدّل وفيات الأطفال في دولة الإمارات العربيّة المتّحدة خلال الفترة 1990 – 2005م.

ثبات مُعدّل وفيات الأطفال في دولة الإمارات العربيّة المتّحدة خلال الفترة 1990 – 2005م.

انخفاض مُعدّل وفيات الأطفال في دولة الإمارات العربيّة المتّحدة.

سؤال 29

اختر الإجابة الصحيحة:

إنّ تحسّن كفاءة استخدام الطاقة في دولة الإمارات العربيّة المتّحدة، شأنها شأن دول مجلس التعاون لدول الخليج العربيّ الأخرى، ربّما يعودُ إلى نُموّ الناتج المحليّ الإجماليّ فيها، وليس "إلى انخفاض الاستخدام الفرديّ للطاقة".

في ضوء العبارة السابقة، استنتج السبب في تحسّن كفاءة استخدام الطاقة في دولة الإمارات العربيّة المتّحدة.

ارتفاع مُعدّل التّبادل التجاريّ.

نُموّ الناتج المحليّ الإجماليّ.

انخفاض الاستخدام الفرديّ للطاقة.

ازدياد نسبة المصروفات العامّة.

سؤال 30

اقرأ، ثمّ أجب:

النّسبة المئويّة لمجموع السّكان المقيمين في المناطق الساحليّة هو المؤشّر الذي يشير إلى نسبة السّكان الذين يعيشون على مدى 100 كيلومترٍ من الساحل. كما يقيس هذا المؤشّر "مدى الضّغط الواقع على الموارد الساحليّة، خاصّة الضّغط الناجم عن الأنشطة البريّة".

من خلال خريطة التّوزيع السّكانيّ في دولة الإمارات العربيّة المتّحدة، استنبط في أيّ المناطق تزداد نسبة تركّز سكّان دولة الإمارات العربيّة المتّحدة.

