

مدرسة القدس النموذجية

أوراق اثرائية لاختبار منتصف الفصل الدراسي الأول

الوحدة الأولى

مادة : الرياضيات

العام الأكاديمي : 2021 – 2022

الاسم :

الصف :

اختر الإجابة الصحيحة :


			السؤال رقم (1)
			ما قيم الرقمان 6 في العدد 236698؟
<input type="checkbox"/>	A	600 , 6	
<input type="checkbox"/>	B	6000 , 600	
<input type="checkbox"/>	C	60000 , 600	
<input type="checkbox"/>	D	60000 , 6	

			السؤال رقم (2)
			ما قيم الرقمان 8 في العدد 88000؟
<input type="checkbox"/>	A	80000 , 8	
<input type="checkbox"/>	B	80000 , 8000	
<input type="checkbox"/>	C	8000 , 8	
<input type="checkbox"/>	D	800 , 80	

			السؤال رقم (3)
<p>ما العلاقة بين قيم الرقمان 4 في العدد 14423؟</p> <p>A قيمة الرقم 4 الأول = 10 أضعاف قيمة الرقم 4 الثاني.</p> <p>B قيمة الرقم 4 الأول = 100 أضعاف قيمة الرقم 4 الثاني.</p> <p>C قيمة الرقم 4 الأول = 1000 أضعاف قيمة الرقم 4 الثاني.</p> <p>D قيمة الرقم 4 الأول = 10000 أضعاف قيمة الرقم 4 الثاني.</p>			

			السؤال رقم (4)
<p>ما العلاقة بين قيم الرقمان 8 في العدد 880000؟</p> <p>A قيمة الرقم 8 الأول = 10 أضعاف قيمة الرقم 8 الثاني.</p> <p>B قيمة الرقم 8 الأول = 100 أضعاف قيمة الرقم 8 الثاني.</p> <p>C قيمة الرقم 8 الأول = 1000 أضعاف قيمة الرقم 8 الثاني.</p> <p>D قيمة الرقم 8 الأول = 10000 أضعاف قيمة الرقم 8 الثاني.</p>			

			السؤال رقم (5)
--	--	--	----------------

قارن بوضع علامة < أو > أو = في .


22 873



22774

- ☐ A <
- ☐ B >
- ☐ C =
- ☐ D لا شيء

			السؤال رقم (6)
--	--	--	----------------

قارن بوضع علامة < أو > أو = في .

12 217



11 246

- ☐ A <
- ☐ B >
- ☐ C =
- ☐ D لا شيء

			السؤال رقم (7)
قرب العدد 1739 للمنزلة التي تحتها خط.			
<input type="checkbox"/> A	1000		
<input type="checkbox"/> B	2000		
<input type="checkbox"/> C	3000		
<input type="checkbox"/> D	4000		
			السؤال رقم (8)
قرب العدد 94286 للمنزلة التي تحتها خط.			
<input type="checkbox"/> A	94000		
<input type="checkbox"/> B	95000		
<input type="checkbox"/> C	96000		
<input type="checkbox"/> D	97000		

أجب على الأسئلة الآتية:

1- اكتب الصيغة التحليلية للعدد 24891

الإجابة:

2- اكتب العدد بالصيغة التحليلية 331872

الإجابة:

3- اكتب العدد بالصيغة التحليلية 92318

الإجابة:

4- اكتب العدد بالصيغة التحليلية 428737

الإجابة:

5- اكتب العدد بالصيغة التحليلية 294160

الإجابة:

6- اكتب العدد بالصيغة التحليلية 55426

الإجابة:

7- اكتب العدد بالصيغة التحليلية 284604

الإجابة:

8- اكتب العدد بالصيغة التحليلية 64672

الإجابة:

1- ما العلاقة بين قيم الرقمان 5 في العدد 55714

الإجابة:

2- ما العلاقة بين قيم الرقمان 2 في العدد 6228

الإجابة:

3- ما العلاقة بين قيم الرقمان 4 في العدد 440200


الإجابة:

4- ما العلاقة بين قيم الرقمان 7 في العدد 7700

الإجابة:

5- ما العلاقة بين قيم الرقمان 6 في العدد 660472

الإجابة:

قارن بوضع علامة < أو > أو = في .

94 283 ☐ 96 281

59 536 ☐ 59 536

52 789 ☐ 52 876

2 643 ☐ 2 643

218 701 ☐ 118 692

634 674 ☐ 635 647

28 124 ☐ 28 119

قَرِّبْ كُلَّ عَدَدٍ إِلَى مَنْزِلَةِ الرِّقْمِ الَّتِي تَحْتَهُ خَطٌّ.

277 292

.....الإجابة:

417 547

.....الإجابة:

453 280

.....الإجابة:

2 420

.....الإجابة:

75 254

.....الإجابة:

321 679

.....الإجابة: