



# الأعداد

المستوى الأول

طبعة 2022-1444





حضرة صاحب السمو الشيخ تميم بن حمد آل ثاني  
أمير دولة قطر

### النشيد الوطني

قَسَمًا بِمَنْ رَفَعَ السَّمَاءَ	قَسَمًا بِمَنْ نَشَرَ الضِّيَاءَ
قَطَرٌ سَتَبْقَى حُرَّةً	تَسْمُو بِرُوحِ الْأَوْفِيَاءِ
سِيرُوا عَلَى نَهْجِ الْأَلَى	وَعَلَى ضِيَاءِ الْأَنْبِيَاءِ
قَطَرٌ بِقَلْبِي سِيرَةٌ	عِزٌّ وَأَمْجَادُ الْإِبَاءِ
قَطَرُ الرَّجَالِ الْأَوَّلِينَ	حُمَاتُنَا يَوْمَ النِّدَاءِ
وَحُمَائِمُ يَوْمِ السَّلَامِ	جَوَائِحُ يَوْمِ الْفِدَاءِ

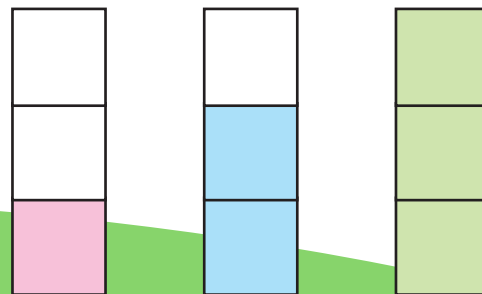



بِسْمِ اللَّهِ الرَّحْمَنِ الرَّحِيمِ

الأعداد  
3،2،1

أعد الأعداد 3،2،1  
وأسميها، وأميزها.

كم طائرة تحلق في السماء.  
أحوظ التمثيل المناسب.







ألون المربعات بحسب



عدد



أمثل عدد الأسماك

مستعملاً ●



أعد الأسماك





أتعرف الأشياء في  
الصورة.

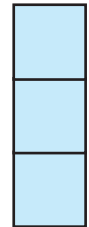


ألون المربعات بحسب عدد الأسماك في كل صورة

أتحقق من فهمي


2



1




3




4




5





6


أرسم أشكالاً بحسب عدد المربعات الملونة.




7




8





9




10

أرسم أشكالاً بحسب عدد المربعات الملونة.



11




12





13





14

أرسم أشكالاً بحسب عدد المربعات الملونة.



15





16




17





18





19





20





21





22





23





24




25

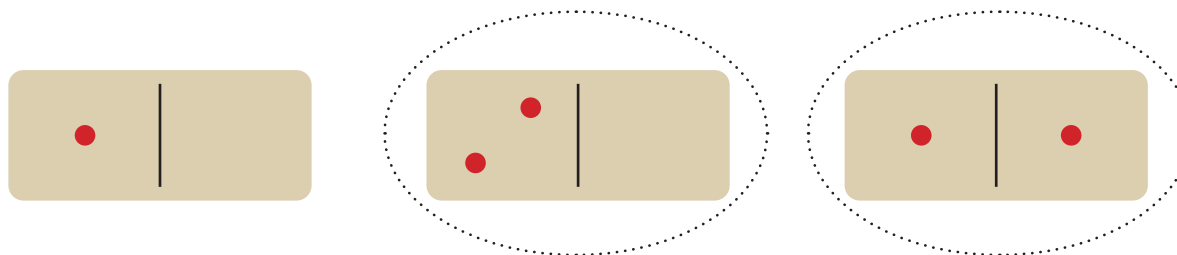



26




أحِوِطِ الْقِطْعَ الَّتِي تَحْتَوِي عَلَى نَفْسِ عِدَدِ النِّقَاطِ الْحُمْرَاءِ فِي كُلِّ سَأَلٍ

27



28



29



30




العددان  
5،4

أعد العددين 5،4  
وأسميها، وأميزها.

كم فراشة في الشبكة؟  
أحوظ التمثيل المناسب.

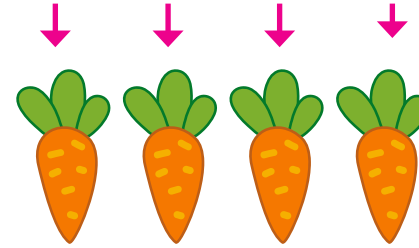





ألون المربعات بحسب  
عدد 



أمثل عدد الجزر  
مستعملاً 



أعد الأشياء في  
الصورة.





أتعرف الأشياء في  
الصورة.



ألون المربعات بحسب عدد الجزر في كل صورة

أتحقق من فهمي


2



1




3




--	--	--	--	--

4



--	--	--	--	--

5



--	--	--	--	--


6

أرسم أشكالاً بحسب عدد المربعات الملونة.

--	--	--	--	--




8



--	--	--	--	--

7




--	--	--	--	--

10

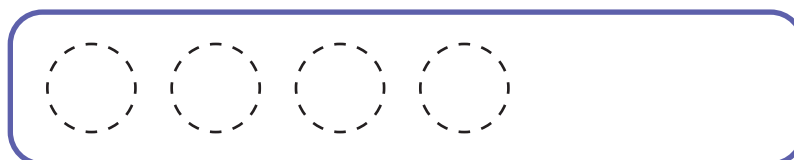
أرسم أشكالاً بحسب عدد المربعات  
الملونة.

--	--	--	--	--

9




--	--	--	--	--




11



12



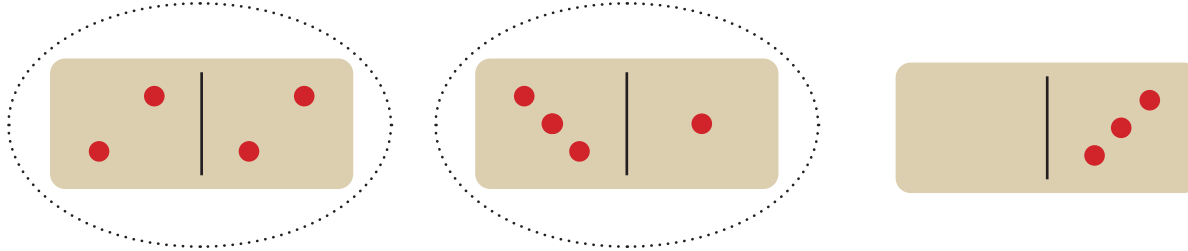
13



14

أحوط القطع التي تحتوي على نفس عدد النقاط الحمراء في كل سؤال

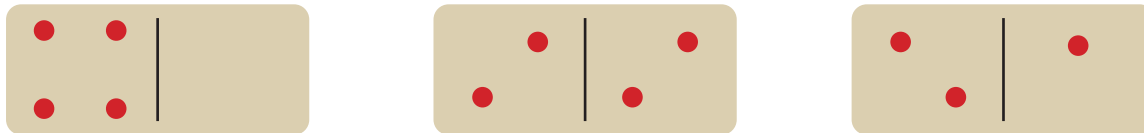
15



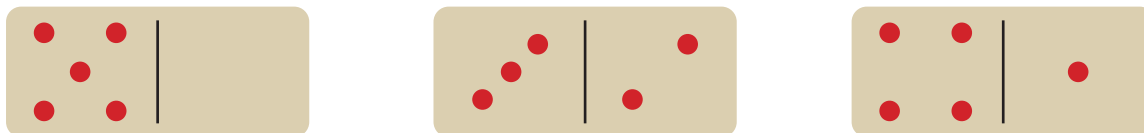
16



17



18



العدد 0

أعد العدد 0 وأسميه  
وأميزه.

كم تفاحة على الشجرة؟  
لون المربعات بحسب عدد  
التفاح.

--	--	--	--	--

--	--	--	--	--

ألون المربعات  
بحسب عدد البالونات  
المتبقية.



كم بالوناً بقي مع  
حسام الآن؟



كم بالوناً أصبح مع  
حسام؟




كم عدد البالونات مع  
حسام؟

أتحقق من فهمي ألون المربعات بحسب عدد الأشياء في كل صورة


2




1





3




--	--	--	--	--

4



--	--	--	--	--

5




--	--	--	--	--

6

أرسم أشكالاً بحسب عدد المربعات الملونة.


--	--	--	--	--

7




--	--	--	--	--

8



--	--	--	--	--

9



--	--	--	--	--


10

أرسم أشكالاً بحسب عدد المربعات الملونة.



--	--	--	--	--

العددان  
7،6

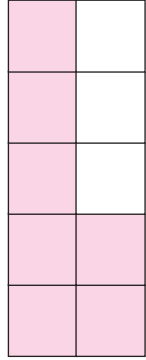
أعد العددين 7،6  
وأسميها، وأميزها.




كم عصفوراً في السماء؟  
ألون المربعات بحسب  
عدد العصافير.







ألون المربعات بحسب  
عدد 



أمثل عدد العصافير  
مستعملاً 



أعد الأشياء في  
الصورة.

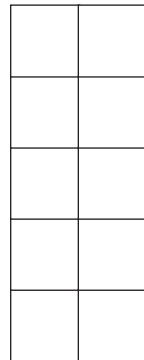



أتعرف الأشياء في  
الصورة.

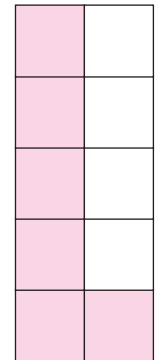

ألون المربعات بحسب عدد العصافير في كل صورة

أتحقق من فهمي


2




1



4





3





6

أرسم أشكالاً بحسب عدد المربعات  
الملونة.



5





7




8





9





10

أرسم أشكالاً بحسب عدد المربعات الملونة.





○ ○ ○ ○ ○ ○


11



12



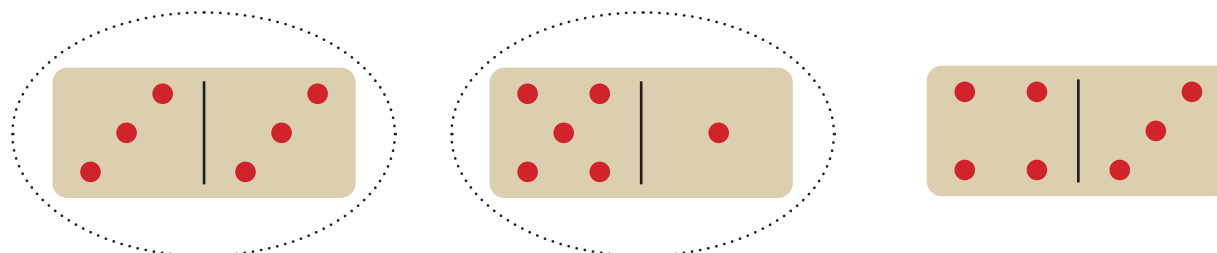
13



14

أحِوِطِ الْقِطْعَ الَّتِي تَحْتَوِي عَلَى نَفْسِ عِدَدِ النِّقَاطِ الْحُمْرَاءِ فِي كُلِّ سَأَلٍ

15



16



17



18

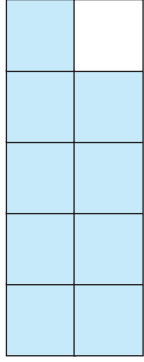


العددان  
9،8


أعد العددين 9،8  
وأسميها، وأميزها.


كم لعبة في الخزانة؟  
ألون المربعات بحسب  
عدد الألعاب.





ألون المربعات بحسب  
عدد 



أمثل عدد الدببة  
مستعملاً 

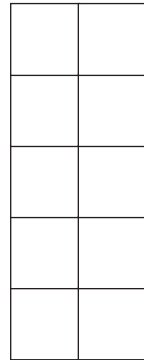


أعد الدببة في  
الصورة.

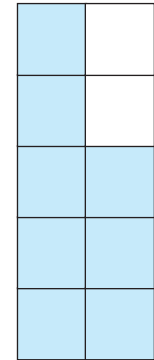


أتعرف الأشياء في  
الصورة.

أتحقق من فهمي ألون المربعات بحسب عدد الدببة في كل صورة




2

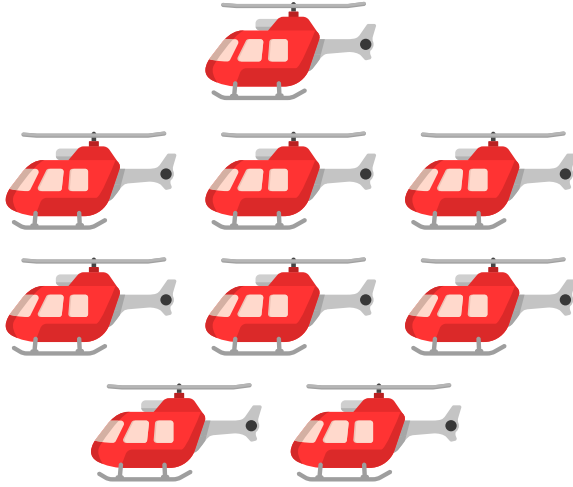


1


3




4




5




6


أرسم أشكالاً بحسب عدد المربعات الملونة.





7




8






9





10


أرسم أشكالاً بحسب عدد المربعات الملونة.


11



12



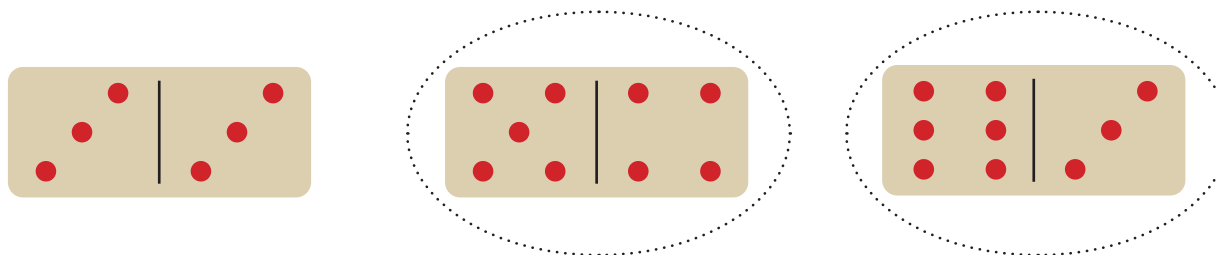
13



14

أحِوِطِ الْقِطْعَ الَّتِي تَحْتَوِي عَلَى نَفْسِ عِدَدِ النِّقَاطِ الْحُمْرَاءِ فِي كُلِّ سَأَلٍ

15



16



17



18

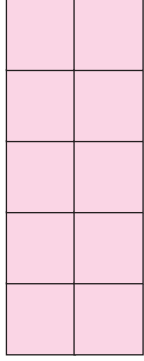


العدد 10


أعد العدد 10  
وأسميه، وأميزه.

كم قلاماً في العلبة؟  
ألون المربعات بحسب  
عدد الأقلام.

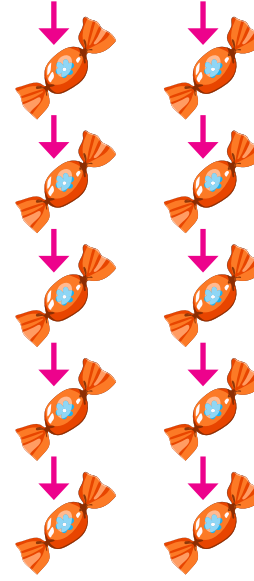



ألون المربعات بحسب  
عدد 🍬



أمثل عدد الحلوى  
مستعملاً ●



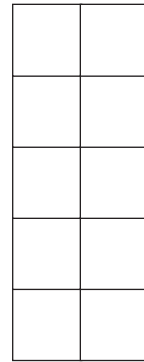

أعد الحلوى في  
الصورة.



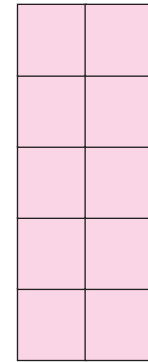

أتعرف الأشياء في  
الصورة.

ألون المربعات بحسب عدد الحلوى في كل صورة

أتحقق من فهمي



2



1

ألون المربعات بحسب عدد المخبوزات في كل صورة


3




4




5




6

أرسم أشكالاً بحسب عدد المربعات الملونة.
