

مُلخص دراسات اجتماعية (4)

(العام الدِّراسي 2020-2021)

الفصل الدراسي الأول



مَهَارَاتُ الْفَصْلِ الدِّراسي الاول

يحدد خطوط الطول ودوائر العرض على الكرة الأرضية	1
يحدد موقع الامارات النسبي والفلكي والجغرافي	2
يحدد اهم الجبال والسهول بدولة الامارات واهميتها	3
يحدد اهم الجزر والصحراء بدولة الامارات واهميتها الاقتصادية	4
يحدد نوع المناخ والحياة الطبيعية السائدة بدولة الامارات	5
يتعرف الحياة قديما بالامارات قبل الاتحاد	6
يعدد خطوات قيام دولة الامارات	7
يتعرف اهم المناسبات الوطنية بدولة الامارات	8

مُعَلِّمُ الْمَادَّة: أيمن عبدالله

الاسم :

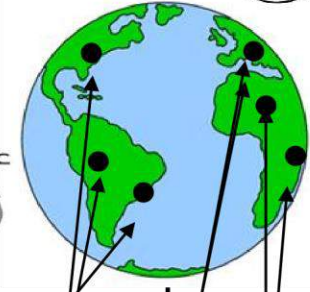
الصف الرابع ()

رحلة المعرفة (خطوط طول روائع العرض)

أولاً «الوقع النسبي»



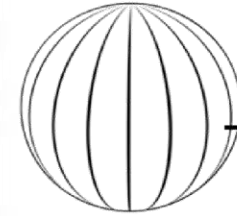
أكمل
الخطوط
الذي
أمامك بها
يناسب



الموقع الجغرافي

الموقع الفلكي

موقع المكان بالنسبة



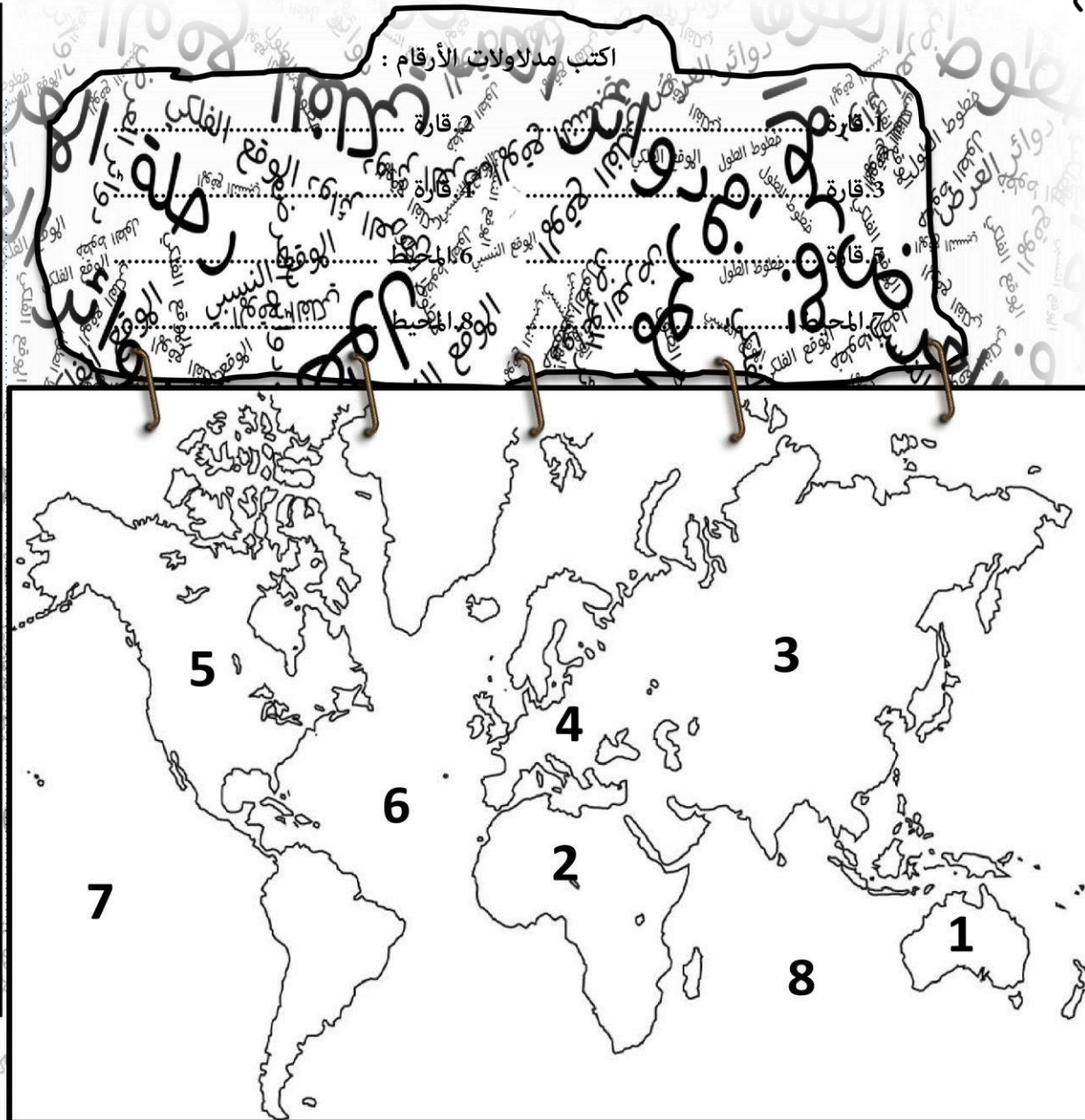
خطوط ..



دوائر ..

الموقع النسبي

موقع المكان بالنسبة



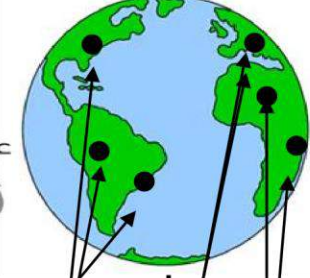


رحلة المعرفة (خطوط طول ودوائر العرض)

أولاً «الموقع النسبي»



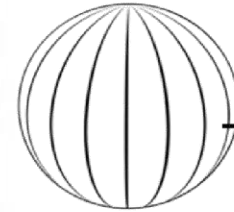
أهم
المخططات
التي
أماك بها
يناسب



الموقع الجغرافي

الموقع الفلكي

موقع المكان بالنسبة



خطوط... الطول



دوائر... العرض

الموقع النسبي

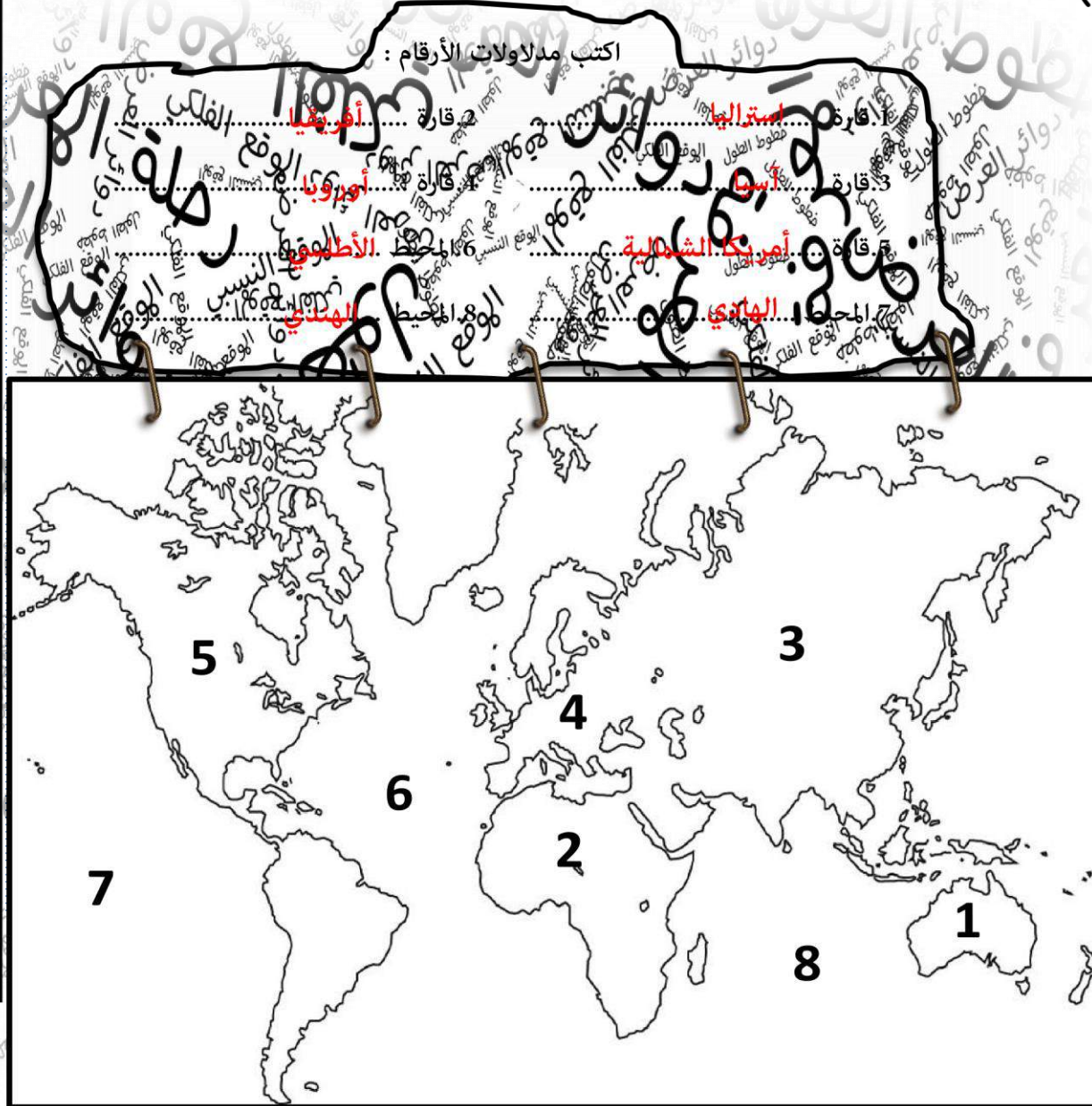
موقع المكان بالنسبة



اللباسية



الماء



رحلة المعرفة (خطوط طول ودوائر العرض)

ثانيا وثالثا > الموقع الفلكي خطوط الطول ودوائر العرض <



أضع الكلمات المساعدة أمام الجمل الآتية :

خطوط الطول - الموقع الفلكي - دوائر العرض

موقع المكان بالنسبة لخطوط الطول ودوائر العرض
خطوط طولية وهمية ترسم على الخرائط على شكل أنصاف دوائر تقسم
العالم إلى قسمين متساويين شرقا وغربا
خطوط وهمية ترسم على الخرائط على شكل دوائر تامة الاستدارة تقسم
العالم إلى قسمين متساويين شمالا وجنوبا

يبلغ عدد دوائر العرض
دائرة عرض



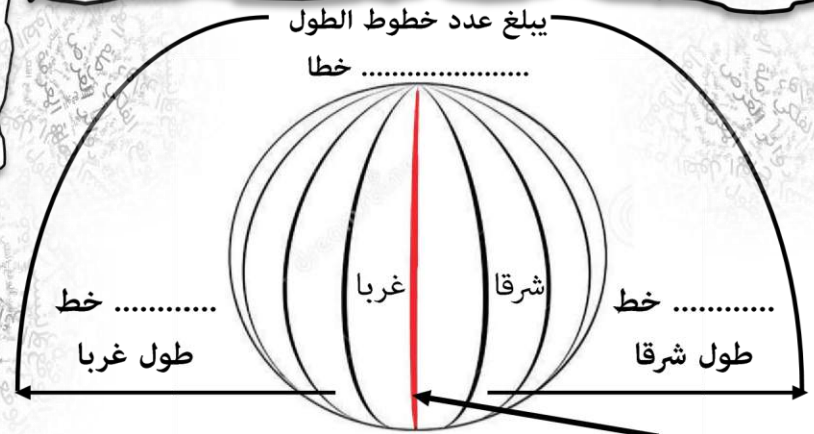
دائرة العرض الرئيسة وتقسم العالم إلى
نصفين متساويين (شمالي وجنوبي)
هو خط ودرجته
تساوي



ما هي أهمية دوائر العرض ؟

.....
.....

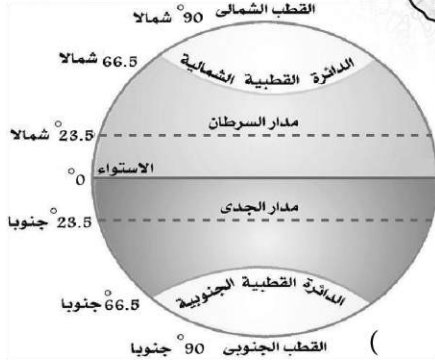
يبلغ عدد خطوط الطول
خطا



خط يقسم العالم إلى قسمين متساويين (شرقي وغربي) هو خط
وهو خط الطول الرئيسي درجته تساوي

ما هي أهمية خطوط الطول ؟

.....
.....



أضع علامة ✓ أمام
العبارة الصحيحة
وعلمة ✗ أمام العبارة
غير الصحيحة فيما يلي :

- يقع مدار السرطان في نصف الكرة الجنوبي ()
- يمر خط الاستواء عند دائرة عرض الصفر ()
- مدار الجدي يقع عند دائرة عرض 23.5 شمالا ()
- يقسم خط الاستواء العالم إلى قسمين متساويين شرقا وغربا ()
- تعرف دائرة العرض الرئيسة بخط الاستواء ()

رحلة المعرفة (خطوط طول ودوائر العرض)

ثانيا وثالثا > الموقع الفلكي خطوط الطول ودوائر العرض <



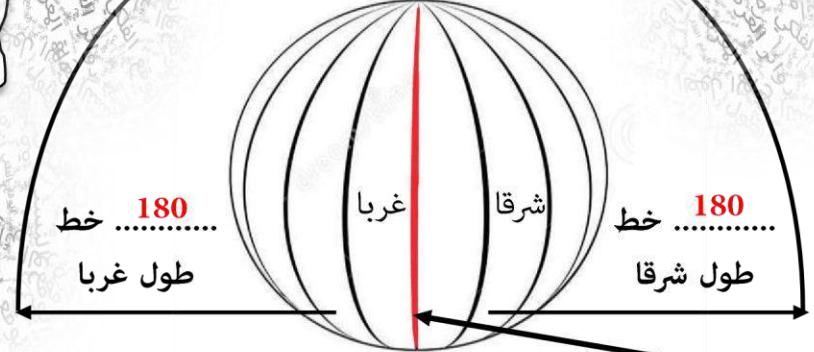
أضع الكلمات المساعدة أمام الجمل الآتية :

خطوط الطول - الموقع الفلكي - دوائر العرض

موقع المكان بالنسبة لخطوط الطول ودوائر العرض **الموقع الفلكي**
خطوط طولية وهمية ترسم على الخرائط على شكل أنصاف دوائر تقسم
العالم إلى قسمين متساويين شرقا وغربا **خطوط الطول**
خطوط وهمية ترسم على الخرائط على شكل دوائر تامة الاستدارة تقسم
العالم إلى قسمين متساويين شمالا وجنوبا **دوائر العرض**

يبلغ عدد خطوط الطول

..... **360** خطا



خط يقسم العالم إلى قسمين متساويين (شرقي وغربي) هو خط **جرينتش**
وهو خط الطول الرئيسي درجته تساوي **صفر**

ما هي أهمية خطوط الطول ؟

تحديد المواقع الجغرافية

تحديد الزمن

يبلغ عدد دوائر العرض
..... **180** دائرة عرض

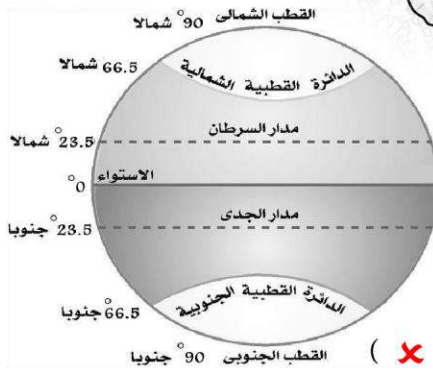


دائرة العرض الرئيسة وتقسم العالم إلى
نصفين متساويين (شمالي وجنوبي)
هو خط **الاستواء** ودرجته
تساوي **صفر**

ما هي أهمية دوائر العرض ؟

تحديد المواقع الجغرافية

تعرف على المناخ والنبات الطبيعي



أضع علامة (✓) أمام
العبارة الصحيحة
وعلامة (✗) أمام العبارة
غير الصحيحة فيما يلي :

- يقع مدار السرطان في نصف الكرة الجنوبي (✗)
- يمر خط الاستواء عند دائرة عرض الصفر (✓)
- مدار الجدي يقع عند دائرة عرض 23.5 شمالا (✗)
- يقسم خط الاستواء العالم إلى قسمين متساويين شرقا وغربا (✗)
- تعرف دائرة العرض الرئيسة بخط الاستواء (✓)

أولاً : الموقع الفلكي لدولة الإمارات العربية المتحدة

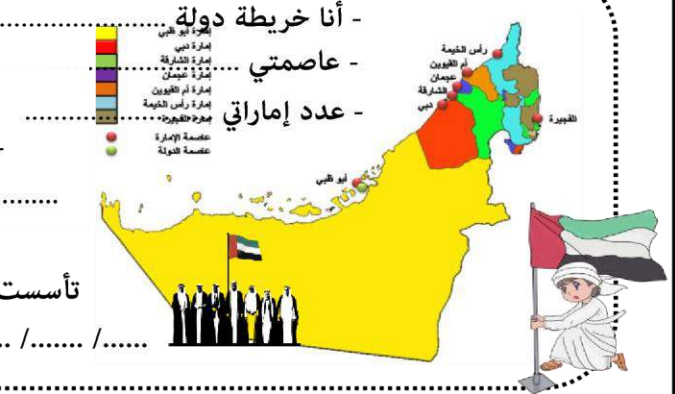
أكل



- حاكم الدولة صاحب السمو الشيخ

- تبلغ مساحتي
كم²

تأسست في
م / /

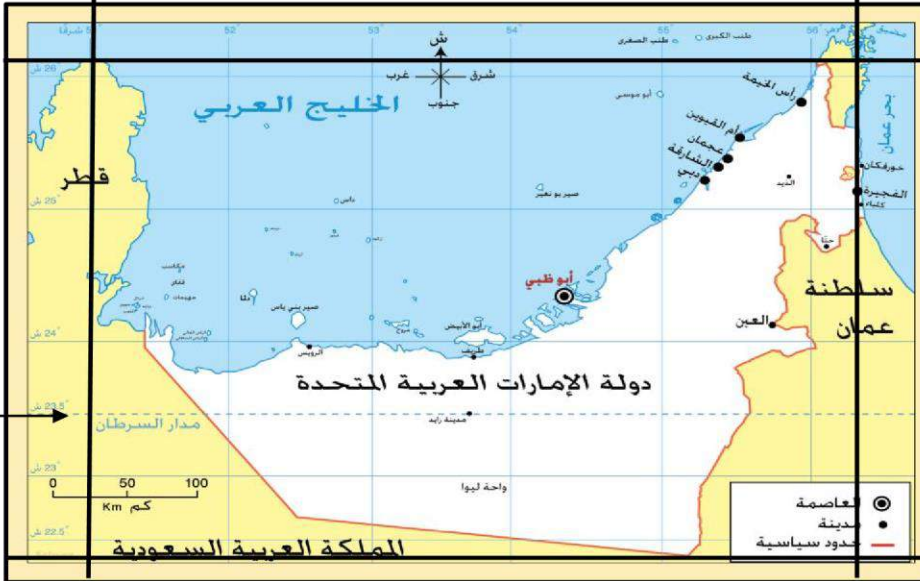


أقرأ خريطة الإمارات ثم أستكمل الآتي

دائرة عرض تمر بدولة الإمارات

تقع دولة الإمارات بين خطي طول :

..... درجة شرق خط جرينتش درجة شرق خط جرينتش



خط الاستواء
خط الاستواء

تقع دولة الإمارات بين دائرتي عرض :

أضع علامة (✓) أمام العبارة الصحيحة وعلامة (x) أمام العبارة غير الصحيحة فيما يلي :

- يبلغ عدد دوائر العرض التي تقع عليها دولة الإمارات 4.5 دائرة عرضية ()
- اللغة الرسمية لدولة الإمارات اللغة العربية ()
- يمر مدار السرطان في الأجزاء الشمالية من الدولة ()

أولاً : الموقع الفلكي لدولة الإمارات العربية المتحدة



- حاكم الدولة صاحب السمو

الشيخ خليفة بن زايد آل نهيان



- أنا خريطة دولة

- عاصمتي

- عدد إماراتي

- تبلغ مساحتي
83.600 كم²

تأسست في
2 / ديسمبر / 1971 م

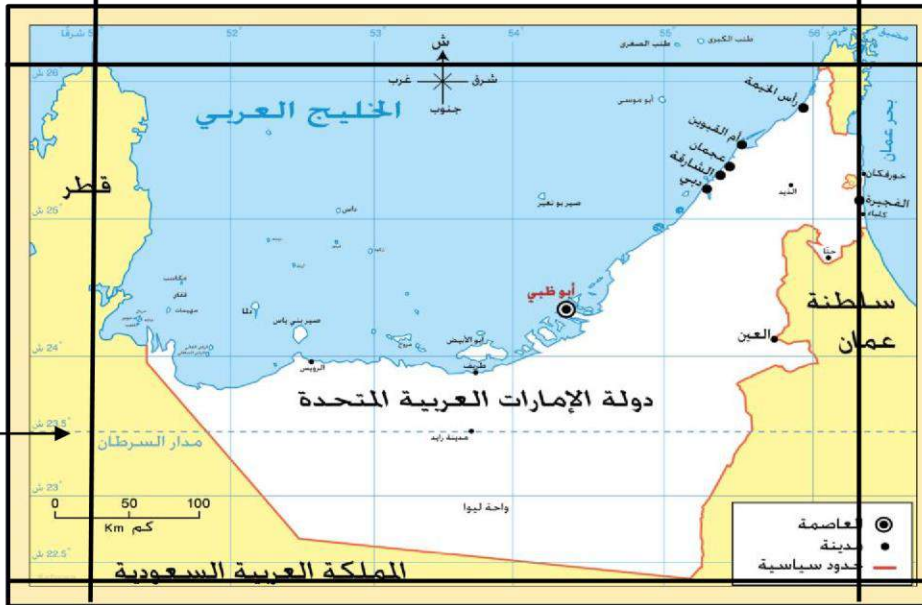


أقرأ خريطة الإمارات ثم أستكمل الآتي

دائرة عرض تمر بدولة الإمارات... مدار السرطان

تقع دولة الإمارات بين خطي طول :

56.5 درجة شرق خط جرينتش 51 درجة شرق خط جرينتش



تقع دولة الإمارات بين دائرتي عرض :
26.5 درجة شمال
خط الاستواء
22 درجة شمال
خط الاستواء

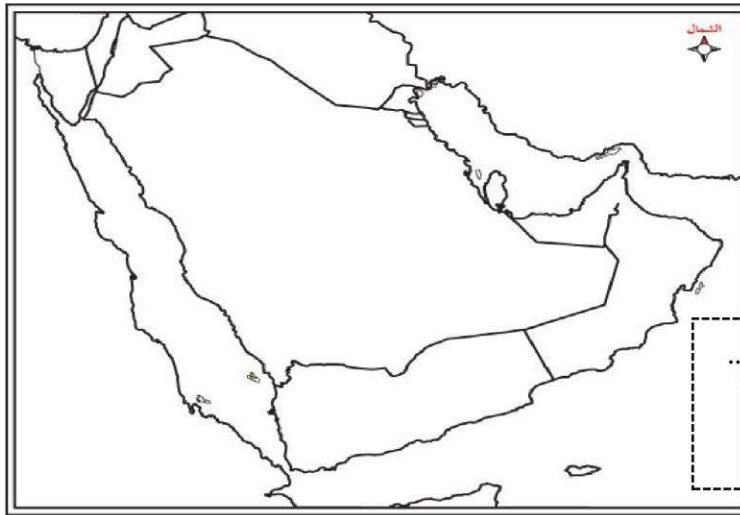
أضع علامة (✓) أمام العبارة الصحيحة وعلامة (✗) أمام العبارة غير الصحيحة فيما يلي :

- يبلغ عدد دوائر العرض التي تقع عليها دولة الإمارات 4.5 دائرة عرضية (✓)
- اللغة الرسمية لدولة الإمارات اللغة العربية (✓)
- يمر مدار السرطان في الأجزاء الشمالية من الدولة (✗)

ثانياً « الموقع النسبي لدولة الإمارات العربية المتحدة »



تقع دولة الإمارات في الوطن العربي
لون دولة الإمارات على الخريطة.



أقرأ خريطة ثم أستكمل الآتي

تقع دولة الإمارات في الجهة
من شبه الجزيرة العربية
لون الإمارات على الخريطة

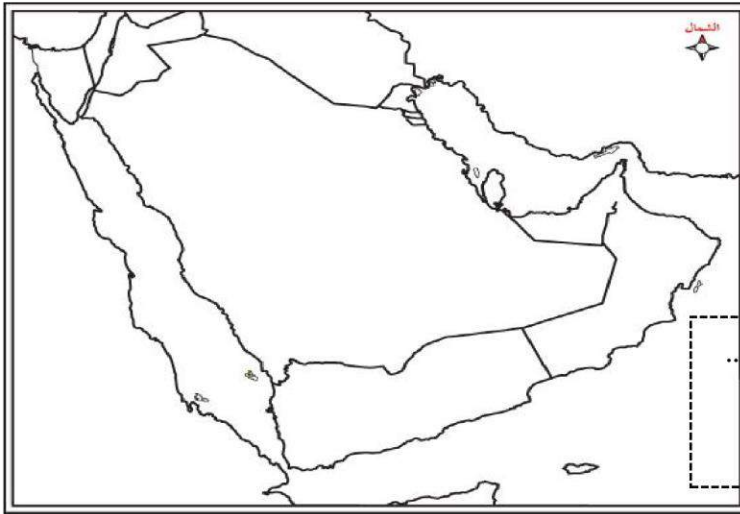


ثانياً « الموقع النسبي لدولة الإمارات العربية المتحدة »



تقع دولة الإمارات في**شرق**..... الوطن العربي
لون دولة الإمارات على الخريطة.

- تقع دولة الإمارات في **قلب** **أ.و.وسط** العالم القديم.
- قارات العالم القديم هي **آسيا** و **أفريقيا** و **أوروبا**.....
- تقع دولة الإمارات في جنوب غرب قارة **آسيا**.....
- حوط دولة الإمارات على الخريطة
- اكتب المحيطات التالية على الخريطة :
(المحيط الهادي - المحيط الهندي - المحيط الأطلسي - المحيط المتجمد الشمال)



أقرأ خريطة ثم أستكمل الآتي

تقع دولة الإمارات في الجهة ...**الشرقية**...
من شبه الجزيرة العربية
لون الإمارات على الخريطة





تانيا > الموقع النسبي لدولة الإمارات العربية المتحدة <<

اكتب المفهوم المناسب فيها يلي :



منطقة من اليابس محاطة
بالماء من ثلاث جهات

خطوط حددها الإنسان ورسمت حتى تفصل بين حدود
دولة ودولة أخرى ، وتمارس فيها دولة سيادتها

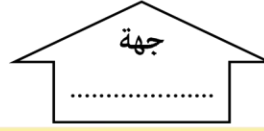
لسان كبير من الماء محاط
باليابس من ثلاث جهات



يابسة تحيط بها المياه من
جميع الجهات



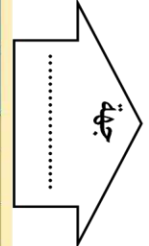
دولة



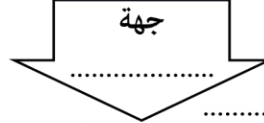
جهة

اقرأ خريطة الإمارات ثم
أستكمل الآتي

بحر



دولة



جهة

دولة

أكمل

- تقع دولة الإمارات في قارة
- تطل دولة الإمارات من الشرق على بحر
- تحيط مياه الخليج العربي بدولة الإمارات من جهة
- دولتين تشتركان مع دولة الإمارات بالحدود البرية من جهة الشرق
- و..... من جهة الجنوب والغرب.
- دائرة العرض الرئيسة التي تمر بدولتنا الحبيبة
- تقع دولة الإمارات في جهة لشبة الجزيرة العربية
- وجهة من الوطن العربي

الوحدة الأولى : أعرف بلادي

ثانياً : الموقع النسبي لدولة الإمارات العربية المتحدة »

اكتب المفهوم المناسب فيما يلي :



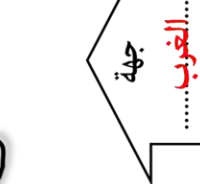
منطقة من اليابس محاطة
بالماء من ثلاث جهات
شبة الجزيرة

خطوط حددها الإنسان ورسمت حتى تفصل بين حدود
دولة ودولة أخرى ، وتمارس فيها دولة سيادتها
الحدود السياسية

لسان كبير من الماء محاط
باليابس من ثلاث جهات
الخليج



يابسة تحيط بها المياه من
جميع الجهات
الجزيرة



دولة...السعودية



الخليج...الخليج العربي

جهة

شمال

اقرأ خريطة الإمارات ثم
أستكمل الآتي

بحر...عمان



دولة...السعودية

جهة

الجنوب


دولة...السعودية

أكمل

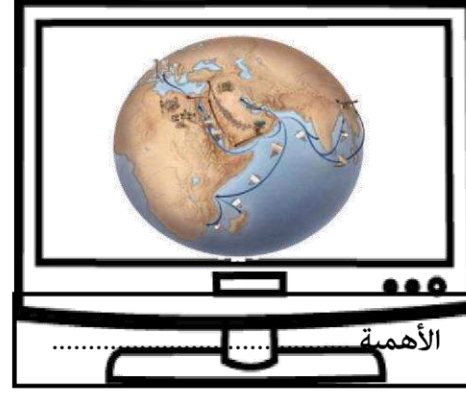
- تقع دولة الإمارات في قارة...آسيا... في جهة...الجنوب الغربي
- تطل دولة الإمارات من الشرق على بحر...عمان
- تحيط مياه الخليج العربي بدولة الإمارات من جهة...الشمال
- دولتين تشتركان مع دولة الإمارات بالحدود البرية...عمان من جهة الشرق و...السعودية من جهة الجنوب والغرب.
- دائرة العرض الرئيسة التي تمر بدولتنا الحبيبة...مدار السرطان
- تقع دولة الإمارات في جهة...الشرق... لشبة الجزيرة العربية
- وجهة...الشرق... من الوطن العربي

ثالثاً أهمية موقع بلادنا

استخلص أهمية الموقع الجغرافي بناء على الصور التالية



الأهمية



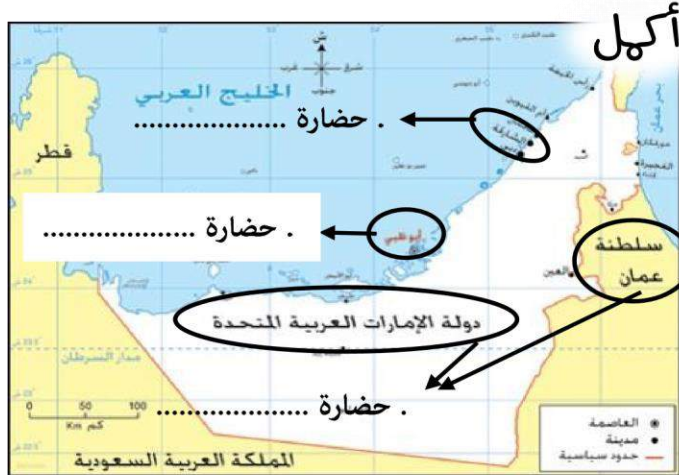
الأهمية



الأهمية

اكتب المفهوم المناسب فيما يلي :

كل جهد قام به الإنسان لتحسين ظروف حياته



أكمل

ما هي الأهمية الاقتصادية للموقع الجغرافي لدولة الإمارات العربية المتحدة ؟

- 1.....
- 2.....
- 3.....

ما المقصود بـ :

استيراد السلع وإعادة تصديرها إلى دول العالم
(.....)



حلقة بين الشمال والجنوب الشرق والغرب



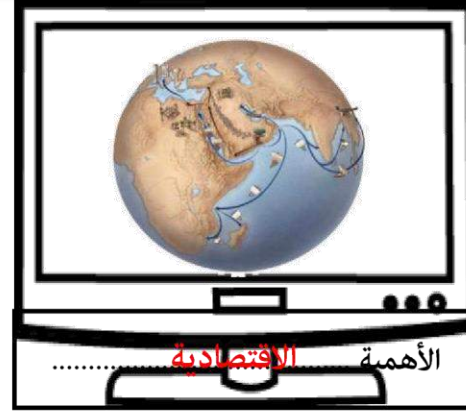
معبرا لرحلات بين و.....

ثالثاً «أهمية موقع بلادي»

استخلص أهمية الموقع الجغرافي بناء على الصور التالية



الأهمية التاريخية.....



الأهمية الاقتصادية.....



الأهمية الاستراتيجية.....

اكتب المفهوم المناسب فيما يلي :

الحضارة..... كل جهد قام به الإنسان لتحسين ظروف حياته



أكمل

ما هي الأهمية الاقتصادية للموقع الجغرافي

لدولة الإمارات العربية المتحدة ؟

1. ازدهرت طرق التجارة البرية والبحرية

2. نشطت تجارة الترانزيت

3. البحار مصدر للرزق

ما المقصود بـ :

استيراد السلع وإعادة تصديرها إلى دول العالم

(تجارة الترانزيت)



حلقة وصل..... بين الشمال والجنوب والشرق والغرب



معبراً لرحلات..... الجوية..... بين..... آسيا..... و..... أوروبا.....

1



أعمل فيما يلي :

تقع الجبال في دولة الإمارات في الجهة
أعلى قمة جبلية في دولة الإمارات هي قمة جبل
ضع دائرة على الخريطة بالمكان الذي توجد به أعلى قمة جبلية في الإمارات



تنقسم الجبال في دولة الإمارات إلى قسمين

القسم القسم

اختار الإجابة الصحيحة فيما يلي :

يقع جبل حفيت في مدينة :
(كلباء - العين - خورفكان)

أولا «الجبال»

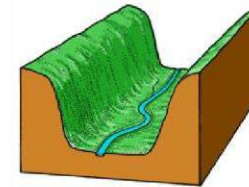
صعود
الجبل
يكسب
الإنسان
صفة

من أنا



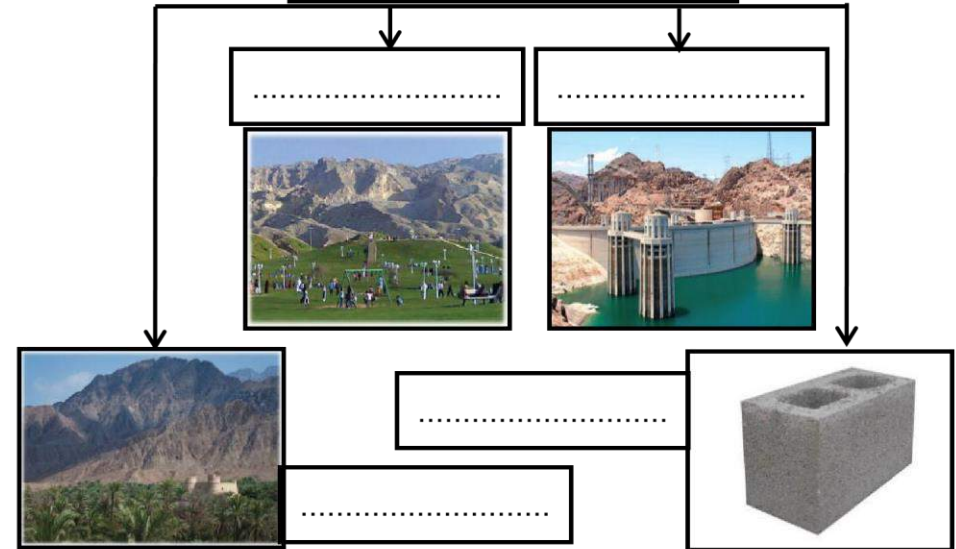
كُتِلَتْ صَخَمَةٌ مِنَ الصُّخُورِ الْمُرتَفَعَةِ
عَنْ سَطْحِ الْأَرْضِ ذَاتِ قِمَمٍ تَتَمَيَّزُ
بِالْحِدَّةِ وَالْإِرْتِفَاعِ

من أنا



هي أَرْضٌ طَوِيلَةٌ مُنْحَفِضَةٌ
تُحِيطُهَا أَرْضٌ مُرتَفَعَةٌ مِنْ
الْجَوَانِبِ

أهمية الجبال الاقتصادية



1 طبيعة بلادي أولا «الجبال»



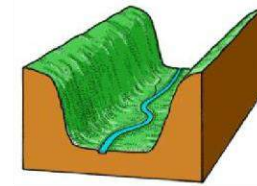
كُتِلَّةٌ صَخْمَةٌ مِنَ الصُّخُورِ الْمُرتَفَعَةِ
عَنْ سَطْحِ الْأَرْضِ ذَاتَ قِمَمٍ تَتَمَيَّزُ
بِالْحِدَّةِ وَالْإرتِفَاعِ
..... **الجبال**

صعود
الجبل
يكسب
الإنسان
صفة

..... **الصبر**

الصمود
الثبات
التحدي

تقبل أي إجابة صحيحة



من أنا
هي أَرْضٌ طَوِيلَةٌ مُنْحَفِضَةٌ
تُحِيطُ بِهَا أَرْضٌ مُرتَفَعَةٌ مِنْ
الجَوَانِبِ
..... **السوداني**

أهمية الجبال الاقتصادية

...لزدهار السياحة...



..تخزين مياه الأمطار..



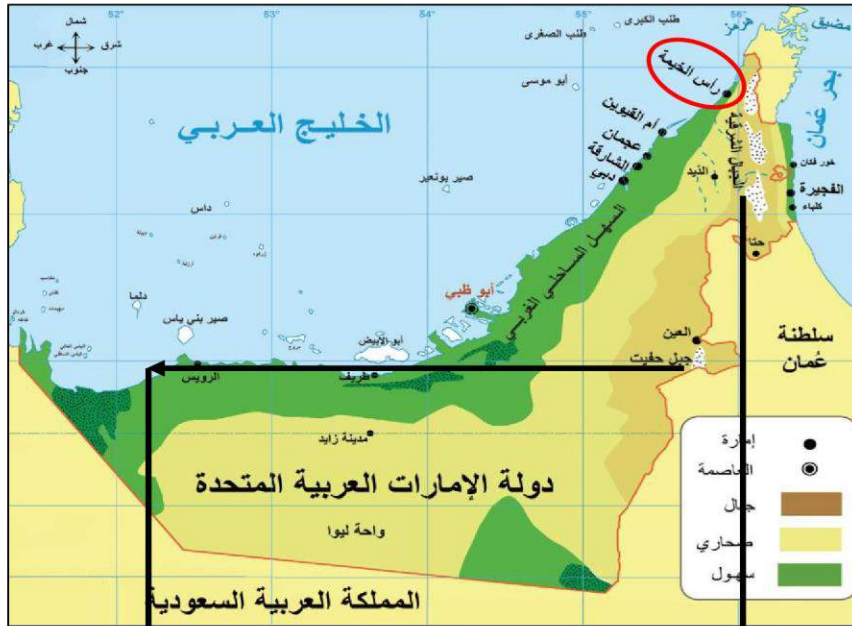
تزودنا بمواد البناء

.....انتشار الزراعة.....



أعمل فيما يلي :

تقع الجبال في دولة الإمارات في الجهة **الشرقية**
أعلى قمة جبلية في دولة الإمارات هي قمة جبل **جيس**
ضع دائرة على الخريطة بالمكان الذي توجد به أعلى قمة جبلية في الإمارات



تنقسم الجبال في دولة الإمارات إلى قسمين

..... **الجنوبي**

..... **الشمالي**

اختار الإجابة الصحيحة فيما يلي :

يقع جبل حفيت في مدينة :

(كلباء - **العين** - خورفكان)

1

ثانياً « السهول » السهول الساحلية

من أنا

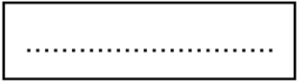
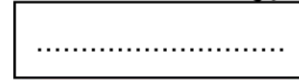


أرض منبسطة قليلة الارتفاع

وتنقسم في دولة الإمارات إلى قسمين

سهول

سهول



أهل فيها يلي

ترتبط بالسهول الساحلية بعض
الظواهر الطبيعية مثل


.....
.....
.....

وهذه السهول مطله على

وتنقسم السهول الساحلية إلى قسمين

<p>أنا السهل الساحلي</p>	<p>أنا السهل الساحلي</p>	<p>أوجه المقارنه</p>
<p>.....</p>	<p>.....</p>	<p>لون</p>
<p>على الخريطة</p>	<p>على الخريطة</p>	<p>اختار الاجابة الصحيحة</p>
<p>قصير - طويل</p>	<p>قصير - طويل</p>	<p>اختار الاجابة الصحيحة</p>
<p>واسع - ضيق</p>	<p>واسع - ضيق</p>	<p>من أشهر المدن</p>
<p>.....و.....</p>	<p>.....و.....</p>	<p>.....</p>
<p>.....و.....</p>	<p>.....و.....</p>	<p>.....</p>

الأهمية الاقتصادية للسهول الساحلية :



1

ثانياً « السهول » السهول الساحلية

من أنا



أرض منبسطة قليلة الارتفاع

السهول

وتنقسم في دولة الإمارات إلى قسمين

سهول

الساحلية



سهول

الداخلية



أهل فيها يلي

ترتبط بالسهول الساحلية بعض

الظواهر الطبيعية مثل

الأخوار

السبخات

الجزر



وهذه السهول مطله على البحر

وتنقسم السهول الساحلية إلى قسمين

<p>أنا السهل الساحلي الغربي</p>	<p>أنا السهل الساحلي الشرقي</p>	أوجه المقارنه
على الخريطة	على الخريطة	لون
قصير - طويل	قصير - طويل	اختار الاجابة الصحيحة
واسع - ضيق	واسع - ضيق	اختار الاجابة الصحيحة
دي عجمان و الشارقة و رأس الخيمة	الفجيرة و دبا خورفكان و كلبا	من أشهر المدن

الأهمية الاقتصادية للسهول الساحلية :



ممارسة الهوايات البحرية



التجارة



السياحة



الصيد البحري

2 طبيعة بلادي أولا «الجزر»



من أنا

جزء من اليابس تحيط بها
المياه من جميع الجهات



من خلال الخريطة التي أمامك استكمل التالي :

- من الجزر الإماراتية المحتلة
- الدولة التي احتلت الجزر الإماراتية الثلاث هي
- سنة الاحتلال

أهمية الجزر الاقتصادية

مثل جزيرة



مثل جزيرة



مثل جزيرة



من أنا أماكن تخصص لحماية الأنواع
الحيوانية والنباتية المهددة بالانقراض

2



أولا «الجزر»

من أنا

جزء من اليابس تحيط بها
المياه من جميع الجهات
.....**الجزيرة**.....



من خلال الخريطة التي أمامك استكمل التالي :

- من الجزر الإماراتية المحتلة **طنب الكبرى** **طنب الصغرى** **أبوموسى**
- الدولة التي احتلت الجزر الإماراتية الثلاث هي **إيران**.....
- سنة الاحتلال**1971**.....

أهمية الجزر الاقتصادية

موانئ **تصدير** **النفط** مثل جزيرة **داس**.....



محميات طبيعية مثل جزيرة **صير بني ياس**



مناطق سكنية مثل جزيرة **دحا**.....



من أنا أماكن تخصص لحماية الأنواع
الحيوانية والنباتية المهددة بالانقراض
.....**محميات طبيعية**.....

2

ثانياً «الكتبان الرملية»

من أنا

أرض جافة قليلة المطر
ولوني على الخريطة أصفر
فمن أنا؟؟

أنا صحراء

أماطاري :

(نادرة - غزيرة)

نباتاتي :

(قليلة - كثيرة)

حرارتي صيفاً :

(مرتفعة - منخفضة)

سكاني :

(قليل - كثير)



أرض تنبض
بالحياة من أقوال
الشيخ

علمتني الصحراء
أن نصبر طويلاً
حتى ينبت الحبر
من أقوال الشيخ


أرض منخفضة في الصحراء تكثر فيها
المياه والزراعة ؟ فمن أنا ؟

حوض الواحات الموجودة في دولة الإمارات :



الأهمية الاقتصادية للصحراء

استخراج



2

ثانياً «الكتبان الرملية»

من أنا

أرض جافة قليلة المطر
ولوني على الخريطة أصفر
فمن أنا؟؟
.....**الصحراء**.....

أنا صحراء اختار الإجابة الصحيحة فيما يلي :

أمطاري :

(نادرة - غزيرة)

نباتاتي :



(قليلة - كثيرة)

حرارتي صيفاً :

(مرتفعة - منخفضة)

سكاني :

(قليل - كثير)



أرض تنبض
بالحياة من أقوال
الشيخ
.....**خليفة**.....

علمتني الصحراء
أن نصبر طويلاً
حتى ينبت الحبر
من أقوال الشيخ
.....**زايد**.....

أرض منخفضة في الصحراء تكثر فيها
المياه والزراعة ؟ فمن أنا ؟

.....**السواحة**.....

حوط الواحات الموجودة في دولة الإمارات :




الأهمية الاقتصادية للصحراء

استخراج **النفط**...

الزراعة في الواحات.

تربية الأغنام.....

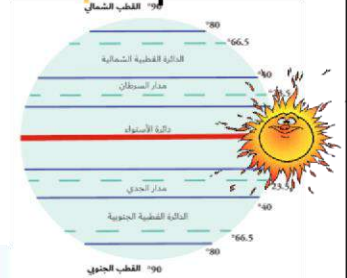
سباق الهجن.....



المناخ والحياة الطبيعية في بلادي

أولاً «مناخ بلادي»

العوامل المؤثرة في مناخ بلادي



أيهما أكثر برودة وأمطاراً:

المناطق القريبة من البحار

المناطق الداخلية

قارن بين فصلي الشتاء والصيف في دولة الإمارات بناء على الجدول

وجه المقارنة	فصل الصيف	فصل الشتاء
درجة الحرارة		
الأمطار		

- تقع دولة الإمارات في المنطقة الجافة ويسود فيها إقليم المناخ
- يمر مدار السرطان في الجزء من الإمارات
- حالة الجو خلال شهر أو فصل أو سنة هو

المناخ والحياة الطبيعية في بلادي

أولا «مناخ بلادي»



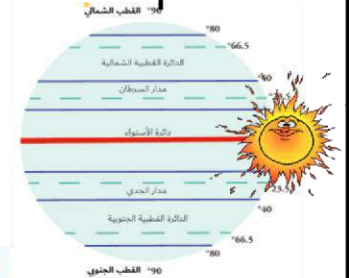
العوامل المؤثرة في مناخ بلادي



عامل الارتفاع.....



إشراف الدولة على مسطحات مائية



مرور مدار السرطان



درجات الحرارة عند قاعدة الجبل تكون مرتفعة.....

كون تعميها من خلال الصورة التي أمامك

كل ما ارتفعنا فوق الجبال تنخفض درجات الحرارة....

أيهما أكثر برودة وأمطاراً:

المناطق القريبة من البحار

المناطق الداخلية

قارن بين فصلي الشتاء والصيف في دولة الإمارات بناء على الجدول

وجه المقارنة	فصل الصيف	فصل الشتاء
درجة الحرارة	مرتفعة	منخفضة
الأمطار	جاف	ممطر

تقع دولة الإمارات في المنطقة المدارية..... الجافة ويسود فيها إقليم المناخ صحراوي جاف.

يمر مدار السرطان في الجزء الجنوبي..... من الإمارات

حالة الجو خلال شهر أو فصل أو سنة هو المناخ.....



المناخ والحياة الطبيعية في بلادي

ثانياً > الحياة الطبيعية النباتية والحيوانية






تنقسم النباتات إلى نوعين رئيسيين هما

النباتات نباتات تنمو مباشرة بعد سقوط الأمطار مثل



النباتات نباتات التي تنمو طول العام دون تدخل الإنسان مثل



علل أو فسر؟؟ تنوع الثروة البرية في دولة الإمارات؟؟



1 تنوع 2 موارد 3 تنوع 4 تنوع

ضع الكلمات التالية في مكانها المناسب :

(الصفرد - البيئة الوطني - الغاف - الكما)

- فطر بري موسمي ينمو بعد سقوط الأمطار.....
- من أكثر الأشجار التي تتحمل درجات الحرارة والملوحة وتقلبات الجو شجرة
- طائر بري جميل المنظر عذب الصوت يمنع صيده منعاً باتاً.....
- تحتفل دولة الإمارات سنوياً في 4 من فبراير بيوم

فسر؟؟..أهمية النباتات الصحراوية؟؟

1



2



3

المناخ والحياة الطبيعية في بلادي

ثانياً > الحياة الطبيعية النباتية والحيوانية <




تنقسم النباتات إلى نوعين رئيسيين هما

النباتات **المحولية** نباتات تنمو مباشرة بعد سقوط الأمطار مثل



..... **الكما " القفع "**




..... **الخبيبر**



..... **الحميص**

النباتات **المعمرة** نباتات التي تنمو طول العام دون تدخل الإنسان مثل



..... **السمر**



..... **الغاف**



..... **السيسدر**

علل أو فسر؟؟ تنوع الثروة البرية في دولة الإمارات؟؟



1 تنوع **المناخ** 2 موارد **المياه** 3 تنوع **النبات الطبيعي** 4 تنوع **التضاريس**

(أشكال سطح

الأرض)

ضع الكلمات التالية في مكانها المناسب :

(الصفرد - البيئة الوطني - الغاف - الكما)

- فطر بري موسمي ينمو بعد سقوط الأمطار..... **الكما**
- من أكثر الأشجار التي تتحمل درجات الحرارة والملوحة وتقلبات الجو شجرة **الغاف**
- طائر بري جميل المنظر عذب الصوت يمنع صيده منعاً باتاً..... **الصفرد**
- تحتفل دولة الإمارات سنوياً في 4 من فبراير بيوم **البيئة الوطني**

فسر؟؟..أهمية النباتات الصحراوية؟؟

1 **رعي الحيوان**



2 **صناعة الأدوية**



3 **الحصول على الخشب للوقود**



الإمارات قبل الاتحاد

أولا « الأسرة » ثانياً « المرأة »



اختر صورة لها الأسرة قديماً



- وتسمى بالأسرة :

والتي تتكون من ثلاث أجيال أو أكثر

أهم أعمال المرأة قديماً في دولة الإمارات



ضع الكلمات التالية في مكانها المناسب :

(الأسرة - المطوعة - الابار - الأجداد)

المياة التحتية التي تنساب تحت سطح الأرض بعد سقوط الأمطار.....

الخلية الأساسية لبناء المجتمع هي

الملتقى الرئيس لأفراد الأسرة كافة كبارا وصغارا ورجالا ونساء هو بيت

المعلمة التي كانت تقوم بعملية التدريس قديماً

الإمارات قبل الاتحاد

أولا « الأسرة » ثانياً « المرأة »



اختر صورة نراها الأسرة قديماً



- وتسمى بالأسرة : الممتدة
والتي تتكون من ثلاث أجيال أو أكثر

أهم أعمال المرأة قديماً في دولة الإمارات



طحن الحبوب



تربية الأبناء




تعليم الأبناء القرآن الكريم



جلب الماء من الآبار

من سمات الأسرة الممتدة قديماً في الإمارات



..... الجدة هو رب الأسرة

التعاون والتكافل

..... والترابط بين أفراد الأسرة

..... بالاستقرار

ضع الكلمات التالية في مكانها المناسب :

(الأسرة - المطوعة - الآبار - الأجداد)

المياه التي تنساب تحت سطح الأرض بعد سقوط الأمطار الآبار

الخلية الأساسية لبناء المجتمع هي الأسرة

الملتقى الرئيس لأفراد الأسرة كافة كباراً وصغاراً ورجالاً ونساءً هو بيت الأجداد


المعلمة التي كانت تقوم بعملية التدريس قديماً المطوعة

الإمارات قبل الاتحاد

الحرف الإماراتية القديمة ،، أنواع التعليم في بلادي قديما

أكل فيما يلي :

الصفوف الدراسية قديما في دولة الإمارات العربية المتحدة تسمى
والذي يعلمهم يسمى ، ومن صفاته وكان يعلمهم :



وزع الحرف التالية في البيئة المناسبة فيما يلي :

صييد السمك - الرعي - الزراعة - الغوص على اللؤلؤ

البيئات الداخلية	البيئات الساحلية

من الذي أهتم بإنشاء المدارس قديما ؟

هوط ،، الإمارة التي ظهرت فيها اول مدرسة شبه نظامية ؟



ما اسم أول مدرسة شبه نظامية ؟

.....
.....

من الذي أسس هذه المدرسة ؟

.....

سنة كم تأسست ؟

.....



مدرسة شبه نظامية تأسست في عام 1912

مدرسة.....

على يد التاجر.....

وظهرت هذه المدرسة في إمارة.....

الإمارات قبل الاتحاد

الحرف الإماراتية القديمة ،، أنواع التعليم في بلادي قديما

أكل فيما يلي :

الصفوف الدراسية قديما في دولة الإمارات العربية المتحدة تسمى **الكتاتيب**
والذي يعلمهم يسمى **المطوع** ، ومن صفاته **حكيم** وكان يعلمهم :



..... **القرآن الكريم** **الحديث الشريف** **الكتابة والقراءة**

وزع الحرف التالية في البيئة المناسبة فيما يلي :

البيئات الداخلية	البيئات الساحلية
الرعي	صيد السمك
الزراعة	الغوص على اللؤلؤ

من الذي أعتهم بإنشاء المدارس قديما ؟
..... **تجار اللؤلؤ**

هوط ،، الإمارة التي ظهرت فيها أول مدرسة شبه نظامية ؟



ما اسم أول مدرسة شبه نظامية ؟

..... **التيمية الأحمدية**



..... من الذي أسس هذه المدرسة ؟

..... **الشيخ علي بن محمد المحمود التميمي**

سنة كم تأسست ؟

..... **1906**



مدرسة شبه نظامية تأسست في عام 1912
..... **ابن خلف** مدرسة

على يد التاجر **خلف بن عبد الله العتيبة**

وظهرت هذه المدرسة في إمارة

..... **أبو ظبي**

أولاد الإمارات قبل الاتحاد

من خلال الفقرة التي أمامك أجب على الأسئلة التالية:

تعدّ القبيلة الوحدة السياسية عند العرب. ذلك أن القبيلة هي مجموعة من الناس ينتمون إلى أصل واحد مشترك تجمعهم رابطة الدم، الذي ينقل الصفات الوراثية فيما بينهم لقد تكون مجتمع الإمارات منذ سنين طويلة من قبائل عربية أصيلة تنتمي إلى قبائل قحطانية وعدنانية، وقدت من شبه الجزيرة العربية. فالرسول صلى الله عليه وسلم ينتمي إلى قبيلة قريش ويرجع نسبه إلى عدنان، وهي قبيلة عريقة النسب والشرف، وقد كانت القبائل هي الحجر الأساسي في تكون مجتمع شبه الجزيرة العربية

- الوحدة السياسية عند العرب
- ترجع أصول سكان الإمارات إلى قبائل..... و
- ينتمي الرسول صلى الله عليه وسلم إلى قبيلة
- مجموعة من الناس ينتمون إلى أصل واحد.....

- استقرت بعض القبائل على الساحل للخليج العربي

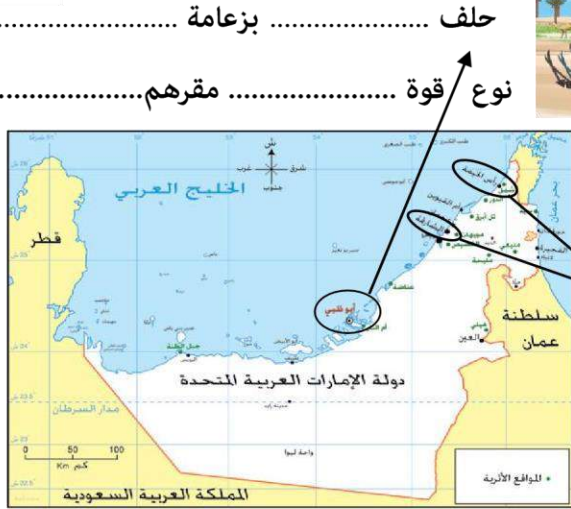


وهو المعاهدة على التعاون ومد يد العون

أكمل



حلف
بزعامه
نوع القوة
مقرهم



ضع أسماء القبائل في مكانها المناسب :

القواسم - النعيم - آل علي - الشرقيين - بني ياس - البوفلاسة

الإمارة	اسم القبيلة
أبوظبي	
دبي	
الشارقة ورأس الخيمة	
عجمان	
أم القيوين	
الفجيرة	



أولا (الإمارات قبل الاتحاد)

من خلال الفقرة التي أمامك أجب على الأسئلة التالية:

تُعَدُّ الْقَبِيلَةُ الْوَحْدَةُ السِّيَاسِيَّةُ عِنْدَ الْعَرَبِ. ذَلِكَ أَنَّ الْقَبِيلَةَ هِيَ مَجْمُوعَةٌ مِنَ النَّاسِ يَنْتَمُونَ إِلَى أَصْلٍ وَاحِدٍ مُشْتَرَكٍ تَجْمَعُهُمْ رَابِطَةُ الدَّمِّ، الَّذِي يَنْقُلُ الصِّفَاتُ الْوَرِاثِيَّةُ فِيمَا بَيْنَهُمْ لَقَدْ تَكُونُ مَجْتَمَعُ الْإِمَارَاتِ مِنْذُ سِنِينَ طَوِيلَةٍ مِنْ قَبَائِلٍ عَرَبِيَّةٍ أَصِيلَةٍ تَنْتَمِي إِلَى قَبَائِلٍ قَحْطَانِيَّةٍ وَعَدْنَانِيَّةٍ، وَقَدَّتْ مِنْ شِبْهِ الْجَزِيرَةِ الْعَرَبِيَّةِ. فَالرَّسُولُ صَلَّى اللَّهُ عَلَيْهِ وَسَلَّمَ يَنْتَمِي إِلَى قَبِيلَةِ قُرَيْشٍ وَيَرْجِعُ نَسَبُهُ إِلَى عَدْنَانَ، وَهِيَ قَبِيلَةٌ عَرِيقَةُ النِّسَبِ وَالشَّرَفِ، وَقَدْ كَانَتْ الْقَبَائِلُ هِيَ الْحَجَرُ الْأَسَاسِيُّ فِي تَكُونِ مَجْتَمَعِ شِبْهِ الْجَزِيرَةِ الْعَرَبِيَّةِ

- الوحدة السياسية عند العرب **الْقَبِيلَةُ**
- ترجع أصول سكان الإمارات إلى قبائل **عَدْنَانِيَّةٍ** و **قَحْطَانِيَّةٍ**
- ينتمي الرسول صلى الله عليه وسلم إلى قبيلة **قُرَيْشٍ**
- مجموعة من الناس ينتمون إلى أصل واحد **الْقَبِيلَةُ**

- استقرت بعض القبائل على الساحل **الشرقي** للخليج العربي



الجليل (الأحلاف)

وهو المعاهدة على التعاون ومد يد العون

حلف بني ياس بزعامة آل نهيان

نوع قوة **برية** مقرهم **الظفرة** وأبو ظبي



أكمل



حلف **القواسم**
بزعامة **القواسم**
نوع القوة **بحرية**
مقرهم **رأس الخيمة**



ضع أسماء القبائل في مكانها المناسب :

القواسم - النعيم - آل علي - الشرقيين - بني ياس - البوفلاسة

الإمارة	اسم القبيلة
أبو ظبي	بني ياس
دبي	البوفلاسة
الشارقة ورأس الخيمة	القواسم
عجمان	النعيم
أم القيوين	آل علي
الفجيرة	الشرقيين



ثانياً > رجال خلدتهم التاريخ

أطبق ما تعلمت

لون المعلم الذي أمامك وكتب
أول ما يداع قصر الحصن في أبو ظبي

اسمه



من الذي بنى هذا المعلم؟؟؟

أكمل

أول من نادى إلى فكرة الاتحاد

بين الإمارات هو الشيخ

سنة ميلادي



تولى حكم إمارة

تولى الحكم وهو في سن

من صفاته



من ألقابه

نشأ محباً

اشتهر بسيفه المسمى

لماذا لم ترى فكرته في
الاتحاد طريقها إلى النور ؟

اكتب من أهم إنجازاته

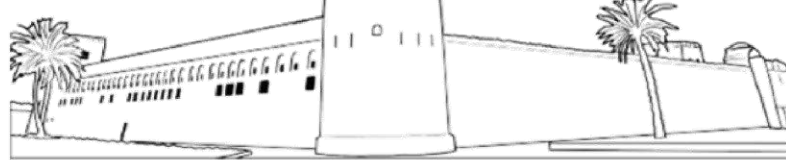




ثانياً > رجال خلد لهم التاريخ

أطبق ما تعلمت

لون المعلم الذي أمامك وكتب
اسمه قصر الحصن



من الذي بنى هذا المعلم؟؟؟؟
الشيخ ذياب بن عيسى آل نهيان

أكمل

أول من نادى إلى فكرة الاتحاد
بين الإمارات هو الشيخ
زايد بن خليفة آل نهيان

سنة ميلادي
1837 م



تولى الحكم وهو في سن
العشرين

تولى حكم إمارة
أبو ظبي

من صفاته
الشجاعة
الفروسية
الحنكة السياسية

من ألقابه
زايد الأول

نشأ محبا
للأدب والشعر

لماذا لم ترى فكرته في
الاتحاد طريقها إلى النور ؟
لأن بريطانيا وقفت
ضد فكرته

اشتهر بسيفه المسمى
الغمامة

اكتب من أهم إنجازاته



نشر الأمن والأمان



بنى قلعة الجاهلي



اهتم بالزراعة وبناء الأقاليم



ثالثاً الطريق إلى الاتحاد،

استكمل المخطط الزمني التالي



18 فبراير م

اجتماع

كان بين إمارتي

..... و

بقيادة



.....

أعلننا عن قيام اتحاد

.....

ما المقصود بـ

تلة كبيرة من الرمال

.....



25 فبراير م

اجتماع

عقد هذا الاجتماع في

.....

وضم هذا الاجتماع حكام الإمارات

.....

وحاكمي

و

يسمى هذا الشعار

بـ



مر قيام دولة الإمارات ب..... خطوات :



4 م

اجتماع



18 يوليو م

اجتماع

وُلِدَ الشَّيْخُ زَايِدُ بْنُ سُلْطَانِ آلِ نَهْيَانَ فِي قَصْرِ الْحِصْنِ بِإِمَارَةِ أَبُو ظَبْيٍ عام 1918 م، وَهُوَ الابْنُ الْأَصْغَرُ بَيْنَ أَرْبَعَةِ أَبْنَاءِ الشَّيْخِ سُلْطَانِ بْنِ زَايِدِ آلِ نَهْيَانَ -رَحِمَهُ اللَّهُ- حَاكِمِ إِمَارَةِ أَبُو ظَبْيٍ. وَانْتَقَلَ الشَّيْخُ زَايِدُ إِلَى مَنْطِقَةِ الْعَيْنِ بَعْدَ وَفَاةِ وَالِدِهِ حَيْثُ نَشَأَ بِهَا وَتَلَقَّى تَعْلِيمَهُ عَلَى يَدِ الْمُطَوِّعِ، فَحَفِظَ الْقُرْآنَ الْكَرِيمَ وَنَشَأَ عَلَى الْعَادَاتِ وَالتَّقَالِيدِ الْعَرَبِيَّةِ الْأَصِيلَةِ، فَشَبَّ عَلَى حُبِّ الْعُرُوبَةِ وَالاعْتِزَالِ بِهَا وَالْحِفَاظِ عَلَى تَقَالِيدِ وَعَادَاتِ الشَّعْبِ الْإِمَارَاتِيِّ.

من خلال الفقرة التي أمامك أجب على الأسئلة التالية:

- ولد الشيخ زايد في قصر بإمارة

عام

- تربيته بين أخوته

- انتقل الشيخ زايد بعد وفاة والده إلى منطقة

- تلقى الشيخ زايد تعليمه على يد

- الصفات التي اكتسبها وشب عليها

.....



ثالثاً الطريق إلى الاتحاد،

استكمل المخطط الزمني التالي



18 فبراير 1968 م

اجتماع عرقوب السديرة

كان بين إمارتي

أبو ظبي و دبي

بقيادة



الشيخ راشد

الشيخ زايد

أعلننا عن قيام اتحاد

ثنائي

ما المقصود بـ

تلة كبيرة من الرمال

العرقوب



25 فبراير 1968 م

اجتماع دبي الأول

عقد هذا الاجتماع في

دبي

و ضم هذا الاجتماع حكام الإمارات

السبع

وحاكمي قطر


و البجريين

يسمى هذا الشعار

بـ روج الاتحاد



مر قيام دولة الإمارات بـ خطوات :



2 / ديسمبر / 1971 م

اجتماع إعلان الاتحاد



18 يوليو 1971 م

اجتماع دبي الثاني

وُلِدَ الشَّيْخُ زَايِدُ بْنُ سُلْطَانِ آلِ نَهْيَانَ فِي قَصْرِ الْحَصَنِ بِإِمَارَةِ أَبُو ظَبْيٍ عَامَ 1918 م، وَهُوَ الْابْنُ الْأَصْغَرُ بَيْنَ أَرْبَعَةِ أَبْنَاءِ الشَّيْخِ سُلْطَانَ بْنِ زَايِدِ آلِ نَهْيَانَ -رَحِمَهُ اللَّهُ- حَاكِمِ إِمَارَةِ أَبُو ظَبْيٍ. وَانْتَقَلَ الشَّيْخُ زَايِدُ إِلَى مَنْطِقَةِ الْعَيْنِ بَعْدَ وَفَاةِ وَالِدِهِ حَيْثُ نَشَأَ بِهَا وَتَلَقَّى تَعْلِيمَهُ عَلَى يَدِ الْمُطَوِّعِ، فَحَفِظَ الْقُرْآنَ الْكَرِيمَ وَنَشَأَ عَلَى الْعَادَاتِ وَالتَّقَالِيدِ الْعَرَبِيَّةِ الْأَصِيلَةِ، فَشَبَّ عَلَى حُبِّ الْعُرُوبَةِ وَالاعْتِزَازِ بِهَا وَالْحِفَافِ عَلَى تَقَالِيدِ وَعَادَاتِ الشَّعْبِ الْإِمَارَاتِيِّ.

من خلال الفقرة التي أمامك أجب على الأسئلة التالية:

ولد الشيخ زايد في قصر الحصن بإمارة أبو ظبي

عام 1918 م.

ترتيبه بين أخوته 4.

انتقل الشيخ زايد بعد وفاة والده إلى منطقة العين

تلقى الشيخ زايد تعليمه على يد المطوع

الصفات التي اكتسبها وشب عليها حب العروبة و

الحفاظ على العادات والتقاليد

ركائز من بلادي

أولاد الحكومة > ثانياً دستور

أكمل

لكل دولة

لكل دولة

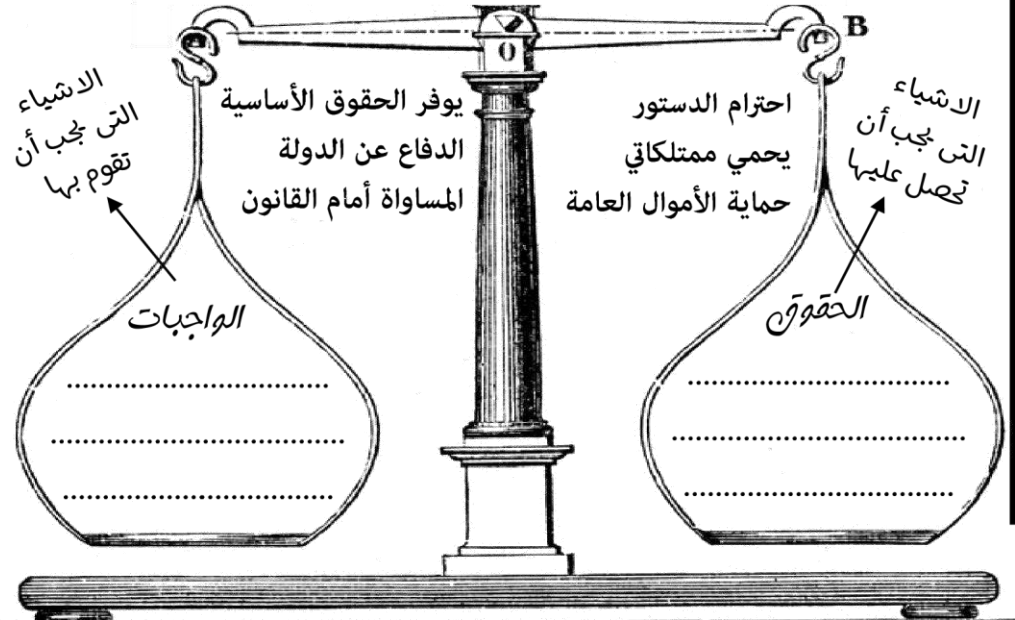
من أنا؟

وهي السلطة التي تتول إدارة شؤون البلاد وتنظم العلاقة بين أفراد المجتمع :

من أنا؟

مجموعة من القواعد والقوانين تنظم الحكم في الدولة وتبين حقوق كل فرد وواجباته.

صنف الكلمات التالية وفق معطيات التي أمامك :



الهيكل التنظيمي في دولة الإمارات

5

3

1

مجلس

رئيس الاتحاد ونائبه



المحاكم بمختلف درجاتها



نائبه هو الشيخ

رئيس الاتحاد هو الشيخ

2

4

المجلس الوطني



يتكون من عضوا
يمثلون الإمارات السبع



أعلى سلطة اتحادية
تتكون من
الإمارات

من مهام الحكومة؟

من القيم الوطنية؟

.....

.....

.....

.....

ركائز من بلادي

أولاد الحكومة > ثانياً دستور

أكمل

لكل دولة

..... دستور

لكل دولة

..... حكومة

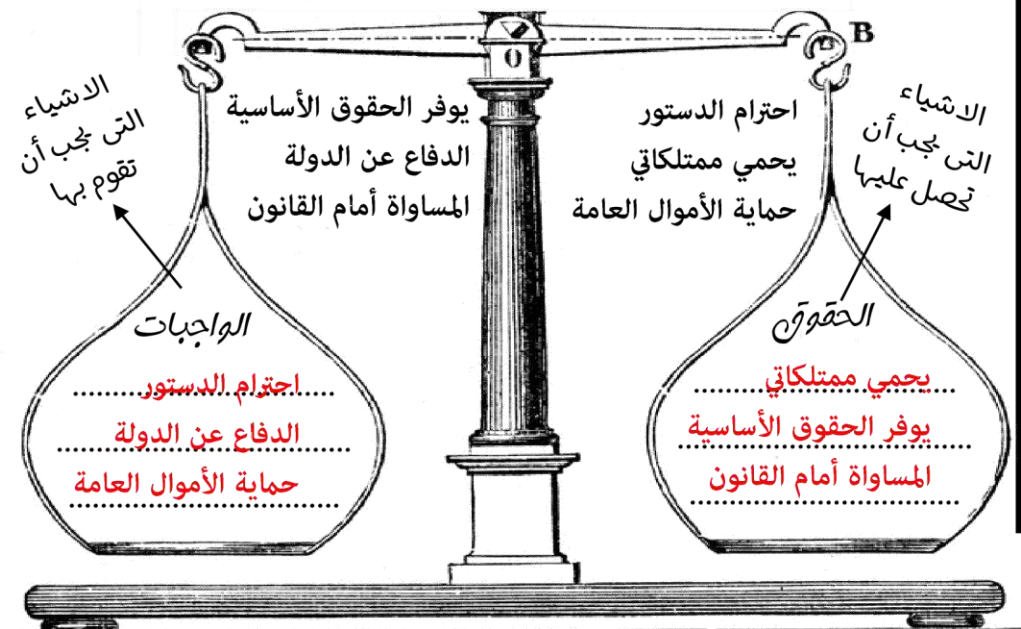
من أنا؟

وهي السلطة التي تتول إدارة شؤون البلاد وتنظم العلاقة بين أفراد المجتمع : حكومة

من أنا؟

مجموعة من القواعد والقوانين تنظم الحكم في الدولة وتبين حقوق كل فرد وواجباته. دستور

صنف الكلمات التالية وفق معطيات التي أمامك :



الهيكل التنظيمي في دولة الإمارات

5

القضاء الاتحادي



المحاكم بمختلف درجاتها

3

مجلس الوزراء



رئيس الاتحاد ونائبه



نائبه هو الشيخ محمد بن راشد



رئيس الاتحاد هو الشيخ خليفة بن زايد

4

المجلس الوطني



يتكون من 40... عضوا
يمثلون الإمارات السبع

2

المجلس الأعلى



أعلى سلطة اتحادية
تتكون من حكام الإمارات 7

من مهام الحكومة؟

الدفاع عن الدولة

وضع القوانين

تطوير البلاد

من القيم الوطنية؟

الحب - الولاء

الاعتزاز - الانتماء

احترام القدرة واحترام

الدستور

ركائز من بلادي

ثالثاً > شهداء الوطن <



لها استكشف سيرتي الذاتية



أول شهيد إماراتي

كان يعمل في مركز

التابع لجزيرة

الجزيرة تابعة لإمارة

الدولة التي احتلت هذه الجزيرة

من صفات الشهيد

أكمل فيما يلي:

تم تشكيل جيش من قوات التحالف العربي بقيادة كل من



سمي هذا التحالف ب (.....)
لماذا سميت بهذا الاسم؟

لدلالة على

من أسباب مشاركة دولة الإمارات العربية
المتحدة في عاصفة الحزم؟

1

2

أكمل

من مبادرات التي قامت بها دولة الإمارات العربية
المتحدة لتكريم الشهداء؟

1

2

3

4

مشاركة الحكام

وأولياء العهود في دولة

الإمارات لتشجيع الشهداء

وتقديم واجب العزاء

دلالة على مفهوم

(.....)

عدد الجزر الإماراتية الثلاث المحتلة:

-
-
-
- فسر؟؟ احتلال إيران للجزر الثلاث:
-
-



ركائز من بلادي

ثالثاً < شهداء الوطن >

لها استكشف سيرتي الذاتية



أول شهيد إماراتي

سالم سهيل خميس

كان يعمل في مركز

الشرطة

التابع لجزيرة

طنب الكبرى

الجزيرة تابعة لإمارة

رأس الخيمة

الدولة التي احتلت هذه الجزيرة

إيران

من صفات الشهيد

الشجاعة



طنب الكبرى

أكمل فيما يلي:

تم تشكيل جيش من قوات التحالف العربي بقيادة كل من



السعودية

الإمارات

سمي هذا التحالف ب (عاصفة الحزم)

لماذا سميت بهذا الاسم؟

لدلالة على قوتها وسرعتها

من أسباب مشاركة دولة الإمارات العربية المتحدة في عاصفة الحزم؟

1. الحرص على أمن الخليج واستقراره
2. العمل على عودة الاستقرار لليمن

أكمل

من مبادرات التي قامت بها دولة الإمارات العربية المتحدة لتكريم الشهداء وأسر الشهداء؟

1. تخصيص يوماً للشهداء (30 نوفمبر)
2. إطلاق أسماء الشهداء على الشوارع والمساجد والمدارس
3. مشروع إرشيف الشهداء
4. إنشاء (واحة الكرامة)

مشاركة الحكام

وأولياء العهود في دولة

الإمارات لتشيع الشهداء

وتقديم واجب العزاء

دلالة على مفهوم

(البيت متوحد)

عدد الجزر الإماراتية الثلاث المحتلة:

- طنب الكبرى
- طنب الصغرى
- أبو موسى
- فسر؟ احتلال إيران للجزر الثلاث:
- موقعها المتميز
- طمعاً بثرواتها

