

درسنا اليوم

# الإمارات عروس الخليج



# UAE



نواتج التعلم


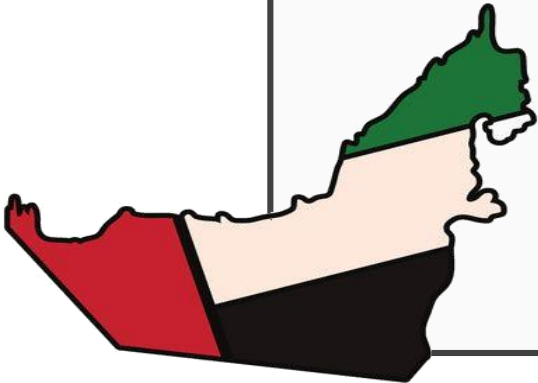

أن يحدد المتعلم موقع دولة الإمارات  
بالنسبة للدول المجاورة لها



أن يحدد المتعلم على خريطة الإمارات  
مكان الإمارة التي يعيش فيها.



أن يحدد مكان سكنه بالاسم (قارة  
آسيا-الإمارات-إمارة-حي...)

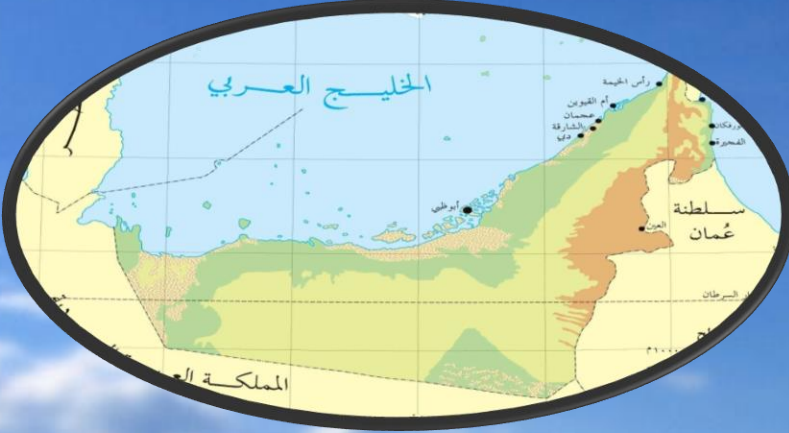




استراتيجية صورة و  
معنى

# كلمات مفتاحية (المفاهيم والمصطلحات)

## الموقع الجغرافي



## الخريطة



## المفاهيم

## الدول المجاورة



## الحدود السياسية









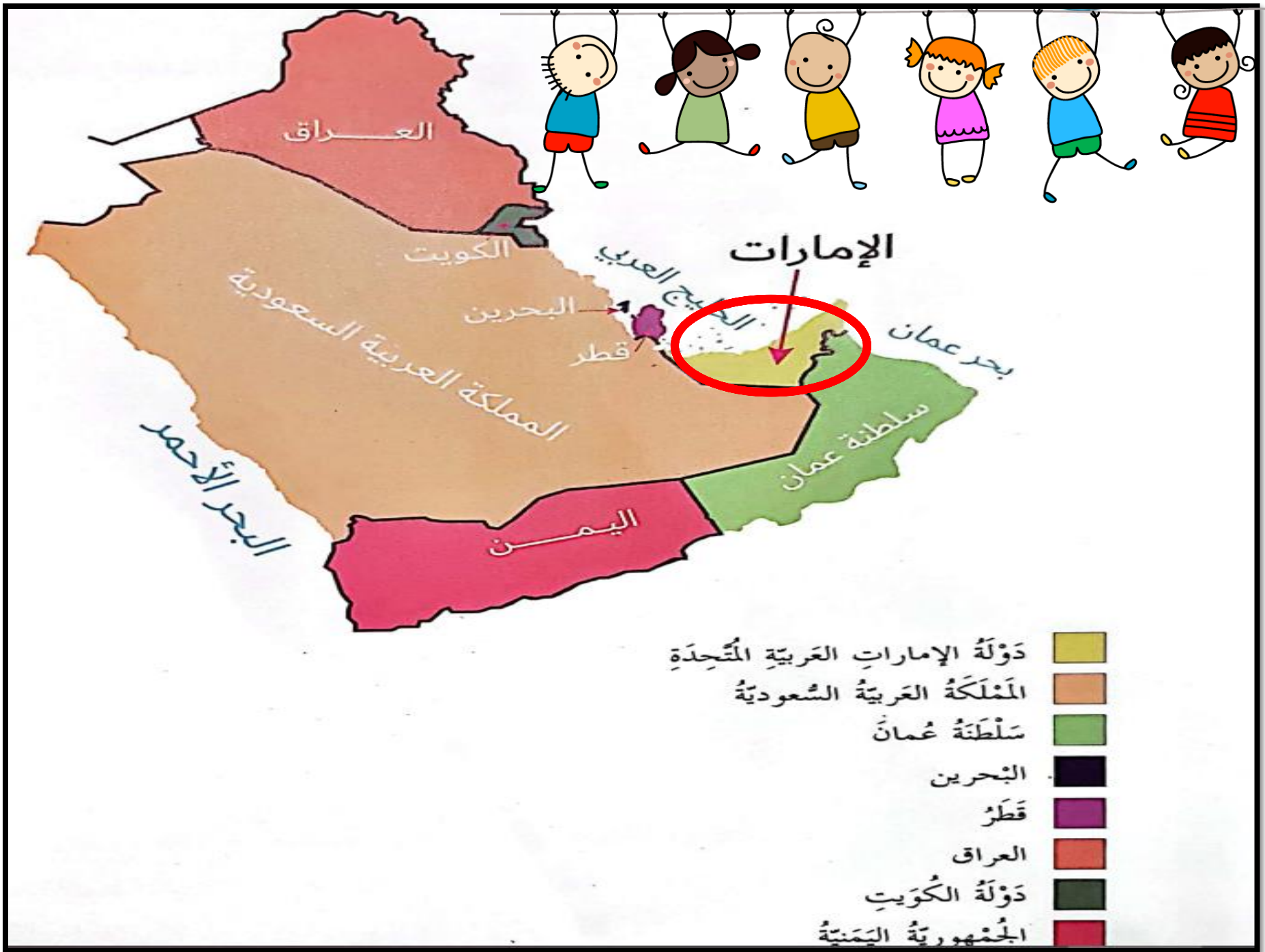




انظر الى الصورة وتحديث



أتعلم





استراتيجية  
أشاهد  
واستنتج  
مفهوم  
الخريطة





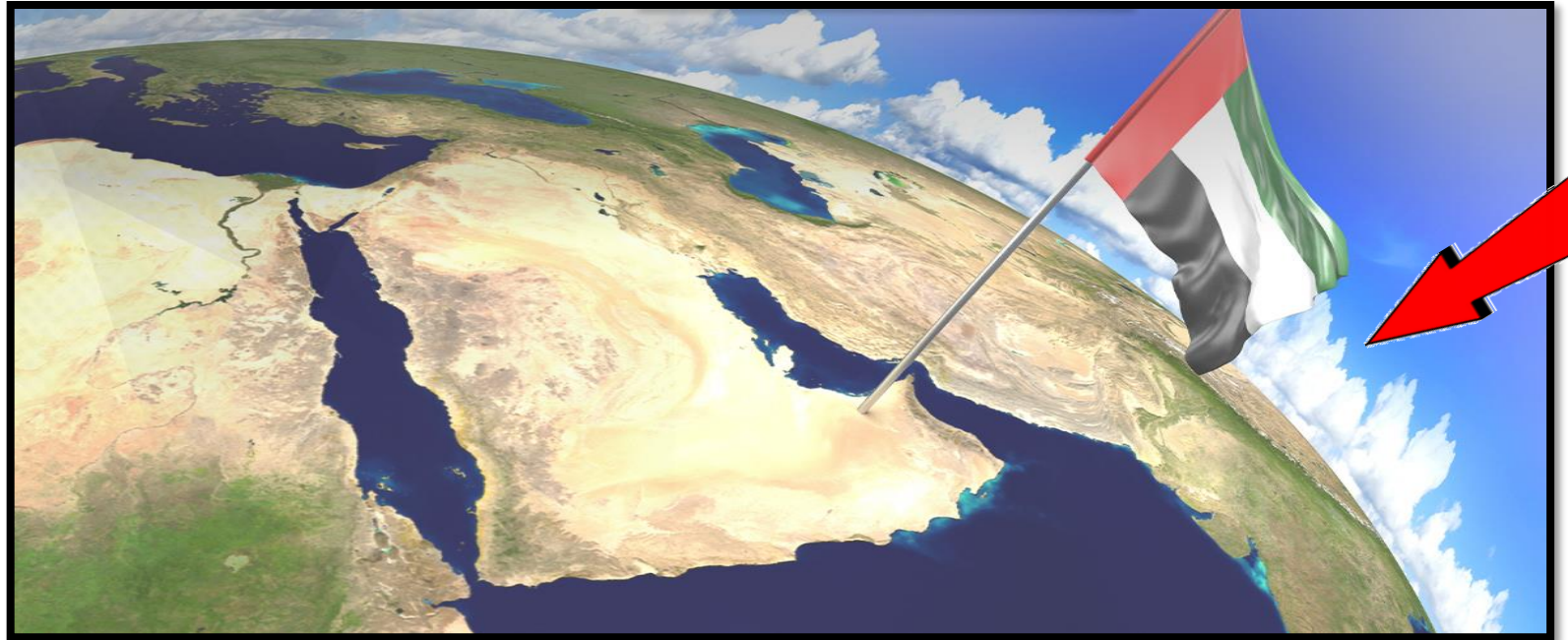
# المحور الثاني ... أتعلم



## الخريطة

1

رَسْمٌ تَخْطِيطِيٌّ يُوضِّحُ سَطْحَ الْأَرْضِ، أَوْ جُزْءًا مِنْ  
سَطْحِ الْأَرْضِ.



# المحور الثاني ... أتعلم



## المَوْقِعُ الجُغْرَافِيّ

2

المَكَانُ الَّذِي تَقَعُ فِيهِ دَوْلَةٌ أَوْ مَدِينَةٌ أَوْ بَيْتٌ أَوْ أَيُّ  
مَعْلَمٍ مِنَ الْمَعَالِمِ.





## حدد موقعك الحالي ...



## المحور الثاني ... أتعلم



### الحدود السياسية

3

خُطوطٌ وَهَمِيَّةٌ حَدَّدَهَا الْإِنْسَانُ، وَرُسِمَتْ لِتَفْصِلَ  
بَيْنَ الدُّوَلِ.



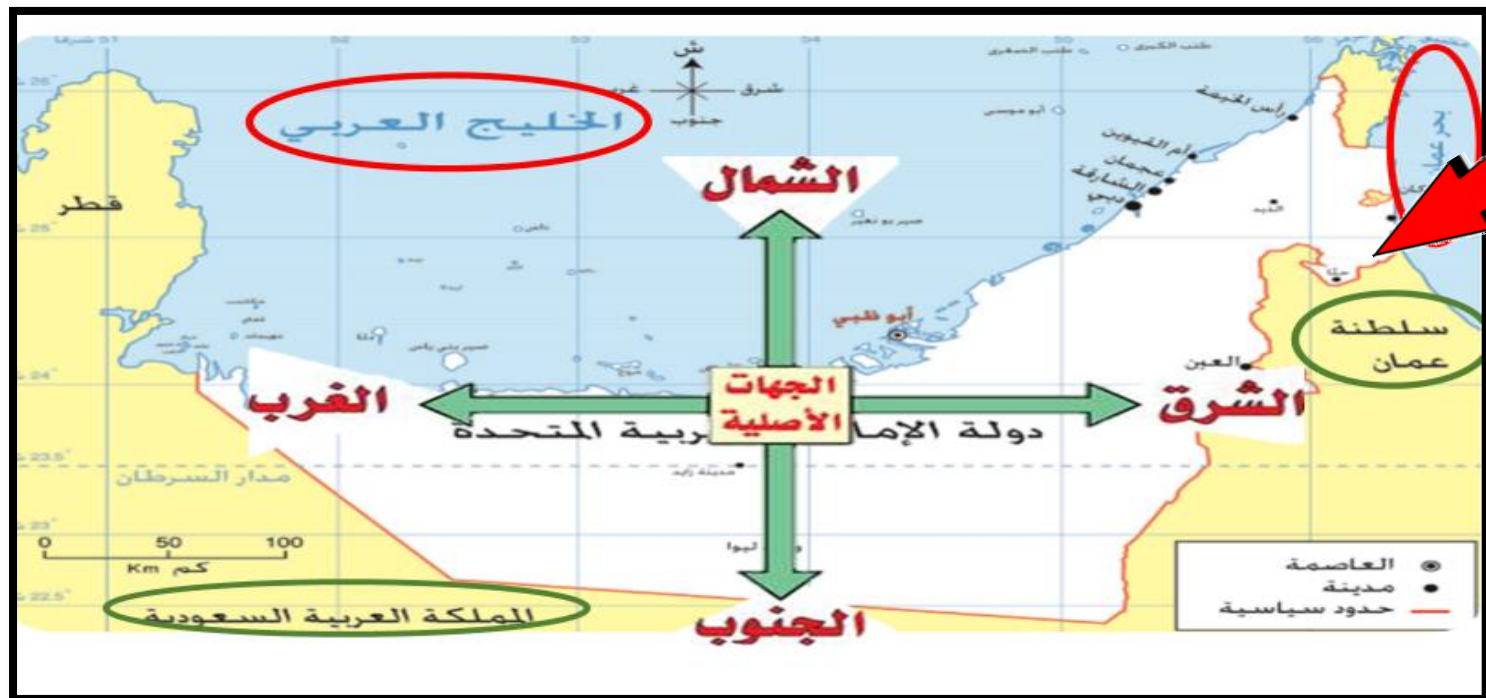


# المحور الثاني ... أتعلم



## الدَّوْلُ الْمُجَاوِرَةُ

الدَّوْلُ الَّتِي تَشْتَرِكُ مَعَ دَوْلٍ أُخْرَى فِي الْحُدُودِ  
السِّيَاسِيَّةِ.



## المحور الثاني ... أتعلم



### مِفْتَاحُ الخَرِيطَةِ

5

رُموزٌ أو ألوانٌ تُوضَعُ في أسفلِ الخَرِيطَةِ، وتُقدِّمُ  
مَعلُومَاتٍ مُحدَّدةً.



تتركز الجبال في دولة الامارات في المناطق:

الغربية (غرب)

الشرقية (شرق)



## المحور الثاني ... أتعلم



### مَعَالِمُ الْمَدِينَةِ

الأبنية التي تُشْتَهَرُ بِهَا وَتُمَيِّزُهَا عَنْ غَيْرِهَا مِنْ  
الْمُدُنِ، مِثْلُ بُرْجِ خَلِيفَةٍ فِي مَدِينَةِ دُبَيِّ.



التقويم البنائي

التركيب


(الربط باللغة العربية) أصدقائي الأذكاء .. ساعدوني في  
التعرف على الكلمات الضائعة  
(أسرع طالب سيحصل على وسام)

???

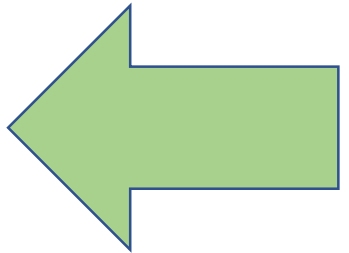


5	4	3	2	1
ط	ر	ي	خ	ل
10	9	8	7	6
ة	س	و	ث	ا

10	5	3	4	2	1	6



الخريطة





التقويم البنائي

التركيب

( الربط باللغة العربية ) أصدقائي الأذكاء .. ساعدوني في  
التعرف على الكلمات الضائعة  
( أسرع طالب سيحصل على وسام )




5	4	3	2	1	12
ط	ر	ي	خ	ل	ف
10	9	8	7	6	11
ة	ح	م	ث	ا	ع

9	6	7	12	8



10	5	3	4	2	1	6



مفتاح الخريطة



اقرأ النص، ثم أجب عن الأسئلة



## الإمارات عروس الخليج

تقع دولة الإمارات العربية المتحدة في قلب العالم، في الجهة الجنوبية الغربية من قارة آسيا التي تعدّ أكبر قارة من بين القارتين الشيع الموحدة على كوكب الأرض.



اقرأ

اقرأ النص ثم أجب عن الأسئلة







## الإمارات عروس الخليج

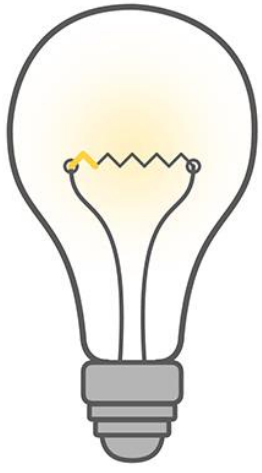
اقرأ النص ثم أجب عن الأسئلة



وإذا اقترَبنا أَكْثَرَ فَإِنَّ دَوْلَةَ الْإِمَارَاتِ تَقَعُ  
شَرْقَ شِبْهِ الْجَزِيرَةِ الْعَرَبِيَّةِ، تُحِيطُ بِهَا مِنْ  
الشَّامِلِ وَمِنْ الشَّامِلِ الْغَرْبِيِّ مِيَاهُ الْخَلِيجِ  
الْعَرَبِيِّ؛ إِذْ تُطِلُّ سَوَاحِلُهَا الشَّمَالِيَّةُ  
وَالشَّمَالِيَّةُ الْغَرْبِيَّةُ عَلَى مِيَاهِهِ الزُّرْقَاءِ  
الْأَمِيقَةِ؛ وَلِذَلِكَ تُسَمَّى بِـ (عُرُوسِ  
الْخَلِيجِ). تَحُدُّهَا غَرْبًا وَجَنُوبًا الْمَمْلَكَةُ  
الْعَرَبِيَّةُ السُّعُودِيَّةُ، وَيَحُدُّهَا شَرْقًا بَحْرُ  
عُمَانَ وَسُلْطَنَةُ عُمَانَ. وَبِهَذَا تُعَدُّ دَوْلَةُ  
الْإِمَارَاتِ الدَّوْلَةُ الْعَرَبِيَّةُ الْوَحِيدَةُ الَّتِي

تُطِلُّ عَلَى مُسَطَّحَيْنِ مَائِيَّيْنِ (الْخَلِيجِ الْعَرَبِيِّ وَبَحْرِ عُمَانَ). وَتَسْبَحُ فِي مِيَاهِ الْخَلِيجِ الْعَرَبِيِّ أَكْثَرُ مِنْ مِئَتِي جَزِيرَةٍ  
تَابِعَةٌ لِدَوْلَةِ الْإِمَارَاتِ، يُشَكِّلُ مُعْظَمُهَا مَحْمِيَّاتٍ طَبِيعِيَّةً بَيْئَةً، وَوُجْهَاتٍ سِيَاحِيَّةً لِلزَّائِرِينَ، مِنْ أَهْمِّهَا: (الْحَمْرَةُ،  
السَّيْنَةُ، السُّعَدِيَّاتُ، أُمُّ النَّارِ).






وإمارة أبوظبي هي عاصمة دولة الإمارات العربية المتحدة، وتقع على الحدود مع المملكة العربية السعودية وسلطنة عُمان والخليج العربي، وهي أكبر الإمارات السبع مساحةً. وتضم ثلاث مناطق رئيسية هي: مدينة أبوظبي (العاصمة) وفيها مقر رئيس الدولة.

مدينة العين التي تسمى بالمنطقة الشرقية ؛ لأنها تقع جهة الشرق من إمارة أبوظبي. مدينة الظفرة التي كانت تسمى سابقاً بالمنطقة الغربية ؛ لأنها تقع جهة الغرب من إمارة أبوظبي.

أما دبي فهي تتوسط بين أبوظبي العاصمة، وباقي الإمارات (الشارقة، عجمان، أم القيوين، رأس الخيمة، الفجيرة) التي تُعرف باسم الإمارات الشمالية؛ لأنها تقع كلها في شمال خريطة دولة الإمارات العربية المتحدة.

والإمارات التي تطل على الخليج العربي هي: أبوظبي، دبي، عجمان، رأس الخيمة، الفجيرة. أما إمارة الشارقة فتطل على الخليج العربي وبحر عُمان معاً. وتطل إمارة الفجيرة على بحر عُمان فقط، وهذا يمنحها مكانةً استراتيجيةً مهمةً للدولة.





أستنتج أن التقوى و العمل الصالح طريق الفوز بالجنة

استراتيجية

و الحوار  
المناقشة

كيف تكون مواطنًا صالحًا تخدم وطنك؟



مدة النشاط

2:00





# حل نشاط الكتاب المدرسي





1. اِخْتَرِ الإِجَابَةَ الصَّحِيحَةَ فِي مَا يَأْتِي:

01. مَا مَعْنَى قَوْلِنَا «تَقَعُ دَوْلَةُ الإِمَارَاتِ الْعَرَبِيَّةِ الْمُتَّحِدَةِ فِي قَلْبِ الْعَالَمِ»؟

- أ. مَوْقِعُ دَوْلَةِ الإِمَارَاتِ مَوْقِعٌ مُهِمٌّ وَإِسْتِرَاطِيஜِيٌّ.
- ب. مَوْقِعُ دَوْلَةِ الإِمَارَاتِ قَرِيبٌ مِنْ أَهَمِّ دَوْلِ الْعَالَمِ.
- ت. مَوْقِعُ دَوْلَةِ الإِمَارَاتِ أَهَمُّ مَوْقِعٍ فِي الْعَالَمِ.

02. عَلَى أَيِّ مِيَاهٍ تُطِلُّ دَوْلَةُ الإِمَارَاتِ الْعَرَبِيَّةِ الْمُتَّحِدَةِ؟

- أ. الْخَلِيجُ الْعَرَبِيُّ.
- ب. بَحْرُ عُomán.
- ت. الْخَلِيجُ الْعَرَبِيُّ وَبَحْرُ عُomán.

03. مَا الدَّوْلَةُ الْمُجَاوِرَةُ لِلإِمَارَاتِ مِنْ جِهَةِ الْغَرْبِ؟

- أ. الْمَمْلَكَةُ الْعَرَبِيَّةُ السُّعُودِيَّةُ.
- ب. سُلْطَنَةُ عُomán.
- ت. مَمْلَكَةُ الْبَحْرَيْنِ.



2. أَذْكَرُ سَبَبِينَ يَجْعَلَانِ جُزْرَ دَوْلَةِ الْإِمَارَاتِ مَنَاطِقَ ذَاتَ أَهْمِيَّةٍ كَبِيرَةٍ.

- \*لأن معظمها محميات طبيعية -
- \*وجهات سياحية للزائرين -

3. عَلَّلْ مَا يَأْتِي:

01. لِإِمَارَةِ الْفُجَيْرَةِ أَهْمِيَّةٌ إِسْتِرَاطِيَّةٌ بِالنِّسْبَةِ لِدَوْلَةِ الْإِمَارَاتِ.

لأنها الإمارة الوحيدة المطلة علي الساحل  
الشرقي لدولة الإمارات

02. تُسَمَّى الْعَيْنُ بِالْمِنْطَقَةِ الشَّرْقِيَّةِ.

لأنها تقع جهة الشرق من إمارة أبوظبي

03. تُسَمَّى الشَّارِقَةُ وَعَجْمَانُ وَأُمُّ الْقَيَوِينِ وَرَأْسُ الْخَيْمَةِ وَالْفُجَيْرَةُ بِالْإِمَارَاتِ الشَّمَالِيَّةِ.

لأنها تقع كلها شمال خريطة دولة الإمارات  
العربية المتحدة



1. أنظُر إلى رَسْم خَرِيطَةِ دَوْلَةِ الإِمَارَاتِ، وَمَوْقِع كُلِّ إِمَارَةٍ فِيهَا، ثُمَّ اكْتُبِ اسْمَ الإِمَارَةِ الْمَحْدَدَةِ بِاللُّونِ الْبَرْتَقَالِيِّ فِي الْخَرَائِطِ الْمُرَقَّمةِ مِنْ 1 إلى 7:



أم القيوين

رأس الخيمة

الفجيرة

الشارقة

عجمان

أبو ظبي


دبي





دبي

1




عجمان

2



أم القيوين

3



أبوظبي

4




الفجيرة

5



الشارقة

6



رأس الخيمة

7



2. أنظر إلى الخريطة، ثم لون دولة الإمارات باللون الأحمر، والمنطقة العربية السعودية باللون الأخضر، وسلسلة عمان باللون الأصفر، واضع مفتاحاً للخريطة يوضح هذه الدول الثلاث.



واجب منزلي

3. أكتب مكان سكنك بدءاً بالشارع والنهاية برقم البيت.

أعيش في عمارة أسماها في دولة .....

في إمارة ..... وسكني تقع في منطقة .....

في شارع ..... ورقعة .....





التقويم الختامي .

مسابقة  
الوصول  
للكنز ...

هيا يا أبنائي مستعدين ..

رسم تخطيطي يوضح سطح الأرض..

الموقع

الخريطة





رموز أو ألوان توضع في أسفل الخريطة وتقدم  
معلومات محددة

مفتاح الخريطة

الحدود



أكبر الإمارات السبع مساحة هي

إمارة عجمان

إمارة أبوظبي



تطل دولة الإمارات علي مسطحين  
مائيين هما :

الخليج العربي وبحر  
عمان

الخليج العربي  
وبحر العرب






بطاقة خروج  
من الحصة

## غلق الحصة

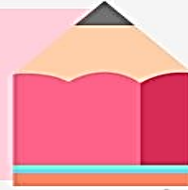
هيا بنا لنقيم فهمك للدرس



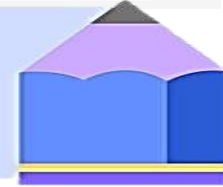
ما هو شعورك تجاه الدرس؟



ماذا تعلمت من الدرس؟



ما الذي أعجبك في الدرس؟





# ألقاكم في الحصة القادمة

دعاء كفارة المجلس  
سبحانك اللهم وبحمدك، أشهد أن لا إله إلا أنت  
أستغفرك وأتوب إليك

