



مؤسسة الإمارات
للتعليم المدرسي
EMIRATES SCHOOLS
ESTABLISHMENT

قطاع العمليات المدرسية الأول



الفرع المدرسي ١ \ نطاق ٤

روضة ومدرسة فاطمة بنت مبارك للتعليم

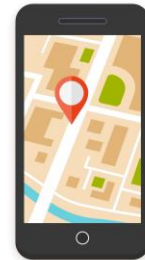
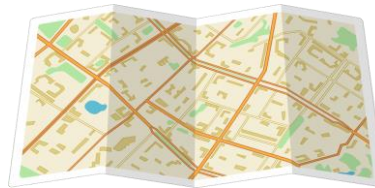
الأساسي ح ١ وح ٢ وثانوي

استعد لاختبار الدراسات الاجتماعية

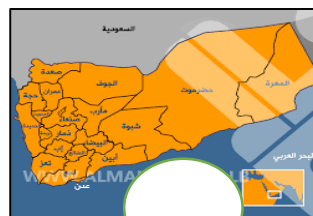
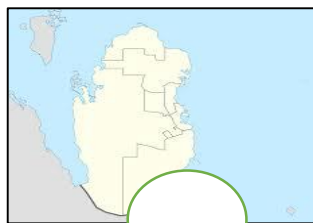
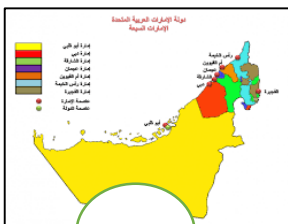
• أحوط صورة الكرة الأرضية :



• أحوط صور الخريطة :



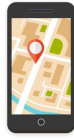
• أضع علامة (/) تحت خريطة دولة الإمارات :



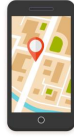
استعد لاختبار الدراسات الاجتماعية

• أحوط الإجابة الصحيحة :

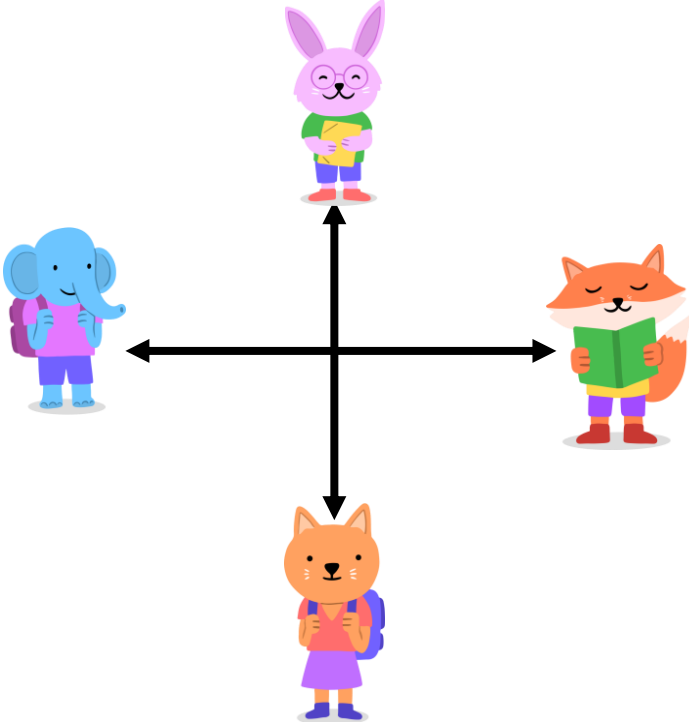
• ما الذي يساعدنا على الوصول إلى أي مكان نريد الذهاب إليه ؟:



• ما الذي يساعدنا على معرفة الاتجاه الذي نسير فيه ؟:



• أكتب اسم الجهة المناسبة لكل صورة : (شمال – جنوب – شرق – غرب)



.....	
.....	
.....	
.....	