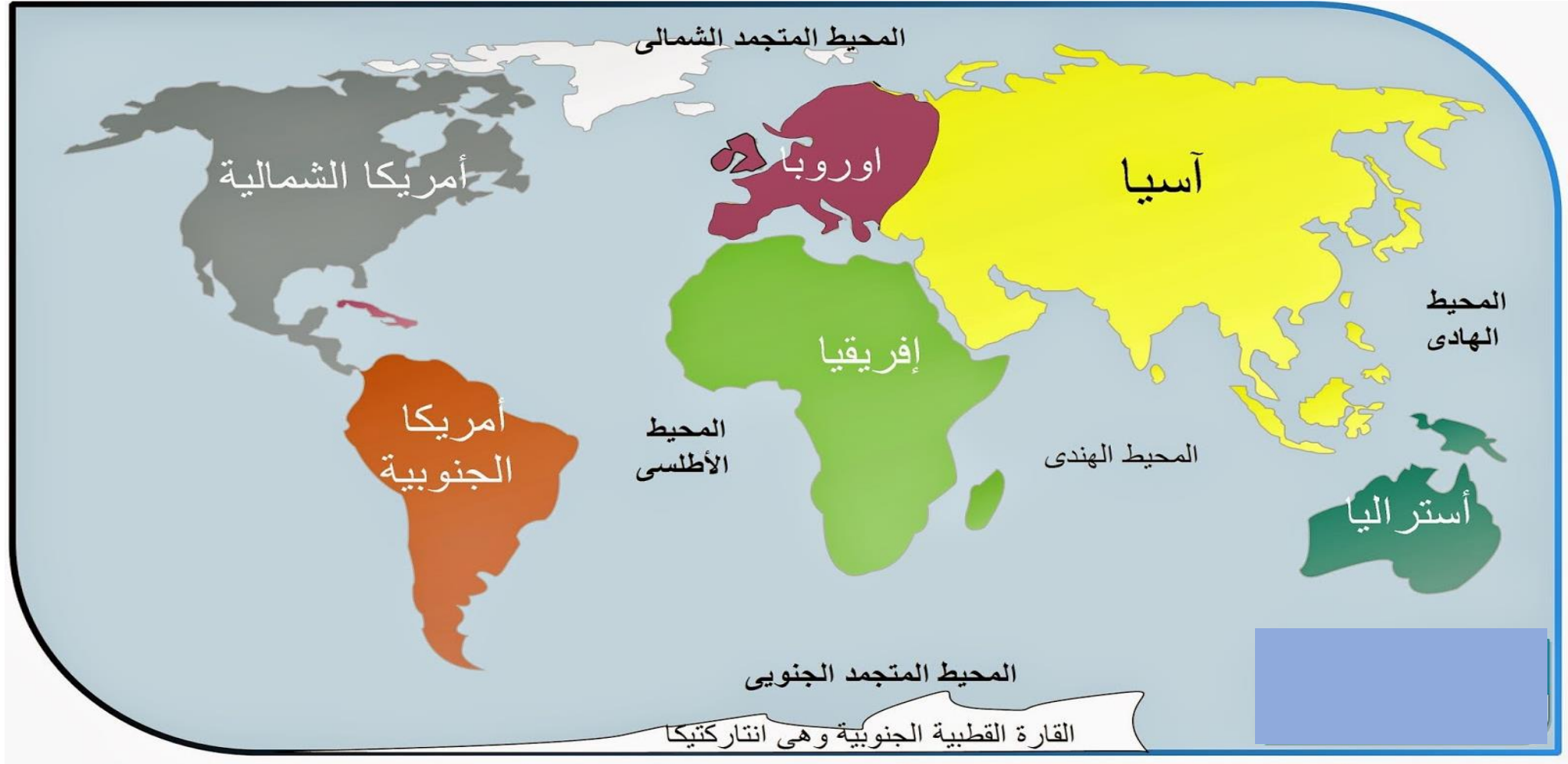


# مراجعة القارات والمحيطات



للفصل :- الثالث

عنوان درسنا :- القارات والمحيطات

الوحدة السابعة :- هم ومثالكم

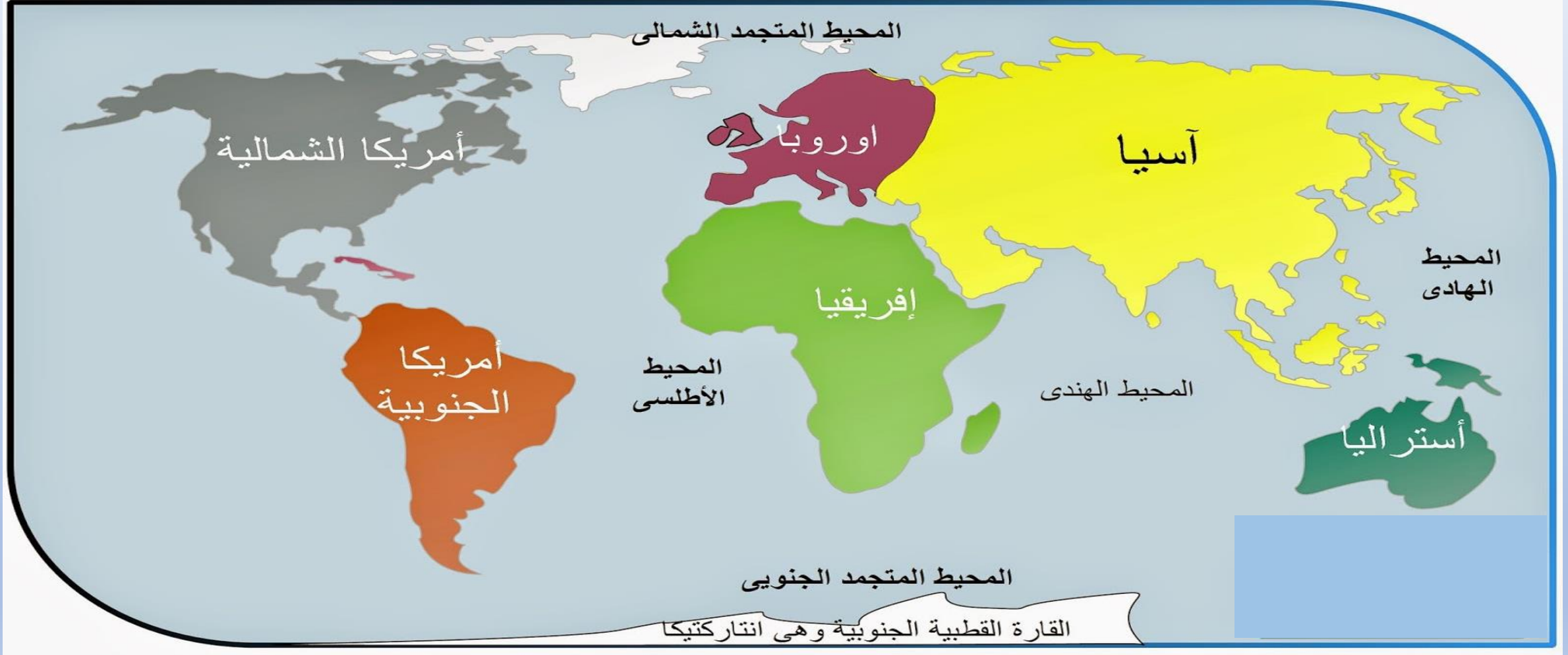
النتائج الثاني :- يستخدم الخريطة لتعرف على مواقع القارات السبع والمحيطات على سطح الكرة الأرضية .



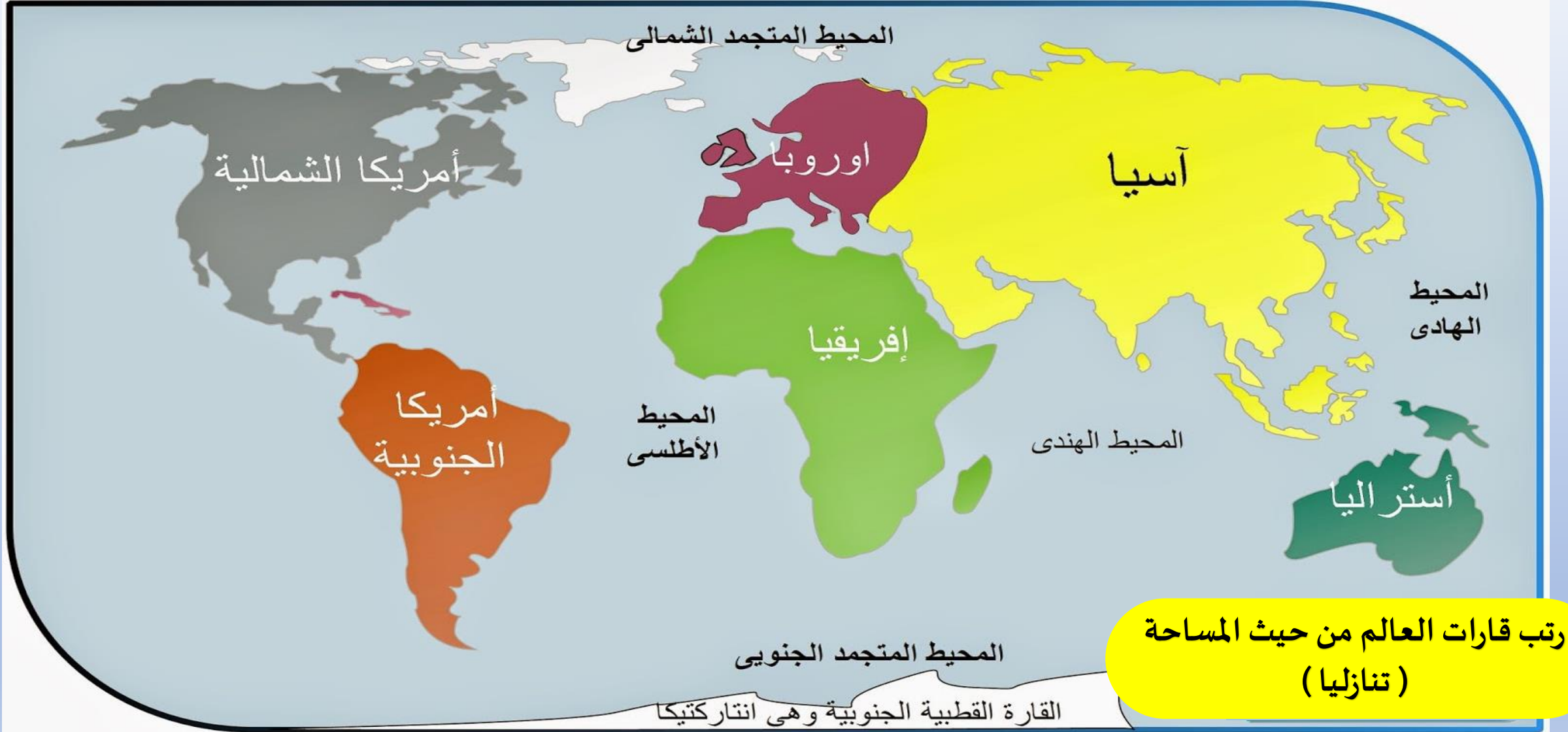
كتاب الطالب الجزء السابع صفحة 244

النتائج الثاني :- يستخدم الخريطة لتعرف على مواقع القارات السبع والمحيطات على سطح الكرة الأرضية .

## من خلال خريطة العالم أجب عن ما يليه من الأسئلة



النتائج الثاني :- يستخدم الخريطة لتعرف على مواقع القارات السبع والمحيطات على سطح الكرة الأرضية .



رتب قارات العالم من حيث المساحة  
( تنازليا )

النتائج الثاني :- يستخدم الخريطة لتعرف على مواقع القارات السبع والمحيطات على سطح الكرة الأرضية .

الرقم	القارة	المساحة	رتب قارات العالم من حيث المساحة (تنازلياً)
	آسيا	44,570,000	
	أستراليا	8,525,989	
	أوروبا	10,180,000	
	أفريقيا	30,370,000	
	أمريكا الشمالية	24,709,000	
	أنتاركتيكا	14,200,000	
	أمريكا الجنوبية	17,840,000	



النتائج الثاني :- يستخدم الخريطة لتعرف على مواقع القارات السبع والمحيطات على سطح الكرة الأرضية .

الرقم	القارة	المساحة
1	آسيا	44,570,000
7	أستراليا	8,525,989
6	أوروبا	10,180,000
2	أفريقيا	30,370,000
3	أمريكا الشمالية	24,709,000
5	أنتاركتيكا	14,200,000
4	أمريكا الجنوبية	17,840,000

رتب  
قارات  
العالم  
من حيث  
المساحة  
(تنازلياً)

الوحدة السابعة :- هم أمثالك

عنوان درسنا :- القارات والمحيطات

للف :- الثالث

النتائج الثاني :- يستخدم الخريطة لتعرف على مواقع القارات السبع والمحيطات على سطح الكرة الأرضية .

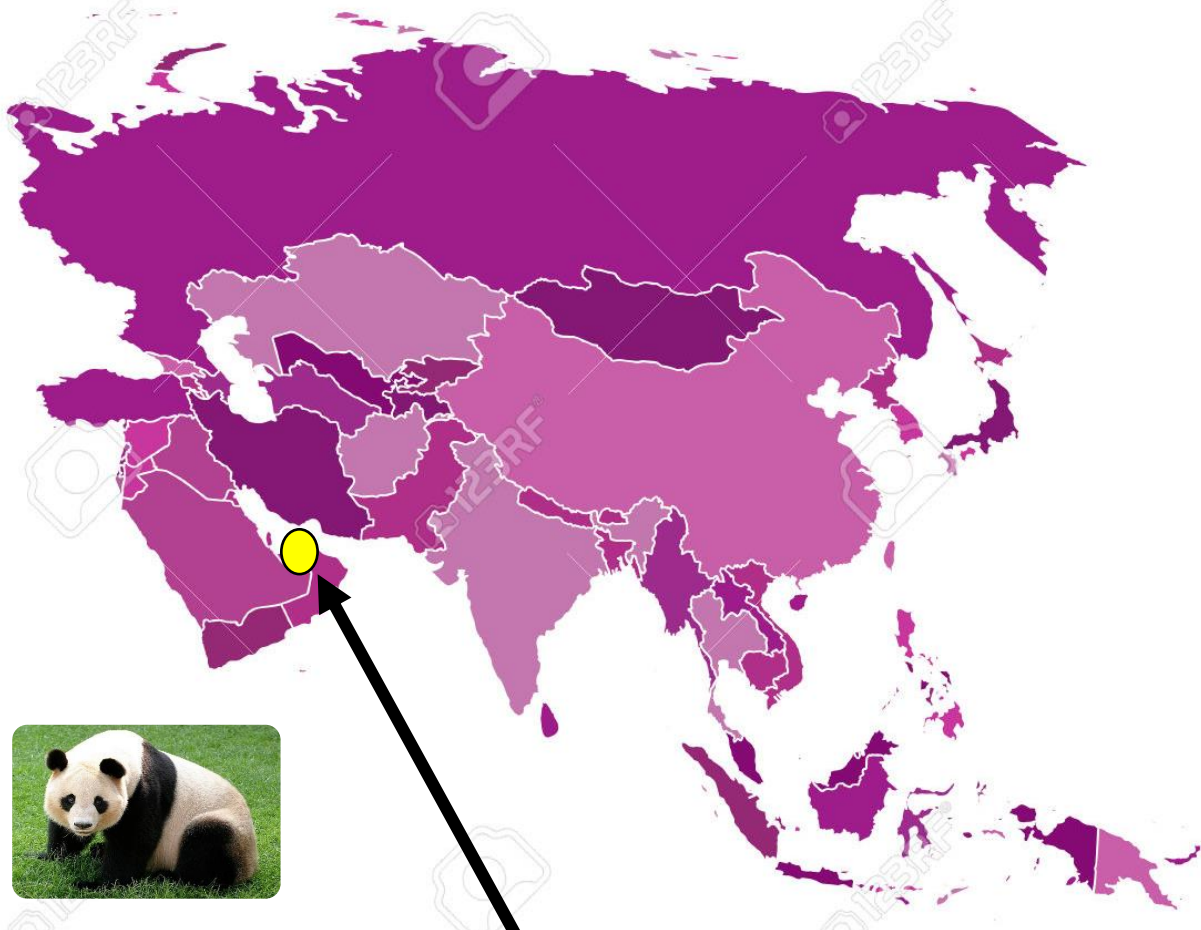


فكر معي  
لماذا تم كتابة  
أسم المحيط  
الهادي مرتين  
على الخريطة

## أولاً - قارة آسيا:



هي أكبر القارات، إذ تُشكّل 30% من مساحة اليابسة على الأرض، ويعيش فيها أكثر من نصف سُكّان العالم. وتوجد فيها أعلى قمة على سطح الأرض، وهي قمة جبل إفرست.



موقع بلادي الحبيبة  
الإمارات في قارة آسيا

1- تشغل قارة آسيا من ضمن مساحة اليابسة حوالي ..  
( 50 % - 30 % - 20 % )

2- يعيش في قارة آسيا حوالي ..... من سكان العالم .  
( 40 % - 30 % - 50 % ) .

3- أعلى قمة جبل في العالم هي قمة :  
( جبل الإنديز - جبل جيس - جبل افرست )

4- تقع دولة الإمارات العربية المتحدة في قارة :  
( آسيا - أفريقيا - أوروبا )





## ثانيًا - قارة إفريقيا:

تُشكّل إفريقيا 20% من إجمالي مساحة اليابسة. ويوجد فيها أطول نهر في العالم، وهو نهر النيل، كما يوجد فيها أكبر صحراء في العالم، وهي الصحراء الكبرى. وقارة إفريقيا غنية بالذهب والألماس؛ 95% من ألماس العالم موجود فيها.



- 1- أطول نهر في العالم هو .  
(نهر النيل – نهر الأمازون – نهر اليانجستي )
- 2- يجري نهر النيل في دولتي  
(مصر والصومال – مصر والسودان – السودان والصومال )
- 3- القارة الغنية بالذهب والألماس هي قارة :  
(آسيا – استراليا – أفريقيا).
- 4-تنتج قارة أفريقيا من الذهب والألماس نسبة :  
(59 % - 95 % - 20 %).

## أمريكا الشمالية



## ثالثاً- قارة أمريكا الشمالية:

تقع في نصف الكرة الشمالي، ويوجد فيها ثلاث دول فقط:  
الولايات المتحدة الأمريكية، وكندا، والمكسيك، كما يوجد  
فيها أكبر بحيرة من المياه العذبة، وتسمى بحيرة سوبرير.

1-الدول التي تتكون منها أمريكا الشمالية هم :  
( الولايات المتحدة الأمريكية وكندا والبرازيل - الولايات المتحدة الأمريكية وكندا والمكسيك - كندا والمكسيك والبرازيل ).

2-تقع قارة أمريكا الشمالية في نصف الكرة ..  
(الشمالي - الجنوبي - الشمالي الجنوبي - الجنوبي الشرقي).

3-أكبر بحيرة للمياه العذبة توجد في قارة.  
(أمريكا الجنوبية -أمريكا الشمالية - قارة أوروبا )

4- أكبر دول قارة أمريكا الشمالية هي  
( كندا - المكسيك - الولايات المتحدة الأمريكية )

## رابعاً- قارة أمريكا الجنوبية:

يَقَعُ مُعْظَمُهَا فِي نِصْفِ الْكُرَةِ الْجَنُوبِيِّ، بِاسْتِثْنَاءِ مِنتَقَةِ صَغِيرَةٍ فِي أَقْصَى الشَّامِلِ مِنَ الْقَارَةِ. وَيُوجَدُ فِيهَا أَعْلَى شَلَالٍ فِي الْعَالَمِ، وَيُسَمَّى شَلَالِ أَنْجِل. وَأَطْوَلُ سِلْسِلَةِ جِبَالٍ فِي الْعَالَمِ، تُعْرَفُ بِاسْمِ جِبَالِ الْأَنْدِيز، وَثَانِي أَكْبَرَ نَهْرٍ فِي الْعَالَمِ، وَهُوَ نَهْرُ الْأَمَازُون.



1-أكبر دولة في قارة أمريكا الجنوبية ..  
(دولة الأرجنتين – دولة البرازيل – بيرو )

2-أطول سلسلة جبال في العالم هي ..  
(جبال الأنديز – جبال الأبلش – جبال الروكي )

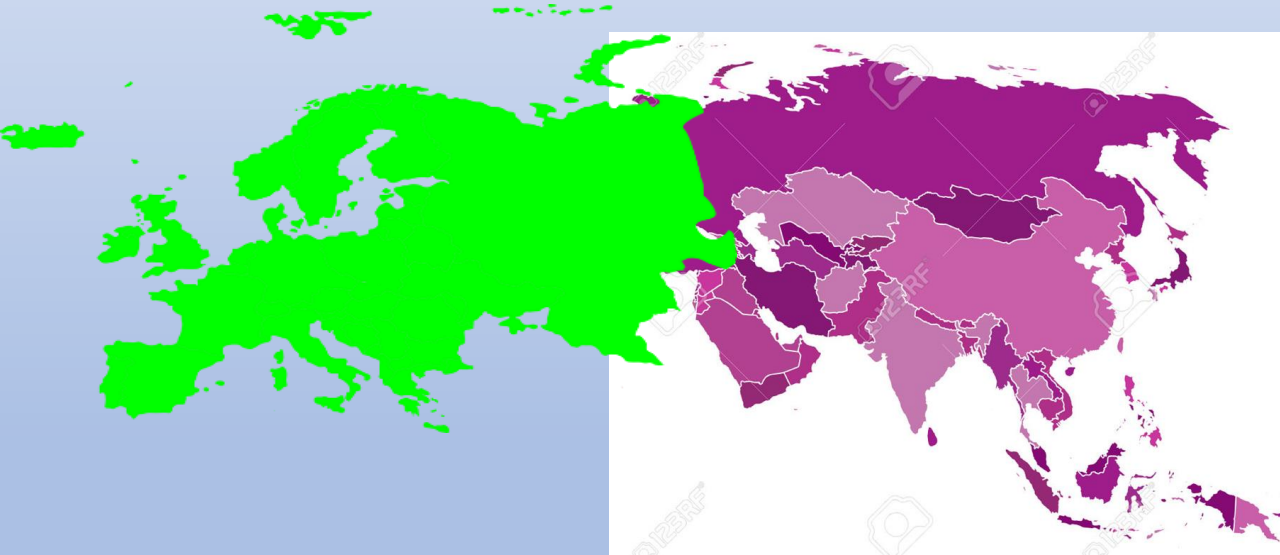
3- أعلى شلال في العالم يوجد في قارة ...  
(أمريكا الشمالية – أمريكا الجنوبية – أوروبا )





## خامساً - قارة أوروبا:

تَشْتَرِكُ أوروبا مَعَ قارةِ آسيا في الحُدُودِ مِنْ جِهَةِ الشَّرْقِ،  
وَهِيَ القارةُ الوَحيدةُ الَّتِي لا يَوجَدُ فيها صَحراءُ. وتُعَدُّ مَدِينَتَا  
لندنَ وباريسَ مِنْ أَكْثَرِ مُدُنِ أوروبا اِزْدِحامًا بالسُّكَّانِ، وفي  
مَدِينَةِ باريسَ يَقَعُ بُرْجُ إيفل الشهيرُ.



1- تقع قارة أوروبا في جهة ..... من قارة آسيا  
(الغرب - الشرق - الجنوب).

2- القارة التي لا توجد فيها صحراء ...  
(قارة أفريقيا - قارة أمريكا الجنوبية - قارة أوروبا)

3- القارة التي توجد فيها أكبر صحراء في العالم ..  
(قارة أفريقيا - قارة أوروبا - قارة أمريكا الشمالية).

4- أكثر مدن العالم إزدحاماً في العالم ..  
(باريس وسويسرا - لندن وواشنطن - لندن وباريس)



## قارة أنتاركتيكا



### سادساً - قارة أنتاركتيكا:

تَقَعُ قَارَةُ أَنْتَارَكْتِيكََا فِي الْقُطْبِ الْجَنُوبِيِّ، وَهِيَ مُحَاطَةٌ بِمِيَاهِ الْقُطْبِ الْجَنُوبِيِّ مِنْ كُلِّ جِهَةٍ. وَتُعَدُّ مِنْ أَكْثَرِ الْمَنَاطِقِ جَفَافًا وَبُرُودَةً عَلَى سَطْحِ الْأَرْضِ، وَلَيْسَ فِيهَا دَوْلٌ وَلَا مَدَنٌ. وَفِي الشِّتَاءِ يَتَحَوَّلُ الْيَوْمُ كُلُّهُ إِلَى لَيْلٍ، وَفِي الصَّيْفِ يَتَحَوَّلُ الْيَوْمُ كُلُّهُ إِلَى نَهَارٍ.

1- من خلال الصور التي أمامك الكائنات الحية التي تستطيع العيش في قارة أنتاركتيكا:

(الدب القطبي والغزال - البطريق والنعام - الدب القطبي والبطريق)

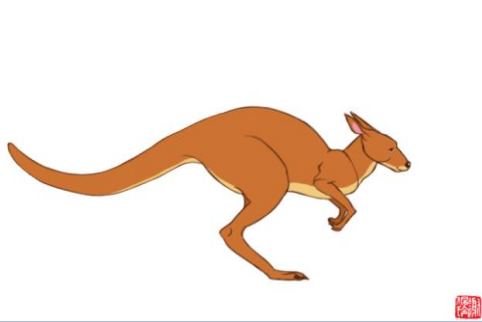
2- في فصل الصيف يكون اليوم كله في قارة أنتاركتيكا عبارة عن :

(نهار - ليل - ليل ونهار).

3- القارة المحاطة جميعها بالمحيط القطب الجنوبي :

(قارة أوروبا - قارة أنتاركتيكا - قارة آسيا).

# أنا قارة استراليا



## سابعاً- قارة أستراليا:

أصغرُ قارةٍ في العالم. وتقعُ في الجزء الجنوبي من الأرض،  
وتحيطُ بها المياه من كُلِّ جانب. وأكثرُ من ثُلثي أراضيها  
عبارة عن صحراء، وهي موطنُ حيوان الكَنغرِ والكوالا.  
أما المحيطاتُ فَعَدَدُها خمسة. أكبرُها على الإطلاق المحيطُ  
الهادي، يليه المحيطُ الأطلسي، ويُعرفُ أيضًا باسم المحيطِ  
الأطلسي، وبأبي المحيطِ الهندي في المرتبة الثالثة، ثم المحيطُ الجنوبي، وأخيرًا المحيطُ المتجمد الشمالي.  
والمحيطاتُ مُختبئةٌ تُشكِّلُ 70% من مساحةِ كوكب الأرض.

1- أصغر قارات العالم مساحة هي :  
(قارة أستراليا – قارة أوروبا – قارة أفريقيا).

2- تشغل الصحراء في قارة استراليا حوالي :  
(ثلثي المساحة – ثلث المساحة – ربع المساحة )

3- عدد المحيطات بالكرة الأرضية .  
( 5- 7- 9 )

4- أكبر المحيطات الموجودة (الهندي – الهادي –الأطلسي )

3. أرسم دائرة حول الكرة الأرضية التي يظهر عليها الجزء الذي يضم دولة الإمارات العربية المتحدة.



4. لون خريطة دولة الإمارات بـلونك المفضل.



جميع الحقوق محفوظة © مطبعة نورانيا العالمية للطباعة والنشر والتوزيع - ٢٠١٩

كتاب  
الطالب الجزء  
السابع صفحة

252

للفص: الثالث

عنوان ورسنا:- القارات والمحيطات

الوحدة السابعة:- هم أمثالكم