

إعداد /

الصف الثاني عشر  
المسار الأدبي

- Tamer. Fahem
- Hitham. Abu almagd
- Hani. Abdallah

# الحرف أفبأ

تدريبات وتطبيقات مجانية  
الفصل الدراسي الثاني

العام الدراسي 2020 / 2021 م

<https://t.me/joinchat/G0syKRnKQltpNgCjWnuAkQ>

<https://chat.whatsapp.com/LAsIsHSU6NgLx895jOOiJD>



لا تغني عن الكتاب المدرسي ...

## أولاً : الأسئلة الموضوعية

**السؤال الأول : اختر الإجابة الصحيحة من بين الإجابات التالية :**

1) **برزت الحاجة إلى التخطيط العمراني من أجل :**

- أ- تقليل نسبة التحضر .  
ب- زيادة حجم العشوائيات .  
ج- توسيع الفجوة بين المدينة والقرية .  
د- خلق بيئة حضرية تتلاءم مع التطور الاقتصادي والاجتماعي .

2) **”توجيه وتنمية استخدام الأرض لتلبية احتياجات جميع فئات المجتمع ووضع حلول للمشكلات الحالية والمستقبلية**

**التي تعاني منها المجتمعات العمرانية” يشير هذا المفهوم إلى :**

- أ- التحضر . ب- التركيب الحضري . ج- التخطيط العمراني . د- استخدامات الأرض .

3) **التخطيط العمراني عملية :**

- أ- ثابتة . ب- متغيرة . ج- نمطية . د- متوقفة .

4) **أولى مراحل التخطيط العمراني :**

- أ- دراسة الوضع القائم . ب- تحليل ومراجعة المعلومات . ج- وضع الحلول للمشكلات . د- التنبؤ بالمشكلات المستقبلية .

5) **يتم تحليل ومراجعة المعلومات من خلال :**

- أ- المراجع . ب- الاستبيانات . ج- التقنيات الحديثة . د- المصادر الحكومية .

6) **يجب أن تكون المناطق العمرانية خالية من الانحدارات الشديدة لأن ذلك :**

- أ- يسهل إنشاء المرافق . ب- يغير النسيج العمراني . ج- يقلل من انتشار المنزهات . د- يمنع التوسع العمراني الرأسي .

7) **لا تصلح سهول الأمازون للعمران والسكن بسبب :**

- أ- فقر التربة . ب- انخفاض المنسوب . ج- وجود الغابات الاستوائية . د- ضعف التركيب الجيولوجي .

8) **يزدهم السكان فوق مرتفعات اليمن نتيجة :**

- أ- توفر المياه . ب- ارتفاع الرطوبة . ج- استواء السطح . د- اعتدال المناخ .

9) **أكثر عناصر المناخ تأثيراً في تحديد مواقع المناطق الصناعية :**

- أ- الحرارة . ب- الرطوبة . ج- اتجاه الرياح . د- الضغط الجوي .

10) **يعتمد على النبات الطبيعي في التخطيط العمراني من خلال :**

- أ- مد الطرق . ب- مد شبكات الصرف الصحي . ج- تحديد مواقع المناطق العمرانية . د- استخدامها كمادة بناء للمساكن .

11) **يهتم المخططون بالخصائص السكانية للمراكز العمرانية لتأثيرها في :**

- أ- اتساع الشوارع . ب- تحديد ارتفاعات المباني . ج- اختيار المواقع العمرانية . د- أعداد وأحجام المناطق العمرانية .

12) **أي من عوامل التخطيط الآتية يرتبط بتحديد وظائف المدن ؟**

- أ- الجيولوجي . ب- الاقتصادي . ج- الديموجرافي . د- التضاريسي .

13) **”عملية الكشف عن الخصائص الطبيعية لمنطقة ما ومراقبتها من خلال قياس الإشعاع المنعكس والمنبعث من مسافة**

**بعيدة” يشير هذا المفهوم إلى :**

- أ- الكارتوجرافيا . ب- نظام تحديد المواقع . ج- الاستشعار عن بعد . د- نظم المعلومات الجغرافية .



14) يشير الشكل التالي إلى مفهوم :

- ☐ أ- الحيز العمراني .
- ☐ ب- استخدام الأرض .
- ☐ ج- الاستشعار عن بعد .
- ☐ د- نظم المعلومات الجغرافية .

15) تتيح صور الأقمار الصناعية معلومات دقيقة عن التركيب الجيولوجي من خلال :

- أ- تحديد أنواع الصخور .
- ب- مراقبة التغيرات الحضرية .
- ج- تحليل استخدامات الأرض .
- د- تحديد محاور النمو العمراني .

16) "نظام قائم على الحاسوب مصمم لجمع البيانات الجغرافية وتخزينها ومعالجتها وتحليلها وإدارتها وإخراجها لتحقيق

أهداف محددة"، يشير هذا المفهوم إلى :

- أ- الأطلس الإلكتروني .
  - ب- نظام تحديد المواقع .
  - ج- الاستشعار عن بعد .
  - د- نظم المعلومات الجغرافية .
- 17) يعد التخطيط العمراني من أهم المجالات التي تستفيد من تقنية نظم المعلومات الجغرافية ويرجع ذلك إلى :
- أ- مراعاتها للخصوصية .
  - ب- قدرتها على تحديد المواقع .
  - ج- اقتصار تعاملها مع المعلومات الوصفية .
  - د- تنوع المعلومات التي تعتمد عليها الخطط العمرانية .

18) "مدن تستخدم تكنولوجيا المعلومات والاتصالات لتحسين نوعية الحياة وكفاءة العمليات والخدمات الحضرية" هي المدن :

- أ- الذكية .
- ب- التقليدية .
- ج- المتروبولية .
- د- الميجابوليس .

19) بدأت قطر في تنفيذ فكرة المدن الذكية منذ عام :

- أ- 2010 م .
- ب- 2012 م .
- ج- 2014 م .
- د- 2016 م .

20) من أمثلة المدن الذكية في قطر مدينة :

- أ- الخور .
- ب- الوكرة .
- ج- مشيرب .
- د- مسيعيد .

21) يراعى عند التخطيط العمراني المستدام :

- أ- تقليل ممرات المشاة .
- ب- حماية الموارد التاريخية .
- ج- إزالة المساحات الخضراء .
- د- الاعتماد على مصادر الطاقة غير المتجددة .

22) أكثر أنماط المعيشة ارتباطاً بالأرض :

- أ- البدو .
- ب- الريف .
- ج- المدينة .
- د- العشوائيات .

23) يعتمد الأساس الديموغرافي للتمييز بين الريف والمدينة على :

- أ- التركيب العمري .
- ب- النمو السكاني .
- ج- التركيب التعليمي .
- د- الكثافة السكانية .

24) من الأسس المعتمدة للتمييز بين الريف والمدينة في السويد واليابان وتشيلي هو الأساس :

- أ- السكاني .
- ب- الشكلي .
- ج- التاريخي .
- د- الاقتصادي .

25) من الدول التي تحدد عدد سكان المدن بما يزيد على (200 نسمة) :

- أ- الهند .
- ب- كندا .
- ج- تشيلي .
- د- السويد .

26) من الدول التي تحدد عدد سكان المدن بما يزيد على (1000 نسمة) :

- أ- الهند .
- ب- كندا .
- ج- الصين .
- د- السويد .

27) من الدول التي تحدد عدد سكان المدن بما يزيد على (5000 نسمة) :

- أ- بنما .
- ب- الهند .
- ج- كندا .
- د- اليابان .

28) من الدول التي تحدد عدد سكان المدن بما يزيد على (30000 نسمة) :

- أ- بنما .
- ب- الهند .
- ج- كندا .
- د- اليابان .





- 29) من الدول التي تحدد المدينة على أساس ارتفاع نسبة سكانها الذين يمارسون أنشطة غير زراعية عن (85٪) :  
أ- الهند . ب- روسيا . ج- إيطاليا . د- الأرجنتين .
- 30) من الدول التي تحدد المدينة على أساس ارتفاع نسبة سكانها الذين يمارسون أنشطة غير زراعية عن (75٪) :  
أ- الهند . ب- روسيا . ج- إيطاليا . د- الأرجنتين .
- 31) من الدول التي تحدد المدينة على أساس ارتفاع نسبة سكانها الذين يمارسون أنشطة غير زراعية عن (50٪) :  
أ- الهند . ب- روسيا . ج- إيطاليا . د- الأرجنتين .
- 32) اعتمدت دولة قطر مراكز البلديات كمدناً بناءً على الأساس :  
أ- الإداري . ب- الشكلي . ج- التاريخي . د- الاقتصادي .
- 33) من المدن التاريخية التي أصبحت أطلالاً في دولة قطر :  
أ- الدوحة . ب- الزبارة . ج- مسيعيد . د- الذخيرة .
- 34) من المدن التاريخية التي أصبحت أطلالاً في دولة الأردن :  
أ- إربد . ب- البتراء . ج- عمان . د- الزرقاء .
- 35) من المدن التاريخية التي أصبحت أطلالاً في المملكة العربية السعودية :  
أ- جدة . ب- الدمام . ج- الرياض . د- مدائن صالح .
- 36) توجد في المدينة منطقة مركزية تتركز فيها الحياة والأنشطة تسمى :  
أ- الحي الثقافي . ب- حي الموظفين . ج- القلب التجاري . د- المنطقة الصناعية .
- 37) حيز جغرافي له نشاطات خدمية :  
أ- ريف . ب- مزرعة . ج- مصنع . د- مدينة .
- 38) "التغير في أعداد السكان الذين يعيشون في المدن خلال فترة زمنية معينة" يشير هذا المفهوم إلى :  
أ- مؤشر التحضر . ب- الهرم السكاني . ج- النمو الحضري . د- التركيب الحضري .
- 39) يطلق على التوسع الأفقي في مساحة المدن على حساب الأراضي الزراعية :  
أ- مؤشر التشييد . ب- مؤشر التحضر . ج- التركيب الحضري . د- الزحف العمراني .
- 40) تزيد نسبة سكان الحضر على (75٪) حسب إحصائية (2019م) في قارة :  
أ- آسيا . ب- أوروبا . ج- أفريقيا . د- أنتاركتيكا .
- 41) تزيد نسبة سكان الحضر على (75٪) حسب إحصائية (2019م) في دول :  
أ- البلقان . ب- الكاريبي . ج- البنينولوكس . د- الخليج العربي .
- 42) تصل نسبة سكان الحضر إلى (35٪) حسب إحصائية (2019م) في دولة :  
أ- الهند . ب- الصين . ج- ماليزيا . د- سنغافورة .
- 43) تقل نسبة سكان الحضر عن (20٪) حسب إحصائية (2019م) في دولتي النيجر و :  
أ- ليبيا . ب- الجزائر . ج- جنوب أفريقيا . د- جنوب السودان .
- 44) ترتفع نسبة سكان الحضر إلى (70٪) حسب إحصائية (2019م) في دولة :  
أ- تشاد . ب- الجزائر . ج- الكونغو . د- إثيوبيا .
- 45) ترتفع نسبة سكان الحضر إلى (80٪) حسب إحصائية (2019م) في دولة :  
أ- غينيا . ب- ليبيا . ج- كينيا . د- تانزانيا .

46) كان للثروة الزراعية دوراً كبيراً في تزايد أعداد سكان المدن من خلال :

- أ- تقليل حجم العمالة الريفية .
- ب- تغيير النسيج العمراني للريف .
- ج- توسيع الكتلة العمرانية بالريف .
- د- تقليل استخدام الآلات الزراعية .

47) أدى ظهور الوسائل والتقنيات الحديثة خلال العصر الحديث إلى :

- أ- ظهور العشوائيات .
- ب- ظهور البطالة الموسمية .
- ج- إهمال مناطق الجذب السياحي .
- د- زيادة قدرة المدن على جذب السكان .

48) "انتقال سكان الريف للإقامة في المدن" ، يشير هذا التعريف إلى :

- أ- التحضر .
- ب- مؤشر التحضر .
- ج- استخدام الأرض .
- د- التركيب الحضري .

49) "نسبة سكان المدن إلى المجموع الكلي للسكان في الدولة" ، يشير هذا التعريف إلى :

- أ- درجة التحضر .
- ب- منحى لورنز .
- ج- مؤشر التشييد .
- د- التركيب الحضري .

50) بلغت درجة التحضر في دولة قطر حسب إحصائية (2020م) نحو :

- أ- 69% .
- ب- 79% .
- ج- 89% .
- د- 99% .

51) "ينتج عن نمو المناطق الحضرية واتساع نطاقات المدن :

- أ- انخفاض درجة التحضر .
- ب- تغير التركيب الاقتصادي .
- ج- كثرة الفراغات العمرانية .
- د- تداخل المناطق الحضرية مع الريفية .



52) أمامك خريطة لجزء من إحدى المدن ، تشير إلى :

- أ- مؤشر التحضر .
- ب- منسوب السطح .
- ج- استخدام الأرض .
- د- طبوغرافية الأرض .

53) "التوزيع المكاني لوظائف المدينة" ، يشير المفهوم السابق إلى :

- أ- درجة التحضر .
- ب- مؤشر التشييد .
- ج- استخدام الأرض .
- د- التركيب الحضري .

54) الاستخدام الأكبر للأرض في أي مدينة في العالم هو :

- أ- الخدمي .
- ب- السكني .
- ج- التجاري .
- د- الصناعي .

55) استخدام الأرض الذي يستحوذ على (40%) من أراضي المدن الأمريكية هو الاستخدام :

- أ- الرعوي .
- ب- السكني .
- ج- الزراعي .
- د- الصناعي .

56) استخدام الأرض الذي يستحوذ على نحو (33%) من أراضي المدن الأمريكية هو :

- أ- النقل .
- ب- السكن .
- ج- التجارة .
- د- الصناعة .

57) تستحوذ الأنشطة التجارية على أفضل المواقع في المدينة من أجل :

- أ- تحجيم مساحتها .
- ب- تقليل حركة النقل .
- ج- تخفيف تأثيرها على البيئة .
- د- سهولة وصول المستهلكين إليها .

58) استخدام الأرض الذي يستحوذ على (5%) في المدن الأمريكية :

- أ- النقل .
- ب- السكن .
- ج- التجارة .
- د- الصناعة .

59) يستحوذ الاستخدام الصناعي من إجمالي مساحة المدن الأمريكية على نحو :

- أ- 6% .
- ب- 9% .
- ج- 12% .
- د- 15% .

60) هناك اتجاه نحو عدم وجود النشاط الصناعي داخل المدن بسبب :

- أ- تحجيمها للكتلة العمرانية .
- ب- تأثيرها السلبي على البيئة .
- ج- زيادة ضغطها على الخدمات .
- د- زيادة عدد سكانها باضطراب .

61) يشكل الاستخدام العام من إجمالي مساحة المدن نحو :

- أ- 6% .
- ب- 9% .
- ج- 12% .
- د- 15% .

62) أي مما يلي يمثل الاستخدامات العامة للأرض في المدن :

- أ- البنوك .
- ب- الأسواق .
- ج- المصانع .
- د- المنزهات .

63) الأراضي التي تمثل احتياطي النمو في المستقبل للمدينة :

أ- الملاعب . ب- الخالية . ج- المتنزهات . د- العشوائيات .

64) تتناثر الأراضي الخالية بين أجزاء الكتل السكنية للمدينة عند ظهور :

أ- العشوائيات . ب- أراضي سهلية . ج- مناطق مستوية السطح . د- مناطق شديدة الانحدار .

65) أي من المدن التالية يعد المركز السياسي والمالي للمملكة المتحدة :

أ- لندن . ب- نيوكاسل . ج- ليفربول . د- مانشستر .

66) نشأت مدينة لندن على الضفة الشمالية لنهر :

أ- كلايد . ب- سيفرن . ج- التايمز . د- ترينت .

67) نمت مدينة لندن بشكل متسارع منذ أواخر العصور الوسطى حتى عام (1961م) نتيجة :

أ- تجميد مشاريع الاستثمار فيها . ب- انتشار صناعات الغاز الطبيعي بها .  
ج- تغيير معالم المدينة الطبيعية . د- ارتفاع معدلات الهجرة من الريف إليها .

68) ظهرت مدينة لندن العملاقة نتيجة امتدادها العمراني في شكل :

أ- شبكي . ب- خطي . ج- إشعاعي . د- حلقات خارجية .

69) قل الحجم السكاني لمدينة لندن خلال فترة الثمانينيات من القرن العشرين نتيجة :

أ- انتشار الأوبئة . ب- إنشاء مدن جديدة . ج- ظهور البيوت القصديرية . د- الانكماش الاقتصادي الحاد .

70) نشأت مدينة الدوحة في المنطقة المحيطة بـ :

أ- منطقة الدفنة . ب- جزيرة اللؤلؤة . ج- الميناء القديم . د- حي قطر للبترول .

71) كانت مدينة الدوحة خلال بداية القرن العشرين تمتد على طول :

أ- ساحل الخليج . ب- حي قطر للبترول . ج- الطرق الدائرية الثلاثة . د- المجاورات السكنية الحديثة .

72) بلغت المساحة العمرانية لمدينة الدوحة خلال بداية القرن العشرين نحو :

أ- 3.2 كم<sup>2</sup> . ب- 13.2 كم<sup>2</sup> . ج- 23.2 كم<sup>2</sup> . د- 33.2 كم<sup>2</sup> .

73) اتسعت المساحة العمرانية لمدينة الدوحة حتى بلغت في عام (1960م) نحو :

أ- 7.5 كم<sup>2</sup> . ب- 17.5 كم<sup>2</sup> . ج- 27.5 كم<sup>2</sup> . د- 37.5 كم<sup>2</sup> .

74) زادت مساحة مدينة الدوحة خلال الفترة من (1960 - 1973م) على طول :

أ- ساحل الخليج . ب- حي قطر للبترول . ج- محاور الطرق الرئيسية . د- المجاورات السكنية الحديثة .

75) اتسعت المساحة العمرانية لمدينة الدوحة حتى بلغت في عام (1973م) نحو :

أ- 26.5 كم<sup>2</sup> . ب- 36.5 كم<sup>2</sup> . ج- 46.5 كم<sup>2</sup> . د- 56.5 كم<sup>2</sup> .

76) اتسعت المساحة العمرانية لمدينة الدوحة حتى بلغت في عام (1997م) نحو :

أ- 67.5 كم<sup>2</sup> . ب- 77.5 كم<sup>2</sup> . ج- 87.5 كم<sup>2</sup> . د- 97.5 كم<sup>2</sup> .

77) تبلغ المساحة العمرانية لمدينة الدوحة في الوقت الحالي نحو :

أ- 225 كم<sup>2</sup> . ب- 230 كم<sup>2</sup> . ج- 235 كم<sup>2</sup> . د- 240 كم<sup>2</sup> .

78) ضعف معدل النمو السكاني لمدينة الدوحة خلال النصف الأول من القرن العشرين بسبب :

أ- تأخر سن الزواج . ب- كساد تجارة اللؤلؤ . ج- خروج المرأة للعمل . د- ظهور البترول وهجرة العديد من السكان .

79) ارتفع معدل النمو السكاني لمدينة الدوحة خلال الفترة من (1970م حتى الآن) بسبب :

أ- مساحتها الكبيرة . ب- زيادة أعداد العمالة الوطنية . ج- زيادة أعداد الهجرة الوافدة . د- عودة الكثير من عائلات الوافدين إلى بلادهم .



80) تضم مدينة الدوحة من إجمالي سكان دولة قطر حسب إحصائية (2017م) نحو :

- أ- 35% . ب- 40% . ج- 45% . د- 50% .

81) يأخذ النمو العمراني لمدينة الدوحة حالياً الشكل :

- أ- الخطي . ب- العشوائي . ج- الشريطي . د- الحلقي الإشعاعي .

82) كان الشكل العمراني لمدينة الدوحة في بداية نشأتها أقرب إلى نموذج المدينة الحلقية ثم بدأ يتقارب مع نموذج :

- أ- القطاعات . ب- النويات المتعددة . ج- الدوائر المتداخلة . د- الأماكن المركزية .

83) تقع مدينة نيويورك بالنسبة للولايات المتحدة في الجهة :

- أ- الغربية . ب- الجنوبية . ج- الشمالية الشرقية . د- الجنوبية الشرقية .

84) تحمل مدينة نيويورك على الخريطة المقابلة الرقم :

- أ- ( 1 ) .  
ب- ( 2 ) .  
ج- ( 3 ) .  
د- ( 4 ) .

85) المدينة الأكبر في الحجم السكاني والكثافة السكانية في الولايات المتحدة :

- أ- واشنطن . ب- شيكاغو . ج- نيويورك . د- لوس أنجلوس .

86) العاصمة الاقتصادية للولايات المتحدة :

- أ- فلوريدا . ب- ميامي . ج- نيويورك . د- سان فرانسيسكو .

87) نشأت مدينة نيويورك على ساحل جزيرة :

- أ- هاواي . ب- منهاتن . ج- كودياك . د- سانتا كروز .

88) أدى تخطيط شوارع منهاتن بشكل شطرنجي إلى :

- أ- ظهور العشوائيات . ب- بطء النمو العمراني . ج- التوسع العمراني الأفقي . د- الانتشار العمراني السريع .

89) يرجع النمو السكاني لمدينة نيويورك حتى عام (1951م) إلى :

- أ- تربتها الخصبة . ب- مساحتها الكبيرة . ج- أراضيها السهلية المستوية . د- تزايد أعداد المهاجرين إلى المدينة .

90) فقدت مدينة نيويورك نحو (10٪) من سكانها خلال الفترة من (1970-1980م) بسبب :

- أ- التعرض للزلازل . ب- اضطراب المناخ . ج- التعرض لموجات تسونامي . د- الأزمة الاقتصادية والاضطرابات الاجتماعية .

91) تتفاوت المشكلات الحضرية من دولة إلى أخرى نتيجة اختلاف :

- أ- المناخ . ب- المساحة . ج- التركيب الجيولوجي . د- المستويات الاقتصادية والاجتماعية .

92) ترتب على مشكلة ارتفاع أسعار السكن في المدن :

- أ- البطالة . ب- الازدحام المروري . ج- هجرة أصحاب العقول . د- انتشار الإسكان العشوائي .

93) تعاني الأحياء السكنية العشوائية في المدن الكبرى من :

- أ- الزحام . ب- الفراغ العمراني . ج- تعقد شبكة المواصلات . د- زيادة أعداد الوحدات السكنية .

94) تعاني العديد من المناطق الحضرية من انتشار الفقر والبطالة بسبب :

- أ- ارتفاع الأجور . ب- قلة الطلب على العمل . ج- الزيادة الطبيعية للسكان . د- هجرة السكان من المناطق الريفية إلى المدن .

95) تقل نسبة البطالة في الدول المتقدمة لأقل من :

- أ- 3% . ب- 13% . ج- 23% . د- 33% .





96) تبلغ نسبة البطالة في الدول النامية لأعلى من :

أ- 15% . ب- 20% . ج- 25% . د- 30% .

97) ترتب على مشكلة البطالة في المدن :

أ- الازدحام المروري . ب- ارتفاع معدل الجريمة . ج- ارتفاع مستوى المعيشة . د- نمو الأحياء العشوائية .

98) أي من المظاهر التالية تسبب التلوث البصري في المدن ؟

أ- تعدد المباني الأثرية . ب- توحيد الأنماط العمرانية . ج- عمليات الحفر في الطرق . د- التوسع في بناء المناطق المخططة .

99) انتشار الإعلانات غير المنظمة في المدن من أنواع التلوث :

أ- المائي . ب- الهوائي . ج- البصري . د- السمعي .

100) ظهرت مشكلة التنوع العرقي في المدن نتيجة :

أ- النمو السكاني السريع . ب- ارتفاع معدلات البطالة . ج- نقص الوحدات السكنية . د- هجرة السكان إلى المدن من مناطق مختلفة .

101) تنفق الطبقة المتوسطة والفقيرة في مدينة نيويورك على الإيجار نسبة من دخلها الشهري تصل لأكثر من :

أ- 10% . ب- 20% . ج- 30% . د- 40% .

102) يعيش (19٪) من سكان مدينة نيويورك في حالة فقر بسبب :

أ- التنوع العرقي . ب- نقص الوحدات السكنية . ج- ارتفاع تكاليف المعيشة . د- انتشار ملاجيء المشردين .

103) تصل نسبة سكان مدينة نيويورك الذين يعيشون في حالة قريبة من مستوى الفقر إلى نحو :

أ- 13% . ب- 23% . ج- 33% . د- 43% .

104) يوجد أزمة بطالة كبيرة في مدينة نيويورك بسبب :

أ- ارتفاع الأجور . ب- ارتفاع مستوى المعيشة . ج- قلة الطلب على العمل . د- تزايد أعداد المهاجرين إلى المدينة .

105) تعاني مدينة نيويورك من تلوث الهواء نتيجة :

أ- تنوع استخدام الأرض . ب- فوضى اللوحات الإعلانية . ج- عمليات الحفر في الطرق . د- انبعاثات الغازات الدفينة .

106) يخرج أكثر من نصف الانبعاثات التي تلوث مدينة نيويورك (67٪) من :

أ- المباني . ب- حركة المرور . ج- المناطق الصناعية . د- الفراغات العمرانية .

107) أكثر المدن الأمريكية من حيث التنوع العرقي والثقافي :

أ- شيكاغو . ب- بالتيمور . ج- فيلادلفيا . د- نيويورك .

108) يمثل السكان البيض من جملة سكان مدينة نيويورك نحو :

أ- 12% . ب- 22% . ج- 32% . د- 42% .

109) الدولة التي تمتلك ثالث أكبر مخزون من الغاز الطبيعي في العالم :

أ- إيران . ب- قطر . ج- روسيا . د- الجزائر .

110) تبلغ الكثافة السكانية العامة في قطر حسب إحصائية (2020م) نحو :

أ- 241 نسمة / كم<sup>2</sup> . ب- 341 نسمة / كم<sup>2</sup> . ج- 441 نسمة / كم<sup>2</sup> . د- 541 نسمة / كم<sup>2</sup> .

111) تضم مدينة الريان من جملة سكان دولة قطر حسب إحصائية (2020م) نحو :

أ- 25% . ب- 30% . ج- 35% . د- 40% .

112) تضم مدينة الوكرة من جملة سكان دولة قطر حسب إحصائية (2020م) نحو :

أ- 12% . ب- 22% . ج- 32% . د- 42% .

113) من العوامل التي ساهمت في ارتفاع أسعار السكن في دولة قطر :

أ- وفرة مواد البناء . ب- كثرة العمالة الوطنية . ج- كثرة الخدمات في المناطق الريفية . د- ارتفاع الكثافة السكانية في المدن .



114 من الحلول التي قامت بها دولة قطر لحل مشكلة ارتفاع أسعار السكن :

- أ- إنشاء المدن العمالية .  
ب- زيادة الاستثمارات الخارجية .  
ج- توفير مساكن شعبية للوافدين  
د- الإشراف على سياسات التنمية الاجتماعية .

115 يرجع ظهور مشكلة الازدحام المروري في مدينة الدوحة إلى :

- أ- تعقد شبكة النقل .  
ب- انتشار الورش والمصانع .  
ج- تركيز المراكز التجارية في المدينة .  
د- انعدام وسائل النقل العام بالمدينة .

116 أمامك خريطة مترو الدوحة ، يمكن لهذا المشروع أن يساعد بشكل كبير في حل مشكلة :

- أ- التباعد العمراني .  
ب- التلوث البصري .  
ج- الازدحام المروري .  
د- ارتفاع أسعار السكن .

117 يوفر مشروع الخزانات الاستراتيجية في مرحلته الحالية الأمن المائي لقطر حتى

عام :

- أ- 2022 م .  
ب- 2024 م .  
ج- 2026 م .  
د- 2028 م .

118 "وحدة سياسية تشغل مساحة جغرافية ذات حدود محددة، تضم سكاناً وتحكمها

حكومة"، يشير هذا المفهوم إلى :

- أ- الأمة .  
ب- الدولة .  
ج- الإقليم .  
د- الوحدة الاقتصادية .

119 أي مما يلي يعد من أركان الدولة :

- أ- المناخ .  
ب- الموقع .  
ج- الإقليم .  
د- النبات الطبيعي .

120 "مساحة من اليابس يستقر عليها الشعب ويمارسون فيها أنشطتهم الاقتصادية ولها حدود معترف بها"، يشير هذا

المفهوم إلى :

- أ- الحدود .  
ب- الجبهة .  
ج- الإقليم .  
د- الرصيف القاري .

121 "السكان الذين يعيشون على أرض الدولة وتجمعهم خصائص تميزهم عن الآخرين"، يشير هذا المفهوم إلى :

- أ- الشعب .  
ب- السلطة .  
ج- الحكومة .  
د- اللاجئين .

122 الجهة المسؤولة عن تشريع وتطبيق القوانين وإدارة وتنظيم شؤون الدولة وتوفير الخدمات للشعب هي :

- أ- الشعب .  
ب- السلطة .  
ج- الهيئات الدولية .  
د- المؤسسات الاجتماعية .

123 أي من أركان الدولة الآتية تعني السلطة القانونية العليا :

- أ- الإقليم .  
ب- الشعب .  
ج- السلطة .  
د- السيادة .

124 "أن تكون للدولة السلطة العليا على جميع أراضيها وسكانها"، يعني ذلك :

- أ- الحماية .  
ب- الانتداب .  
ج- الوصاية .  
د- السيادة الداخلية .

125 "أن تكون الدولة مستقلة ولا تتأثر بإرادة أي سلطة خارجية أخرى"، يعني ذلك :

- أ- الاحتلال .  
ب- المعاهدة .  
ج- الاستيطان .  
د- السيادة الخارجية .

126 من المقومات الطبيعية للدولة :

- أ- اللغة .  
ب- الدين .  
ج- المناخ .  
د- الهجرة .

127 أي من مقومات الدولة التالية له تأثير كبير في علاقاتها الدولية :

- أ- اللغة .  
ب- المناخ .  
ج- الموقع .  
د- النبات الطبيعي .

128 "الموقع بالنسبة لخطوط الطول ودوائر العرض"، هو الموقع :

- أ- الفلكي .  
ب- الجغرافي .  
ج- المركزي .  
د- الاستراتيجي .

129 "الموقع بالنسبة لكتل اليابس والمسطحات المائية والدول الأخرى"، هو الموقع :

- أ- الفلكي .  
ب- الجغرافي .  
ج- المركزي .  
د- الاستراتيجي .





- 130) الدول التي تقع على مسطحات مائية مفتوحة تصلها بالعالم الخارجي، تسمى بالدول :  
أ- المغلقة . ب- القارية . ج- البحرية . د- الحبيسة .
- 131) من الدول التي تطل على سطح مائي واحد بجبهات بحرية طويلة :  
أ- مصر والسودان . ب- تشيلي والبرازيل . ج- المغرب وتركيا . د- أيسلندا وسيلان .
- 132) من الدول التي تطل على سطح مائي واحد بجبهات بحرية قصيرة :  
أ- السودان وألمانيا . ب- سيلان ومدغشقر . ج- إندونيسيا والفلبين . د- كوريا الجنوبية واليابان .
- 133) من الدول التي تطل على مسطحين مائيين :  
أ- ليبيا والجزائر . ب- رومانيا وبلغاريا . ج- السعودية والمغرب . د- باكستان وأفغانستان .
- 134) من الدول شبه جزرية التي تطل على أكثر من سطح مائي :  
أ- الهند وإيطاليا . ب- رومانيا وبلغاريا . ج- المغرب وتركيا . د- إسبانيا والبرتغال .
- 135) من الدول الجزرية التي لها حدود بحرية كاملة :  
أ- بولندا وألمانيا . ب- النمسا وتشيك . ج- إسبانيا وإيطاليا . د- بريطانيا وأيسلندا .
- 136) من الدول الجزرية التي لها حدود بحرية كاملة :  
أ- اليونان . ب- اليابان . ج- الصومال . د- السنغال .
- 137) الدول التي لا ساحل لها على المحيطات والبحار الخارجية، تسمى بالدول :  
أ- الجزرية . ب- البحرية . ج- الحبيسة . د- شبه الجزرية .
- 138) من أمثلة الدول الحبيسة في قارة أوروبا :  
أ- رومانيا وبلغاريا . ب- النمسا وسويسرا . ج- بريطانيا وفرنسا . د- إسبانيا والبرتغال .
- 139) من أمثلة الدول الحبيسة في قارة آسيا :  
أ- الهند والصين . ب- إندونيسيا والفلبين . ج- كازاخستان وأفغانستان . د- كوريا الجنوبية واليابان .
- 140) من أمثلة الدول الحبيسة في قارة أفريقيا :  
أ- غانا وغينيا . ب- النيجر ومالي . ج- أنجولا ونيجيريا . د- السنغال والصومال .
- 141) من أمثلة الدول الحبيسة في قارة أمريكا الجنوبية :  
أ- بيرو وتشيلي . ب- فنزويلا وكولومبيا . ج- البرازيل والأرجنتين . د- بوليفيا وباراجواي .
- 142) من المشكلات الاقتصادية التي تعاني منها الدول الحبيسة :  
أ- العزلة الثقافية . ب- ارتفاع تكاليف النقل . ج- محدودية التجارة الداخلية . د- تدخل الدول المجاورة البحرية في سياستها .
- 143) من المشكلات العسكرية التي تعاني منها الدول الحبيسة :  
أ- العزلة الثقافية . ب- ارتفاع تكاليف النقل . ج- محدودية التجارة الداخلية . د- تدخل الدول المجاورة البحرية في سياستها .
- 144) من المشكلات الحضارية التي تعاني منها الدول الحبيسة :  
أ- العزلة الثقافية . ب- ارتفاع تكاليف النقل . ج- محدودية التجارة الداخلية . د- تدخل الدول المجاورة البحرية في سياستها .
- 145) ”علاقة الدولة بالدول التي تشترك معها في الحدود البرية”، يعني ذلك الموقع :  
أ- الفلكي . ب- المركزي . ج- الاستراتيجي . د- بالنسبة للدول المجاورة .
- 146) من الدول التي يجاورها عدد قليل من الدول :  
أ- تشاد والنيجر . ب- البرتغال وإسبانيا . ج- البرازيل وكولومبيا . د- الصين وكازاخستان .
- 147) من الدول التي يجاورها عدد قليل من الدول :  
أ- العراق وإيران . ب- السودان وإثيوبيا . ج- تركمانستان وأوزبكستان . د- كندا والولايات المتحدة .

- 148 من أمثلة الدول التي يجاورها عدد كثير من الدول :  
أ- ماليزيا . ب- الصين . ج- الفلبين . د- سنغافورة .
- 149 من أمثلة الدول التي يجاورها عدد كثير من الدول :  
أ- سيلان . ب- البرازيل . ج- أستراليا . د- الولايات المتحدة .
- 150 تسببت كثرة الدول المجاورة في حدوث المشكلات لدولة :  
أ- تونس . ب- المغرب . ج- السودان . د- مدغشقر .
- 151 هناك دول ذات حدود بعيدة عن بعضها البعض مثل :  
أ- السويد . ب- النرويج . ج- ألمانيا . د- المملكة المتحدة .
- 152 "الموقع الذي يضيف للدولة التي تسيطر عليه ميزة عسكرية وسياسية واقتصادية"، هو الموقع :  
أ- الفلكي . ب- الهامشي . ج- المركزي . د- الاستراتيجي .
- 153 من أمثلة المواقع الاستراتيجية :  
أ- المضائق . ب- الأنهار الدولية . ج- الحدود الهندسية . د- المسطحات المائية المغلقة .
- 154 من أمثلة المواقع الاستراتيجية :  
أ- الخلجان . ب- الحدود البرية . ج- القنوات الملاحية . د- الحدود المتداخلة .
- 155 المضيق الذي يصل بين المحيط الأطلنطي والبحر المتوسط هو :  
أ- هرمز . ب- البوسفور . ج- جبل طارق . د- باب المندب .
- 156 تسيطر على مضيق جبل طارق :  
أ- المغرب . ب- البرتغال . ج- إسبانيا . د- المملكة المتحدة .
- 157 المضيق الذي يصل بين الخليج العربي والمحيط الهندي هو :  
أ- هرمز . ب- البوسفور . ج- جبل طارق . د- باب المندب .
- 158 المضيق الذي يصل بين البحر الأحمر والمحيط الهندي هو :  
أ- هرمز . ب- البوسفور . ج- جبل طارق . د- باب المندب .
- 159 تطل اليمن وجيبوتي على مضيق :  
أ- هرمز . ب- البوسفور . ج- جبل طارق . د- باب المندب .
- 160 المضيقان اللذان يصلان بين البحر الأسود والبحر المتوسط هما :  
أ- هرمز وويرنج . ب- جبل طارق وملقا . ج- باب المندب وبافن . د- البوسفور والدردينيل .
- 161 المنفذ الوحيد لروسيا وأوكرانيا إلى البحار الدفيئة مضيق :  
أ- هرمز وويرنج . ب- جبل طارق وملقا . ج- باب المندب وبافن . د- البوسفور والدردينيل .
- 162 القناة التي تربط بين البحر المتوسط والبحر الأحمر :  
أ- بنما . ب- كييل . ج- السويس . د- مانشستر .
- 163 القناة التي تربط بين المحيط الهادي والمحيط الأطلنطي عبر البحر الكاريبي :  
أ- بنما . ب- كييل . ج- السويس . د- مانشستر .
- 164 "موقع متوسط جغرافياً يكتسب أهميته وصلاحيته من سهولة الاتصال بالدول"، هو الموقع :  
أ- الفلكي . ب- الهامشي . ج- المركزي . د- الاستراتيجي .
- 165 "الموقع الذي يوجد على الأطراف بعيداً عن الأقاليم الصناعية وطرق التجارة الدولية"، هو :  
أ- الفلكي . ب- المركزي . ج- الهامشي . د- الاستراتيجي .





166 "اكتسب المحيط الأطلنطي الشمالي كثافة مروية وأهمية كبيرة في العصور المعاصرة نتيجة :

أ- استقامة سواحله . ب- اتساع رصيفه القاري . ج- كثرة مصائده السمكية . د- موقعه بين إقليمين صناعيين .

167 أكثر طرق التجارة العالمية في الكثافة المروية ، يشار إليه في الخريطة بالرقم :



أ- ( 1 ) . ☐

ب- ( 2 ) . ☐

ج- ( 3 ) . ☐

د- ( 4 ) . ☐

168 من الدول ذات الموقع الهامشي :

أ- مصر والسودان . ب- بنما وكوستاريكا . ج - ماليزيا وإندونيسيا . د- **أستراليا ونيوزيلندا** .

169 من الدول ذات المساحة الكبيرة في العالم :

أ- **روسيا** . ب- هولندا . ج - الفاتيكان . د- لوكسمبورج .

170 من الدول ذات الثقل السكاني التي يصعب احتلالها :

أ- كندا . ب- **الصين** . ج - بريطانيا . د- النرويج .

171 من الدول التي تطبق نظرية الدفاع في العمق :

أ- اليونان . ب- **روسيا** . ج - البرتغال . د- النرويج .

172 حاولت ولاية غرب أستراليا الاستقلال عن الدولة نظراً لـ :

أ- اختلاف اللغة . ب- اختلاف الديانة . ج - تنوع العرقيات . د- وجود الصحراء بينهما .

173 "أقرب الأشكال إلى الدائرة وفيه تكون المسافات متساوية نسبياً من مركز الدولة الجغرافي إلى أي من حدودها" هو

شكل الدولة :

أ- المجزأ . ب- المثقب . ج- **المنتظم** . د- المستطيل .

174 من أمثلة الدول ذات الشكل المنتظم :

أ- **كينيا وبلجيكا** . ب- تشيلي والسويد . ج- إيطاليا والفاتيكان . د- الفلبين وإندونيسيا .

175 "يطلق على شكل الدولة التي يتعدى طولها ستة أضعاف عرضها" الشكل :

أ- المجزأ . ب- المثقب . ج- المنتظم . د- **المستطيل** .

176 من أمثلة الدول ذات الشكل المستطيل :

أ- كينيا وبلجيكا . ب- **السويد والنرويج** . ج- إيطاليا والفاتيكان . د- الفلبين وإندونيسيا .

177 الشكل الذي تكون فيه الدولة مكونة من جزأين أو أكثر :

أ- **المجزأ** . ب- المثقب . ج- المنتظم . د- المستطيل .

178 من أمثلة الدول البحرية المجزأة :

أ- كينيا وبلجيكا . ب- السويد والنرويج . ج- إيطاليا والفاتيكان . د- **الفلبين وإندونيسيا** .

179 من أمثلة الدول البرية المجزأة :

أ- بولندا . ب- السويد . ج- إيطاليا . د- **الولايات المتحدة** .

180) من أمثلة الدول البرية البحرية الجزأة :

أ- بولندا . ب- السويد . ج- إيطاليا . د- الولايات المتحدة .

181) دولة ثلاثية الشكل :

أ- ألمانيا . ب- بلجيكا . ج- إيطاليا . د- بريطانيا .

182) "الدول التي تضم بين أراضيها دولة أو أكثر وتحتويها تماماً" يطلق عليها الدول ذات الشكل :

أ- الجزأ . ب- المثقب . ج- المنتظم . د- المستطيل .

183) من أمثلة الدول ذات الشكل المثقب :

أ- كينيا وبلجيكا . ب- السويد والنرويج . ج- إيطاليا والفاتيكان . د- الفلبين واندونيسيا .

184) من أمثلة الدول التي يغلب على أراضيها الطابع السهلي :

أ- سويسرا واليابان . ب- روسيا والصين . ج- هولندا وألمانيا . د- فرنسا والولايات المتحدة .

185) من أمثلة الدول التي يغلب على أراضيها الطابع الجبلي :

أ- سويسرا واليابان . ب- روسيا والصين . ج- هولندا وألمانيا . د- فرنسا والولايات المتحدة .

186) من التأثيرات السلبية للسهول في قوة الدولة :

أ- صعوبة مواجهة الغزو . ب- صعوبة إدارة الدولة . ج- عدم التجانس البشري . د- إضعاف ترابطها الداخلي .

187) من الأنهار الدولية :

أ- اللوار وهافل . ب- موري ودارلنج . ج- الراين والدانوب . د- المسيسيبي وأتاباسكا .

188) قد تثير الأنهار الدولية مشكلات دولية نظراً لـ :

أ- تغير مجراها . ب- موسمية جريانها . ج- تعرضها للفيضان . د- ربطها بين الدول .

189) يشير السهم في الخريطة المقابلة إلى نهر :

أ- بو . ب- الدون . ج- الراين . د- الفولجا .

190) من الجبال التي تتخذ كحدود طبيعية بين الدول :

أ- الكاب . ب- البرانس . ج- كلورادو . د- كلمنجارو .

191) تعاني بيرو من صعوبة الاتصال بين أجزائها نتيجة :

أ- كثرة جداول المياه . ب- امتداد جبال الأنديز .  
ج- انتشار المنخفضات بأراضيها . د- انتشار الغطاءات الجليدية فيها .

192) تؤدي كثرة الجبال إلى محدودية الإنتاج الزراعي في :

أ- تشاد والنيجر . ب- سوريا والعرق . ج- ألمانيا وبولندا . د- اليابان والنرويج .

193) تمثل الجبال مصدر عدم استقرار لدولة :

أ- كوبا . ب- البرازيل . ج- فنزويلا . د- الأرجنتين .

194) قد تمثل الجبال مصدر عدم استقرار للدول نتيجة :

أ- تضرس سطحها . ب- شدة انحدارها . ج- استخراج المعادن منها . د- لجوء بعض الجماعات الانفصالية إليها .

195) من الدول التي تتميز بتنوع الأقاليم المناخية :

أ- هولندا . ب- بلجيكا . ج- لوكسمبورج . د- الولايات المتحدة الأمريكية .

196) من المناطق قليلة السكان :

أ- مرتفعات اليمن . ب- سهول سيبيريا . ج- سهول اللانوس . د- حوض البحر المتوسط .





197 لعبت النباتات الطبيعية قديماً دوراً في تاريخ الدول وأوضاعها السياسية لأنها كانت تمثل :

أ- فراغات عمرانية . ب- مناطق حدود طبيعية . ج- مناطق جذب سياحي . د- درع يقي الشعوب من هجمات الأعداء .

198 تتوفر مساحات كبيرة من الغابات في دول :

أ- الكاريبي . ب- إسكندنافيا . ج- البينولوكس . د- البحر المتوسط .

199 من الدول التي تتوفر فيها مساحات كبيرة من الغابات :

أ- روسيا وكندا والبرازيل . ب- تشاد والنيجر ومالي . ج- ليبيا والجزائر وتونس . د- باكستان وأفغانستان وكازاخستان .

200 تعني زيادة السكان زيادة في قوة الدولة عندما يكون هناك :

أ- تنوع في التركيب العرقي . ب- ارتفاع في معدل الإعالة . ج- زيادة في معدلات البطالة . د- توازن بين السكان والمساحة والإنتاج .

201 أكبر دول العالم سكاناً حسب إحصائية (2020م) :

أ- الهند . ب- الصين . ج- إندونيسيا . د- الولايات المتحدة .

202 من الدول التي لا يتناسب عدد سكانها الكبير مع مواردها المتاحة :

أ- روسيا واليابان . ب- فرنسا وإنجلترا . ج- الصين والولايات المتحدة . د- باكستان وإندونيسيا .

203 من الدول التي لا يتناسب عدد سكانها الكبير مع مواردها المتاحة :

أ- ألمانيا وروسيا . ب- فرنسا وإنجلترا . ج- نيجيريا وبنجلاديش . د- الهند والولايات المتحدة .

204 من سلبات الحجم الكبير للسكان على قوة الدولة :

أ- انتشار البطالة . ب- ضخامة القوة العسكرية . ج- يتيح سوق استهلاكية داخلية . د- يوفر أعداد كبيرة من القوة العاملة .

205 تؤدي الهجرة الدولية إلى اختلال التركيب العمري والنوعي للسكان بسبب :

أ- قلة العمالة الوطنية . ب- سوء توزيع السكان . ج- اختلال التركيب العمالي . د- كثرة المهاجرين من الذكور الشباب .

206 يعرف توزيع السكان طبقاً للفئات المختلفة (كبار السن وصغار السن والشباب) بالتركيب :

أ- النوعي . ب- العمري . ج- الاقتصادي . د- التعليمي .

207 ترتفع نسبة صغار السن والشباب في الدول النامية بسبب :

أ- كثرة الوافدين . ب- زيادة معدلات الهجرة . ج- ارتفاع معدلات المواليد . د- ارتفاع الكثافة السكانية .

208 يدل الهرم السكاني في الشكل المقابل على :

أ- نمو سكاني سريع . ب- انخفاض نسبة الإعالة .

ج- قلة نسبة صغار السن . د- اختلال التركيب النوعي .

209 يدل الهرم السكاني في الشكل المقابل على :

أ- تناقص السكان . ب- نمو سكاني سريع .

ج- قلة نسبة كبار السن . د- ارتفاع نسبة صغار السن .

210 تعرف نسبة الذكور إلى نسبة الإناث في الدولة، بالتركيب :

أ- النوعي . ب- العمري . ج- الاقتصادي . د- التعليمي .

211 تمتلك الدولة التي ينتمي سكانها إلى قومية واحدة :

أ- التنوع الثقافي . ب- التنوع اللغوي . ج- الاختلاف العرقي . د- التجانس الداخلي .

212 يؤدي تعدد القوميات والمذاهب داخل الدولة الواحدة إلى :

أ- التنوع الثقافي . ب- التنوع اللغوي . ج- التجانس الديموغرافي . د- الاضطرابات الداخلية .

213 "وسيلة التفاهم وتبادل الآراء والأفكار وتسجيل تاريخ الأمة ونقل تراثها" ، يشير هذا المصطلح إلى :

أ- اللغة . ب- التراث . ج- الحضارة . د- الاستشعار عن بعد .





214 من الدول التي يتحدث سكانها لغة واحدة :

أ- السويد والنرويج . ب- الهند وإندونيسيا . ج- بلجيكا ولوكسمبورج . د- نيجيريا وجنوب أفريقيا .

215 من الدول التي تتميز بالتعدد اللغوي :

أ- ليبيا وتونس . ب- الهند وإندونيسيا . ج- نيجيريا والكاميرون . د- السودان والصومال .

216 من الدول التي تتميز بالتعدد اللغوي :

أ- سوريا ولبنان . ب- بريطانيا وألمانيا . ج- السويد والنرويج . د- نيجيريا وجنوب أفريقيا .

217 من الدول التي تتميز بالتعدد اللغوي :

أ- تونس والمغرب . ب- إسبانيا والبرتغال . ج- السويد والنرويج . د- بلجيكا ولوكسمبورج .

218 من الدول التي يعتنق أكثر من (90٪) من سكانها ديانة واحدة :

أ- لبنان . ب- كندا . ج- فرنسا . د- إندونيسيا .

219 من الدول التي يعتنق (60 - 80٪) من سكانها ديانة واحدة :

أ- كندا . ب- لبنان . ج- ألبانيا . د- موريتانيا .

220 من الدول التي لا تظهر فيها أغلبية لدين على آخر :

أ- كندا . ب- ألبانيا . ج- فرنسا . د- الولايات المتحدة الأمريكية .

221 قد تؤدي الاختلافات السلافية والعرقية داخل الدولة إلى :

أ- تغير التوزيع السكاني . ب- تنوع الكفاءات العلمية . ج- زيادة التجانس السكاني . د- قيام حركات الانفصال .

222 تتمثل القوة التنظيمية للدولة في :

أ- حجم السكان . ب- نوعية الحكومة . ج- توزيع شبكة النقل . د- توزيع الموارد المعدنية .

223 تسعى الدول إلى زيادة قوتها العسكرية من خلال :

أ- تنويع الموارد . ب- سياسة التسليح المنفردة . ج- رسم التقسيمات الإدارية . د- عقد التحالفات العسكرية .

224 من الأدلة على سعي الدول إلى زيادة قوتها العسكرية :

أ- ظهور منظمة الكوميسا . ب- إنشاء حلف شمال الأطلسي . ج- تبني سياسات التسليح المنفردة . د- إنشاء منظمة التعاون الإسلامي .

225 من أهم الأحلاف العسكرية الموجودة على الساحة العالمية :

أ- بغداد . ب- وارسو . ج- شمال الأطلسي . د- جنوب شرق آسيا .

226 من الدول التي تكفي نفسها من الغذاء وليس لها نصيب في تجارة الغذاء بالعالم :

أ- مصر . ب- فرنسا . ج- سلطنة عمان . د- كوريا الشمالية .

227 من الدول التي يفيض إنتاجها الغذائي عن حاجة سكانها :

أ- تشاد . ب- نيجيريا . ج- أفغانستان . د- الولايات المتحدة .

228 تسعى الحكومات لدعم إنتاجها من الحبوب الغذائية من أجل :

أ- تحقيق الأمن الغذائي . ب- زيادة الفجوة الغذائية . ج- رفع معدلات التضخم . د- تحقيق الاستقرار الخارجي .

229 المعدن الرئيس الذي تقوم عليه الكثير من الصناعات :

أ- الحديد . ب- النيكل . ج- المنجنيز . د- البوكسيت .

230 حفر أول بئر للبترول في عام :

أ- 1849م . ب- 1859م . ج- 1869م . د- 1879م .

231 تستمد الدولة من مساحتها وموقعها الجغرافي القوة :

أ- التنظيمية . ب- الديموغرافية . ج- الاقتصادية . د- المورفولوجية .

232) تستمد الدولة من عدد سكانها وتماسكهم القوة :

أ- التنظيمية . ب- العسكرية . ج- الاقتصادية . د- الديموغرافية .

233) تستمد الدولة من مواردها وثرواتها ومدى امتلاكها للتقنية القوة :

أ- التنظيمية . ب- العسكرية . ج- الاقتصادية . د- الديموغرافية .

234) تستمد الدولة من مدى كفاءة الحكومة في فرض سيطرتها وتنفيذ القانون وتحقيق الاستقرار القوة :

أ- التنظيمية . ب- العسكرية . ج- الاقتصادية . د- الديموغرافية .

235) تتمثل القوة العسكرية للدولة في :

أ- عدد السكان . ب- علاقاتها الخارجية . ج- عدد أفراد الجيش . د- الأحلاف والتكتلات الاقتصادية .

236) تستمد الدولة من وسائل الإعلام والصحافة قوة في :

أ- الاقتصاد . ب- الديموغرافيا . ج- الربط والاتصال . د- العلاقات الخارجية .

237) القوة التي تستمدها الدولة من عضويتها في المنظمات الدولية والأحلاف العسكرية والتكتلات الاقتصادية هي :

أ- التنظيمية . ب- العسكرية . ج- الاقتصادية . د- العلاقات الخارجية .

238) "شكل من أشكال التكامل الاقتصادي يتم بين مجموعة من الدول تجمعها مصالح مشتركة" ، يشير هذا المصطلح إلى :

أ- المنفعة الحدية . ب- الاقتصاد المركزي . ج- السياسة الاقتصادية . د- التكتلات الاقتصادية .

239) تشير الدول المظلة في الخريطة المقابلة إلى أعضاء :

أ- الفيتو . ب- حلف الناتو . ج- حلف وارسو . د- الاتحاد الأوروبي .

240) بدأ الاتحاد الأوروبي كمشروع اقتصادي صغير بين ست دول عام (1958م) بهدف :

أ- استغلال الموارد الطبيعية . ب- تعزيز التعاون الاقتصادي . ج- توسيع شبكة الاتصالات . د- زيادة سيطرة الحكومات على أراضيها .

241) تم تأسيس الاتحاد الأوروبي عام (1992م) بتوقيع معاهدة :

أ- روما . ب- برلين . ج- باريس . د- ماستريخت .

242) يوجد مقر مفوضية الاتحاد الأوروبي في :

أ- مدريد . ب- لشبونة . ج- بروكسيل . د- أمستردام .

243) أصبح عدد أعضاء الاتحاد الأوروبي عام (2019م) :

أ- 25 عضواً . ب- 27 عضواً . ج- 29 عضواً . د- 31 عضواً .

244) الدولة التي خرجت من الاتحاد الأوروبي :

أ- فرنسا . ب- ألمانيا . ج- السويد . د- بريطانيا .

245) يعد الاتحاد الأوروبي أقوى الأسواق الاقتصادية في العالم لأنه :

أ- يمتلك ثروات معدنية كبيرة . ب- يستأثر بـ 1.9% من الاقتصاد العالمي . ج- يستحوذ على 16% من التجارة العالمية . د- يمتلك المرتبة الأولى عالمياً في احتياطي النفط .

246) يمتلك الاتحاد الأوروبي عملة موحدة تسمى :

أ- اليورو . ب- الدولار . ج- المارك . د- الفرنك .

247) "منظمة سياسية واقتصادية إقليمية في شبه الجزيرة العربية تضم ست دول" هي :

أ- جامعة الدول العربية . ب- مجلس التعاون الخليجي . ج- رابطة العالم الإسلامي . د- منظمة التعاون الإسلامي .





248 تشير الدول المظلة في الخريطة المقابلة إلى أعضاء :

- أ- الاتحاد العربي .  
ب- جامعة الدول العربية .  
ج- مجلس التعاون الخليجي .  
د- مجلس الوحدة الاقتصادية العربية .

249 أعلن عن قيام مجلس التعاون الخليجي في عام :

- أ- 1961م .  
ب- 1971م .  
ج- 1981م .  
د- 1991م .

250 يوجد مقر مجلس التعاون الخليجي في :

- أ- الدوحة .  
ب- الرياض .  
ج- المنامة .  
د- أبو ظبي .

251 يأتي مجلس التعاون الخليجي بين الاقتصاديات العالمية في المرتبة الـ :

- أ- السابعة .  
ب- التاسعة .  
ج- الحادية عشر .  
د- الثالثة عشر .

252 تسيطر دول مجلس التعاون الخليجي على خمس الإنتاج العالمي من :

- أ- الفحم .  
ب- البترول .  
ج- الغاز الطبيعي .  
د- الطاقة الكهربائية .

253 تأتي دول مجلس التعاون الخليجي في المرتبة الأولى عالمياً في احتياطي :

- أ- النفط .  
ب- الفحم .  
ج- الغاز الطبيعي .  
د- الوقود الحيوي .

254 تأتي دول مجلس التعاون الخليجي في المرتبة الثانية عالمياً في احتياطي :

- أ- النفط .  
ب- الفحم .  
ج- الغاز الطبيعي .  
د- الوقود الحيوي .

255 "الخطوط التي تحدد الأبعاد الجغرافية للدولة ورقعتها المساحية ونطاق سيادتها" ، يشير هذا المصطلح إلى :

- أ- الحدود الآمنة .  
ب- الفواصل النظامية .  
ج- الحدود السياسية .  
د- شبكة الإحداثيات .

256 يوضح الشكل المقابل مفهوم :

- أ- الحدود الآمنة .  
ب- الفواصل النظامية .  
ج- الحدود السياسية .  
د- التركيب الجيولوجي .

257 يقصد بالمسطحات المائية التي تشرف عليها الدولة إن وجدت :

- أ- الرصيف القاري .  
ب- المنحدر القاري .  
ج- المياه الإقليمية .  
د- المنافذ البحرية .

258 يقصد بطبقات الجو العليا التي تغطي أراضي الدولة ومياهها الإقليمية :

- أ- غلاف الأرض .  
ب- المجال الجوي .  
ج- المجال الحيوي .  
د- المياه الإقليمية .

259 "مناطق جغرافية لها مساحة غير مأهولة بالسكان كانت تستخدم كحواجز طبيعية تفصل بين الدول" ، يشير هذا

المصطلح إلى :

- أ- التخوم .  
ب- المجال الحيوي .  
ج- الوحدة السياسية .  
د- الحدود السياسية .

260 تشترك التخوم مع الحدود السياسية بأنها :

- أ- ثابتة .  
ب- بشرية .  
ج- قانونية .  
د- تستخدم للفصل بين الدول .

261 الهدف الأساسي الذي من أجله أنشئت الحدود السياسية هو :

- أ- الدفاع عن الدولة .  
ب- فرض الرسوم الجمركية .  
ج- إقامة نقاط للحجر الصحي .  
د- حماية النظم الاقتصادية للدولة .

262 من الوظائف المدنية للحدود السياسية :

- أ- توفير الأمن للشعب .  
ب- وضع الدفاعات العسكرية .  
ج- إقامة نقاط للحجر الصحي .  
د- تحديد مناطق نفوذ الدولة .

263 يعتمد التصنيف التكويني "الوظيفي" للحدود السياسية على أساس :

- أ- المكان .  
ب- الثبات .  
ج- وقت الاستيطان .  
د- الأشكال الهندسية .

264 يعتمد التصنيف المورفولوجي "الشكلي" للحدود السياسية على أساس :

- أ- المكان .  
ب- المفاوضات .  
ج- وقت الاستيطان .  
د- الحركات التكتونية .





265 تعد الحدود الطبيعية من أقوى الحدود السياسية بسبب :

أ- تعرضها للنحت . ب- كثرة ثرواتها . ج- تغيرها المستمر . د- صعوبة اختراقها .

266 أفضل أنواع الحدود الجبلية في المناطق الرطبة هي التي تتماشى مع :

أ- الأودية . ب- قمم الجبال . ج- السفوح الجبلية . د- خط تقسيم المياه .

267 أفضل أنواع الحدود الجبلية في المناطق الجافة هي التي تتماشى مع :

أ- الأودية . ب- قمم الجبال . ج- السفوح الجبلية . د- خط تقسيم المياه .

268 يوضح الشكل المقابل نوع من أنواع الحدود الطبيعية يتماشى مع :

أ- الأودية . ب- النحت النهري . ج- الإرساب النهري . د- خط تقسيم المياه .

269 تمتد الحدود بين تشيلي والأرجنتين على طول :

أ- نهر الأمازون . ب- نهر باراجواي . ج- جبال البرانس . د- جبال الأنديز .

270 تمتد الحدود بين فرنسا وإسبانيا على طول :

أ- نهر الرون . ب- نهر السوم . ج- جبال الألب . د- جبال البرانس .

271 تمتد الحدود بين النمسا وإيطاليا على طول :

أ- نهر الرون . ب- نهر السوم . ج- جبال الألب . د- جبال البرانس .

272 تصلح مجاري الأنهار الدنيا والوسطى كحدود سياسية بسبب :

أ- تغير مجراها . ب- تعدد روافدها . ج- كثرة فيضاناتها . د- اتخاذها مجرى محدد .

273 تغير الأنهار مجاريها بسبب :

أ- قلة روافدها . ب- ضعف منسوبها . ج- النحت والإرساب . د- اتخاذها مجرى واحد .

274 لا تصلح الأجزاء العليا من الأنهار كحدود سياسية بسبب :

أ- تغير مجراها . ب- تعدد روافدها . ج- كثرة فيضاناتها . د- اتخاذها مجرى محدد .

275 من الحدود النهرية التي تلتزم بإحدى ضفتي النهر، الحدود النهرية في :

أ- شط العرب بين العراق وإيران . ب- نهر الراين بين ألمانيا وفرنسا .

ج- نهر ريو جراند بين الولايات المتحدة والمكسيك . د- نهر السانت لورانس بين الولايات المتحدة والمكسيك .

276 من الحدود النهرية التي تلتزم بخط المنتصف، الحدود النهرية في :

أ- شط العرب بين العراق وإيران . ب- نهر الراين بين ألمانيا وفرنسا .

ج- نهر بوج بين بولندا وبيلاروسيا . د- نهر ريو جراند بين الولايات المتحدة والمكسيك .

277 من الحدود النهرية التي تلتزم بخط العمق الملاحى ، الحدود النهرية في :

أ- شط العرب بين العراق وإيران . ب- نهر الراين بين ألمانيا وفرنسا .

ج- نهر بوج بين بولندا وبيلاروسيا . د- نهر ريو جراند بين الولايات المتحدة والمكسيك .

278 يزداد الصراع بين الدولتين المتجاورتين لضم البحيرة إذا كانت البحيرة :

أ- واسعة . ب- عميقة . ج- غزيرة المياه . د- غنية بالأسماء .

279 من أمثلة الحدود البحرية التي تتفق مع الخط الأوسط للبحيرة :

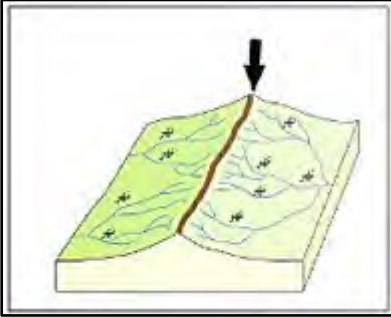
أ- الحدود الكينية الإثيوبية في بحيرة توركانا . ب- الحدود الكينية التنزانية في بحيرة فكتوريا .

ج- الحدود التنزانية الملاوية في بحيرة ملاوي . د- الحدود الكندية الأمريكية في البحيرات العظمى .

280 من أمثلة الحدود البحرية التي تتفق مع الخط الأوسط للبحيرة :

أ- الحدود الكينية الإثيوبية في بحيرة توركانا . ب- الحدود الكينية التنزانية في بحيرة فكتوريا .

ج- الحدود التنزانية الملاوية في بحيرة ملاوي . د- الحدود الكونغولية التنزانية في بحيرة تنجانيقا .



281 من أمثلة الحدود البحرية التي تقسم البحيرة بين عدة دول :

- أ- الحدود الكينية الإثيوبية في بحيرة توركانا .
- ب- الحدود الكينية التنزانية في بحيرة فكتوريا .
- ج- الحدود التنزانية الملاوية في بحيرة ملاوي .
- د- الحدود الكندية الأمريكية في البحيرات العظمى .

282 زادت المشكلات الدولية المتعلقة بتحديد المياه الإقليمية البحرية نتيجة :

- أ- اختلاف المد والجزر .
- ب- تآكل الشواطئ البحرية .
- ج- تغير منسوب ماء البحر .
- د- التوجه لاستغلال الثروات الاقتصادية .

283 توجد أمام سواحل كل دولة نطاقات للمياه البحرية تختلف من ناحية :

- أ- اللون .
- ب- العمق .
- ج- الكثافة .
- د- الملوحة .

284 يسمى النطاق البحري الذي يضم المرافئ والخلجان ومصبات الأنهار والبحيرات الساحلية، بالمياه :

- أ- الدولية .
- ب- الداخلية .
- ج- الملاصقة .
- د- الإقليمية .

285 يسمى النطاق البحري الممتد من خط الساحل إلى مسافة لا تتجاوز (12) ميلاً بحرياً، بالمياه :

- أ- الدولية .
- ب- الداخلية .
- ج- الملاصقة .
- د- الإقليمية .

286 تمارس الدولة صاحبة السيادة على المياه الإقليمية السيطرة على المياه الملاصقة من أجل :

- أ- إنشاء جزر صناعية .
- ب- حفظ الشعب المرجانية .
- ج- استغلال البحيرات الساحلية .
- د- مراقبة حركة الملاحة البحرية .

287 يطلق على النطاق البحري الممتد من خط الساحل إلى مسافة (200) ميلاً بحرياً :

- أ- أعالي البحار .
- ب- المياه الداخلية .
- ج- المياه الملاصقة .
- د- المنطقة الاقتصادية الخالصة .

288 يطلق على المنطقة البحرية التي تكون الملاحة فيها من حق الجميع وثرواتها متاحة لمن يستطيع :

- أ- أعالي البحار .
- ب- المياه الداخلية .
- ج- المياه الملاصقة .
- د- المنطقة الاقتصادية الخالصة .

## ثانياً : الأسئلة المقالية

**السؤال الثاني : أجب عن الأسئلة التالية :**

**1) عدد مراحل التخطيط العمراني .**

أ- دراسة الوضع القائم .

ب- تحليل ومراجعة المعلومات .

ج- الحلول والتنبؤ .

**2) ما أهمية التخطيط العمراني ؟**

أ- إعادة توزيع السكان على الموارد .

ب- تنظيم النمو العمراني .

ج- تنظيم استخدامات الأرض .

**3) ما العوامل المؤثرة في التخطيط العمراني ؟**

أ- العوامل الطبيعية .

ب- العوامل السكانية (الديموغرافية) .

ج- العوامل الاقتصادية .

**4) ما العوامل الطبيعية المؤثرة في التخطيط العمراني ؟**

أ- الموقع الجغرافي .

ب- التركيب الجيولوجي .

ج- مظاهر السطح .

د- موارد المياه .

**5) يساعد الموقع الجغرافي في فهم مجموعة من الأمور التي تتعلق بالتخطيط العمراني... في ضوء ذلك وضح أهمية دراسة**

**موقع المنطقة في التخطيط العمراني .**

أ- فهم التوزيع الجغرافي للسكان وتركيبهم والأنشطة الاقتصادية السائدة .

ب- فهم النمط العمراني السائد في الإقليم .





6) قارن بين الآثار المباشرة وغير المباشرة للتركيب الجيولوجي في التخطيط العمراني كما في الجدول التالي .

الآثار غير المباشرة للتركيب الجيولوجي	الآثار المباشرة للتركيب الجيولوجي
<p>أ- معرفة ما تحويه الطبقات الأرضية من ثروات معدنية (استغلال الثروات)</p> <p>ب- تحديد مدى ملائمة التربة للنشاط الزراعي .</p> <p>ج- تحديد مدى توفر المياه الجوفية الصالحة للاستخدام البشري .</p>	<p>أ- معرفة مدى صلاحية الصخور والتربة لأغراض البناء .</p> <p>ب- وضع الأساسات المناسبة للمباني بطريقة اقتصادية (تحديد ارتفاعات المباني) .</p> <p>ج- إنشاء الطرق والسكك الحديدية وشبكات التصريف .</p>

7) بم تفسر : يجب أن تكون المناطق العمرانية خالية من الانحدارات الشديدة ؟

- أ- لتسهيل عملية تسوية الأرض عند البناء دون تكاليف باهظة .
- ب- لتسهيل إنشاء المرافق (المياه والكهرباء والصرف الصحي) .
- ج- لتسهيل مد الطرق والسكك الحديدية .

8) ” تعد السهول أكثر مظاهر سطح الأرض تأثيراً في التخطيط العمراني ”... في ضوء ذلك وضح الأسباب التي تجعل

السهول أكثر المناطق جذباً للسكان .

أ- استواء سطحها .

ب- توفر موارد المياه السطحية والجوفية .

ج- توفر التربة الخصبة .

9) بم تفسر : يوجد بعض المناطق الجبلية المزدحمة بالسكان ؟

أ- توفر التربة الخصبة .

ب- اعتدال المناخ .

10) بم تفسر : تؤثر موارد المياه في عملية التخطيط العمراني ؟

أ- مصدر تزويد السكان بالمياه الصالحة للشرب والبناء .

ب- مصدر لري الأراضي الزراعية .

ج- يجب اختيار مواقع المناطق العمرانية في مناطق آمنة (بعيداً عن السيول والفيضانات) .

11) عدد صور تأثير عناصر المناخ في التخطيط العمراني .

أ- تحديد شكل المباني وارتفاعها وتوزيعها .

ب- اختيار مواد البناء .

ج- تحديد مواقع المناطق السكنية والصناعية .



12) بم تفسر : يهتم المخططون بالخصائص السكانية للمراكز العمرانية عند وضع المخططات العمرانية ؟

- أ- لتأثيرها في أعداد المراكز العمرانية وأحجامها .
- ب- لمعرفة مدى تقارب أو تباعد المراكز العمرانية .
- ج- لتأثيرها في تخطيط المساكن والخدمات والمرافق العامة .

13) بم تفسر :

- ( أ ) عند التخطيط العمراني لابد من دراسة أعداد ومعدلات النمو السكاني وتركيبهم والتنبؤ بأعدادهم في المستقبل ؟
- 1- لتكوين رؤية مستقبلية لاحتياجات السكان من الخدمات وفرص العمل .
  - ( ب ) عند التخطيط العمراني لابد من دراسة توزيع السكان وكثافتهم ؟
  - 1- لتحديد مناطق الضغط السكاني .
  - 2- لإعادة توجيه النمو العمراني ومنع التوسع العمراني العشوائي .

14) ما العوامل الاقتصادية التي يهتم بها المخططون في التخطيط العمراني ؟

- أ- دراسة التوزيع المكاني للأنشطة الاقتصادية .
- ب- دراسة الموارد الاقتصادية المتاحة ونوع استخدامها .
- ج- دراسة التكلفة الاقتصادية لتحقيق التنمية العمرانية .

15) عدد أهم التقنيات والأدوات المستخدمة في التخطيط العمراني .

- أ- الاستشعار عن بعد .
- ب- نظم المعلومات الجغرافية .
- ج- نظم التصميم باستخدام الحاسوب .

16) ما أهمية استخدام التقنيات والبرامج في التخطيط العمراني ؟

- أ- جمع ونقل وتحليل المعلومات والبيانات .
- ب- الإخراج النهائي للدراسات والخطط بدقة عالية وتكلفة أقل .
- ج- دعم اتخاذ القرار .

17) ما المقصود بكلاً من ؟

( أ ) التخطيط العمراني :

- 1- توجيه وتنمية استخدام الأرض لتلبية احتياجات المجتمع ووضع حلول للمشكلات العمرانية الحالية والمستقبلية .

( ب ) الاستشعار عن بعد :

- 1- عملية الكشف عن الخصائص الطبيعية لمنطقة ما ومراقبتها من خلال قياس الإشعاع المنعكس والمنبعث من مسافة بعيدة .

## 18) ما أهمية الاستشعار عن بعد في التخطيط العمراني ؟

- أ- توفير المعلومات والبيانات الدقيقة اللازمة للتخطيط العمراني .
- ب- وضع خطط عمرانية مستقبلية دقيقة .
- ج- دراسة محاور النمو العمراني .
- د- دراسة ومراقبة التغيرات الحضرية للمدن ، وإعداد قاعدة من الخرائط .

## 19) اذكر مجالات تطبيق الاستشعار عن بعد في التخطيط العمراني .

- أ- تحليل استخدام الأرض .
- ب- تحليل التركيب الجيولوجي .
- ج- دراسة تلوث البيئة والكوارث الطبيعية .

## 20) ما أهمية الاستشعار عن بعد في دراسة تلوث البيئة والكوارث الطبيعية ؟

- أ- تحديد مصادر التلوث البيئي ومستوياته في المدن ، واختيار أنسب المواقع لإنشاء مراكز عمرانية بعيداً عن مصادر التلوث .
- ب- تقديم معلومات دقيقة عن أشكال الكثبان الرملية واتجاه حركتها وزحفها على المناطق العمرانية .

## 21) اذكر استخدامات نظم المعلومات الجغرافية في التخطيط العمراني .

- أ- دراسة وتقييم استخدام الأرض، وتقديم المقترحات للاستخدام الأمثل .
- ب- دراسة وتقييم الخدمات في المناطق العمرانية .
- ج- دراسة وتقييم الطرق والمرور واتجاهات الكثافة وأوقات الذروة ووضع الحلول للاختناقات المرورية .
- د- تحديد اتجاهات النمو العمراني، ودراسة المناطق العشوائية ووضع الحلول للحد من انتشارها .

## 22) ما أهداف التخطيط العمراني المستدام ؟

- أ- وضع الخطط التنموية التي تضمن مجتمعات قابلة للعيش ومكتفية ذاتياً على المدى الطويل .
- ب- حماية البيئة والحفاظ على الموارد الطبيعية للأجيال الحالية والمستقبلية .

## 23) ما المقصود بكلاً من ؟

( أ ) نظم المعلومات الجغرافية ( GIS ) :

1- نظام قائم على الحاسوب مصمم لجمع البيانات الجغرافية وتخزينها ومعالجتها وتحليلها وإدارتها وإخراجها لتحقيق أهداف .

( ب ) المدن الذكية :

1- مدن تستخدم تكنولوجيا المعلومات والاتصالات لتحسين نوعية الحياة وكفاءة العمليات والخدمات الحضرية .



24) ما الجوانب التي يجب مراعاتها عند التخطيط العمراني المستدام ؟

- أ- إنشاء مساحات خضراء مفتوحة .
- ب- الاعتماد على مصادر الطاقة البديلة، والحفاظ على الموارد الطبيعية .
- ج- تنويع وسائل النقل والمواصلات، وتوفير الأرصفة والممرات للمشاة ومستخدمي الدراجات.
- د- حماية الموارد التاريخية والثقافية والبيئية .

25) صنف سكان العالم حسب نمط المعيشة .

- أ- البدو (يتميز نمط معيشتهم بالترحال الدائم) .
- ب- الحضر ويشمل المدينة والريف (يتميز نمط معيشتهم بالاستقرار) .

26) بم تفسر :

( أ ) يشمل مفهوم الحضر كلاً من المدينة والريف ؟

1- لأن سكان الريف مستقرون مثل سكان المدن .

( ب ) اختلاف الباحثين حول وضع تعريف للمدينة ؟

1- لاختلاف الأسس المستخدمة من قبل العلماء والهيئات الدولية للتمييز بين المدينة والقرية .

27) عدد أسس التمييز بين الريف والمدينة .

أ- الأساس السكاني (الديموغرافي) .

ب- الأساس الاقتصادي .

ج- الأساس الإداري .

د- الأساس التاريخي . هـ- الأساس الشكلي .

28) ”يعتمد على الشكل الخارجي والتنظيم المكاني للتمييز بين الريف والمدينة ” ... في ضوء ذلك اذكر الجوانب التي

تتميز بها المدينة عن القرية على الأساس الشكلي .

أ- توجد في المدينة منطقة مركزية تتركز فيها الحياة والأنشطة (نواة المدينة أو حي الأعمال المركزية) .

ب- يتواجد في المدينة ميادين كبيرة وشوارع أكثر .

ج- مباني المدينة أكثر ارتفاعاً من مباني القرية .

29) ما أسباب نمو السكان في المدن ؟

أ- الزيادة الطبيعية للسكان .

ب- الزيادة غير الطبيعية للسكان (الهجرة) .

30) من خلال خريطة التوزيع النسبي لسكان الحضر في العالم . أجب عما يلي .



أ- عدد القارات التي تزيد نسب سكان الحضر بها على (75%) .

1- أوروبا .

2- أستراليا .

3- أمريكا الشمالية .

ب- اذكر الدولة العربية الأفريقية التي تصل نسبة سكان الحضر بها

إلى (80%) .

1- ليبيا .

31) ما عوامل النمو الحضري الكبير في العالم خلال العصر الحديث ؟

أ- الثورة الزراعية .

ب- الثورة الصناعية .

ج- الثورة التكنولوجية .

د- الزيادة الطبيعية وغير الطبيعية للسكان .

32) بم تفسر : كان للثورة الزراعية دوراً في تزايد أعداد سكان المدن خلال العصر الحديث ؟

أ- لأنها أدت إلى تقليل حجم العمالة الريفية .

ب- تسببت في تزايد أعداد المهاجرين من الريف إلى المدن للبحث عن فرص عمل .

33) بم تفسر : ساهمت الثورة الصناعية بدور كبير في زيادة أعداد سكان المدن بالعصر الحديث ؟

أ- تزايد أعداد المهاجرين من الريف إلى المدن .

ب- تقدم وسائل النقل والمواصلات بين المناطق الحضرية والريفية .

34) بم تفسر : تزايد أعداد المهاجرين من الريف إلى المدن في العصر الحديث ؟

أ- الأجور العالية .

ب- توفر فرص العمل .

ج- توفر الخدمات الصحية والتعليمية .

### 35) ما المقصود بكلاً من ؟

( أ ) النمو الحضري :

1- التغير في أعداد السكان الذين يعيشون في المدن خلال فترة زمنية معينة .

( ب ) التحضر :

1- انتقال سكان الريف للإقامة في المدن .

( ج ) درجة التحضر :

1- نسبة سكان المدن إلى المجموع الكلي للسكان .

( د ) استخدام الأرض :

1- التوزيع المكاني لوظيفة المدينة .

### 36) اذكر تصنيف استخدامات الأرض في المدن .

أ- السكني .

ب- التجاري .

ج- الصناعي .

د- وسائل النقل . هـ- الاستخدام العام . و- الأراضي الخالية .

### 37) بم تفسر : تمثل المساحة المخصصة للنقل المركز الثاني بعد الاستخدام السكني في المدن ؟

أ- تزايد أعداد السكان .

ب- ارتفاع الدخل .

ج- زيادة استخدام وسائل النقل .

### 38) قارن بين استخدامات الأرض للغرض التجاري واستخدامها للغرض الصناعي في المدن كما في الجدول التالي .

وجه المقارنة	استخدامات الأرض للغرض التجاري	استخدامات الأرض للغرض الصناعي
الموقع	تستحوذ على أفضل المواقع في المدينة	هناك اتجاه للسعي نحو عدم وجودها داخل المدن
النسبة من المساحة الكلية في المدن الأمريكية	تستحوذ على مساحة صغيرة من المساحة الكلية للمدينة (5%)	تستحوذ على مساحة صغيرة من المساحة الكلية للمدينة (6%)
الخصائص	تشمل المتاجر ومراكز التسوق والبنوك	تشمل الصناعات الخفيفة والثقيلة والمخازن



39) عدد أقسام الاستخدامات العامة للأرض في المدن .

أ- مناطق الترفيه والاستجمام (مثل المتنزهات والملاعب) .

ب- المؤسسات الحكومية والخدمية .

ج- أراضي دور العبادة .



40) أمامك خريطة تطور عمران مدينة لندن ... في ضوء ذلك أجب عن الآتي .

أ- سم هذا الشكل من الامتداد العمراني في مدينة لندن .

1- حلقات خارجية .

ب- اذكر نطاقات النمو العمراني في مدينة لندن .

1- النطاق الداخلي (يتضمن قلب المدينة القديمة) .

2- النطاق الخارجي (مخصص للتوسع العمراني) .

41) قارن بين النطاق العمراني الداخلي والخارجي لمدينة لندن كما في الجدول التالي .

وجه المقارنة	النطاق العمراني الداخلي	النطاق العمراني الخارجي
الخصائص	يتضمن قلب المدينة القديمة وضواحي المدينة المركزية	يتضمن مناطق التوسع العمراني والمدن الجديدة المحاطة بأحزمة خضراء

42) بم تفسر : تعد الدوحة مركز دولة قطر النابض ؟

أ- لكونها المحور الذي تدور حوله الأنشطة الاقتصادية والسياسية والثقافية .

ب- سهولة اتصالها بالمراكز العمرانية في الدولة .

43) اذكر مراحل التطور العمراني لمدينة الدوحة .

أ- من بداية القرن العشرين إلى عام 1960 م .

ب- خلال الفترة من (1960 إلى 1973 م) .

ج- خلال الفترة من (1973 حتى الآن) .

44) قارن بين مراحل التطور العمراني لمدينة الدوحة كما في الجدول التالي .

وجه المقارنة	من بداية القرن العشرين حتى عام 1960 م	خلال الفترة من (1960 - 1973 م)	خلال الفترة من (1973 م حتى الآن)
امتداد المدينة	كانت تمتد بشكل مواز لساحل الخليج	كانت تمتد على طول محاور الطرق الرئيسية	شهدت طفرة عمرانية كبيرة
المساحة العمرانية	بلغت في نهاية الفترة نحو (17.5 كم <sup>2</sup> )	بلغت في نهاية الفترة نحو (36.5 كم <sup>2</sup> )	بلغت في نهاية الفترة نحو (235 كم <sup>2</sup> )

45) **بم تفسر :**

( أ ) شهدت مدينة الدوحة اتساعاً عمرانياً كبيراً في فترة الخمسينات من القرن العشرين ؟

1- العوائد المالية من تصدير النفط والغاز وتوجيهها نحو مشروعات التنمية والبنية التحتية في المدينة .

( ب ) بطء معدلات النمو السكاني لمدينة الدوحة في النصف الأول من القرن العشرين ؟

1- كساد تجارة اللؤلؤ الطبيعي .

( ج ) ارتفاع معدلات النمو السكاني لمدينة الدوحة خلال الفترة من (1970 حتى الآن) ؟

1- زيادة أعداد الهجرة الوافدة .

46) **أمامك خريطة استخدامات الأرض في مدينة الدوحة ... في ضوء ذلك أجب عن الآتي .**



أ- عدد استخدامات الأرض في مدينة الدوحة .

1- المجاورات السكنية الحديثة .

2- مناطق الترفيه والمنتزهات .

3- مناطق المحميات الطبيعية، المراكز التجارية .

ب- اذكر شكل العمران في مدينة الدوحة .

1- تأخذ المدينة شكلاً حلقياً إشعاعياً .

ج- اذكر النموذج العمراني التي تتقارب منه مدينة الدوحة حالياً .

1- تتقارب من نموذج القطاعات .

47) **ما أهمية الموقع الجغرافي لمدينة نيويورك ؟**

أ- مكنها من جذب المهاجرين الأوروبيين .

ب- جعلها مركزاً لتوظيف الأموال .

48) **بم تفسر : تعد مدينة نيويورك العاصمة الاقتصادية للولايات المتحدة ؟**

أ- لكثرة مقار الشركات والبنوك العالمية فيها .

ب- لوجود مقر الأمم المتحدة وسوق الأوراق المالية بها .

49) **عدد أحياء مدينة نيويورك .**

أ- منهاتن .

ب- بروكلين .

ج- برونكس .

د- كوينز . هـ- جزيرة ستاتن .



50) من خلال خريطة مدينة نيويورك الصماء ، اكتب أسماء الأحياء العمرانية التي تدل عليها الأرقام التالية .



- يدل الرقم ( 1 ) على حي : برونكس .
- يدل الرقم ( 2 ) على حي : منهاتن .
- يدل الرقم ( 3 ) على حي : كوينز .
- يدل الرقم ( 4 ) على حي : بروكلين .
- يدل الرقم ( 5 ) على حي : جزيرة ستاتن .

51) بم تفسر :

( أ ) أصبحت مدينة نيويورك بحلول عام (1950م) أكبر مدينة عملاقة في العالم بعدد سكان يقارب "8 مليون نسمة" ؟

1- تزايد أعداد المهاجرين إلى المدينة .

( ب ) فقدت مدينة نيويورك خلال الفترة من (1970 – 1980م) نحو (10%) من سكانها ؟

1- نتيجة الأزمة الاقتصادية والاضطرابات الاجتماعية .

52) ما المشكلات الحضرية الناتجة عن النمو العمراني غير المنظم ؟

- أ- ارتفاع أسعار السكن .
- ب- العشوائيات السكنية .
- ج- الفقر والبطالة .
- د- التلوث والتدهور البيئي . هـ- المياه والصرف الصحي . و- الازدحام المروري . ز- التنوع العرقي .

53) ما أسباب مشكلة ارتفاع أسعار السكن بالمدن الكبرى ؟

- أ- الزيادة السكانية الكبيرة .
- ب- زيادة الطلب على الوحدات السكنية .
- ج- ارتفاع تكاليف البناء .

54) ما النتائج المترتبة على مشكلة ارتفاع أسعار السكن بالمدن ؟

- أ- انتشار ظاهرة الإسكان العشوائي في أطراف المدن .
- ب- تزايد كثافة السكان في الأحياء الفقيرة القديمة بالمدن، وانخفاض مستوى الخدمات .

55) ما الإجراءات التي تتخذها بعض الدول لحل مشكلة ارتفاع أسعار السكن بالمدن ؟

- أ- التوسع في إنشاء المدن الجديدة .
- ب- منح القروض الميسرة والأراضي السكنية المخططة للمواطنين .
- ج- التطوير الحضري وتجديد أو استبدال المباني القديمة .



56) ما أسباب مشكلة العشوائيات السكنية بالمدن الكبرى ؟

أ- زيادة معدلات النمو السكاني .

ب- نقص أعداد الوحدات السكنية .

57) بِمِ نفسر : تعرض سكان الأحياء السكنية العشوائية في المدن إلى الأمراض والأوبئة ؟

أ- التزاحم .

ب- ضيق المساكن .

ج- الافتقار إلى الخدمات والنظافة .

58) ما الحلول التي تتخذها بعض الدول لحل مشكلة العشوائيات السكنية بالمدن ؟

أ- تحسين أوضاع المناطق العشوائية الحالية .

ب- إيجاد تجمعات سكنية بديلة مخططة عمرانياً .

ج- إحاطة المدن الكبرى بأحزمة خضراء .

د- مراقبة وتنظيم استخدام الأرض والزحف العمراني في المدن عن طريق توظيف البرامج والأدوات الحديثة .

59) ما أثر هجرة السكان من المناطق الريفية إلى المناطق الحضرية في ظهور مشكلة الفقر والبطالة ؟

أ- ارتفاع معدلات البطالة .

ب- تدني مستوى الأجور .

ج- ارتفاع معدلات الفقر .

60) ما النتائج المترتبة على انتشار الفقر والبطالة ؟

أ- انخفاض مستوى المعيشة .

ب- هجرة الكفاءات وأصحاب العقول .

ج- ارتفاع معدلات الجرائم والعنف .

د- انتشار الأمراض النفسية والإدمان .

61) ما الإجراءات التي تتخذها بعض الدول لمواجهة مشكلة الفقر والبطالة ؟

أ- توفير الاحتياجات الأساسية للفقراء بأسعار مدعمة .

ب- وضع برامج تدريبية لتعلم المهارات اللازمة لسوق العمل (عمل برامج تشغيل للشباب) .

ج- تشجيع الاستثمارات لتوفير المزيد من فرص العمل .

د- وضع نظام عادل للرعاية الصحية والاجتماعية للعاملين في مختلف القطاعات .

**62) ما مظاهر التلوث البيئي في المناطق الحضرية ؟**

- أ- تلوث الهواء .
- ب- التلوث البصري .
- ج- التلوث الضوضائي .

**63) "أصبح تلوث الهواء من مشكلات المدن الكبرى في العالم" ... في ضوء ذلك وضح أسباب تلوث الهواء في المدن ؟**

- أ- التقدم الصناعي .
- ب- زيادة وسائل النقل .

**64) ما أسباب التلوث الضوضائي في المدن ؟**

- أ- زيادة حركة المرور .
- ب- استخدام آلات التنبيه .
- ج- وجود السكك الحديدية والورش والمصانع والمعارض والأسواق .

**65) ما النتائج المترتبة على :**

( أ ) تلوث الهواء في المدن ؟

1- ارتفاع معدلات الإصابة بأمراض الجهاز التنفسي والقلب .

( ب ) التلوث الضوضائي ؟

1- آثار سلبية على الجهاز السمعي للإنسان .

2- الإصابة بأمراض القلب .

3- اضطرابات النوم .

4- الاضطرابات النفسية .

**66) ما أسباب التلوث البصري في المدن ؟**

أ- توسع المناطق العشوائية غير المخططة .

ب- تراكم النفايات الصلبة وأكوام القمامة .

ج- الطرق غير الممهدة وعمليات الحفر .

د- المباني والمنشآت القديمة والسيارات المهجورة . هـ- فوضى اللوحات الإعلانية ، أسلاك الاتصالات المعلقة عبر المنشآت .



67) ما الإجراءات التي تتخذها بعض الدول لحل مشكلة التلوث والتدهور البيئي في المدن ؟

- أ- حل مشكلة الازدحام المروري ، والعمل على تطوير المركبات والمحركات لتقليل الغازات المنبعثة منها .
- ب- التوسع في استخدام وسائل النقل العام والمركبات صديقة البيئة .
- ج- زيادة المساحات الخضراء والمنتزهات في المدن .
- د- تفعيل القوانين للحد من التلوث الضوضائي والبصري . هـ- نشر التوعية بالطرق العلمية للتخلص من المخلفات .

68) بم تفسر : تعد مشكلة توفير المياه الصالحة للشرب من أخطر مشكلات المدن ؟

- أ- تزايد استهلاك المياه في المدن .
  - ب- ارتفاع تكاليف الدول لتأمين المياه بأسعار مناسبة .
- 69) بم تفسر : تواجه بعض المدن أزمة في إدارة مرافق الصرف الصحي ؟

- أ- عجز أنظمة الصرف الصحي .
  - ب- عجز محطات معالجة مياه الصرف الصحي .
- 70) ما الحلول المقترحة لمواجهة مشاكل المياه والصرف الصحي في المدن ؟

- أ- تطوير شبكات المياه والصرف الصحي في المدن .
- ب- ترشيد استهلاك المياه .
- ج- التوسع في إنشاء محطات معالجة الصرف .

71) بم تفسر :

- ( أ ) تزايد كميات المياه المستخدمة في المنازل والمناطق الصناعية بالمدن ؟
- 1- النمو السكاني السريع للمدن .
- ( ب ) تعتبر مشكلة الازدحام المروري من المشكلات الرئيسية في مدن الدول ؟
- 1- ازدياد أعداد وسائل النقل الخاصة والعامة .

72) عدد صور مشكلات المرور في المدن .

- أ- ازدحام الطرق وتكدس السيارات بها .
- ب- الحوادث المرورية .
- ج- التلوث الناتج عن حركة المرور .



**73) ما النتائج المترتبة على الازدحام المروري في المدن ؟**

- أ- زيادة استهلاك الوقود، وتآكل المركبات .
- ب- ارتفاع نسبة تلوث الهواء .
- ج- ارتفاع تكاليف نقل البضائع .
- د- التأثير على إنتاجية الفرد وصحته النفسية .

**74) ما الإجراءات التي تتخذها بعض الدول لمواجهة مشكلة الازدحام المروري والنقل الحضري ؟**

- أ- بناء الأنفاق والجسور .
- ب- التوسع في مشروعات النقل العام وقطارات الأنفاق .
- ج- تحسين شبكات الطرق (رصف وتوسعة الطرق) .
- د- إنشاء مناطق لانتظار السيارات، ومواقف متعددة الطوابق .

**75) "مع تزايد النمو الحضري أصبحت المدن تضم سكاناً مختلفين في الهوية الثقافية والدينية واللغوية" ... في ضوء ذلك**

**وضح المشكلات المرتبطة بالتمييز .**

- أ- زيادة أعداد الفقراء في المدن .
- ب- تزايد الصراعات ومشاعر الغضب لدى الأقليات .

**76) ما الحلول المقترحة لمواجهة مشكلة التنوع العرقي ؟**

- أ- حرية الأقليات الدينية واحترام هويتها الثقافية .
- ب- ضمان المشاركة الفعالة للأقليات في مختلف الأنشطة الاقتصادية .
- ج- ضمان الحد الأدنى للأجور، وخاصة للعمال الفقيرة من الأقليات .
- د- دعم برامج التعليم والرعاية لأبناء الأقليات .

**77) ما المشكلات الناتجة عن التنوع العرقي في المناطق الحضرية ؟**

- أ- اختلاف العادات والتقاليد .
- ب- عدم التجانس الفكري بين السكان .
- ج- ظهور التفرقة العنصرية .

**78) ما النتائج المترتبة على امتلاك قطر ثالث أكبر مخزون من الغاز الطبيعي في العالم ؟**

- أ- تعزيز فرص الرفاهية الاقتصادية للأجيال القادمة .
- ب- استيعاب الزيادة السكانية .

79) ما أهداف رؤية قطر الوطنية (2030م) ؟

- أ- أن تصبح قطر دولة متقدمة قادرة على تحقيق التنمية المستدامة .
- ب- تأمين استمرار العيش الكريم لشعبها جيلاً بعد جيل .

80) اذكر الركائز الأساسية للتنمية المستدامة في دولة قطر .

- أ- التنمية البيئية .
- ب- التنمية البشرية .
- ج- التنمية الاقتصادية .
- د- التنمية الاجتماعية .

81) قارن بين المشكلات الحضرية في مدينة نيويورك والمشكلات الحضرية في المدن القطرية كما في الجدول التالي .

المشكلات الحضرية في المدن القطرية	المشكلات الحضرية في مدينة نيويورك
<ul style="list-style-type: none"> <li>أ- ارتفاع أسعار السكن .</li> <li>ب- التلوث البيئي .</li> <li>ج- الازدحام المروري .</li> <li>د - مشكلة المياه .</li> </ul>	<ul style="list-style-type: none"> <li>أ- ارتفاع أسعار السكن .</li> <li>ب- التلوث البيئي .</li> <li>ج- الفقر والبطالة .</li> <li>د- التنوع العرقي .</li> </ul>

82) ما أسباب ارتفاع أسعار السكن في دولة قطر ؟

- أ- تحول مراكز المدن إلى مناطق تجارية وخدمية .
- ب- التكلفة الباهظة لتوفير شبكات الطرق والبنية التحتية والمرافق .

83) ما الحلول التي قامت بها دولة قطر لحل مشكلة ارتفاع أسعار السكن ؟

- أ- توفير أراضي خالية مخصصة للاستخدام السكني .
- ب- توفير مساكن مجانية للقطريين ذوي الدخل المنخفضة والاحتياجات الخاصة والأرامل والأيتام .
- ج- تحديد مواصفات السكن المناسب للعمال الوافدة، والتوسع في إنشاء المدن العمالية .

84) ما أسباب الازدحام المروري في مدينة الدوحة ؟

- أ- عدم قدرة بعض الطرق على استيعاب الزيادة الكبيرة في أعداد السيارات .
- ب- تركيز المراكز التجارية والخدمات في مركز المدينة .
- ج- ارتفاع معدلات امتلاك السكان للسيارات الخاصة .
- د- تفضيل السكان استخدام السيارات الخاصة .

### 85) ما الحلول التي قامت بها دولة قطر لحل مشكلة الازدحام المروري ؟

- أ- توزيع أماكن التسوق والترفيه والخدمات المجتمعية على مناطق مختلفة في المدن .
- ب- توفير شبكة طرق متطورة داخل المدن ، وطرق تربط المدن ببعضها وبضواحيها .
- ج- إنشاء أنظمة نقل ذكية، ومراكز لإدارة وسائل النقل ومراقبة حركة المرور .
- د- مراقبة الطرق الرئيسية للحد من الحوادث والسرعة الزائدة . هـ- تشجيع استخدام الدراجات . و- توفير وسائل النقل الجماعي .

### 86) ما جهود دولة قطر لمواجهة مشكلة التلوث البيئي ؟

- أ- الانضمام إلى الاتفاقيات الدولية لحماية البيئة .
- ب- التوسع في إنشاء المحميات الطبيعية ، والحفاظ على الظواهر البيئية النادرة .
- ج- زيادة التوعية بأضرار الأكياس أحادية الاستخدام .
- د- التوسع في إنشاء المباني الخضراء صديقة البيئة، زراعة أحزمة خضراء حول المدن . هـ- إعادة تدوير النفايات . و- التوعية البيئية .

### 87) ما جهود دولة قطر لمواجهة مشكلة المياه العذبة ؟

- أ- إقامة مشروع الخزانات الاستراتيجية الكبرى لتأمين المياه .
- ب- استخدام المياه المعد تدويرها في العمليات الصناعية والحدائق .
- ج- نشر الوعي لتوفير استهلاك المياه العذبة .

### 88) عدد أركان الدولة .

- أ- الإقليم .
- ب- الشعب .
- ج- السلطة .
- د- السيادة (لها جانبان : السيادة الداخلية والسيادة الخارجية) .

### 89) اذكر المقومات الطبيعية للدولة .

- أ- الموقع .
- ب- المساحة .
- ج- الشكل .
- د- التضاريس . هـ- المناخ . و- النبات الطبيعي .

### 90) عدد أقسام الموقع .

- أ- الموقع الفلكي .
- ب- الموقع الجغرافي .



## 91) عدد أقسام الموقع الجغرافي .

- أ- الموقع بالنسبة للمسطحات المائية .
- ب- الموقع بالنسبة للدول المجاورة .
- ج- الموقع الاستراتيجي .
- د- الموقع المركزي أو الهامشي .

## 92) بم تفسر : يعد الموقع بالنسبة لدوائر العرض أهم من حيث التأثير في قوة الدولة - أيضاً ( ما أهمية الموقع الجغرافي)؟

- أ- لأنه يؤثر في مناخ الدولة والنبات الطبيعي .
- ب- لأنه يؤثر في الأنشطة البشرية للسكان .

## 93) "تختلف الدول من حيث طول وعدد الجهات البحرية" ... في ضوء ذلك اذكر أنواع الدول البحرية .

- أ- دول تطل على مسطح مائي واحد (بجبهات بحرية طويلة مثل "تشيلي والبرازيل"، وبجبهات بحرية قصيرة نسبياً مثل السودان) .
- ب- دول تطل على مسطحين مائيين (مثل المملكة السعودية والمغرب وفرنسا) .
- ج- دول شبه جزرية تطل على أكثر من مسطح مائي (مثل الهند وإيطاليا) .
- د- دول جزرية بحدود بحرية كاملة (مثل بريطانيا واليابان وأيسلندا) .

## 94) من خلال خريطة قارة آسيا السياسية، أجب عما يلي :



- أ- اذكر دولتين حبيستين .
- 1- كازاخستان .
- 2- أفغانستان .
- ب- اذكر دولة شبه جزرية تطل على أكثر من مسطح مائي .
- 1- الهند .
- ج- اذكر دولة بحرية بحدود كاملة (جزر) .
- 1- اليابان .

95) من خلال خريطة قارة أوروبا السياسية، أجب عما يلي :

أ- اذكر دولة تطل على مسطح مائي واحد بجبهة بحرية قصيرة .

1- ألمانيا .

ب- اذكر دولة تطل على مسطحين مائيين .

1- فرنسا .

ج- اذكر دولة شبه جزرية تطل على أكثر من مسطح مائي .

1- إيطاليا .

د- اذكر دولتين بحريتين بحدود كاملة (جزر) .

1- بريطانيا .

2- أيسلندا .

هـ- اذكر دولتين حبيستين .

1- النمسا .

2- سويسرا .



96) ما أهمية الموقع الساحلي للدولة ؟

أ- سهولة الاتصال بالعالم الخارجي .

ب- زيادة النشاط التجاري والسياحي .

ج- تمتعها بالثروات البحرية في مياهها الإقليمية .

97) من خلال خريطة قارة أفريقيا السياسية، أجب عما يلي :

أ- اذكر دولة تطل على مسطح مائي واحد بجبهة بحرية قصيرة نسبياً .

1- السودان .

ب- اذكر دولتين حبيستين .

1- مالي .

2- النيجر .



98) وضح المشكلات التي تعاني منها الدول الحبيسة .

أ- المشكلات الاقتصادية (نتيجة تحكم الدول الساحلية في تجارتها ، وارتفاع

تكاليف النقل) .

ب- المشكلات السياسية والعسكرية (تدخل الدول المجاورة البحرية في

سياساتها) .

ج- المشكلات الحضارية (نتيجة العزلة الثقافية لصعوبة الاتصال ببقية دول العالم) .

99) من خلال خريطة العالم السياسية، أجب عما يلي :



أ- اذكر دولة ذات حدود بعيدة عما يجاورها .

1- المملكة المتحدة .

ب- اذكر دولتين يجاورهما عدد قليل من الدول .

1- إسبانيا .

2- كندا .

ج- اذكر ثلاث دول يجاورها عدد كثير من الدول .

1- الصين .

2- البرازيل .

3- السودان .

100) "تتأثر قوة الدولة بعدد وقوة الدول المجاورة لها" ... في ضوء ذلك اذكر أنواع مواقع الدول بالنسبة للدول المجاورة .

أ- يوجد دول يجاورها عدد قليل من الدول، مثل (البرتغال وإسبانيا) و(كندا والولايات المتحدة) .

ب- يوجد دول يجاورها عدد كبير من الدول (مثل الصين والبرازيل والسودان) .

ج- يوجد دولة يجاورها دولة أخرى تعادلها في القوة أو ترتبط معها بمواثيق واتفاقيات تعاون .

د- يوجد دول ذات حدود بعيدة عن بعضها مثل الدول الجزرية (مثل المملكة المتحدة) .

101) أجب عما يلي :

( أ ) ما إيجابية موقع الدولة التي يجاورها عدد كبير من الدول ؟

1- تحقيق التعاون .

2- زيادة القوة .

( ب ) وضح سلبية موقع الدولة التي يجاورها عدد كبير من الدول .

1- قد تسبب العديد من المشكلات .

( ج ) اذكر إيجابية موقع الدولة التي يجاورها دولة أخرى تعادلها في القوة أو ترتبط معها بمواثيق تعاون دولية .

1- التقليل من الإنفاق على التسليح للدفاع عن الحدود .

( د ) وضح سلبية موقع الدولة التي يجاورها دولة أخرى تختلف معها في القوة أو الحجم .

1- يجعل السيادة للدولة الأكبر والأكثر قوة .





102 "الموقع الاستراتيجي هو الموقع الذي يضيف للدولة التي تسيطر عليه ميزة عسكرية وسياسية ... في ضوء ذلك اذكر

أمثلة المواقع الاستراتيجية .

- أ- المضائق المحيطية التي تقع على طرق تجارية مهمة، مثل (جبل طارق وباب المندب والبوسفور والدردينيل) .  
ب- القنوات الملاحية لربط البحار والمحيطات، مثل (قناة السويس وقناة بنما) .

103 اكتب أسماء المضائق التي تشير إليها الخرائط المعروضة أمامك .



يشير رقم (1) إلى مضيق : البوسفور .  
يشير رقم (2) إلى مضيق : الدردنيل .



تشير إلى مضيق : باب المندب .



تشير إلى مضيق : هرمز .



تشير إلى مضيق : جبل طارق .

104 اكتب اسم القناة التي تشير إليها كل خريطة معروضة أمامك .



تشير إلى قناة : بنما .



تشير إلى قناة : السويس .

105 قارن بين الموقع المركزي والهامشي للدولة من حيث "المفهوم والأمثلة" كما في الجدول التالي .

وجه المقارنة	الموقع المركزي للدولة	الموقع الهامشي للدولة
المفهوم	الموقع المتوسط جغرافياً .	الموقع الذي يوجد على الأطراف بعيداً عن الأقاليم الصناعية وطرق التجارة .
الأمثلة	دول غرب أوروبا وشرق أمريكا الشمالية .	أستراليا ونيوزيلاندا .





106 قارن بين الآثار الإيجابية للدول ذات المساحة الكبيرة والأخرى صغيرة المساحة على "قوة الدولة" كما في الجدول التالي .

الآثار الإيجابية للدول صغيرة المساحة	الآثار الإيجابية للدول كبيرة المساحة
<p>أ- تسهل عملية الإدارة وحماية حدودها .</p> <p>ب- تنمية واستغلال جميع مواردها .</p> <p>ج- التجانس والترابط البشري .</p>	<p>أ- تنوع الموارد الطبيعية .</p> <p>ب- ضم أعداد كبيرة من السكان .</p> <p>ج- تحقيق الأمن والدفاع .</p>

107 قارن بين الآثار السلبية للدول ذات المساحة الكبيرة والأخرى صغيرة المساحة على "قوة الدولة" كما في الجدول التالي .

الآثار السلبية للدول صغيرة المساحة	الآثار السلبية للدول كبيرة المساحة
<p>أ- يسهل اختراقها واحتلالها .</p> <p>ب- قد تفقد سيادتها لحساب الدول الكبرى .</p>	<p>أ- كثرة الإنفاق على الأمن والحماية والطرق وتأمين الحدود .</p> <p>ب- تمثل عائقاً أمام الأمن الداخلي .</p>

108 ما العوامل المؤثرة في فعالية المساحة على قوة الدولة ؟

- أ- أعداد السكان ومدى تناسبهم مع مساحة الدولة .
- ب- توزيع السكان المتوازن وكثافتهم على مساحة الدولة .
- ج- المستوى الحضاري للسكان وقدرتهم على استغلال الموارد .
- د- شبكة النقل والمواصلات التي تربط أجزاء الدولة . هـ- التجانس البشري . و- وضع ورسم الحدود .

109 عدد مظاهر تأثير شكل الدولة في قوتها السياسية والاقتصادية .

- أ- استراتيجيتها العسكرية وإدارتها الداخلية .
- ب- درجة ترابط أجزائها الداخلية .
- ج- استغلال مواردها الطبيعية .
- د- درجة ترابط وتجانس سكانها .

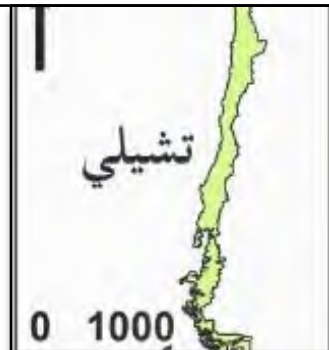
110 اكتب شكل كل دولة من الدول التي تشير إليها الخرائط المعروضة أمامك - (عدد أشكال الدول) .



الشكل : المثقب (الجيوب) .



الشكل : المجزأ .



الشكل : المستطيل .



الشكل : المنتظم .

# 111 من خلال الخريطة التي أمامك، أجب عما يلي :



أ- اذكر شكل الدولة .

1- المنتظم .

ب- اذكر مزايا الشكل المنتظم للدول .

1- قدرة الدولة على فرض سيادتها وسيطرتها على جميع أجزاء الدولة .

2- تسهيل إنشاء شبكة نقل ومواصلات جيدة (تسهيل إدارة الدولة) .

3- تسهيل الدفاع عن الدولة وتأمينها .

4- يساعد على ترابط السكان .

# 112 من خلال الخريطة التي أمامك، أجب عما يلي :



أ- اذكر شكل الدولة المظللة بالخريطة .

1- المستطيل .

ب- اذكر مزايا الشكل المستطيل للدول .

1- تنوع المناخ .

2- تنوع الموارد والإنتاج الزراعي .

ج- اذكر عيوب الشكل المستطيل للدول .

1- صعوبة الدفاع عن كل أطراف الدولة أثناء الحروب .

2- صعوبة تأمين الحدود البرية .

3- صعوبة إدارة الدولة وربطها بشبكة نقل .

4- عزلة بعض مدنها ومناطقها ، وعدم تجانس سكانها .

# 113 ما عيوب الشكل المجزأ للدول ؟

أ- صعوبة إدارة الدولة والتحكم في أجزائها .

ب- يقلل ترابط وتماسك السكان .

# 114 اكتب شكل كل دولة من الدول المجزأة التي تشير إليها الخرائط المعروضة أمامك - (عدد أشكال الدول المجزأة) .



الشكل : برية بحرية مجزأة .



الشكل : برية مجزأة .



الشكل : بحرية مجزأة .



115 من خلال الخريطة التي أمامك، أجب عما يلي :

أ- اذكر شكل هذا النمط من الدول .

1- المثقب (الجيوب) .

ب- اذكر عيوب هذا الشكل من الدول .

1- تكون دول الجيوب الداخلية تابعة كلية للدول المطوقة لها .

116 قارن بين الدولة الحبيسة والدولة ذات الشكل المثقب من حيث "المفهوم والأمثلة" كما في الجدول التالي.

وجه المقارنة	الدولة الحبيسة (الداخلية)	دولة الشكل المثقب (الجيوب)
المفهوم	الدولة التي لا ساحل لها على البحار والمحيطات الخارجية	الدولة التي تضم بين أراضيها دولة أو أكثر وتحتويها تماماً
الأمثلة	النمسا وسويسرا وبوليفيا وباراجواي	إيطاليا (تضم سان مارينو والفاتيكان) جنوب إفريقيا (تضم ليسوتو)

117 "تختلف الدول من حيث شكلها العام" ... في ضوء ذلك عدد أشكال الدولة المختلفة التي تنطبق على إيطاليا ؟

أ- الشكل المستطيل .

ب- الشكل المجزأ .

ج- الشكل المثقب .

118 بم تفسر : تعد المظاهر التضاريسية من العوامل المؤثرة في قوة الدولة ؟

أ- تتحكم التضاريس في نظام التصريف المائي للدولة .

ب- تحدد إلى حد كبير نوع الأنشطة البشرية السائد في الدولة .

ج- تؤثر في مدى استغلال موارد الدولة المائية والمعدنية .

د- تؤثر في توزيع السكان في الدولة .

119 أجب عما يلي :

( أ ) ما الآثار الإيجابية للأراضي السهلية على قوة الدولة ؟

1- تضم أجود أنواع التربة .

2- تساعد على مد شبكات النقل والمواصلات .

3- تحوي العديد من الثروات المعدنية .

4- تسهل عملية إدارة الدولة لمناطقها .

( ب ) ما التأثير السلبي للأراضي السهلية على قوة الدولة ؟

1- تصعب على الدولة مواجهة الغزو .



120) بم تفسر : تعد الأنهار أحد العوامل المؤثرة في قوة الدولة ؟

- أ- مصدر لمياه الري والشرب والصناعة .
- ب- وسيلة رخيصة لنقل البضائع .
- ج- مصدر من مصادر الطاقة المتجددة .

121) ما المشكلات السياسية التي قد تثيرها الأنهار الدولية ؟

- أ- اقتسام المياه .
- ب- الملاحة النهرية الدولية .
- ج- رسم الحدود الدولية (نظراً لتغير مجاريها) .

122) قارن بين الآثار الإيجابية والسلبية للمناطق الجبلية على "قوة الدولة" كما في الجدول التالي.

الآثار السلبية للمناطق الجبلية	الآثار الإيجابية للمناطق الجبلية
<ul style="list-style-type: none"> <li>أ- محدودية الدولة في الإنتاج الزراعي .</li> <li>ب- صعوبة الاتصال بين أجزاء البلد الواحد .</li> <li>ج- صعوبة إدارة أقاليم الدولة .</li> <li>د- عدم استقرار الدولة إذا لجأت إليها جماعات انفصالية .</li> </ul>	<ul style="list-style-type: none"> <li>أ- تمثل موانع طبيعية يصعب اختراقها .</li> <li>ب- تشكل حدود طبيعية واضحة .</li> <li>ج- توجد بها الكثير من الثروات المعدنية .</li> <li>د- تشكل مناطق سياحية .</li> </ul>

123) وضح أثر المناخ في قوة الدولة .

- أ- يساهم تنوع المناخ في تنوع الإنتاج الزراعي والأنشطة .
- ب- يساعد المناخ المعتدل على الاستقرار البشري .
- ج- يؤدي المناخ شديد البرودة إلى قلة السكان .
- د- يؤدي المناخ الحار الرطب إلى تقليل قدرة الإنسان على العمل . هـ- تعاني دول المناخ الصحراوي من نقص الموارد .

124) بم تفسر : يعد النبات الطبيعي أحد عوامل قوة الدولة ؟

- أ- يمثل مصدراً للموارد الطبيعية (النباتات الطبيعية والأخشاب والمطاط) .
- ب- مصدر للغذاء .

125) عدد المقومات البشرية للدولة .

- أ- السكان .
- ب- القوة التنظيمية (التنظيم السياسي) .
- ج- القوة العسكرية .



## 126 اذكر العوامل السكانية التي تؤثر في قوة الدولة .

- أ- حجم السكان .
- ب- توزيع السكان .
- ج- نمو السكان .
- د- الهجرة . هـ- خصائص السكان . و- المستوى التعليمي والتكنولوجي .

## 127 اذكر الدول الأكثر سكاناً في العالم حسب إحصائية (2020م) .

- أ- الصين .
- ب- الهند .
- ج- الولايات المتحدة .
- د- إندونيسيا .

## 128 ما الدليل على :

( أ ) الحجم السكاني من أهم المقومات البشرية التي تحدد قوة الدولة إذا توفرت المقومات الأخرى ؟

1- الدول العظمى تستند إلى حجم سكاني ضخم .

( ب ) عدد سكان الدولة الكبير الذي لا يتناسب مع مواردها المتاحة لا يكون مصدراً لقوتها السياسية ؟

1- تعاني الدول النامية من مشكلات كثيرة ترتبط بحجمها السكاني الكبير .

## 129 قارن بين إيجابيات وسلبيات الحجم الكبير للسكان على قوة الدولة كما في الجدول التالي.

سلبيات الحجم الكبير للسكان	إيجابيات الحجم الكبير للسكان
<ul style="list-style-type: none"> <li>أ- صعوبة توفير الخدمات والأمن .</li> <li>ب- صعوبة توفير الغذاء .</li> <li>ج- صعوبة توفير فرص عمل وهجرة الكفاءات العلمية .</li> <li>د- ضعف الترابط بين السكان وظهور حركات انفصالية .</li> </ul>	<ul style="list-style-type: none"> <li>أ- يوفر أعداد كبيرة من القوة العاملة .</li> <li>ب- يوفر أعداد كبيرة من العلماء والمبدعين .</li> <li>ج- يوفر سوق استهلاكية داخلية .</li> <li>د- ضخامة أعداد القوات العسكرية .</li> </ul>

## 130 قارن بين تأثير التوزيع السكاني المنتظم وغير المنتظم على قوة الدولة كما في الجدول التالي.

التوزيع السكاني غير المنتظم	التوزيع السكاني المنتظم (المتوازن)
<ul style="list-style-type: none"> <li>أ- استنزاف الموارد في مناطق التركيز السكاني (ظهور مشكلات حضرية) .</li> <li>ب- عزلة بعض السكان في الأطراف (ظهور حركات تمرد) .</li> </ul>	<ul style="list-style-type: none"> <li>أ- استثمار موارد الدولة استثماراً جيداً .</li> <li>ب- يعزز سيادة الدولة على أراضيها ويقوي وحدتها .</li> </ul>

### 131 ما النتائج المترتبة على :

( أ ) التوازن بين معدلات النمو السكاني والموارد المتاحة في الدولة ؟

1- تقدم الدولة الاقتصادي .

( ب ) تفوق معدلات النمو السكاني عن الموارد المتاحة في الدولة ؟

1- ارتفاع معدلات البطالة وتدني مستوى الخدمات .

2- هجرة السكان من الدولة .

### 132 قارن بين الآثار "الإيجابية والسلبية" للهجرة الدولية على الدول المرسله والمستقبله للمهاجرين كما في الجدول التالي .

وجه المقارنة	على الدول المرسله للمهاجرين	على الدول المستقبله للمهاجرين
الآثار الإيجابية للهجرة الدولية	أ- التخفيف من البطالة . ب- زيادة الدخل القومي .	أ- توفير الأيدي العاملة الماهرة . ب- استغلال موارد الدولة وزيادة الدخل القومي .
الآثار السلبية للهجرة الدولية	أ- حرمان الدولة من الكفاءات العلمية . ب- اختلال التركيب العمري والنوعي (لأن معظم المهاجرين من الذكور الشباب) .	أ- النمو السريع للسكان . ب- عدم التجانس بين السكان . ج- اختلال التركيب العمري والنوعي (لأن معظم المهاجرين من الذكور الشباب) .

### 133 عدد الخصائص السكانية التي تؤثر في قوة الدولة .

أ- التركيب العمري .

ب- التركيب النوعي .

ج- التركيب الاثنوجرافي (اللغوي والديني والعرقى) .

### 134 ما النتائج المترتبة على ارتفاع نسبة صغار السن في الدول النامية ؟

أ- ارتفاع معدل الإعالة .

ب- ظهور مشكلة البطالة والهجرة الخارجية .

### 135 وضح تأثير التركيب العمري على قوة الدولة في الدول المتقدمة .

أ- تنخفض نسبة صغار السن .

ب- تناقص أعداد السكان (لانخفاض معدلات المواليد) .

### 136 ما العوامل المؤثرة في التركيب النوعي للدولة ؟

أ- الحروب .

ب- الهجرة الدولية .

### 137 ما النتائج المترتبة على تعدد اللغات في الدولة ؟

أ- الضعف والتفكك .

ب- التعرض كثير من المشكلات السياسية والاجتماعية (ظهور أقليات تدعو للانفصال) .

### 138 "يقسم العالم وفقاً للتركيب الديني إلى ثلاث مجموعات" .... في ضوء ذلك اذكر أنواع الدول وفقاً للتركيب الديني .

أ- دول يعتنق أكثر من (90%) من سكانها ديانة واحدة ، مثل إندونيسيا وفرنسا والدول العربية "عدا لبنان" .

ب- دول يوجد بها أكثر من ديانة : يعتنق ما يتراوح من (60-80%) من سكانها ديناً واحداً ، مثل الولايات المتحدة وألبانيا .

ج- دول تتعدد فيها الأديان : لا تظهر فيها أغلبية لدين على آخر مثل كندا .

### 139 أجب عما يلي :

( أ ) ما النتائج التي يمكن أن تترتب على الاختلافات السلالية والعرقية داخل الدولة ؟

1- قيام حركات تمرد وانفصال .

2- تهديد الأمن والاستقرار السياسي والاقتصادي .

( ب ) عدد الدول التي تعاني من سياسة التفرقة العنصرية ؟

1- جنوب أفريقيا .

2- الولايات المتحدة .

### 140 بم تفسر : يساهم التعليم في بناء قوة الدولة ؟

أ- زيادة إنتاجية الدولة .

ب- زيادة مشاركة المواطن المتعلم في القرارات (بناء الديمقراطية) .

ج- زيادة قدرة الدولة على الابتكار .

### 141 ما الآثار المترتبة على التقدم التكنولوجي للدولة في قوتها السياسية ؟

أ- زيادة القدرة العسكرية للدولة .

ب- زيادة القدرة الاقتصادية للدولة .

ج- السيطرة على أسواق وأسعار المواد الخام والقرارات الاقتصادية العالمية .

### 142 وضح تأثير القوة التنظيمية (الحكومة) في قوة الدولة .

أ- مدى كفاءة الحكومة في بسط سيطرتها على جميع أجزاء الدولة .

ب- مدى فاعلية التقسيم الإداري للدولة في توفير الخدمات للمواطنين .

ج- مدى قدرة المؤسسات الحكومية في تنفيذ القرارات .

د- مدى كفاءة وشفافية الإدارات الحكومية . هـ- مدى قدرة الحكومة في تحقيق الرخاء .

**143 ما الأمور المهمة التي تؤثر في قوة الدولة العسكرية ؟**

- أ- المستوى التعليمي والمهاري لأفراد القوات العسكرية .
- ب- مدى كفاءة القيادة العسكرية .
- ج- المستوى التكنولوجي للأسلحة التي تمتلك الجيوش .
- د- مدى كفاءة جهاز المخابرات الحربية .

**144 ما المقومات الاقتصادية للدولة ؟**

- أ- الزراعة والمواد الغذائية .
- ب- الموارد المعدنية ومصادر الطاقة .
- ج- الإنتاج الصناعي .
- د- وسائل النقل والمواصلات .

**145 اذكر تصنيف الدول حسب إنتاجها الغذائي ؟**

- أ- دول تكفي نفسها وليس لها أي نصيب في تجارة الغذاء بالعالم (مثل فرنسا) .
- ب- دول يفيض إنتاجها الزراعي عن حاجة سكانها (مثل الولايات المتحدة) .
- ج- دول يقل إنتاجها الزراعي عن حاجة سكانها (مثل معظم الدول النامية) .

**146 بم تفسر : تسعى الحكومات لدعم إنتاجها من الحبوب الغذائية ؟**

- أ- لتحقيق الأمن الغذائي .
- ب- لتحقيق الاستقرار الداخلي .
- ج- حتى لا تتعرض للضغوط الخارجية .

**147 بم تفسر : يؤثر امتلاك الدول لمصادر الطاقة في قوتها السياسية ؟**

- أ- لاستخدامها في جميع الأنشطة الاقتصادية .
- ب- لاستخدامها في وسائل النقل والمواصلات .
- ج- لاستخدامها في التدفئة والإنارة وتشغيل الآلات الحربية .

**148 ما الدليل على :**

( أ ) أصبح البترول عنصراً حيوياً وقت السلم والحرب ؟

- 1- عزز الأهمية الاستراتيجية والاقتصادية للدول المنتجة له .
- 2- أصبح الصراع للوصول إلى مناطق إنتاجه هدفاً للقوى العظمى الدولية .
- ( ب ) كلما كانت الصناعة متطورة كلما كانت الدولة قوية اقتصادياً وسياسياً ؟
- 1- القوى الكبرى في العصر الحديث هي نفسها الدول الصناعية الكبرى في العالم .



149) ما النتائج المترتبة على وجود شبكة جيدة من طرق النقل والمواصلات في وحدة الدولة وثماسكها ؟

- أ- زيادة كفاءة الدولة في إدارة شؤونها الداخلية .
- ب- زيادة قدرة الدولة على فرض سيطرتها على كل أراضي الدولة .
- ج- استغلال الموارد الطبيعية وربط مراكز الإنتاج بمراكز الاستهلاك .
- د- سهولة حركة الجيوش والقوات العسكرية .

150) عدد عناصر قوة الدولة .

- أ- القوة المورفولوجية .
- ب- القوة الاقتصادية .
- ج- القوة الديموغرافية .
- د- القوة العسكرية . هـ- القوة التنظيمية . و- نظم الربط والاتصال . ز- العلاقات الخارجية .

151) ما أهداف التكتلات الاقتصادية الدولية ؟

- أ- زيادة حجم التجارة الدولية البينية .
- ب- تحقيق أقصى درجة من الرفاهية الاقتصادية للشعوب .
- ج- الاستفادة من مهارات الفنيين بصورة أفضل في نطاق الدول الأعضاء .
- د- حماية اقتصاديات الدول الأعضاء أثناء الأزمات الاقتصادية .



152 قارن بين الاتحاد الأوروبي ومجلس التعاون لدول الخليج العربية من حيث "تاريخ الإنشاء والأعضاء والأهداف والأهمية" كما في الجدول التالي.

وجه المقارنة	الاتحاد الأوروبي	مجلس التعاون لدول الخليج العربية
تاريخ الإنشاء	(1992م) مع توقيع معاهدة ماستريخت .	(1981م) عقب اجتماع أبو ظبي
الأعضاء	(27 عضواً) بعد خروج بريطانيا منه .	(6 أعضاء)
الأهداف	<p>أ- تحقيق الاستقرار والتكامل الاقتصادي .</p> <p>ب- تقوية السياسة الأوروبية الخارجية .</p> <p>ج- تعزيز الجوانب الأمنية الداخلية .</p> <p>د- تعزيز السلام والرفاهية لمواطني الاتحاد الأوروبي.</p> <p>هـ- تعزيز العدالة الاجتماعية .</p>	<p>أ- تحقيق التنسيق والتكامل والترابط بين أعضائه .</p> <p>ب- تعميق وتوثيق الروابط والصلات .</p> <p>ج- وضع أنظمة متماثلة في مختلف الميادين .</p> <p>د- دفع عجلة التقدم العلمي، وإقامة مشاريع مشتركة .</p>
الأهمية	<p>أ- أقوى الأسواق الاقتصادية في العالم (حيث يستحوذ على أكثر من 16% من حجم التجارة العالمية) .</p> <p>ب- يمتلك إمكانات وقدرات بشرية وجغرافية مؤثرة في النظام العالمي (حيث يمتد على مساحة 4 مليون كم<sup>2</sup>) .</p>	<p>أ- أحد أبرز التكتلات الاقتصادية في العالم (حيث يشكل اقتصاده 1.9% من الاقتصاد العالمي) .</p> <p>ب- يمتلك إمكانات وقدرات بشرية وجغرافية مؤثرة في النظام العالمي (حيث يمتد على مساحة 2.4 مليون كم<sup>2</sup>) .</p>

153 ما المقصود بكلّ من ؟

( أ ) الحدود السياسية :

1- الخطوط التي تحدد الأبعاد الجغرافية للدولة ورقعتها المساحية كدولة مستقلة .

( ب ) المياه الإقليمية :

1- المسطحات المائية التي تشرف عليها الدولة إن وُجدت .

( ج ) المجال الجوي :

1- طبقات الجو العليا التي تغطي أراضي الدولة ومياهها الإقليمية .

## 154) قارن بين التخوم والحدود السياسية كما في الجدول التالي .

التخوم	الحدود السياسية
أ- مناطق جغرافية لها مساحة كالغابات والصحاري والجبال . ب- ظاهرة طبيعية تنتمي للماضي . ج- ظاهرة غير قانونية . د- لا يمكن تحريكها لكن قد تتغير وظيفتها .	أ- خط متفق عليه يفصل بين دولتين متجاورتين . ب- ظاهرة بشرية حديثة . ج- ظاهرة قانونية . د- غير ثابتة تتغير بعد الحروب .

## 155) عدد وظائف الحدود السياسية .

أ- الأمن والحماية .

ب- حماية الإنتاج الاقتصادي .

ج- الوظيفة القانونية للحد .

## 156) وضح وظيفة الحدود السياسية في الأمن والحماية .

أ- تحدد مناطق نفوذ الدولة (للدفاع عنها وخاصة على الحدود التي يحتمل قدوم الغزو منها) .

ب- لها وظيفة مدنية (حيث تقام عليها نقاط التفتيش ومناطق الحجر لمراقبة الأفراد والبضائع) .

## 157) وضح وظيفة الحدود السياسية في حماية الإنتاج الاقتصادي .

أ- تحدد أراضي الدولة التي يحق لها استغلالها اقتصادياً .

ب- حماية النظم الاقتصادية للدولة وتنظيم عملية التبادل التجاري .

ج- تمنع النزاع وتضارب المصالح بين الدول عند استغلال الموارد الاقتصادية في مناطق الحدود .

## 158) بم تفسر : تلعب الحدود السياسية دوراً في حماية النظم الاقتصادية وتنظيم التبادل التجاري بين الدول .

أ- مراقبة السلع والبضائع عبر الحدود .

ب- فرض الرسوم الجمركية على السلع المستوردة .

ج- فحص المنتجات المستوردة .

## 159) ما الوظيفة القانونية للحدود السياسية ؟

أ- تحدد القوانين التي سيخضع لها كل فرد داخل الدولة .

ب- تنظيم انتقال الأفراد والأفكار (الصحف والكتب) .

## 160) اذكر أنواع الحدود السياسية حسب التصنيف التكويني (الوظيفي) .

أ- الحدود السابقة .

ب- الحدود اللاحقة .

ج- الحدود المنطبقة "المفروضة" .



161 اذكر أنواع الحدود السياسية حسب التصنيف الموفولوجي (الشكلي) .

أ- الحدود الطبيعية (حدود تسير مع ظواهر طبيعية) .

ب- الحدود البشرية (مثل الحدود الاثنوغرافية والهندسية "الجيومترية") .

162 قارن بين الحدود الطبيعية والبشرية من حيث "المفهوم والأنواع" كما في الجدول التالي.

وجه المقارنة	الحدود الطبيعية	الحدود البشرية
المفهوم	هي التي تسير مع ظواهر طبيعية مختلفة .	هي التي صنعها الإنسان أو رسمت على أساس عرقي وثقافي .
الأنواع	أ- الحدود البحرية . ب- الحدود البحرية . ج- الحدود النهرية . د- الحدود الجبلية .	أ- الحدود الاثنوغرافية . ب- الحدود الهندسية "الجيومترية" .

163 بم تفسر : تعد الحدود الطبيعية من أقوى الحدود التي تفصل بين الدول ؟

أ- لصعوبة اختراقها .

ب- لأنها تمثل حواجز طبيعية أمام حركة السكان .

164 بم تفسر : تعد الجبال من أفضل الظواهر الطبيعية لترسيم الحدود ؟

أ- تشكل خطوط دفاع قوية لإقامة التحصينات ونقاط مراقبة الحدود .

ب- تمثل عائقاً أمام حركة السكان وانتقالهم على جانبيها .

165 ما أثر التطور التكنولوجي في الحدود الطبيعية ؟

أ- تقليل القيمة الدفاعية للحدود الجبلية .

ب- تقليل القدرة على فصل السكان .

166 من خلال الخرائط التالية، اكتب أسماء الجبال التي تتخذ حدوداً طبيعية بين الدول .





## 167 اذكر أمثلة للحدود الجبلية .

- أ- الحدود بين الهند والصين عبر جبال الهيمالايا .
- ب- الحدود بين تشيلي والأرجنتين على امتداد جبال الأنديز .
- ج- الحدود بين فرنسا وإسبانيا على امتداد جبال البرانس .
- د- الحدود بين النمسا وإيطاليا على امتداد جبال الألب .

## 168 ما عيوب الحدود الجبلية ؟

- أ- العزلة الثقافية والحضرية لبعض الجماعات التي تسكن الجبال .
- ب- إعاقة حركة الهجرة الفصلية لبعض الرعاة في المناطق الجبلية .
- ج- تعترض عملية ترسيم الحدود في المناطق الجبلية مشكلات تعيينها مثل (اتفاق الحد مع أعلى القمم أم مع خط تقسيم المياه) .

## 169 قارن بين إيجابيات وسلبيات الحدود النهرية كما في الجدول التالي .

سلبيات الحدود النهرية	إيجابيات الحدود النهرية
<ul style="list-style-type: none"> <li>أ- تتميز بعدم الاستقرار لتغير مجاريها نتيجة النحت والإرساب .</li> <li>ب- الأجزاء العليا من النهر غير صالحة كحدود لتعدد روافده في المناطق المرتفعة .</li> <li>ج- صعوبة تحديد الحد الفاصل في النهر .</li> </ul>	<ul style="list-style-type: none"> <li>أ- تمثل ملامح طبيعية واضحة على سطح الأرض .</li> <li>ب- توفر خط دفاع ومانع مائي يصعب على الجيوش اجتيازه .</li> <li>ج- تصلح مجاري الأنهار الوسطى والدنيا لتكون حد سياسي .</li> </ul>

## 170 عدد طرق تحديد الحدود النهرية .

- أ- التزام الحدود بإحدى ضفتي النهر .
- ب- التزام الحدود بخط المنتصف .
- ج- التزام الحدود بخط العمق الملاحي .

## 171 اكتب طرق تحديد الحدود النهرية التي تشير إليها الفرائط المعروضة أمامك .



172) **بم تفسر : تختلف الحدود في البحيرات عن الأنهار بأن مشكلاتها أقل حدة ؟**

أ- اتساع المسطح المائي واستقرار مائه .

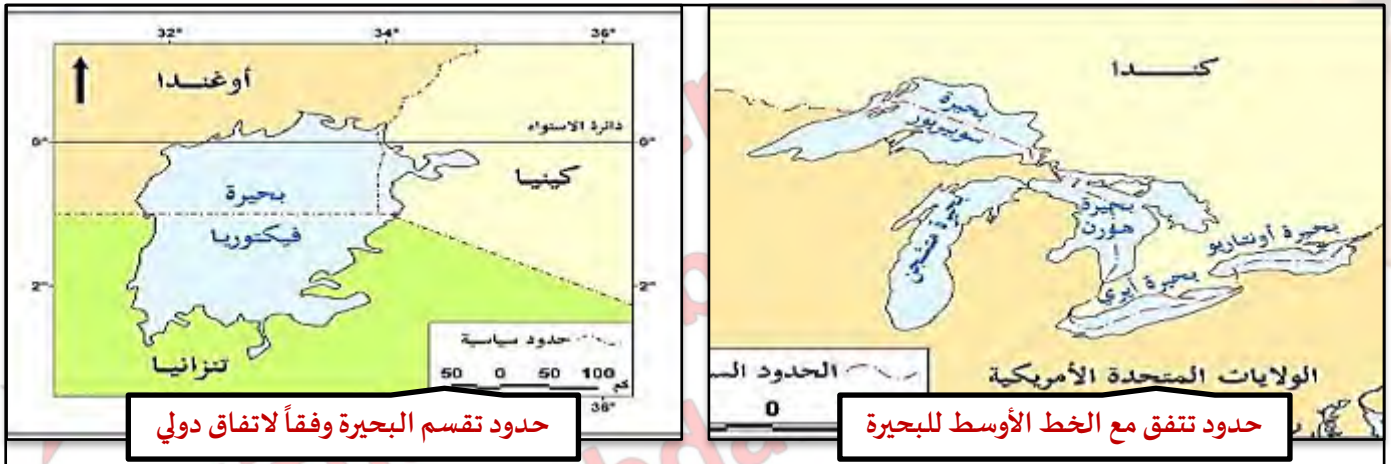
ب- سهولة تحديد خط الحدود الدولية في المناطق الوسطى للبحيرة .

173) **عدد طرق (أشكال) تحديد الحدود البحرية .**

أ- حدود تتفق مع الخط الأوسط للبحيرة إذا كانت البحيرة تقع بين دولتين (مثل البحيرات العظمى بين كندا والولايات المتحدة) .

ب- حدود تقسم البحيرة وفقاً لاتفاق دولي إذا كانت البحيرة تقع بين عدة دولة (مثل بحيرة فكتوريا بين كينيا وتنزانيا وأوغندا) .

174) **اكتب شكل الحدود البحرية التي تشير إليها كل خريطة معروضة أمامك .**



175) **اكتب أسماء المناطق البحرية التي تدل عليها الأرقام الموضحة في الشكل التالي .**



يدل الرقم ( 1 ) على نطاق : المياه الداخلية .

يدل الرقم ( 2 ) على نطاق : المياه الإقليمية .

يدل الرقم ( 3 ) على نطاق : المياه الملاصقة .

يدل الرقم ( 4 ) على نطاق : المنطقة الاقتصادية الخالصة .

يدل الرقم ( 5 ) على نطاق : أعالي البحار .

176) **عدد نطاقات المياه البحرية .**

أ- المياه الداخلية (تضم المرافئ والخلجان ومصبات الأنهار، وتعد جزء من الدولة) .

ب- المياه الإقليمية (تمتد من خط الساحل إلى حد تختاره الدولة لمسافة لا تتجاوز 12 ميلاً بحرياً ، وتخضع لقوانين الدولة) .

ج- المياه الملاصقة (تلي المياه الإقليمية، تمارس فيها الدولة صاحبة المياه الإقليمية السيطرة بهدف تحقيق الأمن والسلامة) .

د- المنطقة الاقتصادية الخالصة (تمتد إلى 200 ميل بحري من خط الأساس، وتمارس فيها الدولة سيادتها لاستغلال الثروات) .

هـ- أعالي البحار "المياه الدولية" (تمتد خارج حدود النطاقات السابقة، الملاحة فيها حق للجميع وثرواتها متاحة لمن يستطيع) .

- أ- المشكلات المتعلقة بتحديد اتساع المياه الإقليمية .
- ب- المشكلات المتعلقة بتحديد المنطقة الاقتصادية الخالصة .
- ج- المشكلات المتعلقة بحقوق المرور في الخلجان والمضايق البحرية .
- د- المشكلات المتعلقة باستغلال الموارد الاقتصادية في منطقة الرصيف القاري .

**ملحوظة:** تم حذف الجزء الإثرائى من التدريبات

<https://t.me/joinchat/G0syKRnKQltpNgCjWnuAkQ>

<https://chat.whatsapp.com/LAIsHSU6NgLx895jOOiJD>



إعداد /

- Tamer. Fahem
  - Hitham. Abu almagd
  - Hani. Abdallah
- مع أطيب التمنيات بالنجاح والتوفيق ....

