

إعداد /

الصف الثاني عشر
المسار الأدبي

➤ Tamer. Fahem

➤ Hitham. Abu almagd

➤ Hani. Abdallah

الكتاب

تدريبات وتطبيقات
الفصل الدراسي الثاني

العام الدراسي 2020 / 2021 م

لا تغني عن

الكتاب المدرسي

<https://t.me/joinchat/G0syKRnKQltpNgCjWnuAkQ>



أولاً : الأسئلة الموضوعية

السؤال الأول : اختر الإجابة الصحيحة من بين الإجابات التالية :

1) **برزت الحاجة إلى التخطيط العمراني من أجل :**

- أ- تقليل نسبة التحضر .
- ب- زيادة حجم العشوائيات .
- ج- توسيع الفجوة بين المدينة والقرية .
- د- خلق بيئة حضرية تتلاءم مع التطور الاقتصادي والاجتماعي .

2) **”توجيه وتنمية استخدام الأرض لتلبية احتياجات جميع فئات المجتمع ووضع حلول للمشكلات الحالية والمستقبلية**

التي تعاني منها المجتمعات العمرانية” يشير هذا المفهوم إلى :

- أ- التحضر .
- ب- التركيب الحضري .
- ج- التخطيط العمراني .
- د- استخدامات الأرض .

3) **التخطيط العمراني عملية :**

- أ- ثابتة .
- ب- متغيرة .
- ج- نمطية .
- د- متوقفة .

4) **أولى مراحل التخطيط العمراني :**

- أ- دراسة الوضع القائم .
- ب- تحليل ومراجعة المعلومات .
- ج- وضع الحلول للمشكلات .
- د- التنبؤ بالمشكلات المستقبلية .

5) **يتم تحليل ومراجعة المعلومات من خلال :**

- أ- المراجع .
- ب- الاستبيانات .
- ج- التقنيات الحديثة .
- د- المصادر الحكومية .

6) **يجب أن تكون المناطق العمرانية خالية من الانحدارات الشديدة لأن ذلك :**

- أ- يسهل إنشاء المرافق .
- ب- يغير النسيج العمراني .
- ج- يقلل من انتشار المنزهات .
- د- يمنع التوسع العمراني الرأسي .

7) **لا تصلح سهول الأمازون للعمران والسكن بسبب :**

- أ- فقر التربة .
- ب- انخفاض المنسوب .
- ج- وجود الغابات الاستوائية .
- د- ضعف التركيب الجيولوجي .

8) **يزدهم السكان فوق مرتفعات اليمن نتيجة :**

- أ- توفر المياه .
- ب- ارتفاع الرطوبة .
- ج- استواء السطح .
- د- اعتدال المناخ .

9) **أكثر عناصر المناخ تأثيراً في تحديد مواقع المناطق الصناعية :**

- أ- الحرارة .
- ب- الرطوبة .
- ج- اتجاه الرياح .
- د- الضغط الجوي .

10) **يعتمد على النبات الطبيعي في التخطيط العمراني من خلال :**

- أ- مد الطرق .
- ب- مد شبكات الصرف الصحي .
- ج- تحديد مواقع المناطق العمرانية .
- د- استخدامها كمادة بناء للمساكن .

11) **يهتم المخططون بالخصائص السكانية للمراكز العمرانية لتأثيرها في :**

- أ- اتساع الشوارع .
- ب- تحديد ارتفاعات المباني .
- ج- اختيار المواقع العمرانية .
- د- أعداد وأحجام المناطق العمرانية .

12) **أي من عوامل التخطيط الآتية يرتبط بتحديد وظائف المدن ؟**

- أ- الجيولوجي .
- ب- الاقتصادي .
- ج- الديموجرافي .
- د- التضاريسي .

13) **”عملية الكشف عن الخصائص الطبيعية لمنطقة ما ومراقبتها من خلال قياس الإشعاع المنعكس والمنبعث من مسافة**

بعيدة” يشير هذا المفهوم إلى :

- أ- الكارتوجرافيا .
- ب- نظام تحديد المواقع .
- ج- الاستشعار عن بعد .
- د- نظم المعلومات الجغرافية .



14) يشير الشكل التالي إلى مفهوم :

- ☐ أ- الحيز العمراني .
☐ ب- استخدام الأرض .
☐ ج- الاستشعار عن بعد .
☐ د- نظم المعلومات الجغرافية .

15) تتيح صور الأقمار الصناعية معلومات دقيقة عن التركيب الجيولوجي من خلال :

- أ- تحديد أنواع الصخور . ب- مراقبة التغيرات الحضرية . ج- تحليل استخدامات الأرض . د- تحديد محاور النمو العمراني .

16) "نظام قائم على الحاسوب مصمم لجمع البيانات الجغرافية وتخزينها ومعالجتها وتحليلها وإدارتها وإخراجها لتحقيق

أهداف محددة"، يشير هذا المفهوم إلى :

- أ- الأطلس الإلكتروني . ب- نظام تحديد المواقع . ج- الاستشعار عن بعد . د- نظم المعلومات الجغرافية .

17) يعد التخطيط العمراني من أهم المجالات التي تستفيد من تقنية نظم المعلومات الجغرافية ويرجع ذلك إلى :

- أ- مراعاتها للخصوصية . ب- قدرتها على تحديد المواقع . ج- تنوع المعلومات التي تعتمد عليها الخطط العمرانية . د- اقتصار تعاملها مع المعلومات الوصفية .

18) "مدن تستخدم تكنولوجيا المعلومات والاتصالات لتحسين نوعية الحياة وكفاءة العمليات والخدمات الحضرية" هي المدن :

- أ- الذكية . ب- التقليدية . ج- المتروبولية . د- الميجابوليس .

19) بدأت قطر في تنفيذ فكرة المدن الذكية منذ عام :

- أ- 2010م . ب- 2012م . ج- 2014م . د- 2016م .

20) من أمثلة المدن الذكية في قطر مدينة :

- أ- الخور . ب- الوكرة . ج- مشيرب . د- مسيعيد .

21) يراعى عند التخطيط العمراني المستدام :

- أ- تقليل ممرات المشاة . ب- حماية الموارد التاريخية . ج- إزالة المساحات الخضراء . د- الاعتماد على مصادر الطاقة غير المتجددة .

22) أكثر أنماط المعيشة ارتباطاً بالأرض :

- أ- البدو . ب- الريف . ج- المدينة . د- العشوائيات .

23) يعتمد الأساس الديموغرافي للتمييز بين الريف والمدينة على :

- أ- التركيب العمري . ب- النمو السكاني . ج- التركيب التعليمي . د- الكثافة السكانية .

24) من الأسس المعتمدة للتمييز بين الريف والمدينة في السويد واليابان وتشيلي هو الأساس :

- أ- السكاني . ب- الشكلي . ج- التاريخي . د- الاقتصادي .

25) من الدول التي تحدد عدد سكان المدن بما يزيد على (200 نسمة) :

- أ- الهند . ب- كندا . ج- تشيلي . د- السويد .

26) من الدول التي تحدد عدد سكان المدن بما يزيد على (1000 نسمة) :

- أ- الهند . ب- كندا . ج- الصين . د- السويد .

27) من الدول التي تحدد عدد سكان المدن بما يزيد على (5000 نسمة) :

- أ- بنما . ب- الهند . ج- كندا . د- اليابان .

28) من الدول التي تحدد عدد سكان المدن بما يزيد على (30000 نسمة) :

- أ- بنما . ب- الهند . ج- كندا . د- اليابان .



- 29) من الدول التي تحدد المدينة على أساس ارتفاع نسبة سكانها الذين يمارسون أنشطة غير زراعية عن (85٪) :
- أ- الهند . ب- روسيا . ج- إيطاليا . د- الأرجنتين .
- 30) من الدول التي تحدد المدينة على أساس ارتفاع نسبة سكانها الذين يمارسون أنشطة غير زراعية عن (75٪) :
- أ- الهند . ب- روسيا . ج- إيطاليا . د- الأرجنتين .
- 31) من الدول التي تحدد المدينة على أساس ارتفاع نسبة سكانها الذين يمارسون أنشطة غير زراعية عن (50٪) :
- أ- الهند . ب- روسيا . ج- إيطاليا . د- الأرجنتين .
- 32) اعتمدت دولة قطر مراكز البلديات كمدناً بناءً على الأساس :
- أ- الإداري . ب- الشكلي . ج- التاريخي . د- الاقتصادي .
- 33) من المدن التاريخية التي أصبحت أطلالاً في دولة قطر :
- أ- الدوحة . ب- الزبارة . ج- مسيعيد . د- الذخيرة .
- 34) من المدن التاريخية التي أصبحت أطلالاً في دولة الأردن :
- أ- إربد . ب- البتراء . ج- عمان . د- الزرقاء .
- 35) من المدن التاريخية التي أصبحت أطلالاً في المملكة العربية السعودية :
- أ- جدة . ب- الدمام . ج- الرياض . د- مدائن صالح .
- 36) توجد في المدينة منطقة مركزية تتركز فيها الحياة والأنشطة تسمى :
- أ- الحي الثقافي . ب- حي الموظفين . ج- القلب التجاري . د- المنطقة الصناعية .
- 37) حيز جغرافي له نشاطات خدمية :
- أ- ريف . ب- مزعة . ج- مصنع . د- مدينة .
- 38) "التغير في أعداد السكان الذين يعيشون في المدن خلال فترة زمنية معينة" يشير هذا المفهوم إلى :
- أ- مؤشر التحضر . ب- الهرم السكاني . ج- النمو الحضري . د- التركيب الحضري .
- 39) يطلق على التوسع الأفقي في مساحة المدن على حساب الأراضي الزراعية :
- أ- مؤشر التشييد . ب- مؤشر التحضر . ج- التركيب الحضري . د- الزحف العمراني .
- 40) تزيد نسبة سكان الحضر على (75٪) حسب إحصائية (2019م) في قارة :
- أ- آسيا . ب- أوروبا . ج- أفريقيا . د- أنتاركتيكا .
- 41) تزيد نسبة سكان الحضر على (75٪) حسب إحصائية (2019م) في دول :
- أ- البلقان . ب- الكاريبي . ج- البنينولوكس . د- الخليج العربي .
- 42) تصل نسبة سكان الحضر إلى (35٪) حسب إحصائية (2019م) في دولة :
- أ- الهند . ب- الصين . ج- ماليزيا . د- سنغافورة .
- 43) تقل نسبة سكان الحضر عن (20٪) حسب إحصائية (2019م) في دولتي النيجر و :
- أ- ليبيا . ب- الجزائر . ج- جنوب أفريقيا . د- جنوب السودان .
- 44) ترتفع نسبة سكان الحضر إلى (70٪) حسب إحصائية (2019م) في دولة :
- أ- تشاد . ب- الجزائر . ج- الكونغو . د- إثيوبيا .
- 45) ترتفع نسبة سكان الحضر إلى (80٪) حسب إحصائية (2019م) في دولة :
- أ- غينيا . ب- ليبيا . ج- كينيا . د- تنزانيا .

46) كان للثورة الزراعية دوراً كبيراً في تزايد أعداد سكان المدن من خلال :

- أ- تقليل حجم العمالة الريفية .
- ب- تغيير النسيج العمراني للريف .
- ج- توسيع الكتلة العمرانية بالريف .
- د- تقليل استخدام الآلات الزراعية .

47) أدى ظهور الوسائل والتقنيات الحديثة خلال العصر الحديث إلى :

- أ- ظهور العشوائيات .
- ب- ظهور البطالة الموسمية .
- ج- إهمال مناطق الجذب السياحي .
- د- زيادة قدرة المدن على جذب السكان .

48) "انتقال سكان الريف للإقامة في المدن" ، يشير هذا التعريف إلى :

- أ- التحضر .
- ب- مؤشر التحضر .
- ج- استخدام الأرض .
- د- التركيب الحضري .

49) "نسبة سكان المدن إلى المجموع الكلي للسكان في الدولة" ، يشير هذا التعريف إلى :

- أ- درجة التحضر .
- ب- منحى لورنز .
- ج- مؤشر التشييد .
- د- التركيب الحضري .

50) بلغت درجة التحضر في دولة قطر حسب إحصائية 2020م نحو :

- أ- 69% .
- ب- 79% .
- ج- 89% .
- د- 99% .

51) "ينتج عن نمو المناطق الحضرية واتساع نطاقات المدن :

- أ- انخفاض درجة التحضر .
- ب- تغير التركيب الاقتصادي .
- ج- كثرة الفراغات العمرانية .
- د- تداخل المناطق الحضرية مع الريفية .



52) أمامك خريطة لجزء من إحدى المدن ، تشير إلى :

- أ- مؤشر التحضر .
- ب- منسوب السطح .
- ج- استخدام الأرض .
- د- طبوغرافية الأرض .

53) "التوزيع المكاني لوظائف المدينة" ، يشير المفهوم السابق إلى :

- أ- درجة التحضر .
- ب- مؤشر التشييد .
- ج- استخدام الأرض .
- د- التركيب الحضري .

54) الاستخدام الأكبر للأرض في أي مدينة في العالم هو :

- أ- الخدمي .
- ب- السكني .
- ج- التجاري .
- د- الصناعي .

55) استخدام الأرض الذي يستحوذ على (40%) من أراضي المدن الأمريكية هو الاستخدام :

- أ- الرعوي .
- ب- السكني .
- ج- الزراعي .
- د- الصناعي .

56) استخدام الأرض الذي يستحوذ على نحو (33%) من أراضي المدن الأمريكية هو :

- أ- النقل .
- ب- السكن .
- ج- التجارة .
- د- الصناعة .

57) تستحوذ الأنشطة التجارية على أفضل المواقع في المدينة من أجل :

- أ- تحجيم مساحتها .
- ب- تقليل حركة النقل .
- ج- تخفيف تأثيرها على البيئة .
- د- سهولة وصول المستهلكين إليها .

58) استخدام الأرض الذي يستحوذ على (5%) في المدن الأمريكية :

- أ- النقل .
- ب- السكن .
- ج- التجارة .
- د- الصناعة .

59) يستحوذ الاستخدام الصناعي من إجمالي مساحة المدن الأمريكية على نحو :

- أ- 6% .
- ب- 9% .
- ج- 12% .
- د- 15% .

60) هناك اتجاه نحو عدم وجود النشاط الصناعي داخل المدن بسبب :

- أ- تحجيمها للكتلة العمرانية .
- ب- تأثيرها السلبي على البيئة .
- ج- زيادة ضغطها على الخدمات .
- د- زيادة عدد سكانها باضطراد .

61) يشكل الاستخدام العام من إجمالي مساحة المدن نحو :

- أ- 6% .
- ب- 9% .
- ج- 12% .
- د- 15% .

62) أي مما يلي يمثل الاستخدامات العامة للأرض في المدن :

- أ- البنوك .
- ب- الأسواق .
- ج- المصانع .
- د- المنزهات .

63) الأراضي التي تمثل احتياطي النمو في المستقبل للمدينة :

أ- الملاعب . ب- الخالية . ج- المتنزهات . د- العشوائيات .

64) تتناثر الأراضي الخالية بين أجزاء الكتل السكنية للمدينة عند ظهور :

أ- العشوائيات . ب- أراضي سهلية . ج- مناطق مستوية السطح . د- مناطق شديدة الانحدار .

65) أي من المدن التالية يعد المركز السياسي والمالي للمملكة المتحدة :

أ- لندن . ب- نيوكاسل . ج- ليفربول . د- مانشستر .

66) نشأت مدينة لندن على الضفة الشمالية لنهر :

أ- كلايد . ب- سيفرن . ج- التايمز . د- ترينت .

67) نمت مدينة لندن بشكل متسارع منذ أواخر العصور الوسطى حتى عام (1961م) نتيجة :

أ- تجميد مشاريع الاستثمار فيها . ب- انتشار صناعات الغاز الطبيعي بها .

ج- تغيير معالم المدينة الطبيعية . د- ارتفاع معدلات الهجرة من الريف إليها .

68) ظهرت مدينة لندن العملاقة نتيجة امتدادها العمران في شكل :

أ- شبكي . ب- خطي . ج- إشعاعي . د- حلقات خارجية .

69) قل الحجم السكاني لمدينة لندن خلال فترة الثمانينيات من القرن العشرين نتيجة :

أ- انتشار الأوبئة . ب- إنشاء مدن جديدة . ج- ظهور البيوت القصديرية . د- الانكماش الاقتصادي الحاد .

70) نشأت مدينة الدوحة في المنطقة المحيطة بـ :

أ- منطقة الدفنة . ب- جزيرة اللؤلؤة . ج- الميناء القديم . د- حي قطر للبترول .

71) كانت مدينة الدوحة خلال بداية القرن العشرين تمتد على طول :

أ- ساحل الخليج . ب- حي قطر للبترول . ج- الطرق الدائرية الثلاثة . د- المجاورات السكنية الحديثة .

72) بلغت المساحة العمرانية لمدينة الدوحة خلال بداية القرن العشرين نحو :

أ- 3.2 كم² . ب- 13.2 كم² . ج- 23.2 كم² . د- 33.2 كم² .

73) اتسعت المساحة العمرانية لمدينة الدوحة حتى بلغت في عام (1960م) نحو :

أ- 7.5 كم² . ب- 17.5 كم² . ج- 27.5 كم² . د- 37.5 كم² .

74) زادت مساحة مدينة الدوحة خلال الفترة من (1960 - 1973م) على طول :

أ- ساحل الخليج . ب- حي قطر للبترول . ج- محاور الطرق الرئيسية . د- المجاورات السكنية الحديثة .

75) اتسعت المساحة العمرانية لمدينة الدوحة حتى بلغت في عام (1973م) نحو :

أ- 26.5 كم² . ب- 36.5 كم² . ج- 46.5 كم² . د- 56.5 كم² .

76) اتسعت المساحة العمرانية لمدينة الدوحة حتى بلغت في عام (1997م) نحو :

أ- 67.5 كم² . ب- 77.5 كم² . ج- 87.5 كم² . د- 97.5 كم² .

77) تبلغ المساحة العمرانية لمدينة الدوحة في الوقت الحالي نحو :

أ- 225 كم² . ب- 230 كم² . ج- 235 كم² . د- 240 كم² .

78) ضعف معدل النمو السكاني لمدينة الدوحة خلال النصف الأول من القرن العشرين بسبب :

أ- تأخر سن الزواج . ب- كساد تجارة اللؤلؤ . ج- خروج المرأة للعمل . د- ظهور البترول وهجرة العديد من السكان .

79) ارتفع معدل النمو السكاني لمدينة الدوحة خلال الفترة من (1970م حتى الآن) بسبب :

أ- مساحتها الكبيرة . ب- زيادة أعداد العمالة الوطنية . ج- زيادة أعداد الهجرة الوافدة . د- عودة الكثير من عائلات الوافدين إلى بلادهم .

80) تضم مدينة الدوحة من إجمالي سكان دولة قطر حسب إحصائية (2017م) نحو :

أ- 35% . ب- 40% . ج- 45% . د- 50% .

81) يأخذ النمو العمراني لمدينة الدوحة حالياً الشكل :

أ- الخطي . ب- العشوائي . ج- الشريطي . د- الحلقي الإشعاعي .

82) كان الشكل العمراني لمدينة الدوحة في بداية نشأتها أقرب إلى نموذج المدينة الحلقية ثم بدأ يتقارب مع نموذج :

أ- القطاعات . ب- النويات المتعددة . ج- الدوائر المتداخلة . د- الأماكن المركزية .

83) تقع مدينة نيويورك بالنسبة للولايات المتحدة في الجهة :

أ- الغربية . ب- الجنوبية . ج- الشمالية الشرقية . د- الجنوبية الشرقية .

84) تحمل مدينة نيويورك على الخريطة المقابلة الرقم :



أ- (1) . ☐

ب- (2) . ☐

ج- (3) . ☐

د- (4) . ☐

85) المدينة الأكبر في الحجم السكاني والكثافة السكانية في الولايات المتحدة :

أ- واشنطن . ب- شيكاغو . ج- نيويورك . د- لوس أنجلوس .

86) العاصمة الاقتصادية للولايات المتحدة :

أ- فلوريدا . ب- ميامي . ج- نيويورك . د- سان فرانسيسكو .

87) نشأت مدينة نيويورك على ساحل جزيرة :

أ- هاواي . ب- منهاتن . ج- كودياك . د- سانتا كروز .

88) أدى تخطيط شوارع منهاتن بشكل شطرنجي إلى :

أ- ظهور العشوائيات . ب- بقاء النمو العمراني . ج- التوسع العمراني الأفقي . د- الانتشار العمراني السريع .

89) يرجع النمو السكاني لمدينة نيويورك حتى عام (1951م) إلى :

أ- تربتها الخصبة . ب- مساحتها الكبيرة . ج- أراضيها السهلية المستوية . د- تزايد أعداد المهاجرين إلى المدينة .

90) فقدت مدينة نيويورك نحو (10٪) من سكانها خلال الفترة من (1970-1980م) بسبب :

أ- التعرض للزلازل . ب- اضطراب المناخ . ج- التعرض لموجات تسونامي . د- الأزمة الاقتصادية والاضطرابات الاجتماعية .

91) تتفاوت المشكلات الحضرية من دولة إلى أخرى نتيجة اختلاف :

أ- المناخ . ب- المساحة . ج- التركيب الجيولوجي . د- المستويات الاقتصادية والاجتماعية .

92) ترتب على مشكلة ارتفاع أسعار السكن في المدن :

أ- البطالة . ب- الازدحام المروري . ج- هجرة أصحاب العقول . د- انتشار الإسكان العشوائي .

93) تعاني الأحياء السكنية العشوائية في المدن الكبرى من :

أ- الزحام . ب- الفراغ العمراني . ج- تعقد شبكة المواصلات . د- زيادة أعداد الوحدات السكنية .

94) تعاني العديد من المناطق الحضرية من انتشار الفقر والبطالة بسبب :

أ- ارتفاع الأجور . ب- قلة الطلب على العمل . ج- الزيادة الطبيعية للسكان . د- هجرة السكان من المناطق الريفية إلى المدن .

95) تقل نسبة البطالة في الدول المتقدمة لأقل من :

أ- 3% . ب- 13% . ج- 23% . د- 33% .

96) تبلغ نسبة البطالة في الدول النامية نحو :

- أ- 15% . ب- 20% . ج- 25% . د- 30% .

97) ترتب على مشكلة البطالة في المدن :

- أ- الازدحام المروري . ب- ارتفاع معدل الجريمة . ج- ارتفاع مستوى المعيشة . د- نمو الأحياء العشوائية .

98) أي من المظاهر التالية تسبب التلوث البصري في المدن ؟

- أ- تعدد المباني الأثرية . ب- توحيد الأنماط العمرانية . ج- عمليات الحفر في الطرق . د- التوسع في بناء المناطق المخططة .

99) انتشار الإعلانات غير المنظمة في المدن من أنواع التلوث :

- أ- المائي . ب- الهوائي . ج- البصري . د- السمعي .

100) ظهرت مشكلة التنوع العرقي في المدن نتيجة :

- أ- النمو السكاني السريع . ب- ارتفاع معدلات البطالة . ج- نقص الوحدات السكنية . د- هجرة السكان إلى المدن من مناطق مختلفة .

101) تنفق الطبقة المتوسطة والفقيرة في مدينة نيويورك على الإيجار نسبة من دخلها الشهري تصل لأكثر من :

- أ- 10% . ب- 20% . ج- 30% . د- 40% .

102) يعيش (19٪) من سكان مدينة نيويورك في حالة فقر بسبب :

- أ- التنوع العرقي . ب- نقص الوحدات السكنية . ج- ارتفاع تكاليف المعيشة . د- انتشار ملاجيء المشردين .

103) تصل نسبة سكان مدينة نيويورك الذين يعيشون في حالة قريبة من مستوى الفقر إلى نحو :

- أ- 13% . ب- 23% . ج- 33% . د- 43% .

104) يوجد أزمة بطالة كبيرة في مدينة نيويورك بسبب :

- أ- ارتفاع الأجور . ب- ارتفاع مستوى المعيشة . ج- قلة الطلب على العمل . د- تزايد أعداد المهاجرين إلى المدينة .

105) تعاني مدينة نيويورك من تلوث الهواء نتيجة :

- أ- تنوع استخدام الأرض . ب- فوضى اللوحات الإعلانية . ج- عمليات الحفر في الطرق . د- انبعاثات الغازات الدفينة .

106) يخرج أكثر من نصف الانبعاثات التي تلوث مدينة نيويورك (67٪) من :

- أ- المباني . ب- حركة المرور . ج- المناطق الصناعية . د- الفراغات العمرانية .

107) أكثر المدن الأمريكية من حيث التنوع العرقي والثقافي :

- أ- شيكاغو . ب- بالتيمور . ج- فيلادلفيا . د- نيويورك .

108) يمثل السكان البيض من جملة سكان مدينة نيويورك نحو :

- أ- 12% . ب- 22% . ج- 32% . د- 42% .

109) الدولة التي تمتلك ثالث أكبر مخزون من الغاز الطبيعي في العالم :

- أ- إيران . ب- قطر . ج- روسيا . د- الجزائر .

110) تبلغ الكثافة السكانية العامة في قطر حسب إحصائية (2020م) نحو :

- أ- 241 نسمة / كم² . ب- 341 نسمة / كم² . ج- 441 نسمة / كم² . د- 541 نسمة / كم² .

111) تضم مدينة الريان من جملة سكان دولة قطر حسب إحصائية (2020م) نحو :

- أ- 25% . ب- 30% . ج- 35% . د- 40% .

112) تضم مدينة الوكرة من جملة سكان دولة قطر حسب إحصائية (2020م) نحو :

- أ- 12% . ب- 22% . ج- 32% . د- 42% .

113) من العوامل التي ساهمت في ارتفاع أسعار السكن في دولة قطر :

- أ- وفرة مواد البناء . ب- كثرة العمالة الوطنية . ج- كثرة الخدمات في المناطق الريفية . د- ارتفاع الكثافة السكانية في المدن .

114 من الحلول التي قامت بها دولة قطر لحل مشكلة ارتفاع أسعار السكن :

- أ- إنشاء المدن العمالية .
- ب- زيادة الاستثمارات الخارجية.
- ج- توفير مساكن شعبية للوافدين
- د- الإشراف على سياسات التنمية الاجتماعية .

115 يرجع ظهور مشكلة الازدحام المروري في مدينة الدوحة إلى :

- أ- تعقد شبكة النقل .
- ب- انتشار الورش والمصانع .
- ج- تركيز المراكز التجارية في المدينة .
- د- انعدام وسائل النقل العام بالمدينة .

116 أمامك خريطة مترو الدوحة ، يمكن لهذا المشروع أن يساعد بشكل كبير في حل مشكلة :

- أ- التباعد العمراني .
- ب- التلوث البصري .
- ج- الازدحام المروري .
- د- ارتفاع أسعار السكن .

117 يوفر مشروع الخزانات الاستراتيجية في مرحلته الحالية الأمن المائي لقطر حتى

عام :

- أ- 2022 م .
- ب- 2024 م .
- ج- 2026 م .
- د- 2028 م .

118 ”وحدة سياسية تشغل مساحة جغرافية ذات حدود محددة، تضم سكاناً وتحكمها

حكومة”، يشير هذا المفهوم إلى :

- أ- الأمة .
- ب- الدولة .
- ج- الإقليم .
- د- الوحدة الاقتصادية .

119 أي مما يلي يعد من أركان الدولة :

- أ- المناخ .
- ب- الموقع .
- ج- الإقليم .
- د- النبات الطبيعي .

120 ”مساحة من اليابس يستقر عليها الشعب ويمارسون فيها أنشطتهم الاقتصادية ولها حدود معترف بها”، يشير هذا

المفهوم إلى :

- أ- الحدود .
- ب- الجبهة .
- ج- الإقليم .
- د- الرصيف القاري .

121 ”السكان الذين يعيشون على أرض الدولة وتجمعهم خصائص تميزهم عن الآخرين”، يشير هذا المفهوم إلى :

- أ- الشعب .
- ب- السلطة .
- ج- الحكومة .
- د- اللاجئين .

122 الجهة المسؤولة عن تشريع وتطبيق القوانين وإدارة وتنظيم شؤون الدولة وتوفير الخدمات للشعب هي :

- أ- الشعب .
- ب- السلطة .
- ج- الهيئات الدولية .
- د- المؤسسات الاجتماعية .

123 أي من أركان الدولة الآتية تعني السلطة القانونية العليا :

- أ- الإقليم .
- ب- الشعب .
- ج- السلطة .
- د- السيادة .

124 ”أن تكون للدولة السلطة العليا على جميع أراضيها وسكانها”، يعني ذلك :

- أ- الحماية .
- ب- الانتداب .
- ج- الوصاية .
- د- السيادة الداخلية .

125 ”أن تكون الدولة مستقلة ولا تتأثر بإرادة أي سلطة خارجية أخرى”، يعني ذلك :

- أ- الاحتلال .
- ب- المعاهدة .
- ج- الاستيطان .
- د- السيادة الخارجية .

126 من المقومات الطبيعية للدولة :

- أ- اللغة .
- ب- الدين .
- ج- المناخ .
- د- الهجرة .

127 أي من مقومات الدولة التالية له تأثير كبير في علاقاتها الدولية :

- أ- اللغة .
- ب- المناخ .
- ج- الموقع .
- د- النبات الطبيعي .

128 ”الموقع بالنسبة لخطوط الطول ودوائر العرض”، هو الموقع :

- أ- الفلكي .
- ب- الجغرافي .
- ج- المركزي .
- د- الاستراتيجي .

129 ”الموقع بالنسبة لكتل اليابس والمسطحات المائية والدول الأخرى”، هو الموقع :

- أ- الفلكي .
- ب- الجغرافي .
- ج- المركزي .
- د- الاستراتيجي .





- 130) الدول التي تقع على مسطحات مائية مفتوحة تصلها بالعالم الخارجي، تسمى بالدول :
أ- المغلقة . ب- القارية . ج- البحرية . د- الحبيسة .
- 131) من الدول التي تطل على مسطح مائي واحد بجبهات بحرية طويلة :
أ- مصر والسودان . ب- تشيلي والبرازيل . ج- المغرب وتركيا . د- أيسلندا وسيلان .
- 132) من الدول التي تطل على مسطح مائي واحد بجبهات بحرية قصيرة :
أ- السودان وألمانيا . ب- سيلان ومدغشقر . ج- إندونيسيا والفلبين . د- كوريا الجنوبية واليابان .
- 133) من الدول التي تطل على مسطحين مائيين :
أ- ليبيا والجزائر . ب- رومانيا وبلغاريا . ج- السعودية والمغرب . د- باكستان وأفغانستان .
- 134) من الدول شبه جزرية التي تطل على أكثر من مسطح مائي :
أ- الهند وإيطاليا . ب- رومانيا وبلغاريا . ج- المغرب وتركيا . د- إسبانيا والبرتغال .
- 135) من الدول الجزرية التي لها حدود بحرية كاملة :
أ- بولندا وألمانيا . ب- النمسا وتشيك . ج- إسبانيا وإيطاليا . د- بريطانيا وأيسلندا .
- 136) من الدول الجزرية التي لها حدود بحرية كاملة :
أ- اليونان . ب- اليابان . ج- الصومال . د- السنغال .
- 137) الدول التي لا ساحل لها على المحيطات والبحار الخارجية، تسمى بالدول :
أ- الجزرية . ب- البحرية . ج- الحبيسة . د- شبه الجزرية .
- 138) من أمثلة الدول الحبيسة في قارة أوروبا :
أ- رومانيا وبلغاريا . ب- النمسا وسويسرا . ج- بريطانيا وفرنسا . د- إسبانيا والبرتغال .
- 139) من أمثلة الدول الحبيسة في قارة آسيا :
أ- الهند والصين . ب- إندونيسيا والفلبين . ج- كازاخستان وأفغانستان . د- كوريا الجنوبية واليابان .
- 140) من أمثلة الدول الحبيسة في قارة أفريقيا :
أ- غانا وغينيا . ب- النيجر ومالي . ج- أنجولا ونيجيريا . د- السنغال والصومال .
- 141) من أمثلة الدول الحبيسة في قارة أمريكا الجنوبية :
أ- بيرو وتشيلي . ب- فنزويلا وكولومبيا . ج- البرازيل والأرجنتين . د- بوليفيا وباراجواي .
- 142) من المشكلات الاقتصادية التي تعاني منها الدول الحبيسة :
أ- العزلة الثقافية . ب- ارتفاع تكاليف النقل . ج- محدودية التجارة الداخلية . د- تدخل الدول المجاورة البحرية في سياستها .
- 143) من المشكلات العسكرية التي تعاني منها الدول الحبيسة :
أ- العزلة الثقافية . ب- ارتفاع تكاليف النقل . ج- محدودية التجارة الداخلية . د- تدخل الدول المجاورة البحرية في سياستها .
- 144) من المشكلات الحضارية التي تعاني منها الدول الحبيسة :
أ- العزلة الثقافية . ب- ارتفاع تكاليف النقل . ج- محدودية التجارة الداخلية . د- تدخل الدول المجاورة البحرية في سياستها .
- 145) ”علاقة الدولة بالدول التي تشترك معها في الحدود البرية”، يعني ذلك الموقع :
أ- الفلكي . ب- المركزي . ج- الاستراتيجي . د- بالنسبة للدول المجاورة .
- 146) من الدول التي يجاورها عدد قليل من الدول :
أ- تشاد والنيجر . ب- البرتغال وإسبانيا . ج- البرازيل وكولومبيا . د- الصين وكازاخستان .
- 147) من الدول التي يجاورها عدد قليل من الدول :
أ- العراق وإيران . ب- السودان وإثيوبيا . ج- تركمانستان وأوزبكستان . د- كندا والولايات المتحدة .

- 148) من أمثلة الدول التي يجاورها عدد كثير من الدول :
أ- ماليزيا . ب- الصين . ج- الفلبين . د- سنغافورة .
- 149) من أمثلة الدول التي يجاورها عدد كثير من الدول :
أ- سيلان . ب- البرازيل . ج- أستراليا . د- الولايات المتحدة .
- 150) تسببت كثرة الدول المجاورة في حدوث المشكلات لدولة :
أ- تونس . ب- المغرب . ج- السودان . د- مدغشقر .
- 151) هناك دول ذات حدود بعيدة عن بعضها البعض مثل :
أ- السويد . ب- النرويج . ج- ألمانيا . د- الولايات المتحدة .
- 152) "الموقع الذي يضيف للدولة التي تسيطر عليه ميزة عسكرية وسياسية واقتصادية"، هو الموقع :
أ- الفلكي . ب- الجغرافي . ج- المركزي . د- الاستراتيجي .
- 153) من أمثلة المواقع الاستراتيجية :
أ- المضائق . ب- الأنهار الدولية . ج- الحدود الهندسية . د- المسطحات المائية المغلقة .
- 154) من أمثلة المواقع الاستراتيجية :
أ- الخلجان . ب- الحدود البرية . ج- القنوات الملاحية . د- الحدود المتداخلة .
- 155) المضيق الذي يصل بين المحيط الأطلنطي والبحر المتوسط هو :
أ- هرمز . ب- البوسفور . ج- جبل طارق . د- باب المندب .
- 156) تسيطر على مضيق جبل طارق :
أ- المغرب . ب- البرتغال . ج- إسبانيا . د- المملكة المتحدة .
- 157) المضيق الذي يصل بين الخليج العربي والمحيط الهندي هو :
أ- هرمز . ب- البوسفور . ج- جبل طارق . د- باب المندب .
- 158) المضيق الذي يصل بين البحر الأحمر والمحيط الهندي هو :
أ- هرمز . ب- البوسفور . ج- جبل طارق . د- باب المندب .
- 159) تطل اليمن وجيبوتي على مضيق :
أ- هرمز . ب- البوسفور . ج- جبل طارق . د- باب المندب .
- 160) المضيقان اللذان يصلان بين البحر الأسود والبحر المتوسط هما :
أ- هرمز وبيرنج . ب- جبل طارق وملقا . ج- باب المندب وبافن . د- البوسفور والدردنيل .
- 161) المنفذ الوحيد لروسيا وأوكرانيا إلى البحار الدفيئة مضيق :
أ- هرمز وبيرنج . ب- جبل طارق وملقا . ج- باب المندب وبافن . د- البوسفور والدردنيل .
- 162) القناة التي تربط بين البحر المتوسط والبحر الأحمر :
أ- بنما . ب- كييل . ج- السويس . د- مانشستر .
- 163) القناة التي تربط بين المحيط الهادي والمحيط الأطلنطي عبر البحر الكاريبي :
أ- بنما . ب- كييل . ج- السويس . د- مانشستر .
- 164) "موقع متوسط جغرافياً يكتسب أهميته وصلاحيته من سهولة الاتصال بالدول"، هو الموقع :
أ- الفلكي . ب- الجغرافي . ج- المركزي . د- الاستراتيجي .
- 165) "الموقع الذي يوجد على الأطراف بعيداً عن الأقاليم الصناعية وطرق التجارة الدولية"، هو :
أ- الفلكي . ب- الجغرافي . ج- الهامشي . د- الاستراتيجي .



166 "اكتسب المحيط الأطلنطي الشمالي كثافة مروية وأهمية كبيرة في العصور المعاصرة نتيجة :

أ- استقامة سواحله . ب- اتساع رصيفه القاري . ج- كثرة مصائده السمكية . د- موقعه بين إقليمين صناعيين .

167 أكثر طرق التجارة العالمية في الكثافة المروية ، يشار إليه في الخريطة بالرقم :



أ- (1) . ☐

ب- (2) . ☐

ج- (3) . ☐

د- (4) . ☐

168 من الدول ذات الموقع الهامشي :

أ- مصر والسودان . ب- بنما وكوستاريكا . ج - ماليزيا وإندونيسيا . د- أستراليا ونيوزيلندا .

169 من الدول ذات المساحة الكبيرة في العالم :

أ- روسيا . ب- هولندا . ج - الفاتيكان . د- لوكسمبورج .

170 من الدول ذات الثقل السكاني التي يصعب احتلالها :

أ- كندا . ب- الصين . ج - بريطانيا . د- النرويج .

171 من الدول التي تطبق نظرية الدفاع في العمق :

أ- اليونان . ب- روسيا . ج - البرتغال . د- النرويج .

172 حاولت ولاية غرب أستراليا الاستقلال عن الدولة نظراً لـ :

أ- اختلاف اللغة . ب- اختلاف الديانة . ج - تنوع العرقيات . د- وجود الصحراء بينهما .

173 "أقرب الأشكال إلى الدائرة وفيه تكون المسافات متساوية نسبياً من مركز الدولة الجغرافي إلى أي من حدودها" هو

شكل الدولة :

أ- المجزأ . ب- المثقب . ج- المنتظم . د- المستطيل .

174 من أمثلة الدول ذات الشكل المنتظم :

أ- كينيا وبلجيكا . ب- تشيلي والسويد . ج- إيطاليا والفاتيكان . د- الفلبين وإندونيسيا .

175 "يطلق على شكل الدولة التي يتعدى طولها ستة أضعاف عرضها" الشكل :

أ- المجزأ . ب- المثقب . ج- المنتظم . د- المستطيل .

176 من أمثلة الدول ذات الشكل المستطيل :

أ- كينيا وبلجيكا . ب- السويد والنرويج . ج- إيطاليا والفاتيكان . د- الفلبين وإندونيسيا .

177 الشكل الذي تكون فيه الدولة مكونة من جزأين أو أكثر :

أ- المجزأ . ب- المثقب . ج- المنتظم . د- المستطيل .

178 من أمثلة الدول البحرية المجزأة :

أ- كينيا وبلجيكا . ب- السويد والنرويج . ج- إيطاليا والفاتيكان . د- الفلبين وإندونيسيا .

179 من أمثلة الدول البرية المجزأة :

أ- بولندا . ب- السويد . ج- إيطاليا . د- الولايات المتحدة .

180) من أمثلة الدول البرية البحرية الجزأة :

أ- بولندا . ب- السويد . ج- إيطاليا . د- الولايات المتحدة .

181) دولة مزدوجة الشكل :

أ- ألمانيا . ب- بلجيكا . ج- إيطاليا . د- بريطانيا .

182) " الدول التي تضم بين أراضيها دولة أو أكثر وتحتويها تماماً يطلق عليها الدول ذات الشكل :

أ- الجزأ . ب- المثقب . ج- المنتظم . د- المستطيل .

183) من أمثلة الدول ذات الشكل المثقب :

أ- كينيا وبلجيكا . ب- السويد والنرويج . ج- إيطاليا والفاتيكان . د- الفلبين واندونيسيا .

184) من أمثلة الدول التي يغلب على أراضيها الطابع السهلي :

أ- سويسرا واليابان . ب- روسيا والصين . ج- هولندا وألمانيا . د- فرنسا والولايات المتحدة .

185) من أمثلة الدول التي يغلب على أراضيها الطابع الجبلي :

أ- سويسرا واليابان . ب- روسيا والصين . ج- هولندا وألمانيا . د- فرنسا والولايات المتحدة .

186) من التأثيرات السلبية للسهول في قوة الدولة :

أ- صعوبة مواجهة الغزو . ب- صعوبة إدارة الدولة . ج- إضعاف تماسك السكان . د- إضعاف ترابطها الداخلي .

187) من الأنهار الدولية :

أ- اللوار وهافل . ب- موري ودارلنج . ج- الراين والدانوب . د- المسيسيبي وأتاباسكا .

188) قد تثير الأنهار الدولية مشكلات دولية نظراً لـ :

أ- تغير مجراها . ب- موسمية جريانها . ج- تعرضها للفيضان . د- ربطها بين الدول .

189) يشير السهم في الخريطة المقابلة إلى نهر :

أ- بو . ب- الدون . ج- الراين . د- الفولجا .

190) من الجبال التي تتخذ كحدود طبيعية بين الدول :

أ- الكاب . ب- البرانس . ج- كلورادو . د- كلمنجارو .

191) تعاني بيرو من صعوبة الاتصال بين أجزائها نتيجة :

أ- كثرة جداول المياه . ب- امتداد جبال الأنديز .
ج- انتشار المنخفضات بأراضيها . د- انتشار الغطاءات الجليدية فيها .

192) تؤدي كثرة الجبال إلى محدودية الإنتاج الزراعي في :

أ- تشاد والنيجر . ب- سوريا والعرق . ج- ألمانيا وبولندا . د- اليابان والنرويج .

193) تمثل الجبال مصدر عدم استقرار لدولة :

أ- كوبا . ب- البرازيل . ج- فنزويلا . د- الأرجنتين .

194) قد تمثل الجبال مصدر عدم استقرار للدول نتيجة :

أ- تضرس سطحها . ب- شدة انحدارها . ج- استخراج المعادن منها . د- لجوء بعض الجماعات الانفصالية إليها .

195) من الدول التي تتميز بتنوع الأقاليم المناخية :

أ- هولندا . ب- بلجيكا . ج- لوكسمبورج . د- الولايات المتحدة الأمريكية .

196) من المناطق قليلة السكان :

أ- مرتفعات اليمن . ب- سهول سيبيريا . ج- سهول اللانوس . د- حوض البحر المتوسط .





197 لعبت النباتات الطبيعية قديماً دوراً في تاريخ الدول وأوضاعها السياسية لأنها كانت تمثل :

أ- فراغات عمرانية . ب- مناطق حدود طبيعية . ج- مناطق جذب سياحي . د- درع يقي الشعوب من هجمات الأعداء .

198 تتوفر مساحات كبيرة من الغابات في دول :

أ- الكاريبي . ب- إسكندنافيا . ج- البينولوكس . د- البحر المتوسط .

199 من الدول التي تتوفر فيها مساحات كبيرة من الغابات :

أ- روسيا وكندا والبرازيل . ب- تشاد والنيجر ومالي . ج- ليبيا والجزائر وتونس . د- باكستان وأفغانستان وكازاخستان .

200 تعني زيادة السكان زيادة في قوة الدولة عندما يكون هناك :

أ- تنوع في التركيب العرقي . ب- ارتفاع في معدل الإعالة . ج- زيادة في معدلات البطالة . د- توازن بين السكان والمساحة والإنتاج .

201 أكبر دول العالم سكاناً حسب إحصائية 2020م :

أ- الهند . ب- الصين . ج- إندونيسيا . د- الولايات المتحدة .

202 من الدول التي لا يتناسب عدد سكانها الكبير مع مواردها المتاحة :

أ- روسيا واليابان . ب- فرنسا وإنجلترا . ج- الصين والولايات المتحدة . د- باكستان وإندونيسيا .

203 من الدول التي لا يتناسب عدد سكانها الكبير مع مواردها المتاحة :

أ- ألمانيا وروسيا . ب- فرنسا وإنجلترا . ج- نيجيريا وبنجلاديش . د- الهند والولايات المتحدة .

204 من سلبات الحجم الكبير للسكان على قوة الدولة :

أ- انتشار البطالة . ب- ضخامة القوة العسكرية . ج- يتيح سوق استهلاكية داخلية . د- يوفر أعداد كبيرة من القوة العاملة .

205 تؤدي الهجرة الدولية إلى اختلال التركيب العمري والنوعي للسكان بسبب :

أ- قلة العمالة الوطنية . ب- سوء توزيع السكان . ج- اختلال التركيب العمالي . د- كثرة المهاجرين من الذكور الشباب .

206 يعرف توزيع السكان طبقاً للفئات المختلفة (كبار السن وصغار السن والشباب) بالتركيب :

أ- النوعي . ب- العمري . ج- الاقتصادي . د- التعليمي .

207 ترتفع نسبة صغار السن والشباب في الدول النامية بسبب :

أ- كثرة الوافدين . ب- زيادة معدلات الهجرة . ج- ارتفاع معدلات المواليد . د- ارتفاع الكثافة السكانية .

208 يدل الهرم السكاني في الشكل المقابل على :

أ- نمو سكاني سريع . ب- انخفاض نسبة الإعالة .

ج- قلة نسبة صغار السن . د- اختلال التركيب النوعي .

209 يدل الهرم السكاني في الشكل المقابل على :

أ- تناقص السكان . ب- نمو سكاني سريع .

ج- قلة نسبة كبار السن . د- ارتفاع نسبة صغار السن .

210 تعرف نسبة الذكور إلى نسبة الإناث في الدولة، بالتركيب :

أ- النوعي . ب- العمري . ج- الاقتصادي . د- التعليمي .

211 تمتلك الدولة التي ينتمي سكانها إلى قومية واحدة :

أ- التنوع الثقافي . ب- التنوع اللغوي . ج- الاختلاف العرقي . د- التجانس الداخلي .

212 يؤدي تعدد القوميات والمذاهب داخل الدولة الواحدة إلى :

أ- التنوع الثقافي . ب- التنوع اللغوي . ج- التجانس الديموغرافي . د- الاضطرابات الداخلية .

213 "وسيلة التفاهم وتبادل الآراء والأفكار وتسجيل تاريخ الأمة ونقل تراثها" ، يشير هذا المصطلح إلى :

أ- اللغة . ب- التراث . ج- الحضارة . د- الاستشعار عن بعد .





214) من الدول التي يتحدث سكانها لغة واحدة :

أ- السويد والنرويج . ب- الهند وإندونيسيا . ج- بلجيكا ولوكسمبورج . د- نيجيريا وجنوب أفريقيا .

215) من الدول التي تتميز بالتعدد اللغوي :

أ- ليبيا وتونس . ب- الهند وإندونيسيا . ج- نيجيريا والكاميرون . د- السودان والصومال .

216) من الدول التي تتميز بالتعدد اللغوي :

أ- سوريا ولبنان . ب- بريطانيا وألمانيا . ج- السويد والنرويج . د- نيجيريا وجنوب أفريقيا .

217) من الدول التي تتميز بالتعدد اللغوي :

أ- تونس والمغرب . ب- إسبانيا والبرتغال . ج- السويد والنرويج . د- بلجيكا ولوكسمبورج .

218) من الدول التي يعتنق أكثر من (90%) من سكانها ديانة واحدة :

أ- لبنان . ب- كندا . ج- فرنسا . د- إندونيسيا .

219) من الدول التي يعتنق (60 - 80%) من سكانها ديانة واحدة :

أ- كندا . ب- لبنان . ج- ألبانيا . د- موريتانيا .

220) من الدول التي لا تظهر فيها أغلبية لدين على آخر :

أ- كندا . ب- ألبانيا . ج- فرنسا . د- الولايات المتحدة الأمريكية .

221) قد تؤدي الاختلافات السلافية والعرقية داخل الدولة إلى :

أ- تغير التوزيع السكاني . ب- تنوع الكفاءات العلمية . ج- زيادة التجانس السكاني . د- قيام حركات الانفصال .

222) تتمثل القوة التنظيمية للدولة في :

أ- حجم السكان . ب- نوعية الحكومة . ج- توزيع شبكة النقل . د- توزيع الموارد المعدنية .

223) تسعى الدول إلى زيادة قوتها العسكرية من خلال :

أ- تنويع الموارد . ب- سياسة التسلح المنفردة . ج- رسم التقسيمات الإدارية . د- عقد التحالفات العسكرية .

224) من الأدلة على سعي الدول إلى زيادة قوتها العسكرية :

أ- ظهور منظمة الكوميسا . ب- إنشاء حلف شمال الأطلسي . ج- تبني سياسات التسلح المنفردة . د- إنشاء منظمة التعاون الإسلامي .

225) من أهم الأحلاف العسكرية الموجودة على الساحة العالمية :

أ- بغداد . ب- وارسو . ج- شمال الأطلسي . د- جنوب شرق آسيا .

226) من الدول التي تكفي نفسها من الغذاء وليس لها نصيب في تجارة الغذاء بالعالم :

أ- مصر . ب- فرنسا . ج- سلطنة عمان . د- كوريا الشمالية .

227) من الدول التي يفيض إنتاجها الغذائي عن حاجة سكانها :

أ- تشاد . ب- نيجيريا . ج- أفغانستان . د- الولايات المتحدة .

228) تسعى الحكومات لدعم إنتاجها من الحبوب الغذائية من أجل :

أ- تحقيق الأمن الغذائي . ب- زيادة الفجوة الغذائية . ج- رفع معدلات التضخم . د- تحقيق الاستقرار الخارجي .

229) المعدن الرئيس الذي تقوم عليه الكثير من الصناعات :

أ- الحديد . ب- النيكل . ج- المنجنيز . د- البوكسيت .

230) حفر أول بئر للبترول في عام :

أ- 1849م . ب- 1859م . ج- 1869م . د- 1879م .

231) تستمد الدولة من مساحتها وموقعها الجغرافي القوة :

أ- التنظيمية . ب- الديموغرافية . ج- الاقتصادية . د- المورفولوجية .

232) تستمد الدولة من عدد سكانها وتماسكهم القوة :

أ- التنظيمية . ب- العسكرية . ج- الاقتصادية . د- الديموغرافية .

233) تستمد الدولة من مواردها وثرواتها ومدى امتلاكها للتقنية القوة :

أ- التنظيمية . ب- العسكرية . ج- الاقتصادية . د- الديموغرافية .

234) تستمد الدولة من مدى كفاءة الحكومة في فرض سيطرتها وتنفيذ القانون وتحقيق الاستقرار القوة :

أ- التنظيمية . ب- العسكرية . ج- الاقتصادية . د- الديموغرافية .

235) تتمثل القوة العسكرية للدولة في :

أ- عدد السكان . ب- علاقاتها الخارجية . ج- عدد أفراد الجيش . د- الأحلاف والتكتلات الاقتصادية .

236) تستمد الدولة من وسائل الإعلام والصحافة قوة في :

أ- الاقتصاد . ب- الديموغرافيا . ج- الربط والاتصال . د- العلاقات الخارجية .

237) القوة التي تستمدها الدولة من عضويتها في المنظمات الدولية والأحلاف العسكرية والتكتلات الاقتصادية هي :

أ- التنظيمية . ب- العسكرية . ج- الاقتصادية . د- العلاقات الخارجية .

238) "شكل من أشكال التكامل الاقتصادي يتم بين مجموعة من الدول تجمعها مصالح مشتركة" ، يشير هذا المصطلح إلى :

أ- المنفعة الحدية . ب- الاقتصاد المركزي . ج- السياسة الاقتصادية . د- التكتلات الاقتصادية .

239) تشير الدول المظلة في الخريطة المقابلة إلى أعضاء :

أ- الفيتو . ب- حلف الناتو . ج- حلف وارسو . د- الاتحاد الأوروبي .

240) بدأ الاتحاد الأوروبي كمشروع اقتصادي صغير بين ست دول عام 1958م بهدف :

أ- استغلال الموارد الطبيعية . ب- تعزيز التعاون الاقتصادي . ج- توسيع شبكة الاتصالات . د- زيادة سيطرة الحكومات على أراضيها .

241) تم تأسيس الاتحاد الأوروبي عام 1992م بتوقيع معاهدة :

أ- روما . ب- برلين . ج- باريس . د- ماستريخت .

242) يوجد مقر مفوضية الاتحاد الأوروبي في :

أ- مدريد . ب- لشبونة . ج- بروكسيل . د- أمستردام .

243) أصبح عدد أعضاء الاتحاد الأوروبي عام (2019م) :

أ- 25 عضواً . ب- 27 عضواً . ج- 29 عضواً . د- 31 عضواً .

244) الدولة التي خرجت من الاتحاد الأوروبي :

أ- فرنسا . ب- ألمانيا . ج- السويد . د- بريطانيا .

245) يعد الاتحاد الأوروبي أقوى الأسواق الاقتصادية في العالم لأنه :

أ- يمتلك ثروات معدنية كبيرة . ب- يستأثر بـ 1.9% من الاقتصاد العالمي . ج- يستحوذ على 16% من التجارة العالمية . د- يمتلك المرتبة الأولى عالمياً في احتياطي النفط .

246) يمتلك الاتحاد الأوروبي عملة موحدة تسمى :

أ- اليورو . ب- الدولار . ج- المارك . د- الفرنك .

247) "منظمة سياسية واقتصادية إقليمية في شبه الجزيرة العربية تضم ست دول" هي :

أ- جامعة الدول العربية . ب- مجلس التعاون الخليجي . ج- رابطة العالم الإسلامي . د- منظمة التعاون الإسلامي .





248 تشير الدول المظلة في الخريطة المقابلة إلى أعضاء :

- أ- الاتحاد العربي .
ب- جامعة الدول العربية .
ج- مجلس التعاون الخليجي .
د- مجلس الوحدة الاقتصادية العربية .

249 أعلن عن قيام مجلس التعاون الخليجي في عام :

- أ- 1961م .
ب- 1971م .
ج- 1981م .
د- 1991م .

250 يوجد مقر مجلس التعاون الخليجي في :

- أ- الدوحة .
ب- الرياض .
ج- المنامة .
د- أبو ظبي .

251 يأتي مجلس التعاون الخليجي بين الاقتصاديات العالمية في المرتبة :

- أ- السابعة .
ب- التاسعة .
ج- الحادية عشر .
د- الثالثة عشر .

252 تسيطر دول مجلس التعاون الخليجي على خمس الإنتاج العالمي من :

- أ- الفحم .
ب- البترول .
ج- الغاز الطبيعي .
د- الطاقة الكهربائية .

253 تأتي دول مجلس التعاون الخليجي في المرتبة الأولى عالمياً في احتياطي :

- أ- النفط .
ب- الفحم .
ج- الغاز الطبيعي .
د- الوقود الحيوي .

254 تأتي دول مجلس التعاون الخليجي في المرتبة الثانية عالمياً في احتياطي :

- أ- النفط .
ب- الفحم .
ج- الغاز الطبيعي .
د- الوقود الحيوي .

255 "الخطوط التي تحدد الأبعاد الجغرافية للدولة ورفعتها المساحية ونطاق سيادتها" ، يشير هذا المصطلح إلى :

- أ- الحدود الآمنة .
ب- الفواصل النظامية .
ج- الحدود السياسية .
د- شبكة الإحداثيات .

256 يوضح الشكل المقابل مفهوم :

- أ- الحدود الآمنة .
ب- الفواصل النظامية .
ج- الحدود السياسية .
د- التركيب الجيولوجي .

257 يقصد بالمسطحات المائية التي تشرف عليها الدولة إن وجدت :

- أ- الرصيف القاري .
ب- المنحدر القاري .
ج- المياه الإقليمية .
د- المنافذ البحرية .

258 يقصد بطبقات الجو العليا التي تغطي أراضي الدولة ومياهها الإقليمية :

- أ- غلاف الأرض .
ب- المجال الجوي .
ج- المجال الحيوي .
د- المياه الإقليمية .

259 "مناطق جغرافية لها مساحة غير مأهولة بالسكان كانت تستخدم كحواجز طبيعية تفصل بين الدول" ، يشير هذا

المصطلح إلى :

- أ- التخوم .
ب- المجال الحيوي .
ج- الوحدة السياسية .
د- الحدود السياسية .

260 تشترك التخوم مع الحدود السياسية بأنها :

- أ- ثابتة .
ب- بشرية .
ج- قانونية .
د- تستخدم للفصل بين الدول .

261 الهدف الأساسي الذي من أجله أنشئت الحدود السياسية هو :

- أ- الدفاع عن الدولة .
ب- فرض الرسوم الجمركية .
ج- إقامة نقاط للحجر الصحي .
د- حماية النظم الاقتصادية للدولة .

262 من الوظائف المدنية للحدود السياسية :

- أ- توفير الأمن للشعب .
ب- وضع الدفاعات العسكرية .
ج- إقامة نقاط للحجر الصحي .
د- تحديد مناطق نفوذ الدولة .

263 يعتمد التصنيف التكويني "الوظيفي" للحدود السياسية على أساس :

- أ- المكان .
ب- الثبات .
ج- وقت الاستيطان .
د- الأشكال الهندسية .

264 يعتمد التصنيف المورفولوجي "الشكلي" للحدود السياسية على أساس :

- أ- المكان .
ب- المفاوضات .
ج- وقت الاستيطان .
د- الحركات التكتونية .



265 الحدود التي نشأت قبل الاستيطان البشري والحضاري لمنطقة الحد هي :

أ- السابقة . ب- اللاحقة . ج- المنطبعة . د- الهندسية .

266 من أمثلة الحدود السابقة :

أ- إريتريا وإثيوبيا . ب- الهند وباكستان . ج- كوريا الشمالية والجنوبية . د- كندا والولايات المتحدة .

267 الحدود التي تم تحديدها وتخطيطها بعد تعمير منطقة الحدود هي :

أ- السابقة . ب- اللاحقة . ج- المنطبعة . د- الهندسية .

268 من أمثلة الحدود اللاحقة :

أ- إريتريا وإثيوبيا . ب- الهند وباكستان . ج- كوريا الشمالية والجنوبية . د- كندا والولايات المتحدة .

269 الحدود التي تم تحديدها بعد مفاوضات بين الدول المتنازعة هي :

أ- السابقة . ب- اللاحقة . ج- المنطبعة . د- الهندسية .

270 من أمثلة الحدود المنطبعة :

أ- إريتريا وإثيوبيا . ب- الهند وباكستان . ج- تشيلي والأرجنتين . د- كندا والولايات المتحدة .

271 تعد الحدود الطبيعية من أقوى الحدود السياسية بسبب :

أ- تعرضها للنحت . ب- كثرة ثرواتها . ج- تغيرها المستمر . د- صعوبة اختراقها .

272 أفضل أنواع الحدود الجبلية في المناطق الرطبة هي التي تتماشى مع :

أ- الأودية . ب- قمم الجبال . ج- السفوح الجبلية . د- خط تقسيم المياه .

273 أفضل أنواع الحدود الجبلية في المناطق الجافة هي التي تتماشى مع :

أ- الأودية . ب- قمم الجبال . ج- السفوح الجبلية . د- خط تقسيم المياه .

274 يوضح الشكل المقابل نوع من أنواع الحدود الطبيعية يتماشى مع :

أ- الأودية . ب- النحت النهري . ج- الإرساب النهري . د- خط تقسيم المياه .

275 تمتد الحدود بين تشيلي والأرجنتين على طول :

أ- نهر الأمازون . ب- نهر باراجواي . ج- جبال البرانس . د- جبال الأنديز .

276 تمتد الحدود بين فرنسا وإسبانيا على طول :

أ- نهر الرون . ب- نهر السوم . ج- جبال الألب . د- جبال البرانس .

277 تمتد الحدود بين النمسا وإيطاليا على طول :

أ- نهر الرون . ب- نهر السوم . ج- جبال الألب . د- جبال البرانس .

278 تصلح مجاري الأنهار الدنيا والوسطى كحدود سياسية بسبب :

أ- تغير مجراها . ب- تعدد روافدها . ج- كثرة فيضاناتها . د- اتخاذها مجرى محدد .

279 تغير الأنهار مجاريها بسبب :

أ- قلة روافدها . ب- ضعف منسوبها . ج- النحت والإرساب . د- اتخاذها مجرى واحد .

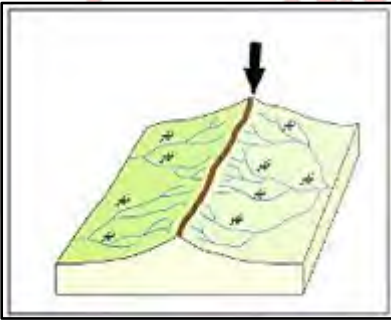
280 لا تصلح الأجزاء العليا من الأنهار كحدود سياسية بسبب :

أ- تغير مجراها . ب- تعدد روافدها . ج- كثرة فيضاناتها . د- اتخاذها مجرى محدد .

281 من الحدود النهرية التي تلتزم بإحدى ضفتي النهر، الحدود النهرية في :

أ- شط العرب بين العراق وإيران . ب- نهر الراين بين ألمانيا وفرنسا .

ج- نهر ريوجراند بين الولايات المتحدة والمكسيك . د- نهر سانت لورانس بين الولايات المتحدة والمكسيك .



282) من الحدود النهرية التي تلتزم بخط المنتصف، الحدود النهرية في :

- أ- شط العرب بين العراق وإيران .
ب- نهر الراين بين ألمانيا وفرنسا .
ج- نهر بوج بين بولندا وبيلاروسيا .
د- نهر ريوجراند بين الولايات المتحدة والمكسيك .

283) من الحدود النهرية التي تلتزم بخط العمق الملاحي ، الحدود النهرية في :

- أ- شط العرب بين العراق وإيران .
ب- نهر الراين بين ألمانيا وفرنسا .
ج- نهر بوج بين بولندا وبيلاروسيا .
د- نهر ريوجراند بين الولايات المتحدة والمكسيك .

284) يزداد الصراع بين الدولتين المتجاورتين لضم البحيرة إذا كانت البحيرة :

- أ- واسعة . ب- عميقة . ج- غزيرة المياه . د- غنية بالأسماء .

285) من أمثلة الحدود البحرية التي تتفق مع الخط الأوسط للبحيرة :

- أ- الحدود الكينية الإثيوبية في بحيرة توركانا .
ب- الحدود الكينية التنزانية في بحيرة فكتوريا .
ج- الحدود التنزانية الملاوية في بحيرة ملاوي .
د- الحدود الكندية الأمريكية في البحيرات العظمى .

286) من أمثلة الحدود البحرية التي تتفق مع الخط الأوسط للبحيرة :

- أ- الحدود الكينية الإثيوبية في بحيرة توركانا .
ب- الحدود الكينية التنزانية في بحيرة فكتوريا .
ج- الحدود التنزانية الملاوية في بحيرة ملاوي .
د- الحدود الكونغولية التنزانية في بحيرة تنجانيقا .

287) من أمثلة الحدود البحرية التي تقسم البحيرة بين عدة دول :

- أ- الحدود الكينية الإثيوبية في بحيرة توركانا .
ب- الحدود الكينية التنزانية في بحيرة فكتوريا .
ج- الحدود التنزانية الملاوية في بحيرة ملاوي .
د- الحدود الكندية الأمريكية في البحيرات العظمى .

288) زادت المشكلات الدولية المتعلقة بتحديد المياه الإقليمية البحرية نتيجة :

- أ- اختلاف المد والجزر . ب- تآكل الشواطئ البحرية . ج- تغير منسوب ماء البحر . د- التوجه لاستغلال الثروات الاقتصادية .

289) توجد أمام سواحل كل دولة نطاقات للمياه البحرية تختلف من ناحية :

- أ- اللون . ب- العمق . ج- الكثافة . د- الملوحة .

290) يسمى النطاق البحري الذي يضم المرافئ والخلجان ومصبات الأنهار والبحيرات الساحلية، بالمياه :

- أ- الدولية . ب- الداخلية . ج- الملاصقة . د- الإقليمية .

291) يسمى النطاق البحري الممتد من خط الساحل إلى مسافة لا تتجاوز 12 ميلاً بحرياً، بالمياه :

- أ- الدولية . ب- الداخلية . ج- الملاصقة . د- الإقليمية .

292) تمارس الدولة صاحبة السيادة على المياه الإقليمية السيطرة على المياه الملاصقة من أجل :

- أ- إنشاء جزر صناعية . ب- حفظ الشعب المرجانية . ج- استغلال البحيرات الساحلية . د- مراقبة حركة الملاحة البحرية .

293) يطلق على النطاق البحري الممتد من خط الساحل إلى مسافة (200 ميلاً بحرياً) :

- أ- أعالي البحار . ب- المياه الداخلية . ج- المياه الملاصقة . د- المنطقة الاقتصادية الخالصة .

294) يطلق على المنطقة البحرية التي تكون الملاحة فيها من حق الجميع وثرواتها متاحة لمن يستطيع :

- أ- أعالي البحار . ب- المياه الداخلية . ج- المياه الملاصقة . د- المنطقة الاقتصادية الخالصة .

295) ”حدود سياسية مرسومة بشكل يشبه الأشكال الهندسية على شكل خطوط مستقيمة أو شبه مستقيمة” يطلق

عليها الحدود :

- أ- السابقة . ب- المنطبعة . ج- الاثنوغرافية . د- الجيومترية .

296) من أمثلة الحدود الهندسية الفلكية، الحدود :

- أ- الإريترية الإثيوبية . ب- المصرية السودانية . ج- الفرنسية الإسبانية . د- الهندية الباكستانية .



297) يطلق على الحدود الأمريكية الكندية التي تسير مع دائرة عرض 49 شمالاً لمسافة 2400 كم بالحدود :

أ- اللاحقة . ب- المنطبعة . ج- الاثنوغرافية . د- الهندسية الفلكية .

298) أكثر أنواع الحدود انتشاراً في غالبية دول العالم :

أ- المنطبعة . ب- الاثنوغرافية . ج- الهندسية الفلكية . د- الهندسية المتنوعة التي تصل بين نقاط محددة .

299) الحدود التي تفصل بين مجموعات بشرية تختلف من حيث الدين أو اللغة أو الخصائص العرقية والقومية هي :

أ- الفلكية . ب- الطبيعية . ج- الهندسية . د- الاثنوغرافية .

300) من أمثلة الحدود الاثنوغرافية التي تتفق مع الظواهر الطبيعية :

أ- الكندية الأمريكية . ب- الليبية الجزائرية . ج- المصرية السودانية . د- الفرنسية الإسبانية .

301) من أهم الخصائص الحضارية التي استخدمت لترسيم الحدود :

أ- اللغة . ب- التنمية . ج- الحداثة . د- التقدم العلمي .

302) الخاصية التي استخدمت لإعادة ترسيم حدود دول وسط وغرب أوروبا عقب الحرب العالمية الأولى :

أ- العرق . ب- الدين . ج- اللغة . د- التاريخ .

303) رسمت خريطة حدود دول شرق أوروبا المقابلة على أساس :

أ- اللغة . ب- الدين . ج- الأشكال الهندسية . د- الظواهر الطبيعية .

304) قسم الاحتلال البريطاني شبه القارة الهندية إلى دولتين على أساس :

أ- العرق . ب- الدين . ج- اللغة . د- التاريخ .

305) تبلغ مساحة إقليم كشمير :

أ- 56023 كم² . ب- 66023 كم² . ج- 76023 كم² . د- 86023 كم² .

306) يقع إقليم كشمير في الخريطة المقابلة بـ :

أ- شمال آسيا . ب- غرب أوروبا . ج- شرق أفريقيا . د- وسط وجنوب آسيا .

307) تعتبر مشكلة كشمير نزاعاً إقليمياً بين دولتي :

أ- الهند والصين . ب- الهند وباكستان . ج- الصين وباكستان . د- أفغانستان وباكستان .

308) ثالث أكبر جزيرة في البحر المتوسط :

أ- قبرص . ب- صقلية . ج- سردينيا . د- كورسيكا .

309) تبلغ مساحة جزيرة قبرص :

أ- 8251 كم² . ب- 9251 كم² . ج- 10251 كم² . د- 11251 كم² .

310) تشهد جزيرة قبرص نزاعاً تاريخياً على الهوية بين :

أ- تركيا واليونان . ب- تركيا وإيطاليا . ج- إيطاليا واليونان . د- ألبانيا وإيطاليا .

311) من خلال خريطة جزيرة قبرص، تعد عاصمة جمهورية قبرص اليونانية :

أ- بافوس . ب- كيرينيا . ج- ليماسول . د- نيقوسيا .



ثانياً : الأسئلة المقالية

السؤال الثاني : أجب عن الأسئلة التالية :

1) عدد مراحل التخطيط العمراني .

- أ-
- ب-
- ج-

2) ما أهمية التخطيط العمراني ؟

- أ-
- ب-
- ج-

3) ما العوامل المؤثرة في التخطيط العمراني ؟

- أ-
- ب-
- ج-

4) ما العوامل الطبيعية المؤثرة في التخطيط العمراني ؟

- أ-
- ب-
- ج-
- د-

5) يساعد الموقع الجغرافي في فهم مجموعة من الأمور التي تتعلق بالتخطيط العمراني... في ضوء ذلك وضح أهمية دراسة

موقع المنطقة في التخطيط العمراني .

- أ-
- ب-



6) قارن بين الآثار المباشرة وغير المباشرة للتركيب الجيولوجي في التخطيط العمراني كما في الجدول التالي .

| الآثار المباشرة للتركيب الجيولوجي | الآثار غير المباشرة للتركيب الجيولوجي |
|-----------------------------------|---------------------------------------|
| أ- | أ- |
| ب- | ب- |
| ج- | ج- |

7) بم تفسر: يجب أن تكون المناطق العمرانية خالية من الانحدارات الشديدة ؟

- أ-
ب-
ج-

8) ” تعد السهول أكثر مظاهر سطح الأرض تأثيراً في التخطيط العمراني ”... في ضوء ذلك وضح الأسباب التي تجعل

السهول أكثر المناطق جذباً للسكان

- أ-
ب-
ج-

9) بم تفسر: يوجد بعض المناطق الجبلية المزدحمة بالسكان ؟

- أ-
ب-
ج-

10) بم تفسر: تؤثر موارد المياه في عملية التخطيط العمراني ؟

- أ-
ب-
ج-

11) عدد صور تأثير عناصر المناخ في التخطيط العمراني .

- أ-
ب-
ج-



12) بم تفسر : يهتم المخططون بالخصائص السكانية للمراكز العمرانية عند وضع المخططات العمرانية ؟

أ-

ب-

ج-

13) بم تفسر :

(أ) عند التخطيط العمراني لابد من دراسة أعداد ومعدلات النمو السكاني وتركيبهم والتنبؤ بأعدادهم في المستقبل ؟

1-

(ب) عند التخطيط العمراني لابد من دراسة توزيع السكان وكثافتهم ؟

1-

2-

14) ما العوامل الاقتصادية التي يهتم بها المخططون في التخطيط العمراني ؟

أ-

ب-

ج-

15) عدد أهم التقنيات والأدوات المستخدمة في التخطيط العمراني .

أ-

ب-

ج-

16) ما أهمية استخدام التقنيات والبرامج في التخطيط العمراني ؟

أ-

ب-

ج-

17) ما المقصود بكلاً من ؟

(أ) التخطيط العمراني :

1-

(ب) الاستشعار عن بعد :

1-

18) ما أهمية الاستشعار عن بعد في التخطيط العمراني ؟

- أ-
- ب-
- ج-
- د-

19) اذكر مجالات تطبيق الاستشعار عن بعد في التخطيط العمراني .

- أ-
- ب-
- ج-

20) ما أهمية الاستشعار عن بعد في دراسة تلوث البيئة والكوارث الطبيعية ؟

- أ-
- ب-

21) اذكر استخدامات نظم المعلومات الجغرافية في التخطيط العمراني .

- أ-
- ب-
- ج-
- د-

22) ما أهداف التخطيط العمراني المستدام ؟

- أ-
- ب-

23) ما المقصود بكلاً من ؟

(أ) نظم المعلومات الجغرافية (GIS) :

1-

(ب) المدن الذكية :

1-

24) ما الجوانب التي يجب مراعاتها عند التخطيط العمراني المستدام ؟

- أ-
- ب-
- ج-
- د-

25) صنف سكان العالم حسب نمط المعيشة .

- أ-
- ب-

26) بم تفسر :

(أ) يشمل مفهوم الحضر كلاً من المدينة والريف ؟

- 1-

(ب) اختلاف الباحثين حول وضع تعريف للمدينة ؟

- 1-

27) عدد أسس التمييز بين الريف والمدينة .

- أ-
- ب-
- ج-
- د-

28) "يعتمد على الشكل الخارجي والتنظيم المكاني للتمييز بين الريف والمدينة " ... في ضوء ذلك اذكر الجوانب التي

تتميز بها المدينة عن القرية على الأساس الشكلي .

- أ-
- ب-
- ج-

29) ما أسباب نمو السكان في المدن ؟

- أ-
- ب-

30) من خلال خريطة التوزيع النسبي لسكان الحضر في العالم ، أجب عما يلي .



أ- عدد القارات التي تزيد نسب سكان الحضر بها على (75%) .

1-

2-

3-

ب- اذكر الدولة العربية الأفريقية التي تصل نسبة سكان الحضر بها إلى (80%) .

1-

31) ما عوامل النمو الحضري الكبير في العالم خلال العصر الحديث ؟

أ-

ب-

ج-

د-

32) بم تفسر : كان للثورة الزراعية دوراً في تزايد أعداد سكان المدن خلال العصر الحديث ؟

أ-

ب-

33) بم تفسر : ساهمت الثورة الصناعية بدور كبير في زيادة أعداد سكان المدن بالعصر الحديث ؟

أ-

ب-

34) بم تفسر : تزايد أعداد المهاجرين من الريف إلى المدن في العصر الحديث ؟

أ-

ب-

ج-



35) ما المقصود بكلاً من ؟

(أ) النمو الحضري :

1-

(ب) التحضر :

1-

(ج) درجة التحضر :

1-

(د) استخدام الأرض :

1-

36) اذكر تصنيف استخدامات الأرض في المدن .

أ-

ب-

ج-

د-

37) بم تفسر : تحتل المساحة المخصصة للنقل المركز الثاني بعد الاستخدام السكني في المدن ؟

أ-

ب-

ج-

38) قارن بين استخدامات الأرض للغرض التجاري واستخدامها للغرض الصناعي في المدن كما في الجدول التالي .

| وجه المقارنة | استخدامات الأرض للغرض التجاري | استخدامات الأرض للغرض الصناعي |
|---|-------------------------------|-------------------------------|
| الموقع | | |
| النسبة من المساحة الكلية في المدن الأمريكية | | |
| الخصائص | | |

39) عدد أقسام الاستخدامات العامة للأرض في المدن .

- أ-
ب-
ج-



40) أمامك خريطة تطور عمران مدينة لندن... في ضوء ذلك أجب عن الآتي .

أ- سم هذا الشكل من الامتداد العمراني في مدينة لندن .

- 1-
ب- اذكر نطاقات النمو العمراني في مدينة لندن .
1-
2-

41) قارن بين النطاق العمراني الداخلي والخارجي لمدينة لندن كما في الجدول التالي .

| وجه المقارنة | النطاق العمراني الداخلي | النطاق العمراني الخارجي |
|--------------|-------------------------|-------------------------|
| الخصائص | | |

42) بم تفسر : تعد الدوحة مركز دولة قطر النابض ؟

- أ-
ب-
ج-
د-

43) اذكر مراحل التطور العمراني لمدينة الدوحة .

- أ-
ب-
ج-

44) قارن بين مراحل التطور العمراني لمدينة الدوحة كما في الجدول التالي .

| وجه المقارنة | من بداية القرن العشرين حتى عام 1960م | خلال الفترة من (1960 - 1973م) | خلال الفترة من (1973م حتى الآن) |
|-------------------|--------------------------------------|-------------------------------|---------------------------------|
| امتداد المدينة | | | |
| المساحة العمرانية | | | |

45) بم تفسر :

(أ) شهدت مدينة الدوحة اتساعاً عمرانياً كبيراً في فترة الخمسينات من القرن العشرين ؟

1-

(ب) بطء معدلات النمو السكاني لمدينة الدوحة في النصف الأول من القرن العشرين ؟

1-

(ج) ارتفاع معدلات النمو السكاني لمدينة الدوحة خلال الفترة من (1970 حتى الآن) ؟

1-

46) أمامك خريطة استخدامات الأرض في مدينة الدوحة... في ضوء ذلك أجب عن الآتي .



أ- عدد استخدامات الأرض في مدينة الدوحة .

1-

2-

3-

ب- اذكر شكل العمران في مدينة الدوحة .

1-

ج- اذكر النموذج العمراني التي تتقارب منه مدينة الدوحة حالياً .

1-

47) ما أهمية الموقع الجغرافي لمدينة نيويورك ؟

أ-

ب-

48) بم تفسر : تعد مدينة نيويورك العاصمة الاقتصادية للولايات المتحدة ؟

أ-

ب-

49) عدد أحياء مدينة نيويورك .

أ-

ب-

ج-

د-



50) من خلال خريطة مدينة نيويورك الصماء ، اكتب أسماء الأحياء العمرانية التي تدل عليها الأرقام التالية .



- يدل الرقم (1) على حي :
- يدل الرقم (2) على حي :
- يدل الرقم (3) على حي :
- يدل الرقم (4) على حي :
- يدل الرقم (5) على حي :

51) بم تفسر :

(أ) أصبحت مدينة نيويورك بحلول عام (1950م) أكبر مدينة عملاقة في العالم بعدد سكان يقارب "8 مليون نسمة" ؟

..... 1-

(ب) فقدت مدينة نيويورك خلال الفترة من (1970 – 1980م) نحو (10%) من سكانها ؟

..... 1-

52) ما المشكلات الحضرية الناتجة عن النمو العمراني غير المنظم ؟

..... أ-

..... ب-

..... ج-

..... د-

53) ما أسباب مشكلة ارتفاع أسعار السكن بالمدن الكبرى ؟

..... أ-

..... ب-

..... ج-

54) ما النتائج المترتبة على مشكلة ارتفاع أسعار السكن بالمدن ؟

..... أ-

..... ب-

55) ما الإجراءات التي تتخذها بعض الدول لحل مشكلة ارتفاع أسعار السكن بالمدن ؟

..... أ-

..... ب-

..... ج-

56) ما أسباب مشكلة العشوائيات السكنية بالمدن الكبرى ؟

- أ-
- ب-

57) بم تفسر : تعرض سكان الأحياء السكنية العشوائية في المدن إلى الأمراض والأوبئة ؟

- أ-
- ب-
- ج-

58) ما الحلول التي تتخذها بعض الدول لحل مشكلة العشوائيات السكنية بالمدن ؟

- أ-
- ب-
- ج-
- د-

59) ما أثر هجرة السكان من المناطق الريفية إلى المناطق الحضرية في مشكلة الفقر والبطالة ؟

- أ-
- ب-
- ج-

60) ما النتائج المترتبة على انتشار الفقر والبطالة ؟

- أ-
- ب-
- ج-
- د-

61) ما الإجراءات التي تتخذها بعض الدول لمواجهة مشكلة الفقر والبطالة ؟

- أ-
- ب-
- ج-
- د-

62) ما مظاهر التلوث البيئي في المناطق الحضرية ؟

- أ-
- ب-
- ج-

63) "أصبح تلوث الهواء من مشكلات المدن الكبرى في العالم" ... في ضوء ذلك وضح أسباب تلوث الهواء في المدن ؟

- أ-
- ب-

64) ما أسباب التلوث الضوضائي في المدن ؟

- أ-
- ب-
- ج-

65) ما النتائج المترتبة على :

(أ) تلوث الهواء في المدن ؟

- 1-

(ب) التلوث الضوضائي ؟

- 1-
- 2-
- 3-
- 4-

66) ما أسباب التلوث البصري في المدن ؟

- أ-
- ب-
- ج-
- د-



67) ما الإجراءات التي تتخذها بعض الدول لحل مشكلة التلوث والتدهور البيئي في المدن ؟

- أ-
- ب-
- ج-
- د-

68) بم تفسر : تعد مشكلة توفير المياه الصالحة للشرب من أخطر مشكلات المدن ؟

- أ-
- ب-

69) بم تفسر : تواجه بعض المدن أزمة في إدارة مرافق الصرف الصحي ؟

- أ-
- ب-

70) ما الحلول المقترحة لمواجهة مشاكل المياه والصرف الصحي في المدن ؟

- أ-
- ب-
- ج-

71) بم تفسر :

(أ) تزايد كميات المياه المستخدمة في المنازل والمناطق الصناعية بالمدن ؟

- 1-

(ب) تعتبر مشكلة الازدحام المروري من المشكلات الرئيسية في مدن الدول ؟

- 1-

72) عدد صور مشكلات المرور في المدن .

- أ-
- ب-
- ج-

73) ما النتائج المترتبة على الازدحام المروري في المدن ؟

- أ-
- ب-
- ج-
- د-

74) ما الإجراءات التي تتخذها بعض الدول لمواجهة مشكلة الازدحام المروري والنقل الحضري ؟

- أ-
- ب-
- ج-
- د-

75) "مع تزايد النمو الحضري أصبحت المدن تضم سكاناً مختلفين في الهوية الثقافية والدينية واللغوية" ... في ضوء ذلك

وضح المشكلات المرتبطة بالتمييز .

- أ-
- ب-

76) ما الحلول المقترحة لمواجهة مشكلة التنوع العرقي ؟

- أ-
- ب-
- ج-
- د-

77) عدد المشكلات التي تعاني منها مدينة نيويورك .

- أ-
- ب-
- ج-
- د-

78) ما المشكلات الناتجة عن التنوع العرقي في المناطق الحضرية ؟

- أ-
- ب-
- ج-



79) ما النتائج المترتبة على امتلاك قطر ثالث أكبر مخزون من الغاز الطبيعي في العالم ؟

- أ-
- ب-

80) ما أهداف رؤية قطر الوطنية 2030م ؟

- أ-
- ب-

81) اذكر الركائز الأساسية للتنمية المستدامة في دولة قطر .

- أ-
- ب-
- ج-
- د-

82) ما المشكلات الحضرية في دولة قطر ؟

- أ-
- ب-
- ج-
- د-

83) ما أسباب ارتفاع أسعار السكن في دولة قطر ؟

- أ-
- ب-

84) ما الحلول التي قامت بها دولة قطر لحل مشكلة ارتفاع أسعار السكن ؟

- أ-
- ب-
- ج-

85) ما أسباب الازدهار المروحي في مدينة الدوحة ؟

- أ-
- ب-
- ج-
- د-

86) ما الحلول التي قامت بها دولة قطر لحل مشكلة الازدحام المروري ؟

- أ-
- ب-
- ج-
- د-

87) ما جهود دولة قطر لمواجهة مشكلة التلوث البيئي ؟

- أ-
- ب-
- ج-
- د-

88) ما جهود دولة قطر لمواجهة مشكلة المياه العذبة ؟

- أ-
- ب-
- ج-

89) اذكر المقومات الطبيعية للدولة .

- أ-
- ب-
- ج-
- د-

90) بم تفسر : يؤثر الموقع الفلكي في قوة الدولة ؟

- أ-
- ب-

91) عدد أقسام الموقع .

- أ-
- ب-

92) عدد أقسام الموقع الجغرافي .

- أ-
- ب-
- ج-
- د-

93) "تختلف الدول من حيث طول وعدد الجهات البحرية" ... في ضوء ذلك اذكر أنواع الدول البحرية .

- أ-
- ب-
- ج-
- د-

94) من خلال خريطة قارة آسيا السياسية، أجب عما يلي :

أ- اذكر دولتين حبيستين .

- 1-
- 2-

ب- اذكر دولة شبه جزرية تطل على أكثر من مسطح مائي .

- 1-

ج- اذكر دولتين بحريتين بحدود كاملة (جزر) .

- 1-
- 2-





95) من خلال خريطة قارة أوروبا السياسية ،أجب عما يلي :

أ- اذكر دولة تطل على مسطح مائي واحد بجبهة بحرية قصيرة .

1-

ب- اذكر دولة تطل على مسطحين مائيين .

1-

ج- اذكر دولة شبه جزرية تطل على أكثر من مسطح مائي .

1-

د- اذكر دولتين بحريتين بحدود كاملة (جزر) .

1-

2-

هـ- اذكر دولتين حبيستين .

1-

2-

96) ما أهمية الموقع الساحلي للدولة ؟

أ-

ب-

ج-

97) من خلال خريطة قارة أفريقيا السياسية ،أجب عما يلي :

أ- اذكر دولة تطل على مسطح مائي واحد بجبهة بحرية قصيرة نسبياً .

1-

ب- اذكر دولتين حبيستين .

1-

2-

98) وضح المشكلات التي تعاني منها الدول الحبيسة .

أ-

ب-

ج-



99) من خلال خريطة العالم السياسية، أجب عما يلي :



أ- اذكر دولة ذات حدود بعيدة عما يجاورها .

1-

ب- اذكر دولتين يجاورهما عدد قليل من الدول .

1-

2-

ج- اذكر ثلاث دول يجاورها عدد كثير من الدول .

1-

2-

3-

100) "تتأثر قوة الدولة بعدد وقوة الدول المجاورة لها" ... في ضوء ذلك اذكر أنواع مواقع الدول بالنسبة للدول المجاورة .

أ-

ب-

ج-

د-

101) أجب عما يلي :

(أ) ما إيجابية موقع الدولة التي يجاورها عدد كبير من الدول ؟

1-

2-

(ب) وضع سلبية موقع الدولة التي يجاورها عدد كبير من الدول .

1-

(ج) اذكر إيجابية موقع الدولة التي يجاورها دولة أخرى تعادلها في القوة أو ترتبط معها بمواثيق تعاون دولية .

1-

(د) وضع سلبية موقع الدولة التي يجاورها دولة أخرى تختلف معها في القوة أو الحجم .

1-



102 " الموقع الاستراتيجي هو الموقع الذي يضيف للدولة التي تسيطر عليه ميزة عسكرية وسياسية " ... في ضوء ذلك اذكر

أمثلة المواقع الاستراتيجية .

- أ-
ب-

103 اكتب أسماء المضائق التي تشير إليها الخرائط المعروضة أمامك .



يشير رقم (1) إلى مضيق :
يشير رقم (2) إلى مضيق :



تشير إلى مضيق :



تشير إلى مضيق :



تشير إلى مضيق :

104 اكتب اسم القناة التي تشير إليها كل خريطة معروضة أمامك .



تشير إلى قناة :



تشير إلى قناة :

105 قارن بين الموقع المركزي والهامشي للدولة من حيث "المفهوم والأمثلة" كما في الجدول التالي .

| وجه المقارنة | الموقع المركزي للدولة | الموقع الهامشي للدولة |
|--------------|-----------------------|-----------------------|
| المفهوم | | |
| الأمثلة | | |



106 قارن بين الآثار الإيجابية للدول ذات المساحة الكبيرة والأخرى صغيرة المساحة على "قوة الدولة" كما في الجدول التالي .

| الآثار الإيجابية للدول صغيرة المساحة | الآثار الإيجابية للدول كبيرة المساحة |
|--------------------------------------|--------------------------------------|
| أ- | أ- |
| ب- | ب- |
| ج- | ج- |

107 قارن بين الآثار السلبية للدول ذات المساحة الكبيرة والأخرى صغيرة المساحة على "قوة الدولة" كما في الجدول التالي .

| الآثار السلبية للدول صغيرة المساحة | الآثار السلبية للدول كبيرة المساحة |
|------------------------------------|------------------------------------|
| أ- | أ- |
| ب- | ب- |

108 ما العوامل المؤثرة في فعالية المساحة على قوة الدولة ؟

- أ-
 ب-
 ج-
 د-

109 عدد مظاهر تأثير شكل الدولة في قوتها السياسية والاقتصادية .

- أ-
 ب-
 ج-
 د-

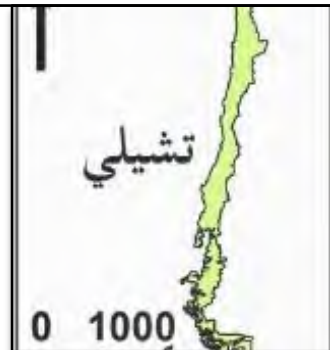
110 اكتب شكل كل دولة من الدول التي تشير إليها الخرائط المعروضة أمامك (عدد أشكال الدول) .



الشكل :



الشكل :



الشكل :



الشكل :

111 من خلال الخريطة التي أمامك، أجب عما يلي :

أ- اذكر شكل الدولة .



1-

ب- اذكر مزايا الشكل المنتظم للدول .

1-

2-

3-

4-

112 من خلال الخريطة التي أمامك، أجب عما يلي :

أ- اذكر شكل الدولة المظللة بالخريطة .



1-

ب- اذكر مزايا الشكل المستطيل للدول .

1-

2-

ج- اذكر عيوب الشكل المستطيل للدول .

1-

2-

3-

4-

113 ما عيوب الشكل المجزأ للدول ؟

أ-

ب-

114 اكتب شكل كل دولة من الدول المجزأة التي تشير إليها الخرائط المعروضة أمامك (عدد أشكال الدول المجزأة) .





115 من خلال الخريطة التي أمامك، أجب عما يلي :

أ- اذكر شكل هذا النمط من الدول .

1-

ب- اذكر عيوب هذا الشكل من الدول .

1-

116 قارن بين الدولة الحبيسة والدولة ذات الشكل المثقب من حيث "المفهوم والأمثلة" كما في الجدول التالي.

| وجه المقارنة | الدولة الحبيسة (الداخلية) | دولة الشكل المثقب (الجيوب) |
|--------------|---------------------------|----------------------------|
| المفهوم | | |
| الأمثلة | | |

117 "تختلف الدول من حيث شكلها العام" ... في ضوء ذلك عدد أشكال الدولة المختلفة التي تنطبق على إيطاليا ؟

أ-

ب-

ج-

118 بم تفسر : تعدد المظاهر التضاريسية من العوامل المؤثرة في قوة الدولة ؟

أ-

ب-

ج-

د-

119 ما الآثار الإيجابية للأراضي السهلية على قوة الدولة ؟

أ-

ب-

ج-

د-

120 بم تفسر : تعدد الأنهار أحد العوامل المؤثرة في قوة الدولة ؟

أ-

ب-

ج-



121 قارن بين الآثار الإيجابية والسلبية للمناطق الجبلية على "قوة الدولة" كما في الجدول التالي.

| الآثار السلبية للمناطق الجبلية | الآثار الإيجابية للمناطق الجبلية |
|--------------------------------|----------------------------------|
| أ- | أ- |
| ب- | ب- |
| ج- | ج- |
| د- | د- |

122 وضح أثر المناخ في قوة الدولة .

- أ-
ب-
ج-
د-

123 بم تفسر : يعد النبات الطبيعي أحد عوامل قوة الدولة ؟

- أ-
ب-

124 عدد المقومات البشرية للدولة .

- أ-
ب-
ج-

125 اذكر العوامل السكانية التي تؤثر في قوة الدولة .

- أ-
ب-
ج-
د-

126 اذكر الدول الأكثر سكاناً في العالم حسب إحصائية (2020م) .

- أ-
ب-
ج-
د-



127) ما الدليل على :

(أ) الحجم السكاني من أهم المقومات البشرية التي تحدد قوة الدولة إذا توفرت المقومات الأخرى ؟

1-

(ب) عدد سكان الدولة الكبير الذي لا يتناسب مع مواردها المتاحة لا يكون مصدراً لقوتها السياسية ؟

1-

128) قارن بين إيجابيات وسلبيات الحجم الكبير للسكان على قوة الدولة كما في الجدول التالي.

| سلبيات الحجم الكبير للسكان | إيجابيات الحجم الكبير للسكان |
|----------------------------|------------------------------|
| أ- | أ- |
| ب- | ب- |
| ج- | ج- |
| د- | د- |

129) قارن بين تأثير التوزيع السكاني المنتظم وغير المنتظم على قوة الدولة كما في الجدول التالي.

| التوزيع السكاني غير المنتظم | التوزيع السكاني المنتظم (المتوازن) |
|-----------------------------|------------------------------------|
| أ- | أ- |
| ب- | ب- |

130) ما النتائج المترتبة على :

(أ) التوازن بين معدلات النمو السكاني والموارد المتاحة في الدولة ؟

1-

(ب) تفوق معدلات النمو السكاني عن الموارد المتاحة في الدولة ؟

1-

2-



131 قارن بين الآثار "الإيجابية والسلبية" للهجرة الدولية على الدول المرسله والمستقبله للمهاجرين كما في الجدول التالي .

| وجه المقارنة | على الدول المرسله للمهاجرين | على الدول المستقبله للمهاجرين |
|---------------------------------|----------------------------------|-------------------------------|
| الآثار الإيجابية للهجرة الدولية | أ- ب- | أ- ب- |
| الآثار السلبية للهجرة الدولية | أ- ب- ج- | أ- ب- |

132 عدد الخصائص السكانية التي تؤثر في قوة الدولة .

- أ-
ب-
ج-

133 ما النتائج المترتبة على ارتفاع نسبة صغار السن في الدول النامية ؟

- أ-
ب-

134 وضح تأثير التركيب العمري على قوة الدولة في الدول المتقدمة .

- أ-
ب-

135 ما العوامل المؤثرة في التركيب النوعي للدولة ؟

- أ-
ب-

136 ما النتائج المترتبة على تعدد اللغات في الدولة ؟

- أ-
ب-



137) ”يقسم العالم وفقاً للتركيب الديني إلى ثلاث مجموعات” في ضوء ذلك اذكر أنواع الدول وفقاً للتركيب الديني .

أ-

ب-

ج-

138) أجب عما يلي :

(أ) ما النتائج التي يمكن أن تترتب على الاختلافات السلالية والعرقية داخل الدولة ؟

1-

2-

(ب) عدد الدول التي تعاني من سياسة التفرقة العنصرية ؟

1-

2-

139) بم تفسر : يساهم التعليم في بناء قوة الدولة ؟

أ-

ب-

ج-

140) ما الآثار المترتبة على التقدم التكنولوجي للدولة في قوتها السياسية ؟

أ-

ب-

ج-

141) وضح تأثير القوة التنظيمية (الحكومة) في قوة الدولة .

أ-

ب-

ج-

د-

142 ما الأمور المهمة التي تؤثر في قوة الدولة العسكرية ؟

- أ-
- ب-
- ج-
- د-

143 ما المقومات الاقتصادية للدولة ؟

- أ-
- ب-
- ج-
- د-

144 اذكر تصنيف الدول حسب إنتاجها الغذائي ؟

- أ-
- ب-
- ج-

145 بم تفسر : تسعى الحكومات لدعم إنتاجها من الحبوب الغذائية ؟

- أ-
- ب-
- ج-

146 بم تفسر : يؤثر امتلاك الدول لمصادر الطاقة في قوتها السياسية ؟

- أ-
- ب-
- ج-

147 ما الدليل على :

(أ) أصبح البترول عنصراً حيوياً وقت السلم والحرب ؟

- 1-
- 2-

(ب) كلما كانت الصناعة متطورة كلما كانت الدولة قوية اقتصادياً وسياسياً ؟

- 1-



148) ما النتائج المترتبة على وجود شبكة جيدة من طرق النقل والمواصلات في وحدة الدولة وثماسكها ؟

- أ-
- ب-
- ج-
- د-

149) عدد عناصر قوة الدولة .

- أ-
- ب-
- ج-
- د-

150) ما أهداف التكتلات الاقتصادية الدولية ؟

- أ-
- ب-
- ج-
- د-

151) ما أهداف الاتحاد الأوروبي ؟

- أ-
- ب-
- ج-
- د-

152) ما أهمية الاتحاد الأوروبي ؟

- أ-
- ب-

153) ما أهداف مجلس التعاون الخليجي ؟

- أ-
- ب-
- ج-
- د-

154 ما أهمية مجلس التعاون الخليجي ؟

- أ-
ب-

155 قارن بين التخوم والحدود السياسية كما في الجدول التالي.

| التخوم | الحدود السياسية |
|----------|-----------------|
| أ- | أ- |
| ب- | ب- |
| ج- | ج- |
| د- | د- |

156 عدد وظائف الحدود السياسية .

- أ-
ب-
ج-

157 وضح وظيفة الحدود السياسية في الأمن والحماية .

- أ-
ب-

158 وضح وظيفة الحدود السياسية في حماية الإنتاج الاقتصادي .

- أ-
ب-
ج-

159 بم تفسر : تلعب الحدود السياسية دوراً في حماية النظم الاقتصادية وتنظيم التبادل التجاري بين الدول .

- أ-
ب-
ج-

160 ما الوظيفة القانونية للحدود السياسية ؟

- أ-
ب-



161 اذكر أنواع الحدود السياسية حسب التصنيف التكويني (الوظيفي) .

- أ-
 ب-
 ج-

162 اذكر أنواع الحدود السياسية حسب التصنيف المورفولوجي (الشكلي) .

- أ-
 ب-

163 عدد أنواع الحدود الطبيعية .

- أ-
 ب-
 ج-
 د-

164 اذكر أقسام الحدود البشرية .

- أ-
 ب-

165 قارن بين الحدود الطبيعية والبشرية من حيث "المفهوم والأنواع" كما في الجدول التالي.

| وجه المقارنة | الحدود الطبيعية | الحدود البشرية |
|--------------|--|----------------------|
| المفهوم | | |
| الأنواع | أ- ب- ج- د- | أ- ب- |

166 بم تفسر : تعد الحدود الطبيعية من أقوى الحدود التي تفصل بين الدول ؟

- أ-
 ب-

167 بم تفسر : تعد الجبال من أفضل الظواهر الطبيعية لترسيم الحدود ؟

أ-

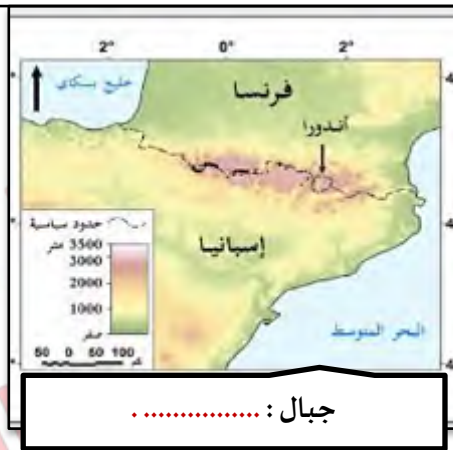
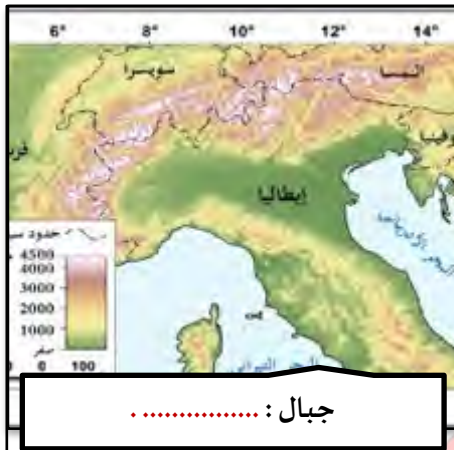
ب-

168 ما أثر التطور التكنولوجي في الحدود الطبيعية ؟

أ-

ب-

169 من خلال الخرائط التالية، اكتب أسماء الجبال التي تُتخذ حدوداً طبيعية بين الدول .



170 اذكر أمثلة للحدود الجبلية .

أ-

ب-

ج-

د-

171 ما عيوب الحدود الجبلية ؟

أ-

ب-

ج-

172) قارن بين إيجابيات وسلبيات الحدود النهرية كما في الجدول التالي.

| سلبيات الحدود النهرية | إيجابيات الحدود النهرية |
|-----------------------|-------------------------|
| أ- | أ- |
| ب- | ب- |
| ج- | ج- |

173) عدد طرق تحديد الحدود النهرية .

- أ-
- ب-
- ج-

174) اكتب طرق تحديد الحدود النهرية التي تشير إليها الخرائط المعروضة أمامك.



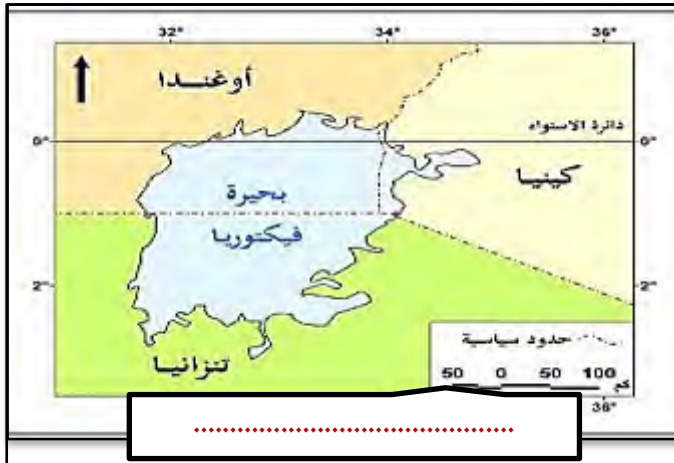
175) بم تفسر : تختلف الحدود في البحيرات عن الأنهار بأن مشكلاتها أقل حدة ؟

- أ-
- ب-

176) عدد طرق (أشكال) تحديد الحدود البحرية .

- أ-
- ب-

177) اكتب شكل الحدود البحرية التي تشير إليها كل خريطة معروضة أمامك.



178) اكتب أسماء المناطق البحرية التي تدل عليها الأرقام الموضحة في الشكل التالي.



- يدل الرقم (1) على نطاق :
- يدل الرقم (2) على نطاق :
- يدل الرقم (3) على نطاق :
- يدل الرقم (4) على نطاق :
- يدل الرقم (5) على نطاق :

179) عدد نطاقات المياه البحرية .

- أ-
- ب-
- ج-
- د-
- هـ-

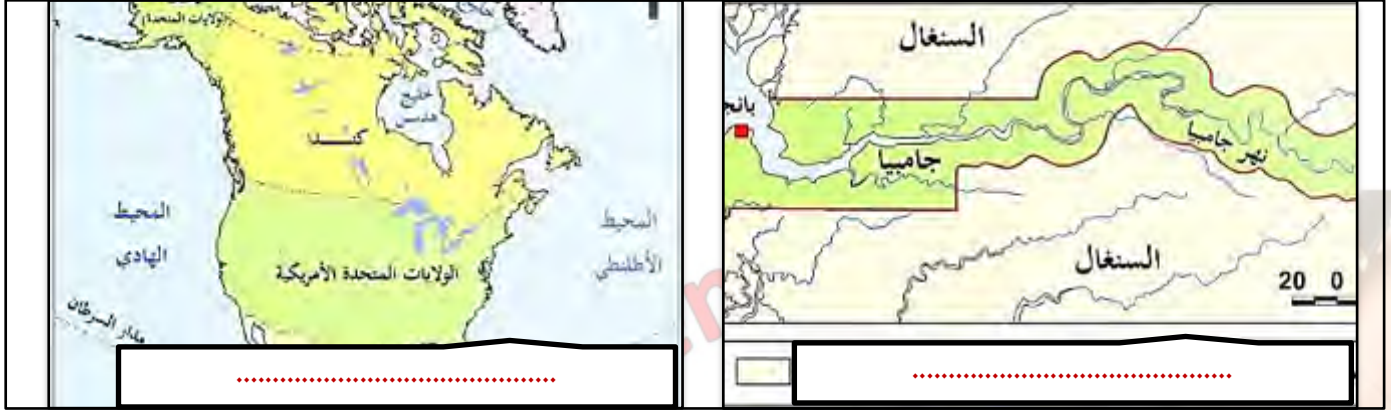
180) ما المشكلات المتعلقة بالحدود البحرية ؟

- أ-
- ب-
- ج-
- د-

181 عدد أشكال الحدود الهندسية "الجيومترية".

- أ-
ب-

182 اكتب شكل الحدود الهندسية التي تشير إليها كل خريطة معروضة أمامك .



183 اذكر اثنتين من الخصائص الحضارية التي استخدمت لترسيم الحدود السياسية الانثوغرافية .

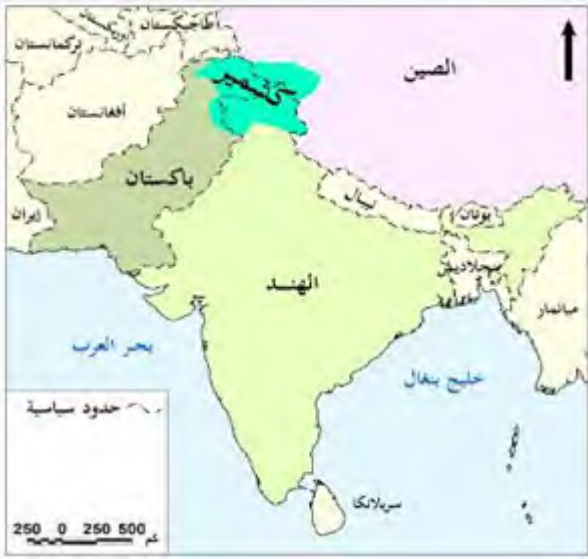
- أ-
ب-

184 ما أسباب مشكلات الحدود السياسية بين الدول ؟

- أ-
ب-
ج-

185 اذكر نماذج لمشكلات الحدود في العالم .

- أ-
ب-



186 من خلال خريطة إقليم كشمير ، أجب عما يلي :

أ- عدد الدول المشتركة في الحدود مع إقليم كشمير .

- 1-
- 2-
- 3-
- 4-

ب- اذكر الدول المتنازعة على إقليم كشمير .

- 1-
- 2-

ج- ما سبب النزاع على إقليم كشمير ؟

- 1-

187 من خلال خريطة جزيرة قبرص ، أجب عما يلي :

أ- اذكر الدول المتنازعة على جزيرة قبرص .

- 1-
- 2-

ب- ما سبب النزاع على جزيرة قبرص ؟

- 1-
- 2-
- 3-



<https://t.me/joinchat/G0syKRnKQltpNgCjWnuAkQ>

<https://chat.whatsapp.com/LASIsHSU6NgLx895jOOiJD>

إعداد /

- Tamer. Fahem
- Hitham. Abu almagd
- Hani. Abdallah



مع أطيح التمنيات بالنجاح والتوفيق