




المعلم عمر حسن إبراهيم عطاالله  
مادة الدراسات الاجتماعية



سنة هجرية سعيدة  
1441

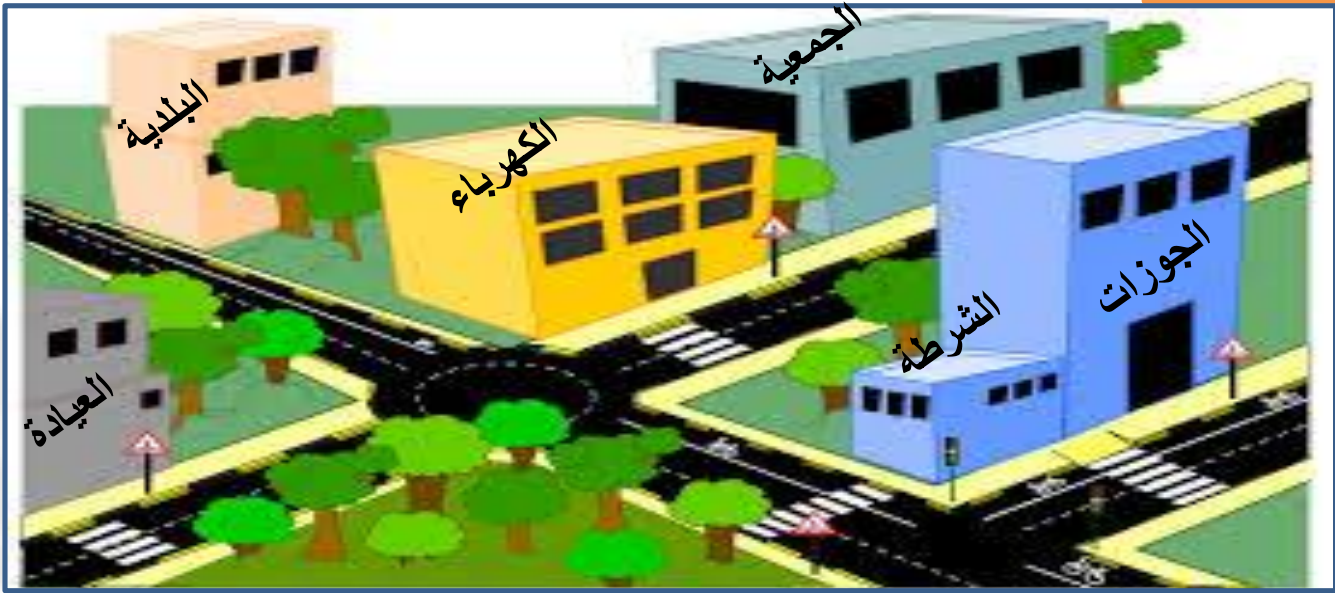


الدراسات الاجتماعية



ALhayer






عزيزي الطالب المجتهد أنت في دوار المدينة وتريد التوجه إلى عدة دوار حكومية وفق هذه الرؤية أجب عن الأسئلة التالية ؟

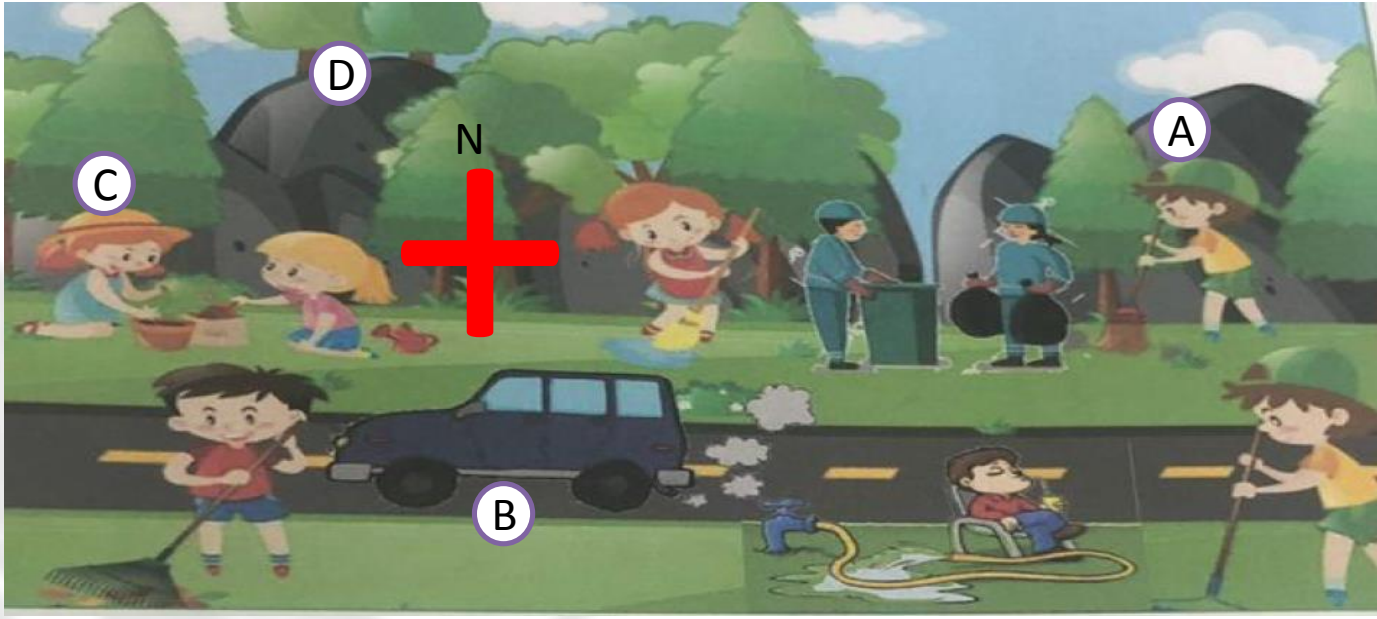
- (1) الجهة التي يقع فيها مركز الشرطة ومبنى الجوازات .....
- (2) الجهة التي يقع فيها مبنى البلدية .....
- (3) مبنى الجامعة يقع بعد مبنى ..... في جهة ..... بالنسبة لمبنى العيادة .
- (4) الحديقة بالنسبة لمبنى العيادة تقع في جهة .....
- (5) ضع دائرة على الإشارة الارشادية التي تقع على الشارع الذي يقع شرق الدوار .....

ما هو أول مبنى يشهد شروق الشمس في الرسم السابق ؟

.....

تقديم	تميز	متواضع	يحتاج التعديل
-------	------	--------	---------------





- الصورة التي تحمل الرمز (A) تقع في جهة ..... ؟  
 الصورة التي تحمل الرمز (D) تقع في جهة ..... ؟  
 الصورة التي تحمل الرمز (C) تقع في جهة ..... ؟  
 الصورة التي تحمل الرمز (B) تقع في جهة ..... ؟

فكر ..... تمنع ..... وازن ..... ثم أجب ؟

السؤال 2

السيارة التي تسير على الشارع تتجه من جهة ..... إلى جهة ..... ؟  
 ما هي القيمة الإيجابية التي تظهر في الصورة ؟ وما هو السلوك السلبي ؟. ضع دائرة  
 مع كتابة القيمة ..... والسلوك السلبي .....

فكر ..... تمنع ..... ثم أرسم الجهات الرئيسية ؟

السؤال 3



تقييم	متميز	متواضع	يحتاج التعديل
-------	-------	--------	---------------

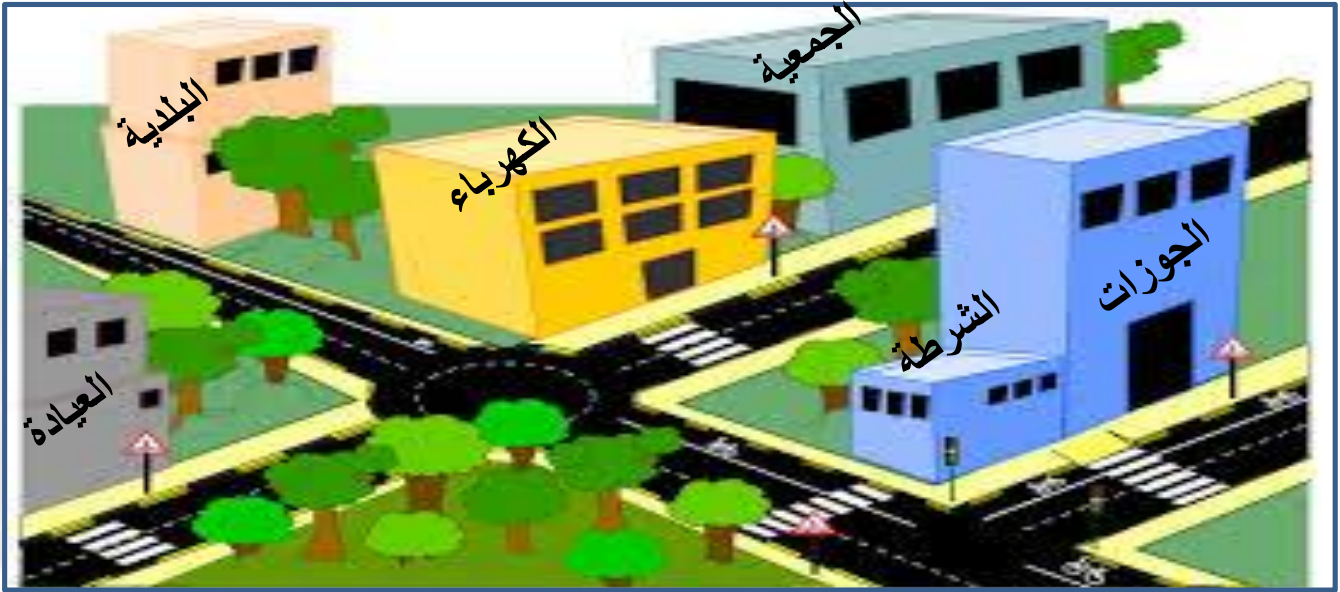
الثالث

الاسم :

Omar atallah







صل بين الصورة والجهة التي تقع فيها ؟

السؤال 1

الشرق

الغرب

الشمال


الجنوب



فكر ..... تمنع ..... ثم أرسم الجهات الرئيسية ؟

السؤال

2



تقييم	متميز	متواضع	يحتاج التعديل
-------	-------	--------	---------------

الثالث

الاسم :

Omar atallah






عزيزي الطالب المجتهد أنت في الممر الذي يفصل السلم عن الصالة وفق هذا الموقع « بعد الاطلاع على الجهات الفرعية حدد ما يلي

- (1) تقع غرفة الأطفال في جهة .....
- (2) المطبخ يقع في جهة .....
- (3) غرفة النوم تقع في جهة .....

حمد طالب في مدرسة الهير في الصف السادس طلب من الأستاذ راشد عمر التوجه إلى غرفة الأستاذ محمد عناتي مدرس صعوبات التعلم، فما هي الجهة الفرعية التي سوف يسلكها ؟ .....

أكمل العبارت الناقصة في النص ( الجهة التي تقع بين الشمال والغرب تعرف بجهة الشمال ..... والجهة بين الجنوب والشرق تعرف بجهة ..... الشرقي )

تقديم	متميز	متواضع	يحتاج التعديل
-------	-------	--------	---------------





- عزيزي الطالب المجتهد من خلال التمعن في الصورة التالية حدد موقع كل من
- (1) الحكم الذي يرتدي الملابس الصفراء .....
  - (2) الحكم الذي يرتدي الزي الأسود .....
  - (3) المدرب يقع في جهة .....

فكر ..... تمعن ..... وازن ..... ثم أجب ؟

أنت طالب تقع في الصف ضمن مجموعتك ماهو اسم المجموعة التي تقع في الشمال الشرقي ؟ .....

فكر ..... تمعن ..... وازن ..... ثم أجب ؟

أكمل العبارات الناقصة في النص ( الجهة التي تقع بين الشمال والغرب تعرف بجهة الشمال ..... والجهة بين الجنوب والشرق تعرف بجهة ..... الشرقي )

تقديم	متميز	متواضع	يحتاج التعديل
-------	-------	--------	---------------

Omar atallah

الاسم : الثالث





- عزيزي الطالب المجتهد من خلال التمعن في الصورة التالية حدد موقع كل من
- (1) الخروف يقع في جهة .....
  - (2) الكرة تقع في جهة الجنوب .....
  - (3) الشجرة تقع في جهة .....

فكر ..... تمعن ..... وازن ..... ثم أجب ؟

كم عدد الجات الأصلية ..... وعدد الجهات الفرعية .....؟

فكر ..... تمعن ..... وازن ..... ثم أجب ؟

أكمل العبارات الناقصة في النص ( الجهة التي تقع بين الشمال والغرب تعرف بجهة الشمال ..... والجهة بين الجنوب والشرق تعرف بجهة ..... الشرقي )

تقييم	متميز	متواضع	يحتاج التعديل
-------	-------	--------	---------------

