

مراجعة للاختبار التكويني الأول

المعلمة / فاطمة سالم الدهماني


الصف: الأول الأساسي

المادة: الرياضيات ج4




1. أشر إلى البطة الأولى . ضع علامة x على البطة رقم 2 و 8 . حوط البطة رقم 10

2. حوط مجموعة مكونة من عشرة .  
اكتب عدد العناصر الإضافية . ثم اكتب العدد .



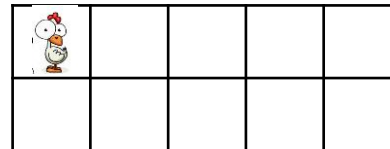

10 و ..... إضافية

.....  
سبعة عشر



10 و ..... إضافية

.....  
ثمانية عشر



10 و ..... إضافية

.....  
إحدى عشر




..... عشرات = .....  
عشرون



..... عشرات = .....  
خمسون



..... عشرات = .....  
ستون



..... عشرات = .....  
ثمانون

4 . عد العشرات مع كتابة الأعداد . فكم مقدارها إجمالاً ؟

1.



\_\_\_\_\_ فلساً \_\_\_\_\_ فلساً \_\_\_\_\_ فلساً \_\_\_\_\_ فلساً = \_\_\_\_\_  
فلساً إجمالاً

2.



\_\_\_\_\_ فلساً \_\_\_\_\_ فلساً \_\_\_\_\_ فلساً \_\_\_\_\_ فلساً \_\_\_\_\_ فلساً \_\_\_\_\_ فلساً = \_\_\_\_\_  
فلساً إجمالاً

3.



\_\_\_\_\_ فلساً \_\_\_\_\_ فلساً \_\_\_\_\_ فلساً \_\_\_\_\_ فلساً \_\_\_\_\_ فلساً = \_\_\_\_\_  
فلساً إجمالاً

4.



\_\_\_\_\_ فلساً \_\_\_\_\_ فلساً \_\_\_\_\_ فلساً \_\_\_\_\_ فلساً \_\_\_\_\_ فلساً



\_\_\_\_\_ فلساً \_\_\_\_\_ فلساً \_\_\_\_\_ فلساً = \_\_\_\_\_  
فلساً إجمالاً

## 5. حل المسائل

1 . مع راشد 9 قطع نقدية من 10 فلوس في محفظته . فكم فلسا لديه إجمالاً ؟

90 فلسا ☐

19 فلسا ☐

10 فلسا ☐

9 فلسا ☐

---

2. يوجد 5 مزهريات تحتوي كل مزهرية على 10 زهرات بداخلها . فما عدد الزهرات الموجودة إجمالاً ؟

51 زهرة ☐

15 زهرة ☐

05 زهرة ☐

50 زهرة ☐

---

3. مع عليا 8 علب من الألوان ، في كل علبة 10. ألوان فكم عدد الألوان مع عليا إجمالاً؟

800 لون ☐

80 لونا ☐

18 لونا ☐

8ألوان ☐

4. لدى مريم عدد من القمصان الملونة ، فليها 10 قمصان و 7 إضافية .  
فما عدد القمصان التي لديها إجمالاً ؟


○ 17 قميصاً

○ 7 قمصان

○ 71 قميصاً

○ 70 قميصاً

5. لدى حامد السيارات الموضحة . حوط حول مجموعة من عشر سيارات .  
اكتب عدد السيارات الإضافية . فما عدد السيارات التي يمتلكها حامد إجمالاً ؟



10 و ..... إضافية ..... سيارة

6. في محفظة عمر 70 فلساً بقطع من فئة 10 فلسات .  
ارسم دائرة حول عدد العملات المعدنية التي يمتلكها



7. أعطت ريما لصديقتها مهرة 100 فلساً . بقطع من فئة 10 فلسات .  
ارسم دائرة حول عدد العملات المعدنية التي أعطتها ريما لمهرة .

