



أوراق العمل والواجبات والتطبيقات طادة العلوم

الصف الأول

نهاية الفصل الدراسي الأول

2020-2019

الاسم: _____

الصف: الأول (.....)

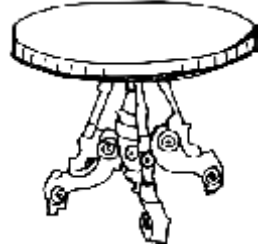


رؤيتنا: إعداد جيل منتم لدينه ووطنه متسلح بالعلم والقيم في بيئة آمنة ومحفزة

ورقة عمل (1)

الاسم: رقم الكشف: (.....) الصف: الأول/..... التاريخ: (.....) سبتمبر 2019

1- ضع دائرة ○ حول الكائن الحي، و △ حول الكائن غير حي:-



2- اختر الإجابة الصحيحة مما يلي:-

لماذا يحتاج الكائن الحي الموجود بالصورة للهواء؟



A- لياكل
B- ليتنفس
C- ليشرب

3- قارن بين الأشياء التالية حسب الجدول بوضع علامة (√) أو (X)

العصفور	الكتاب	
.....	يتنفس
.....	يتحرك

توقيع ولي الأمر	ملاحظات المعلم	10

رسالتنا: تعمل مدرستنا على تنشئة جيل مدرك لهويته متسلح بالعلم والقيم وفق منظومة تعليمية تربوية متخصصة باستخدام وسائل التكنولوجيا الحديثة مع مشاركة مجتمعية طموحة في بيئة آمنة ومحفزة لتحقيق رؤية قطر 2030



رؤيتنا: إعداد جيل منتم لدينه ووطنه متسلح بالعلم والقيم في بيئة آمنة ومحفزة

واجب منزلي (1)

الاسم: رقم الكشف: (.....) الصف: الأول/..... التاريخ: (.....) سبتمبر 2019

1- صل بين الصورة والتعبير المناسب لها:-



كائن لا ينمو ولا يتكاثر

تصرف مهم للكائن الحي لكي يحصل على الطاقة

2- أكمل الجملة التالية:-

من خصائص الكائن الحي أنه و

و

3- قارن بين الأشياء التالية حسب الجدول بوضع علامة (✓) أو (X)

العصفور	الكتاب	
-----	-----	كائن حي
-----	-----	يتنفس
-----	-----	يتحرك

توقيع ولي الأمر	ملاحظات المعلم	10




رؤيتنا: إعداد جيل منتم لدينه ووطنه متسلح بالعلم والقيم في بيئة آمنة ومحفزة

تطبيق (1)

الاسم: رقم الكشف: (.....) الصف: الأول/..... التاريخ: (.....) سبتمبر 2019

ضع دائرة ☐ حول الكائن الحي (4 درجات)



صل بين الكائن الحي والحالة التي يقوم بها: (6 درجات)

كائن حي يأكل

كائن حي يتحرك

كائن حي يتنفس



توقيع ولي الأمر	ملاحظات المعلم	10

رسالتنا: تعمل مدرستنا على تنشئة جيل مدرك لهويته متسلح بالعلم والقيم وفق منظومة تعليمية تربوية متخصصة باستخدام وسائل التكنولوجيا الحديثة مع مشاركة مجتمعية طموحة في بيئة آمنة ومحفزة لتحقيق رؤية قطر 2030




رؤيتنا: إعداد جيل منتمٍ لدينه ووطنه متسلح بالعلم والقيم في بيئة آمنة ومحفزة

ورقة عمل (2)

الاسم: رقم الكشف: الصف: الأول/ التاريخ: (.....) سبتمبر 2019

1- رتب مراحل نمو الإنسان التالية تصاعدياً بوضع الأرقام (1 - 2 - 3 - 4): ★★



2- صل بين كل كائن وطريقة التكاثر الخاصة به ★


ينمو داخل جسم أمه

ينمو داخل البيضة

ينمو من البذرة



3- استنتج بوضع علامة (✓) داخل ○ على صورة الكائن الأكثر نمواً فيما يلي: -★★★



توقيع ولي الأمر	ملاحظات المعلم	10



رؤيتنا: إعداد جيل منتمٍ لدينه ووطنه متسلح بالعلم والقيم في بيئة آمنة ومحفزة

تطبيق (2)


الاسم: رقم الكشف: الصف: الأول/ التاريخ: (.....) سبتمبر 2019

1- صل بين كل كائن وطريقة التكاثر الخاصة به: - (6 درجات) ★

ينمو داخل جسم أمه


ينمو داخل البيضة

ينمو من البذرة



2- اختر الإجابة الصحيحة مما يلي: - (درجتان) ★★

- من التالي، من هو الإنسان الأكثر نموًا؟



A - (أ)

B - (ب)

C - (ج)

3- جميع الكائنات الحية تنمو داخل البيضة ثم تخرج منها وتنمو ما عدا نوعين من الكائنات الحية، اذكر أحدهما. ★★

درجتان

10	ملاحظات المعلم	توقيع ولي الأمر




رؤيتنا: إعداد جيل منتم لدينه ووطنه متسلح بالعلم والقيم في بيئة آمنة ومحفزة

ورقة عمل (3)

الاسم: رقم الكشف: الصف: الأول/..... التاريخ: (.....) سبتمبر 2019

1- ضع دائرة ○ حول الأشياء غير حية: -★



2- قارن بين الأشياء التالية حسب الجدول بوضع علامة (✓) أو (X) ★★★

السمكة	الباب	العصفور	الكتاب	
-----	-----	-----	-----	كائن حي
-----	-----	-----	-----	يتنفس
-----	-----	-----	-----	يتحرك
-----	-----	-----	-----	يأكل

3- اعطِ دليلاً واحداً على أن الشجرة كائن حي. ★★

10	ملاحظات المعلم	توقيع ولي الأمر

رسالتنا: تعمل مدرستنا على تنشئة جيل مدرك لهويته متسلح بالعلم والقيم وفق منظومة تعليمية تربوية متخصصة باستخدام وسائل التكنولوجيا الحديثة مع مشاركة مجتمعية طموحة في بيئة آمنة ومحفزة لتحقيق رؤية قطر 2030




رؤيتنا: إعداد جيل منتم لدينه ووطنه متسلح بالعلم والقيم في بيئة آمنة ومحفزة

واجب منزلي (2)


الاسم: رقم الكشف: الصف: الأول/ التاريخ: (.....) سبتمبر 2019

1- ضع دائرة ○ حول الأشياء غير حية: - ★



2- اختر الإجابة الصحيحة مما يلي: - ★★

- أي من التالي كائن يستطيع أن يتكاثر ويتنفس؟



(أ) -D
(ب) -E
(ج) -F

3- ضع علامة (✓) أمام العبارة الصحيحة، وعلامة (X) أمام العبارة الخاطئة: - ★

1- صغير الجمل ينمو داخل جسم أمه ثم يولد ويستكمل نموه. (-----)

2- تتنفس الكائنات الحية والنباتات بنفس الطريقة. (-----)

10	ملاحظات المعلم	توقيع ولي الأمر



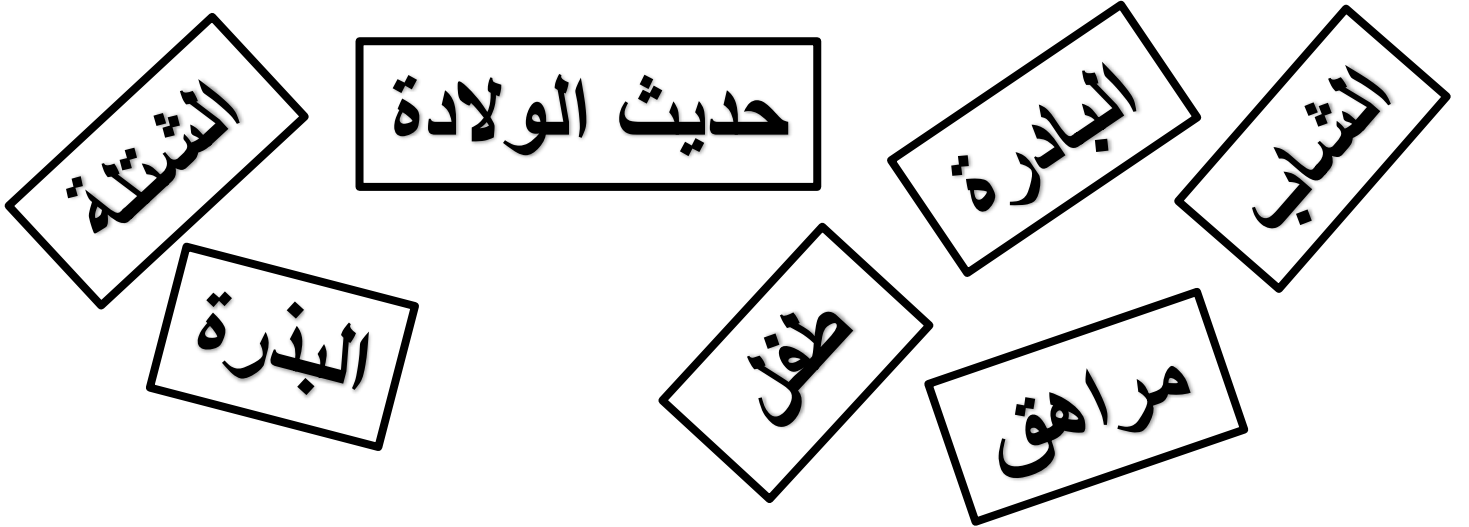
ورقة عمل (4)

الاسم: رقم الكشف: الصف: الأول/..... التاريخ: (.....) سبتمبر 2019

ضع علامة (✓) أمام العبارة الصحيحة، وعلامة (X) أمام العبارة الخاطئة: -★

- 1- كل الكائنات الحية تمر في حياتها بمراحل تختلف فيها في الشكل والحجم وتُسمى دورة الحياة (-----)
- 2- تبدأ دورة حياة النبات بالبادرة وتتكون من 3 مراحل فقط. (-----)
- 3- تبدأ دورة حياة الإنسان بطفل حديث الولادة وتنتهي بالإنسان البالغ. (-----)
- 4- المرحلة الثالثة من دورة حياة الإنسان هي الشاب. (-----)
- 5- المرحلة الثالثة من دورة حياة النبات هي الشتلة. (-----)

2- صنف مراحل دورات الحياة التالية بحيث تكون مراحل نمو الإنسان باللون الأحمر، ومراحل نمو النبات باللون الأخضر ★★



3- استنتج المرحلة التي تتشابه فيها دورة حياة الإنسان مع النبات. ★★★

10	ملاحظات المعلم	توقيع ولي الأمر



رؤيتنا: إعداد جيل منتمٍ لدينه ووطنه متسلح بالعلم والقيم في بيئة آمنة ومحفزة

واجب منزلي (3)

الاسم: رقم الكشف: الصف: الأول/ التاريخ: (.....) سبتمبر 2019

1- رتب مراحل دورة حياة الإنسان تصاعدياً حسب النمو: ★★

حديث الولادة	الشباب	الطفل	الإنسان البالغ	المراهق
(-----)	(-----)	(-----)	(-----)	(-----)

2- ضع علامة (√) أمام العبارة الصحيحة، وعلامة (X) أمام العبارة الخاطئة: ★

- 1- النبات والإنسان لهم نفس العدد من مراحل الحياة. (-----)
- 2- أول مرحلة في دورة حياة القطة هي نفسها المرحلة الأولى في دورة حياة السمكة. (-----)
- 3- البادرة تكون أكثر نمواً من الشتلة في دورة حياة النبات. (-----)
- 4- المرحلة الأخيرة في دورة حياة النبات هي النبات البالغ. (-----)
- 5- المرحلة الثانية من دورة حياة النبات هي البادرة. (-----)

توقيع ولي الأمر	ملاحظات المعلم	10



تطبيق (3)

الاسم: رقم الكشف: الصف: الأول/..... التاريخ: (.....) سبتمبر 2019

1- اختر الإجابة الصحيحة مما يلي: - (6 درجات) ★

(أ) ما هي أول مراحل دورة حياة النبات؟

(C) مُراهق

(B) بيضة

(A) بذرة

(ب) كم عدد مراحل دورة حياة القطة؟

(C) 5

(B) 3

(A) 2

(ت) ما هي المرحلة التي تتشابه بين دورة حياة كلاً من العصفور والقرود؟

(C) البالغ

(B) الشاب

(A) الفرخ

2- صل بين الصورة والتعبير المناسب لها: - (4 درجات) ★★



كائن حي تعتبر الشرنقة
مرحلة من مراحل حياته

كائن حي يعتبر المراهق
مرحلة من مراحل حياته

10	ملاحظات المعلم	توقيع ولي الأمر



رؤيتنا: إعداد جيل منتمٍ لدينه ووطنه متسلح بالعلم والقيم في بيئة آمنة ومحفزة



ورقة عمل (5)

الاسم: رقم الكشف: الصف: الأول/..... التاريخ: (.....) سبتمبر 2019

1- ضع علامة (✓) أمام العبارة الصحيحة، وعلامة (X) أمام العبارة الخاطئة: -★

- 1- أول مرحلة في دورة حياة القطة هي البيضة وبعدها تنمو القطة وتصبح بالغة. (-----)
- 2- دورة حياة أي طائر تتكون من 4 مراحل من أهمها مرحلة الفرخ. (-----)
- 3- دورة حياة السمكة تتكون من 4 مراحل وتبدأ بمرحلة السمكة حديثة الولادة. (-----)
- 4- تعتبر اليرقة والشرنقة من جزء من دورة حياة الفراشات. (-----)
- 5- المرحلة الثانية من دورة حياة الصقر هي اليرقة وبعدها مرحلة الصقر الصغير. (-----)

2- صل بين صورة الكائن الحي ومرحلة الحياة التي تعتبر جزء من دورة حياته: -★



حديث الولادة

فرخ

سمكة بالغة

شرنقة

3- إذا جمعنا دورة حياة الفراشة مع دور حياة الدجاجة، كم يكون عدد مراحل الحياة؟ ★★

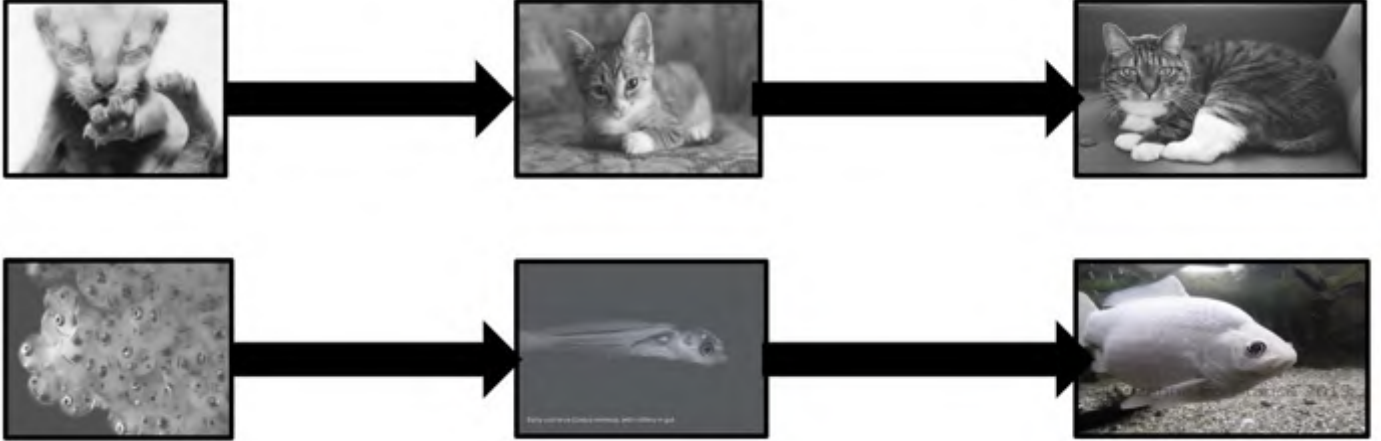
10	ملاحظات المعلم	توقيع ولي الأمر



ورقة عمل (6)

الاسم: رقم الكشف: الصف: الأول/..... التاريخ: (.....) سبتمبر 2019

A- أمامك صورة بها دورة حياة القطة، أجب عن ما يأتي: -★



1- ضع علامة (✓) على المراحل المتشابهة، وعلامة (X) على المراحل المختلفة.

2- كم يكون مجموع دورتي حياة السمكة والقطة؟

B- ضع علامة (✓) أمام العبارة الصحيحة، وعلامة (X) أمام العبارة الخاطئة:-

- 1- تتشابه دورة حياة الفراشة مع دورة حياة الدجاجة في عدد المراحل ولكل منها 4 مراحل. ★ (-----)
- 2- المرحلة الأولى في دورة حياة البطة هي نفسها المرحلة الأولى في دورة حياة الفراشة. ★★ (-----)
- 3- جميع دورات الحياة لكل الكائنات الحية تتشابه في المرحلة الأخيرة وهي مرحلة البالغ. ★★ (-----)
- 4- المرحلة الثانية في دورة حياة الببغاء هي نفسها المرحلة الثانية في دورة حياة الفراشة. ★★ (-----)
- 5- تختلف دورة حياة العصفور عن دورة حياة الفراشة في المرحلة الأولى من دورة الحياة. ★★ (-----)

10	ملاحظات المعلم	توقيع ولي الأمر



رؤيتنا: إعداد جيل منتم لدينه ووطنه متسلح بالعلم والقيم في بيئة آمنة ومحفزة

واجب منزلي (4)

الاسم: رقم الكشف: الصف: الأول/..... التاريخ: (.....) سبتمبر 2019

A- أمامك صورتين أحدهما لدورة حياة الدجاجة والأخرى لدورة حياة الفراشة، أجب عما يأتي: - ★



1- استنتج تشابه واحدًا فقط بين دورتي الحياة.

2- كم يكون مجموع دورتي حياة الدجاجة والفراشة؟

B- ضع علامة (✓) أمام العبارة الصحيحة، وعلامة (X) أمام العبارة الخاطئة:-

- 1- تتشابه دورة حياة السمكة مع دورة حياة القطة في عدد المراحل ولكل منها 3 مراحل. ★ (-----)
- 2- المرحلة الأولى في دورة حياة الكلب هي نفسها المرحلة الأولى في دورة حياة السمكة. ★★ (-----)
- 3- جميع دورات الحياة لكل الكائنات الحية تتشابه في المرحلة الأخيرة وهي مرحلة البالغ. ★★ (-----)

10	ملاحظات المعلم	توقيع ولي الأمر

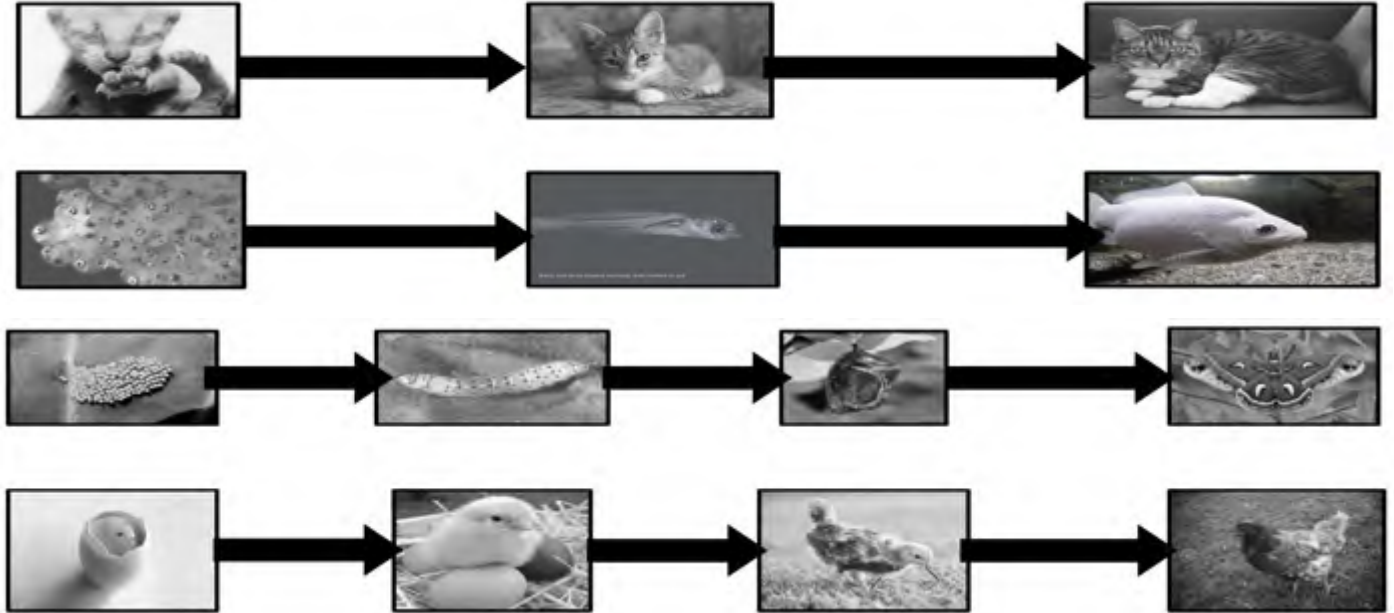


رؤيتنا: إعداد جيل منتم لدينه ووطنه متسلح بالعلم والقيم في بيئة آمنة ومحفزة

تطبيق (4)

الاسم: رقم الكشف: الصف: الأول/..... التاريخ: (.....) سبتمبر 2019

A- أمامك صور لدورات الحياة المختلفة انظر لها ثم أجب عن ما يلي: (4 درجات) ★



الدجاجة	الفراشة	السمة	القطة	
-----	-----	-----	-----	عدد المراحل

ضع دائرة حول الإجابة الصحيحة مما يلي: (6 درجات) ★★

- 1- التشابه بين دورة حياة الفراشة والدجاجة مرحلة (البيضة - الفرخ)
- 2- الاختلاف بين دورة حياة القطة والسمة (حديث الولادة - البالغ)
- 3- التشابه بين دورة حياة القطة والفراشة (الشرنقة - البالغ)

توقيع ولي الأمر	ملاحظات المعلم	10




رؤيتنا: إعداد جيل منتم لدينه ووطنه متسلح بالعلم والقيم في بيئة آمنة ومحفزة

ورقة عمل (7) - العلوم

الاسم: رقم الكشف: الصف: الأول/..... التاريخ: (.....) أكتوبر 2019


1- ضع دائرة حول الأشياء التي تتحرك، وعلامة (✓) على الأشياء الساكنة التي لا تتحرك: - ★



2- ضع علامة (✓) حول الجسم الذي عندما ينتقل من مكان لآخر يأخذ وقت أقل: - ★ ★



3- صل بين الشيء الذي يتحرك ونوع الحركة التي يقوم بها: - ★



يجري

يزحف

يطير

يحبو

10	ملاحظات المعلم	توقيع ولي الأمر

رسالتنا: تعمل مدرستنا على تنشئة جيل مدرك لهويته متسلح بالعلم والقيم وفق منظومة تعليمية تربوية متخصصة باستخدام وسائل التكنولوجيا الحديثة مع مشاركة مجتمعية طموحة في بيئة آمنة ومحفزة لتحقيق رؤية قطر 2030



رؤيتنا: إعداد جيل منتمٍ لدينه ووطنه متسلح بالعلم والقيم في بيئة آمنة ومحفزة

واجب منزلي (5) - العلوم

الاسم: رقم الكشف: الصف: الأول/..... التاريخ: (.....) أكتوبر 2019

1- صنف الأشياء التالية حسب الجدول التالي:- ★★

(بطة - قلم - منزل - طفل - صاروخ - طاولة)

ساكن	متحرك
.....
.....
.....

2- اختر الإجابة الصحيحة مما يلي:-

أ- من التالي، من هو الذي لا يستطيع أن يتحرك من تلقاء نفسه؟



A - (أ)
B - (ب)
C - (ج)

ب- ما نوع الحركة التي يقوم بها الإنسان في الصورة الموجودة؟



A - يقفز
B - يسبح
C - يجري

10	ملاحظات المعلم	توقيع ولي الأمر



رؤيتنا: إعداد جيل منتمٍ لدينه ووطنه متسلح بالعلم والقيم في بيئة آمنة ومحفزة

ورقة عمل (8) - العلوم

الاسم: رقم الكشف: الصف: الأول/..... التاريخ: (.....) نوفمبر 2019


1- ضع دائرة حول الأشياء التي تتحرك من تلقاء نفسها، وعلامة (✓) على الأشياء التي لا تتحرك من تلقاء نفسها:-



2- صنف الأشياء التالية حسب الجدول التالي (الدولفين - الغواصة):- ★★

لا تتحرك من تلقاء نفسها	تتحرك من تلقاء نفسها
.....

3- صل بخط بين الأشياء التي تتحرك بنفس الطريقة:- ★★



توقيع ولي الأمر	ملاحظات المعلم	10
.....

رسالتنا: تعمل مدرستنا على تنشئة جيل مدرك لهويته متسلح بالعلم والقيم وفق منظومة تعليمية تربوية متخصصة باستخدام وسائل التكنولوجيا الحديثة مع مشاركة مجتمعية طموحة في بيئة آمنة ومحفزة لتحقيق رؤية قطر 2030



رؤيتنا: إعداد جيل منتمٍ لدينه ووطنه متسلح بالعلم والقيم في بيئة آمنة ومحفزة

واجب منزلي (6) - العلوم

الاسم: رقم الكشف: الصف: الأول/..... التاريخ: (.....) نوفمبر 2019

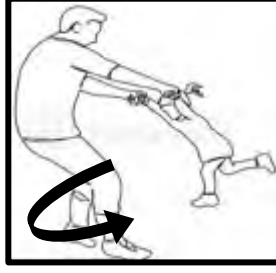
1- ضع علامة (✓) أمام العبارة الصحيحة، وعلامة (X) أمام العبارة الخاطئة:-

- 1- الطائرة تتحرك بسرعة أكبر من السيارة. (-----)
- 2- البالون الطائر يحتاج لمحرك يعمل بالوقود لكي يطير. (-----)
- 3- السيارة تحتاج لمساعدة كي تتحرك على الطريق. (-----)
- 4- الصقر والفراشة والنحلة يتحركون بطريقة مختلفة تمامًا. (-----)

2- صنف الأشياء التالية حسب الجدول التالي (الدولفين - الغواصة):- ★★

لا تتحرك من تلقاء نفسها	تتحرك من تلقاء نفسها
-----	-----

3- صل بين الحركة التي يقوم بها الإنسان والصورة التي تعبر عنها:- ★



يدور

يقفز

يمشي

يركض

توقيع ولي الأمر	ملاحظات المعلم	10



رؤيتنا: إعداد جيل منتم لدينه ووطنه متسلح بالعلم والقيم في بيئة آمنة ومحفزة


تطبيق (5) - العلوم

الاسم: رقم الكشف: الصف: الأول/..... التاريخ: (.....) نوفمبر 2019

1- ضع دائرة حول الأشياء التي تحتاج للمساعدة كي تتحرك: - ★ (4 درجات)



2- صنف الأشياء التالية حسب الجدول التالي: - ★★ (4 درجات)



لا تتحرك بمحرك		تتحرك بمحرك	
_____	_____	_____	_____

3- صل بين الصورة والجملة التي تعبر عنها: -



يحتاج للوقود لكي يتحرك

جسم يتحرك من تلقاء نفسه دون مساعدة

توقيع ولي الأمر	ملاحظات المعلم	10
_____	_____	_____

رسالتنا: تعمل مدرستنا على تنشئة جيل مدرك لهويته متسلح بالعلم والقيم وفق منظومة تعليمية تربوية متخصصة باستخدام وسائل التكنولوجيا الحديثة مع مشاركة مجتمعية طموحة في بيئة آمنة ومحفزة لتحقيق رؤية قطر 2030

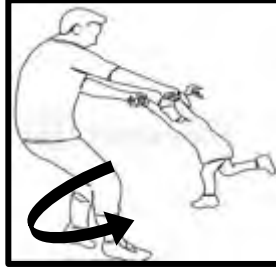


رؤيتنا: إعداد جيل منتمٍ لدينه ووطنه متسلح بالعلم والقيم في بيئة آمنة ومحفزة

ورقة عمل (9) - العلوم

الاسم: رقم الكشف: الصف: الأول/ التاريخ: (.....) نوفمبر 2019

1- صل بين الحركة التي يقوم بها الإنسان والصورة التي تعبر عنها: ★



يدور

يقفز

يمشي

يركض

2- انظر للجدول التالي ثم أجب عن الأسئلة التي تليه: ★ ★

الحركة	العدد
	2
	3
	5
	7

1- ما هي أكثر حركة يقوم بها الشخص الموجود بالصورة؟ (.....)	
2- كم عدد الأشخاص الذين يقفزون؟ (.....)	
3- بكم يزيد عدد الذين يمشون عن الذين يجرون؟ (.....)	

10	ملاحظات المعلم	توقيع ولي الأمر

رسالتنا: تعمل مدرستنا على تنشئة جيل مدرك لهويته متسلح بالعلم والقيم وفق منظومة تعليمية تربوية متخصصة باستخدام وسائل التكنولوجيا الحديثة مع مشاركة مجتمعية طموحة في بيئة آمنة ومحفزة لتحقيق رؤية قطر 2030



رؤيتنا: إعداد جيل منتم لدينه ووطنه متسلح بالعلم والقيم في بيئة آمنة ومحفزة

ورقة عمل (10) - العلوم

الاسم: رقم الكشف: الصف: الأول/..... التاريخ: (.....) نوفمبر 2019

1- ضع دائرة حول الأشياء التي تحتاج للمساعدة كي تتحرك: ★



2- صنف الأشياء التالية حسب الجدول التالي: ★★



تتحرك بمحرك		لا تتحرك بمحرك		
-----	-----	-----	-----	-----

3- سيارة ليكزس وكرة تحتاجان للمساعدة كي تتحركا، قارن بينهما حسب طريقة الحركة مستخدماً الأرقام الموجودة:-

★★★

تتحرك بالوقود (1)

تتحرك بدفع الرجل (2)

تتحرك بدفع الماء (3)

-----	-----	طريقة الحركة

10	ملاحظات المعلم	توقيع ولي الأمر

رسالتنا: تعمل مدرستنا على تنشئة جيل مدرك لهويته متسلح بالعلم والقيم وفق منظومة تعليمية تربوية متخصصة باستخدام وسائل التكنولوجيا الحديثة مع مشاركة مجتمعية طموحة في بيئة آمنة ومحفزة لتحقيق رؤية قطر 2030



رؤيتنا: إعداد جيل منتمٍ لدينه ووطنه متسلح بالعلم والقيم في بيئة آمنة ومحفزة

ورقة عمل (11) - العلوم

الاسم: رقم الكشف: الصف: الأول/..... التاريخ: (.....) نوفمبر 2019

1- صل بين شكل الحركة والتعبير المناسب لها: ★

متعرج

مستقيم

منحن




2- ضع دائرة على الوصف الصحيح لكل صورة: ★



يتدحرج

ينزلق



يتحرك للخلف

يتحرك للأمام

3- كان حمد يصور الطريق بطائرته الدرون ولاحظ سيارة تتحرك في طريق كما هو موجود بالصورة المقابلة، استنتج شكل الطريق الذي تسير فيه السيارة. ★ ★ ★



أ- (.....)

ب- هل تتحرك هذه السيارة للأمام أم الخلف؟

(.....)

10	ملاحظات المعلم	توقيع ولي الأمر

رسالتنا: تعمل مدرستنا على تنشئة جيل مدرك لهويته متسلح بالعلم والقيم وفق منظومة تعليمية تربوية متخصصة باستخدام وسائل التكنولوجيا الحديثة مع مشاركة مجتمعية طموحة في بيئة آمنة ومحفزة لتحقيق رؤية قطر 2030



رؤيتنا: إعداد جيلٍ منتمٍ لدينه ووطنه متسلحٍ بالعلم والقيم في بيئةٍ آمنةٍ ومحفزةٍ

تطبيق (6) - العلوم

الاسم: رقم الكشف: الصف: الأول/..... التاريخ: (.....) نوفمبر 2019

2- صل بين شكل الحركة والتعبير المناسب لها: ★ (4 درجات)

متعرج

مستقيم



2- ضع دائرة حول الإجابة الصحيحة مما يلي: (6 درجات)



أ- الصورة الموجودة تحذرننا من: ★★★

ت- الارتفاع

ب- الدحرجة

أ- الانزلاق




ب- كيف نصف شكل الطريق الموجود بالصورة؟ ★★

ت- متعرج

ب- مستقيم

أ- منحنى



ت- كيف تتحرك السيارة الموجودة أمامك؟ ★

ت- للخلف

ب- للأسفل

أ- للأمام


10	ملاحظات المعلم	توقيع ولي الأمر



ورقة عمل (12) - العلوم

الاسم: رقم الكشف: الصف: الأول/..... التاريخ: (.....) نوفمبر 2019

1- صل بين الشيء والمادة المصنوع منها: ★



زجاج

طين

خشب

قماش

2- اختر الإجابة الصحيحة مما بين القوسين بوضع دائرة حول الاختيار الصحيح: ★

- أ- ماهي المادة التي تصنع منها الكتب والدفاتر؟ (الورق - الزجاج)
- ب- ما هي المادة التي تصنع منها إطارات السيارات؟ (الخشب - المطاط)
- ت- ما هي المادة التي تصنع منها المكعبات التي نلعب بها؟ (البلاستيك - القماش)
- ث- ما هي المادة التي تصنع منها الأشياء القوية مثل السيارات؟ (الإسفنج - المعدن)
- ج- ما هي المادة التي تصنع منها البالون الذي نقوم بملئه بالهواء؟ (المطاط - البلاستيك)

3- استنتج المادة التي تصنع منها أكواب المياه وتكون شفافة وسهلة الكسر. ★ ★ ★

10	ملاحظات المعلم	توقيع ولي الأمر



رؤيتنا: إعداد جيل منتمٍ لدينه ووطنه متسلح بالعلم والقيم في بيئة آمنة ومحفزة

واجب منزلي (7) - العلوم

الاسم: رقم الكشف: الصف: الأول/..... التاريخ: (.....) نوفمبر 2019

1- صل بين الشيء والمادة المصنوع منها: ★



معدن

مطاط

الورق

قماش

2- أكمل الجمل التالية مستخدماً الكلمات بين القوسين (المطاط - المعدن - البلاستيك - المطاط - القماش) ★

- أ-المادة التي تصنع منها الملابس والثياب.....
- ب-المادة التي تصنع منها إطارات السيارات.....
- ت-المادة التي تصنع منها المكعبات التي نلعب بها.....
- ث-المادة التي تصنع منها الأشياء القوية مثل المطرقة.....
- ج-المادة التي تصنع منها البالون الذي نقوم بملئه بالهواء.....

3- استنتج المادة التي تصنع منها أكواب المياه وتكون شفافة وسهلة الكسر. ★ ★ ★

10	ملاحظات المعلم	توقيع ولي الأمر

رسالتنا: تعمل مدرستنا على تنشئة جيل مدرك لهويته متسلح بالعلم والقيم وفق منظومة تعليمية تربوية متخصصة باستخدام وسائل التكنولوجيا الحديثة مع مشاركة مجتمعية طموحة في بيئة آمنة ومحفزة لتحقيق رؤية قطر 2030

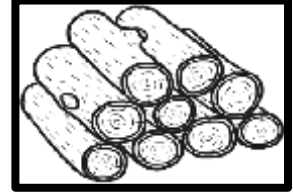


رؤيتنا: إعداد جيل منتمٍ لدينه ووطنه متسلح بالعلم والقيم في بيئة آمنة ومحفزة

تطبيق (7) - العلوم

الاسم: رقم الكشف: الصف: الأول/ التاريخ: (.....) نوفمبر 2019

1- صل بين الصورة والجملة التي تعبر عنها: ★ (4 درجات)



مادة قاسية تستخدم في عدة صناعات مختلفة

المادة التي تصنع منها الكتب

2- ضع علامة (✓) أمام العبارة الصحيحة، وعلامة (X) أمام العبارة الخاطئة: ★ (5 درجات)

- 1- يمكن التفريق بين المادة الخشنة والناعمة عن طريق حاسة اللمس. (-----)
- 2- خرطوم المياه يكون مصنوع من مادة قاسية لا تنحني بسهولة. (-----)
- 3- الكرسي والطاولة والقلم الرصاص مصنوعون من الورق. (-----)
- 4- المكعبات التي نلعب بها تكون مصنوعة من البلاستيك. (-----)
- 5- الدفتر والكتاب مصنوعان من الحديد والبلاستيك. (-----)

3- استنتج المادة التي تصنع منها أكواب المياه وتكون شفافة وسهلة الكسر. ★ ★ ★ (درجة واحدة)

10	ملاحظات المعلم	توقيع ولي الأمر



رؤيتنا: إعداد جيل منتمٍ لدينه ووطنه متسلح بالعلم والقيم في بيئة آمنة ومحفزة

واجب منزلي (8) - العلوم

الاسم: رقم الكشف: الصف: الأول/..... التاريخ: (.....) نوفمبر 2019

1- ضع دائرة حول الإجابة الصحيحة مما يلي:-

(أ) صفة المادة التي تُصنع منها ملابسنا والتي تجعلها مناسبة لنا كي نرتديها:- ★	(لينة - خشنة)
(ب) يكون ملمس الإسفنج:- ★	(لين - خشن)
(ت) من أهم صفات الزجاج:- ★	(قاسي - مرن)
(ث) نستخدم الحديد في صناعة السيارات وبناء المنازل لأنه:- ★	(قاسي - مرن)
(ج) الفرق بين الطابوق الذي نبني به الجدار والسيراميك الموجود بالأرضية:- ★	(قاسي - خشن)

2- ضع علامة (✓) أمام العبارة الصحيحة، وعلامة (X) أمام العبارة الخاطئة:- ★

- 1- يمكن التفريق بين المادة الخشنة والناعمة عن طريق حاسة اللمس. (-----)
- 2- يمتاز الخشب بأنه لين بينما الطين الصلصال قاسي. (-----)
- 3- يعتبر القماش مادة لينة بينما الإسفنج مادة خشنة. (-----)
- 4- عندما تمرر يدك على مادة ما وتجد سطحها صعب وبه بروز وأماكن غير مستوية تكون هذه المادة ناعمة اللمس. (-----)
- 5- المطاط مادة يمكننا أن نغير شكلها ونثنيها لذا فهي مادة لينة. (-----)

3- استنتج سبب صناعة قماش الملابس الفاخرة من القطن أو الحرير. ★ ★ ★

10	ملاحظات المعلم	توقيع ولي الأمر

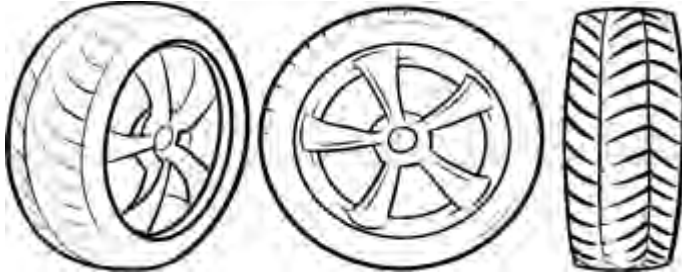


رؤيتنا: إعداد جيل منتم لدينه ووطنه متسلح بالعلم والقيم في بيئة آمنة ومحفزة

تطبيق (8) - العلوم

الاسم: رقم الكشف: الصف: الأول/ التاريخ: (.....) نوفمبر 2019

اختر الإجابة الصحيحة مما يلي: - ★



1- ما هي المادة التي تصنع منها إطارات السيارات؟

A- الورق

B- المطاط

C- الزجاج

2- ما هي صفة المادة التي تصنع منها ملابسنا والتي تجعلها مناسبة لنا كي نرتديها؟

A- ليينة

B- قاسية

C- خشنة

3- نستطيع التفريق بين الشيء الناعم والخشن عن طريق حاسة:-

A- الشم

B- اللمس

C- السمع

4- من المواد القاسية التي نستخدمها في صناعة الأشياء التي تحتاج لقوة:-

A- المعدن

B- الورق

C- الإسفنج

5- أفضل مادة يمكننا أن نصنع منها عدسات النظارات:-

A- المعدن

B- الخشب

C- الزجاج

10	ملاحظات المعلم	توقيع ولي الأمر



اختبار تجريبي



1 ما هي الصفة التي تجعل الأسد كائن حي؟

- A يأكل
B اصفر اللون
C كبير الحجم

2 أي الحيوانات التالية ينمو داخل جسم أمه؟



- A البطة
B الكلب
C الدجاجة

3 أي من التالي كائن يستطيع أن يتنفس ويأكل وينمو؟



- A الكرة
B النبات
C السيارة

4 واحدة من الكلمات التالية جزء من دورة حياة الإنسان، ما هي؟

- A بركة
B بيضة
C مُراهق



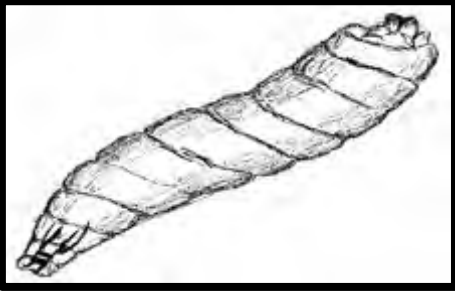
رؤيتنا: إعداد جيل منتمٍ لدينه ووطنه متسلح بالعلم والقيم في بيئة آمنة ومحفزة

2/.....

السؤال الثاني

صل العبارة من العمود (أ) مع الصورة المناسبة لها من العمود (ب)

العمود (ب)



العمود (أ)

كائن حي تتكون دورة حياته من 5
مراحل منها مرحلة البادرة.

مرحلة من دورة الحياة متشابهة بين
السمة والفراشة

2/.....

السؤال الثالث

ضع علامة (✓) أمام العبارة الصحيحة، وعلامة (X) أمام العبارة الخاطئة:-

- 1 - تصنع أكواب الشاي من الزجاج وهي مادة شفافة سهلة الكسر. (-----)
- 2 - من الممكن استخدام حاسة السمع للتفريق بين مادة خشنة وأخرى ناعمة (-----)



3/.....

السؤال الرابع

أ. حدد شيئاً واحداً يحتاج للوقود كي يتحرك؟

ب. صنف كلاً من (الأسد - الطائرة) حسب الجدول التالي:-

لا يتحرك من تلقاء نفسه	يتحرك من تلقاء نفسه
-----	-----

ت. استنتج المادة التي نستخدمها في عمل الملابس لأنها لينة؟
