





مدرسة آمنة محمود الجيدة الابتدائية المستقلة للبنات  
الرياضيات للصف الأول (التقييم 2)

الصف الأول : .....


اسم الطالبة : .....

أجب عن الأسئلة التالية :

10

1	عد و اكتب العدد	الدرجة ( 2 )
	 _____	 _____

2	اختر المجموعة التي تمثل العدد 2	الدرجة ( 1 )
	<p>Ⓐ </p> <p>Ⓑ </p> <p>Ⓒ </p> <p>Ⓓ </p>	



3	ارسم قطعاً للعدد تمثل عدد المربعات الملونة:	الدرجة ( 2 )
		



مدرسة آمنة محمود الجيدة الابتدائية المستقلة للبنات  
الرياضيات للصف الأول (التقييم 2)

--

4	اكتب عدد كل من الموز و البرتقال	الدرجة ( 2 )
<div> _____</div> <div> _____</div>		

5	لون عدد المربعات التي تمثل الشكل المطلوب:	الدرجة ( 2 )										
<div> <table><tr><td></td><td></td><td></td><td></td><td></td></tr></table></div> <div> <table><tr><td></td><td></td><td></td><td></td><td></td></tr></table></div>												

6	أي مجموعة مما يلي تمثل العدد 0	الدرجة ( 1 )
<div></div>		



مدرسة آمنة محمود الجيدة الابتدائية المستقلة للبنات  
الرياضيات للصف الأول (التقييم 2)

