

## تكنولوجيا المعلومات الصف الثاني

### اختاري الأجوبة الصحيحة ما بين القوسين:-

- 1- من الأجهزة الرئيسية للحاسوب..... (الفأرة - الطابعة - مكبر الصوت)
- 2- من مكونات وحدة النظام..... (الشاشة - القرص الصلب - سماعة الأذن)
- 3- من الأجهزة الطرفية للحاسوب..... (شرائح الذاكرة - كاميرا الويب - المعالج)
- 4- لألتقاط الصور أو تصوير فيديو..... (الميكروفون - كاميرا الويب - الشاشة)
- 5- نستخدم برنامج الرسام ل..... (طباعة الورق - كتابة النص - رسم الأشكال والصور)
- 6- لكتابة النص والأرقام نحتاج إلى ..... ( الفأرة - لوحة المفاتيح - الكاميرا الرقمية)
- 7- ..... استخدام الأشياء المستعملة لإنشاء أشياء جديدة. (الحاسب - الكهرباء - إعادة التدوير)

### املا الفراغ بالكلمة المناسبة فيما يأتي:

**" الفأرة - كاميرا الويب - الشاشة - لوحة المفاتيح - الميكروفون - الماسح الضوئي - القرص الصلب"**

- 1- من مكونات وحدة النظام.....
- 2- لتسجيل الصوت نحتاج إلى .....
- 3- نستخدم..... لإدخال المستندات والصور للحاسوب.
- 4- لمشاهدة الأصدقاء عبر الإنترنت نحتاج إلى .....
- 5-..... تستخدم لعرض شاشات البرنامج.
- 6- من الأجهزة الرئيسية للحاسوب .....
- 7- جهاز يستخدم لتحريك المؤشر على الشاشة.....

ضع علامة ( √ ) أمام العبارة الصحيحة، وعلامة ( x ) أمام العبارة غير الصحيحة:

1- لتشغيل الحاسوب اضغط على زر التشغيل الأساسي. ( )
2- لحفظ الصورة نستخدم إلى الماسح الضوئي. ( )
3- من الأجهزة الطرفية للحاسوب الميكروفون. ( )
4- لفتح برنامج الرسم اضغط ضغطة واحدة على أيقونة البرنامج. ( )
5- طباعة الورق والصفحات من الأجهزة الطرفية. ( )
6- لتحريك المؤشر نستخدم الفأرة. ( )

اكتب مكونات الأجهزة للحاسوب في الشكل أدناه:-



صلى الكلمة بالصورة المناسبة:-

	اللوحة الأم
	الماسح الضوئي
	الكاميرا الرقمية
	الفأرة
	مشغل الأقراص
	الطابعة
	كاميرا الويب
	مكبر الصوت

شرائح الذاكرة

القرص الصلب

وحدة النظام


المعالج

لوحة المفاتيح

الميكروفون

الشاشة

سماعات الأذن



## صلى الأجهزة مع الوظيفة المناسبة:

	إدخال المستندات إلى الحاسوب
	مشاهدة الأصدقاء عبر الأنترنت
	الأستماع إلى الملفات الصوتية
	عرض شاشات البرنامج
	كتابة الأرقام والنصوص
	تحريك المؤشر
	طباعة الصور والصفحات
	التقاط الصور أو مقاطع الفيديو
	تسجيل صوت

صلى المواد القابلة لإعادة التدوير بالسلة المناسبة:-




## - اختاري الأجابة الصحيحة:-



متي يظهر هذا المؤشر؟



متي يظهر هذا المؤشر؟



- ضعى دائرة حول الأشياء التى لا يصح أن تكون بجوار الحاسوب:-



- اختارى النصيحة المناسبة للشخص فى الصورة التالية:-



1- ضع قدميك بشكل مستو على سطح الأرض.

2- أسندك ظهرك على الكرسي بشكل مستقيم.



**- ضع دائرة حول الإجابة الصحيحة فيما يلي:-**

1- جهاز يستخدم لأدخال الحروف والأرقام والرموز الى الحاسوب.



2- المفتاح الذي يقوم بنقل رأس المؤشر إلى بداية السطر الجديد.







3- يستخدم رمز من رموز مؤشر الفأرة للكتابة في المساحة التي يشير إليها مؤشر الفأرة.



4- شكل من أشكال مؤشر الفأرة يستخدم للانتقال الى اعلى او اسفل الصفحة.



-صلى بين شكل مؤشر الفأرة والمهمة المناسبة له فيما يلى :

كتابة	
انتقال إلى	
انتظار	
تحريك	
اختيار	