

علوم نهاية الفصل الأول " الصف الأول "

* اختاري الإجابة الصحيحة:-

أي من الكائنات الحية الآتية تتكاثر عن طريق البيض وترعى صغارها؟		1
الأرنب	A	
الضفدع	B	
العصفور	C	

تبدأ بعض النباتات حياتها من.....		2
البذرة	A	
الزهرة	B	
الجنور	C	

من خصائص الكائنات الحية.....		3
الماء	A	
الحركة	B	
الغذاء	C	


		4
من أنواع حركة الحيوانات.....		
التحدث	A	
النوم	B	
الزحف	C	

		5
ما العضو المسؤول عن سماع الأصوات؟		
العين	A	
الأنف	B	
الأذن	C	

		6
أي الآتية من الكائنات الحية؟		
الطاولة	A	
الجمال	B	
الكرة	C	

		7
من الأشياء غير الحية.....		
النبات	<input type="checkbox"/> A	
الحيوانات	<input type="checkbox"/> B	
الرمال	<input type="checkbox"/> C	

		8
أي من الحواس التي تتأثر بالزكام؟		
الأذن	<input type="checkbox"/> A	
اليدين	<input type="checkbox"/> B	
الأنف	<input type="checkbox"/> C	

		9
أي خصائص الكائنات الحية تظهر في الصورة؟		
النمو	<input type="checkbox"/> A	
التكاثر	<input type="checkbox"/> B	
الحركة	<input type="checkbox"/> C	


ما العضو المسؤول عن تذوق الطعام؟		10
العين	A	
اللسان	B	
الأذن	C	

ما المرحلة الأولى من مراحل نمو الضفدع؟		11
	A	
	B	
	C	


عندما تخرج الأسماك الصغيرة من البيض تكون قادرة على.....		12
المشي	A	
السباحة	B	
القفز	C	

		13
تنمو البذرة لتصبح نباتاً صغيراً ، ثم يصبح له.....		
ساق	A	
جذور	B	
أوراق	C	

		14
تتكاثر الأسماك ب.....		
الولادة	A	
البذور	B	
البيض	C	

		15
أي من الصور الآتية يعبر الآتية يعبر عن أبو ذنبية؟		
	A	
	B	
	C	

		16
أي من الصور الآتية من الحاجات الأساسية للكائنات الحية؟		
	A	
	B	
	C	

		17
أي من الحيوانات تتكاثر بالولادة؟		
	A	
	B	
	C	

		18
..... هي تغيرات الكائن الحي مع مرور الزمن.		
دورة الحياة	<input type="checkbox"/> A	
دورة الماء	<input type="checkbox"/> B	
دورة الخلية	<input type="checkbox"/> C	

		19
أي الخصائص الآتية تميز الكائن الحي عن غير الحي؟		
لونه	<input type="checkbox"/> A	
حجمه	<input type="checkbox"/> B	
نموه	<input type="checkbox"/> C	

		20
ما الذي يميز الطيور الصغيرة عند خروجها من البيض؟		
الريش خفيف	<input type="checkbox"/> A	
ليس لها أجنحة	<input type="checkbox"/> B	
ريشها مكتمل النمو	<input type="checkbox"/> C	



*صل بين الكلمة والصورة المناسبة لها:

حيوانات تتكاثر بالبيض



حيوانات تتكاثر بالولادة



22		ما صغير الحيوان الذي يخرج من البيض معتمدا على نفسه في البحث عن الغذاء؟
سمكة	A	
ضفدع	B	
أرنب	C	

23		ما الكائن الحي الذي ينتج صغاره عن طريق الولادة؟
السمكة	A	
الثعبان	B	
البقرة	C	

24		أي صور الآتية يعبر عن بذرة لها جذور؟
	A	
	B	
	C	

***ضع علامة (√) أمام العبارة الصحيحة و علامة (x) أمام العبارة الخطأ.**

- 1- النمو من خصائص الكائنات غير الحية. ()
- 2- يتسلق القرد الأشجار. ()
- 3- يتحرك الحصان عن طريق الطيران. ()
- 4- يحتاج أبوذئبية إلى رعاية والديه. ()
- 5- تتكاثر الطيور بالبيض. ()
- 6- الكنغر يزحف على بطنه. ()
- 7- يستطيع العصفور الصغير حماية نفسه من الإعداء. ()
- 8- تستطيع السمكة السباحة لحظة خروجها من البيضه. ()
- 9- الحيوانات الصغيرة تشابه أبائها في الحجم. ()
- 9- الخروف يتغذى على الأعشاب. ()
- 10- النبات يموت إذا لم تسقى. ()

*** أجب عن الأسئلة التالية:**

- 1- ما الكائن الحي الذي لا يعتمد على أبويه في صغره؟
- 2- ما الحيوان الذي ينتج صغار جديدة عن طريق البيض و يعتني بصغاره و يطعمهم و يحميهم؟
.....
- 3- ما الكائن الحي الذي ينتج صغاره عن طريق الولادة و تكون مشابهة لأبويها؟

4. تعتني الطيور بصغارها و تطعمهم و تحميهم , وفي أثناء ذلك تراقب صغار الطيور آباءها , فتتعلم كيف تتطير و كيف تبحث عن غذائها . اذكر اسم أحد هذه الطيور.
.....

5. الزواحف تضع بيضها على اليابسة , و عندما يفقس البيض تخرج الزواحف الصغيرة , و تكون قادرة على الحركة و البحث عن غذائها. اذكر اسم أحد هذه الزواحف.
.....

6. الضفادع تضع بيضها في الماء و عندما يفقس البيض يخرج أبوذنبية.

اذكري فرقا واحدا بين جسم أبوذنبية وأجسام أبوية.
.....

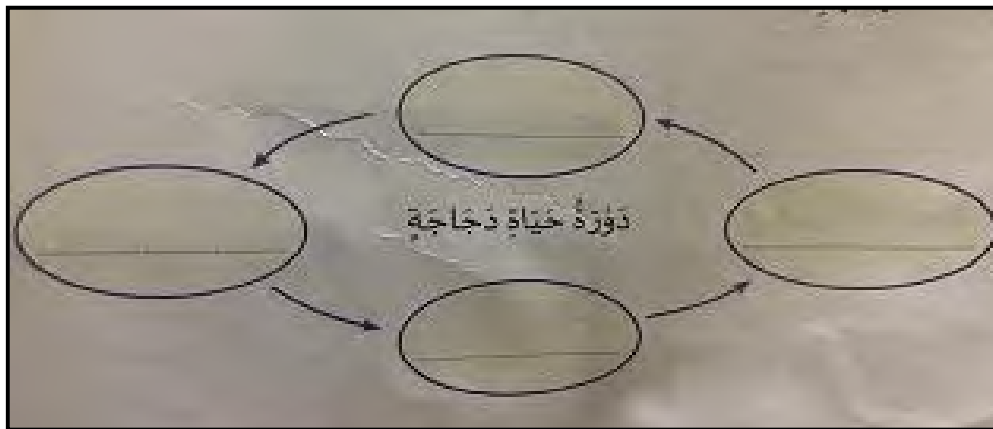
* قارنى بين السمكة والعصفور فى الجدول الأتى:-

<u>العصفور</u>	<u>السمكة</u>	<u>الكائن الحى من حيث</u>
		طريقة تكاثرها " بيض / ولادة"
		اعتماد الصغار على أباؤها


* قارنى بين صغار الضفدع وصغار الأسماك فى الجدول أدناه:-

<u>صغار الأسماك</u>	<u>صغار الضفدع</u>	<u>الكائن الحى من حيث</u>
		الشبة بأباؤها
		اعتمادها على نفسها

* ما المراحل التى تمر فيها دورة حياة الدجاجة:-



* رقمى المراحل التى يمر بها النبات من "1-7":-



* صلى التغيرات التى تمر بها السمكة خلال حياتها:-

