

# أوراق عمل

## الرياضيات

للفف الأول الابتدائي

مدير المدرسة	المشرف التربوي	معلم المادة
.....	.....	.....



## هيا أيها البطل ، استعن بالله وأجب عن الأسئلة الآتية




**السؤال الأول :** ارسم دائرة حول الشكل الذي له نفس خاصية :



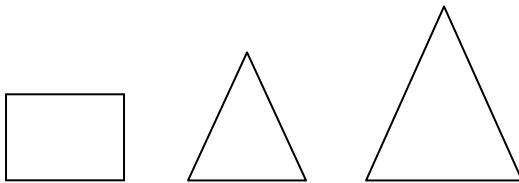
- 1



- 2



- 3



- 4



- 5



المهارة المستهدفة : تعرف العلاقات ( يساوي أكثر من اقل من )



## هيا أيها البطل ، استعن بالله وأجب عن الأسئلة الآتية

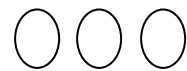
**السؤال الأول :** صل بين كل مجموعة و المجموعة المساوية لها :



**السؤال الثاني :** صل عناصر المجموعتين ، ثم ارسم حول المجموعة التي عناصرها أكثر من الأخرى :



**السؤال الثاني :** صل عناصر المجموعتين ، ثم ارسم حول المجموعة التي عناصرها أقل من الأخرى :



المهارة المستهدفة : قراءة الأعداد ( 1 ، 2 ، 3 ، 4 ، 5 ) و كتابتها





## هيا أيها البطل ، استعن بالله و أجب عن الأسئلة الآتية

**السؤال الأول :** أعد الأشكال و أكتب الرقم تحتها :











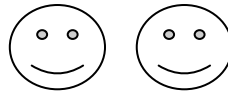

حول الرقم المناسب لكل صورة مما يأتي :



**السؤال الثاني :** أرسم












المهارة المستهدفة : وصف أو تحديد مواضع الأشياء بالنسبة لبعضها البعض باستعمال الكلمات (فوق، تحت ، أعلى ، وسط ، أسفل )



تنبيهات لولي الأمر : الأسئلة حول مهارة واحدة فقط . لا يزيد عددها عن عشرة أسئلة حول المهارة الواحدة . لا يتم احتساب درجات على الفقرات . يتم تحديد المستوى وإتقان المهارة وفقا لعلامات الصح والخطأ بوضع علامة أتعن أو لم يتقن . معلم المادة :

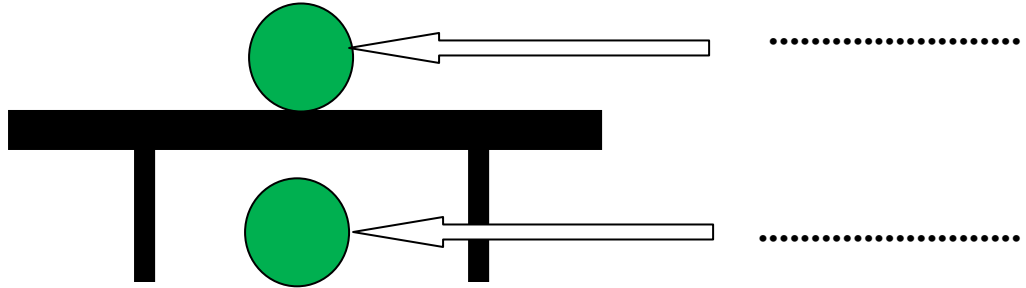







## هيا أيها البطل ، استعن بالله وأجب عن الأسئلة الآتية

**السؤال الأول :** أكتب الكلمة المناسبة بجوار الأسهم : ( فوق ، تحت )

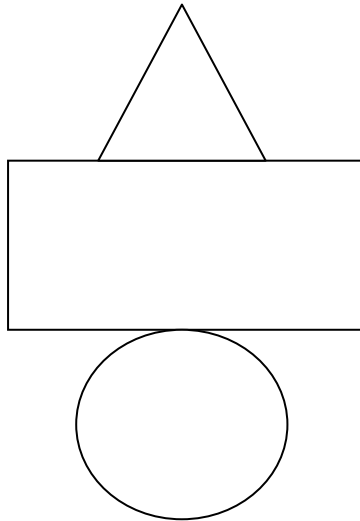


سأفكر ثم  
أجيب  
فأنا منظم



**السؤال الثاني :** صل بين كل كلمة و الشكل المعبر عنها :

1 - وسط



2 - أسفل

3 - أعلى



المهارة المستهدفة : ترتيب الأشياء والأعمال حسب وقت حدوثها باستعمال الكلمات ( قبل ، بعد )



تنبيهات لولي الأمر : الأسئلة حول مهارة واحدة فقط . لا يزيد عددها عن عشرة أسئلة حول المهارة الواحدة . لا يتم احتساب درجات على الفقرات . يتم تحديد المستوى وإتقان المهارة وفقاً لعلامات الصح والخطأ بوضع علامة أتعن أو لم يتقن . معلم المادة :

الاسم : / الصف : / التاريخ : / / 2016 أتعن لم يتقن



## هيا أيها البطل ، استعن بالله و أجب عن الأسئلة الآتية

**السؤال الأول :** اكتب كلمة قبل أو بعد تحت الصور الآتية بالنسبة للصورة المحددة



سأفكر ثم  
أجيب  
فأنا منظم



المهارة المستهدفة : تحديد الأنماط وتوسيعها وإنشاؤها (x)


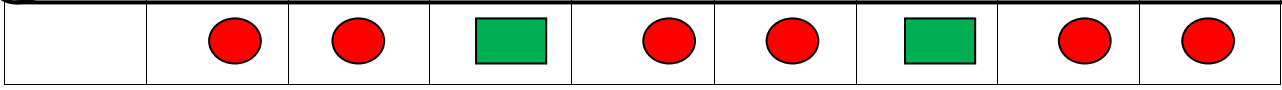


تنبيهات لولي الأمر : الأسئلة حول مهارة واحدة فقط . لا يزيد عددها عن عشرة أسئلة حول المهارة الواحدة . لا يتم احتساب درجات على الفقرات . يتم تحديد المستوى وإتقان المهارة وفقاً لعلامات الصح والخطأ بوضع علامة أتعن أو لم يتقن . معلم المادة :






## هيا أيها البطل ، استعن بالله وأجب عن الأسئلة الآتية

**السؤال الأول :** حدد النمط فيما يلي ثم ارسم التالي في النمط :



=====

**السؤال الثاني :** استخدم الأشكال الآتية في عمل نمط :  



=====

**السؤال الثالث :** ارسم  حول الزر التالي في النمط :



المهارة المستهدفة : قراءة الأعداد ( 0 ، 6 ، 7 ، 8 ، 9 ، 10 ) و كتابتها



تنبيهات لولي الأمر : الأسئلة حول مهارة واحدة فقط . لا يزيد عددها عن عشرة أسئلة حول المهارة الواحدة . لا يتم احتساب درجات على الفقرات . يتم تحديد المستوى وإتقان المهارة وفقاً لعلامات الصح والخطأ بوضع علامة أتعن أو لم يتقن . معلم المادة :



## هيا أيها البطل ، استعن بالله و أجب عن الأسئلة الآتية



**السؤال الأول :** كم سمكة في الحوض ؟

**السؤال الثاني :** أعد الأشكال و أكتب الرقم تحتها :














حول الرقم المناسب لكل صورة مما يأتي :



**السؤال الثالث :** أرسم



9 - 10 - 8



8 - 9 - 7



10 - 6 - 8



9 - 7 - 6

المهارة المستهدفة : مقارنة الأعداد حتى 10







## هيا أيها البطل ، استعن بالله وأجب عن الأسئلة الآتية

**السؤال الأول :** عد الأشكال و اكتب الرقم ، ثم ارسم حول المجموعة الأكبر :










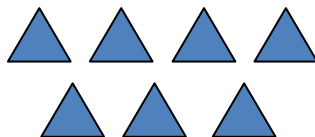





**السؤال الثاني :** اكتب كلمة أقل من أو أكثر من أو يساوي بين كل مجموعتين من الصور :












**المهارة المستهدفة :** تحديد الأعداد الترتيبية حتى العاشر ( x )





## هيا أيها البطل ، استعن بالله وأجب عن الأسئلة الآتية



**السؤال الأول :** اكتب الرقم الناقص فيما يلي :

1 - ( 1 ، 2 ، ..... ، 4 ، ..... ، 6 )

2 - ( 6 ، ..... ، ..... ، 9 ، ..... )



....



3



....




1



0

- 3



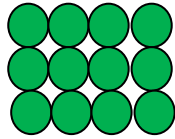
**السؤال الثاني :** اكتب ترتيب الصورة التي تحتها خط :





## هيا أيها البطل ، استعن بالله و أجب عن الأسئلة الآتية

**السؤال الأول :** اقرأ كل عدد و صلّه بصورته :



**السؤال الثاني :** عد الأشكال و اكتب عدد كل منها :














## هيا أيها البطل ، استعن بالله و أجب عن الأسئلة الآتية

### السؤال الأول : عد الأشكال و اكتب عددها :



### السؤال الثاني : صل بين كل رقم و الصورة الدالة عليه :








المهارة المستهدفة : مقارنة الأعداد حتى 20



هيا أيها البطل ، استعن بالله وأجب عن الأسئلة الآتية

**السؤال الأول :** اكتب ( أكثر من ) ، ( أقل من ) ، ( يساوي ) بين كل رقمين مما يأتي :




.....



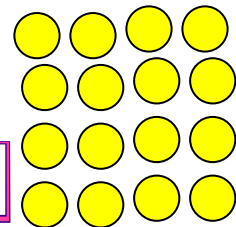
.....



.....



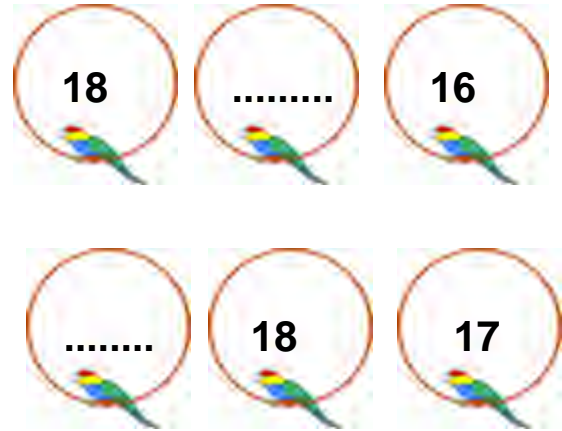
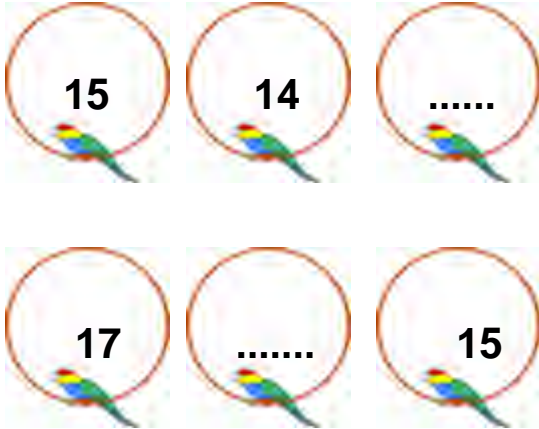
.....



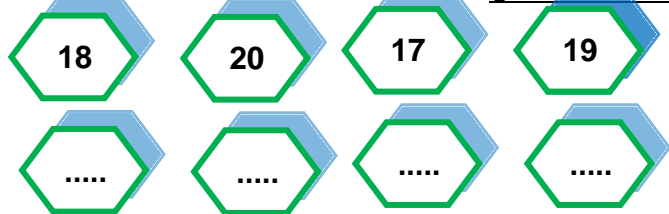


## هيا أيها البطل ، استعن بالله وأجب عن الأسئلة الآتية

### السؤال الأول : اكتب الرقم الناقص :



### السؤال الثاني : اكتب الأرقام التالية في الترتيب الصحيح :




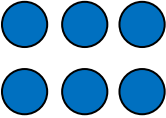
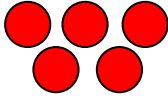

### السؤال الثالث : صل بين الأرقام بالترتيب الصحيح :

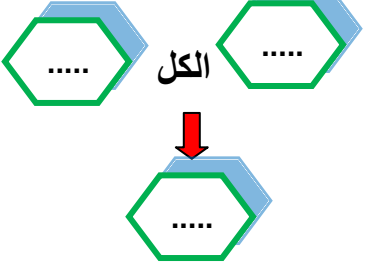
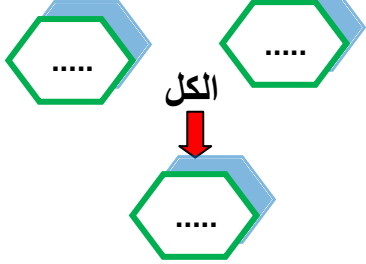




## هيا أيها البطل ، استعن بالله و أجب عن الأسئلة الآتية

### السؤال الأول : أكمل بالرقم المناسب :

الكل

### السؤال الثاني : أكمل مكان النقاط بالعلامات و الأرقام المناسبة :






..... ○ ..... ○ ..... = ..... + .....






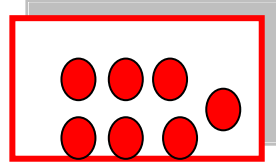

..... ○ ..... ○ ..... ○ ..... ○ .....



## هيا أيها البطل ، استعن بالله وأجب عن الأسئلة الآتية



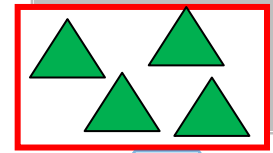
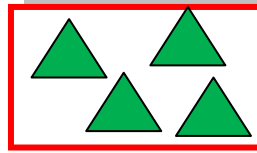
### السؤال الأول : أكمل بالعدد المناسب :



=



+



### السؤال الثاني : أكتب ناتج هذه المسائل :

سأفكر ثم  
أجيب  
فأنا منظم



..... = 0 + 5 ( 1 )

..... = 6 + 0 ( 2 )

..... = 0 + 9 ( 3 )





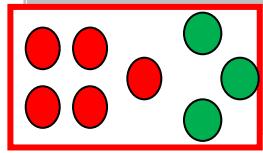



المهارة المستهدفة : تكوين الأعداد ( 4 ، 5 ، 6 ، 7 ، 8 ، 9 )



## هيا أيها البطل ، استعن بالله وأجب عن الأسئلة الآتية

**السؤال الأول :** أكمل ما يلي بالرقم المناسب :



=====

النتاج	يساوي	.....	زائد	.....
.....	=	.....	+	.....
4	=	.....	+	.....
5	=	.....	+	.....
6	=	.....	+	.....
7	=	.....	+	.....
8	=	.....	+	.....
9	=	.....	+	.....

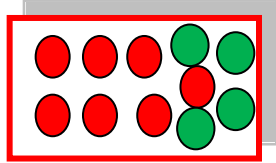

سأفكر ثم  
أجيب  
فأنا منظم



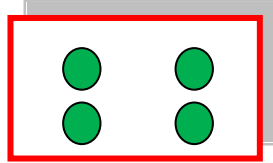


## هيا أيها البطل ، استعن بالله وأجب عن الأسئلة الآتية

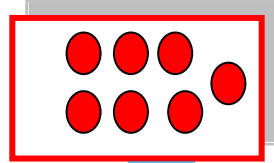
**السؤال الأول :** أكمل ما يلي بالرقم المناسب :



11



....



....



.....	زائد	.....	يساوي	النتاج
.....	+	.....	=	.....
.....	+	.....	=	11
.....	+	.....	=	12
.....	+	.....	=	11
.....	+	.....	=	12
.....	+	.....	=	11
.....	+	.....	=	12


سأفكر ثم  
أجيب  
فأنا منظم



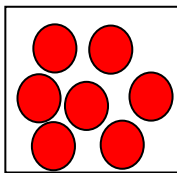


## هيا أيها البطل ، استعن بالله و أجب عن الأسئلة الآتية

### السؤال الأول : أكمل مكان النقاط بالعدد المناسب :

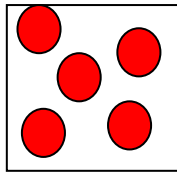



$$\dots\dots\dots = 4 + 6$$



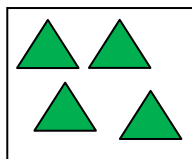
.....

+



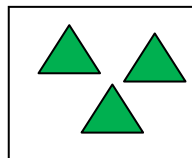
.....

.....



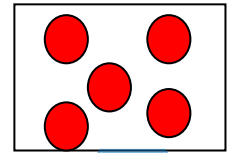
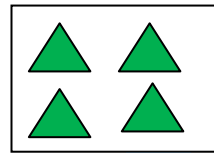
.....

+

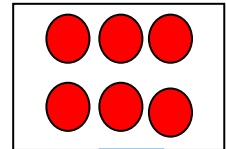
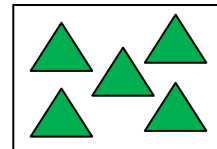


.....

.....



$$\text{.....} = \text{.....} + \text{.....}$$



$$\text{.....} = \text{.....} + \text{.....}$$

