

المادة : العلوم  
التاريخ : 2018 / 4 / 23  
الموضوع :  
مراجعة لامتحان  
اعداد المعلمة : عائشة راغب



العام الدراسي 2017 – 2018  
الفصل الدراسي الثالث



دولة الإمارات العربية المتحدة  
دائرة التعليم والمعرفة  
مدرسة الرؤية الخاصة  
الصف : الثاني .....  
الشعبة .....  
( ورقة عمل رقم 6 )

الاسم : .....

: السؤال الأول



أعلى الزحليقة

نصف موقع الفتاة رقم ( 1 ) بأنه 1

يمين الزحليقة

أسفل الزحليقة

يمين الزحليقة

نصف موقع الفتى رقم ( 2 ) بأنه 2

أسفل الزحليقة

أعلى الزحليقة



B

A

دائري

نوع الحركة على المسار (A)

متعرج

مستقيم

دائري

نوع الحركة على المسار (B)

متعرج

مستقيم

: السؤال الثاني : اذكر القوة المناسبة فيما يلي



دفع - سحب



دفع - سحب



دفع - سحب



دفع - سحب



دفع - سحب



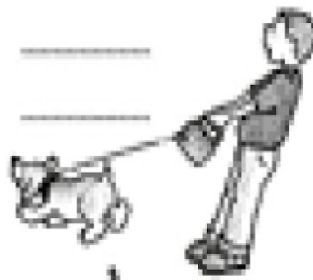
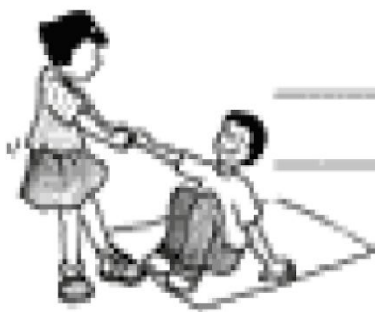
دفع - سحب



دفع - سحب


لتقليل سرعة الأرجوحة وإيقافها

الاحتكاك - الجاذبية



: السؤال الثالث : صل بخط بين الكلمة و الصورة المناسبة لها

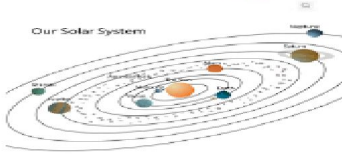
حركة دائرية



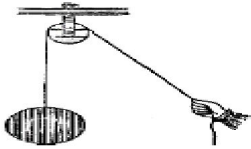
الرافعة



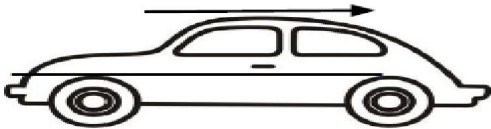
الحركة للخلف






بكرة



الحركة بشكل عشوائي




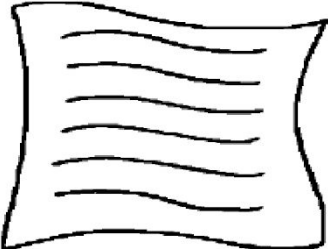
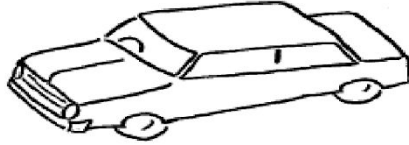
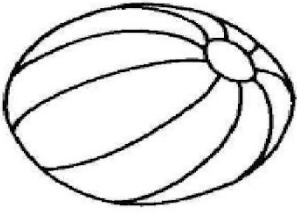
: السؤال الرابع : أ ) اختر الاجابة الصحيحة و المناسبة لأقطاب المغناطيس



(تجاذب - تنافر )

(تجاذب - تنافر )

: ب ) حوّل الأشياء التي يجذبها المغناطيس



أو إشارة ✓ السؤال الخامس : ضع إشارة X: أمام العبارات التالية

- ( ) . عندما تركل الكرة فأنت تجعلها تقف(1)
- ( ) . الجاذبية قوة تسحب كل شيء باتجاه الأرض(2)
- ( ) . يكون الاحتكاك أقل على الأسطح الخشنة(3)
- ( ) . الاحتكاك قوة تسرع الأجسام المتحركة(4)
- ( ) . عندما يقترب قطب شمالي و قطب جنوبي من بعضهما فإنهما يتنافران(5)

- ( ) . قوة السحب هي تحريك الجسم بعيدا عنك(6)
- ( ) . سرعة الطائرة أكبر من سرعة الحصان(7)
- ( ) . تتحرك الأجسام بعدة أشكال مختلفة(8)
- ( ) . للمغناطيس قطبان متشابهان(9)
- ( ) . المطرقة الة بسيطة تتحرك عكس نقطة الارتكاز(10)