

# كفايات العلوم

الفصل الدراسي الثاني

2018-2019 العام الأكاديمي

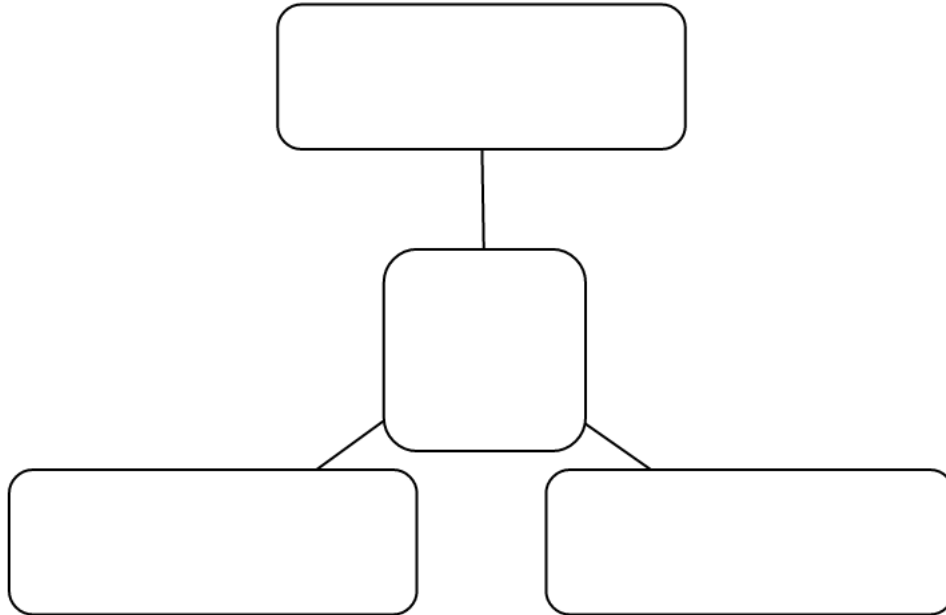
نص السؤال	رقم السؤال
<p>اكتب أسماء الأسنان على الشكل التالي ووظائفها:</p>  <p><b>الأنياب:</b> الأسم <b>تمزيق الطعام:</b> الوظيفة</p> <p><b>أضراس أمامية:</b> الأسم <b>طحن الطعام:</b> الوظيفة</p> <p><b>الأضراس الخلفية:</b> الأسم <b>طحن الطعام:</b> الوظيفة</p> <p><b>القواطع:</b> الأسم <b>تقطيع الطعام:</b> الوظيفة</p>	السؤال الأول
<p>عدد وظائف الأسنان:</p> <ol style="list-style-type: none"> <li>1- <u>تقطيع الطعام</u></li> <li>2- <u>طحن الطعام</u></li> <li>3- <u>منظر جميل للوجة</u></li> <li>4- <u>تساعد على النطق</u></li> <li>5- <u>سلاح لبعض الحيوانات</u></li> </ol>	السؤال الثاني
<p>اذكر بعد الطرق للحفاظ على صحة الأسنان؟</p> <ol style="list-style-type: none"> <li>1- <u>غسل الاسنان بالفرشاة والمعجون</u></li> <li>2- <u>زيارة طبيب الاسنان</u></li> <li>3- <u>عدم الاكثار من الحلويات</u></li> </ol>	السؤال الثالث

أذكر وظيفة أعضاء الجسم التالية:

العضو	الوظيفة
القلب	<u>ضخ الدم</u>
الرئتان	<u>التنفس</u>
المعدة	<u>هضم الطعام</u>
الأمعاء	<u>يتم بداخلها امتصاص الغذاء المهضوم</u>
الكليتان	<u>التخلص من الفضلات</u>

السؤال  
الرابع

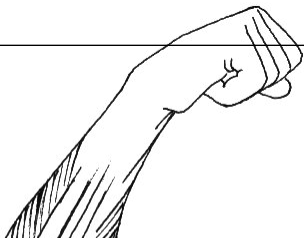
اكتب وظائف الهيكل العظمي




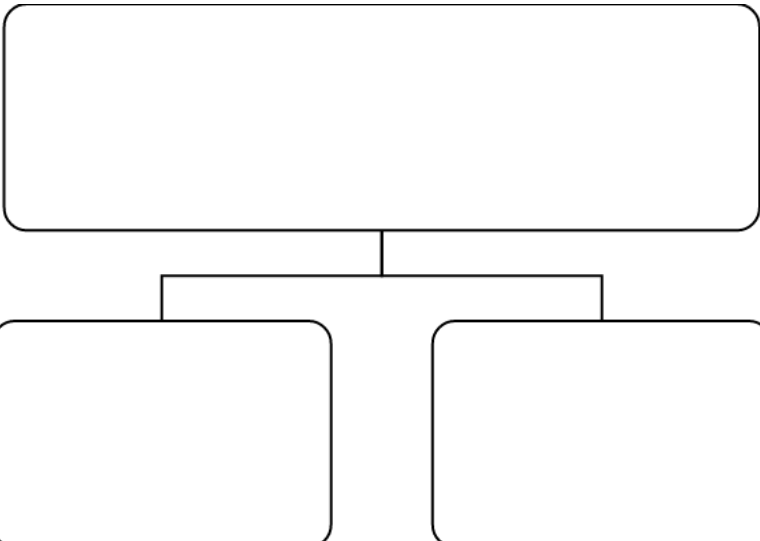


السؤال  
الخامس

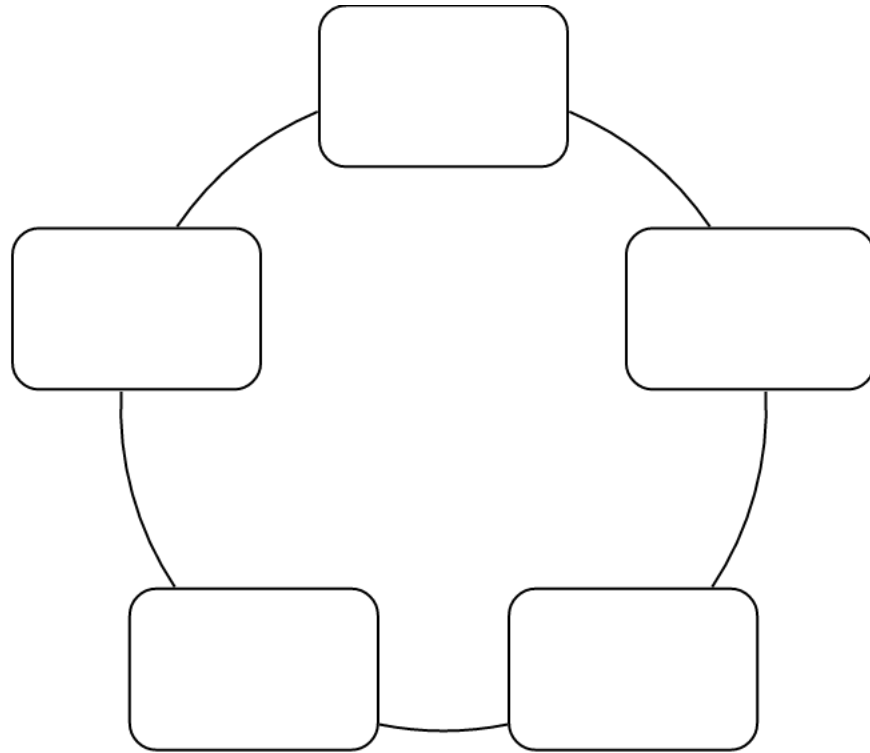
اشرح كيف تعمل عضلات الذراع عند ثنيها ؟

السؤال



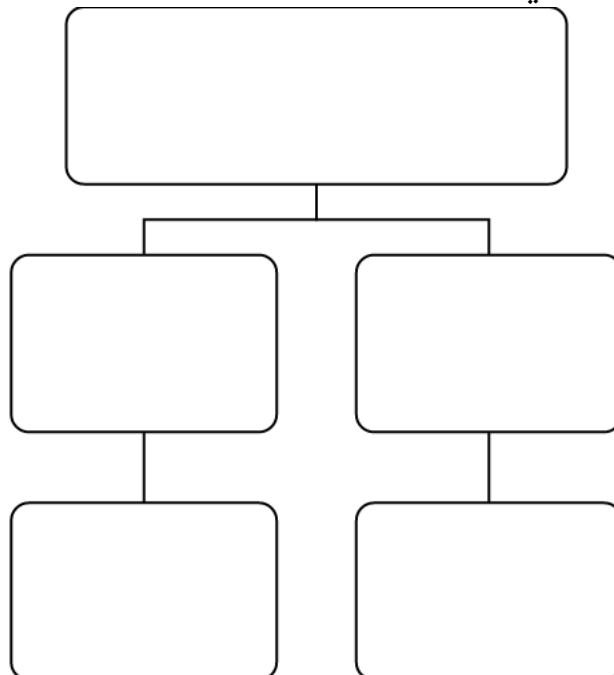
<p>- العضلات الأمامية: <u>تنقبض</u></p> <p>- العضلات الخلفية: <u>تنبسط</u>.</p>			السادس
<p>اكتب انواع أوراق النبات حسب الصور التالية:</p>			السؤال السابع
			
<p><u>أوراق عريضة</u></p>	<p><u>أوراق إبرية</u></p>	<p><u>أوراق شوكية</u></p>	
<div data-bbox="401 1113 1156 1650"></div>			السؤال الثامن

اذكر مجاميع الحيوانات الخمسة:



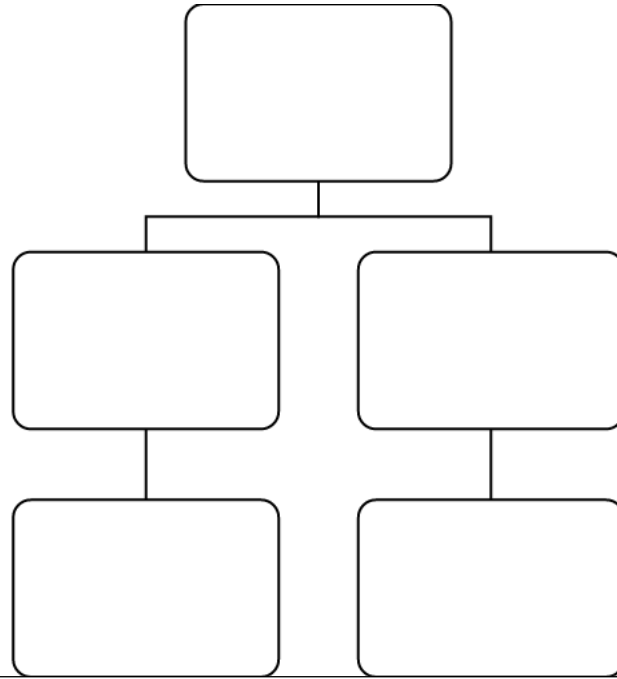
السؤال  
التاسع

اكمل مفتاح التصنيف التالي



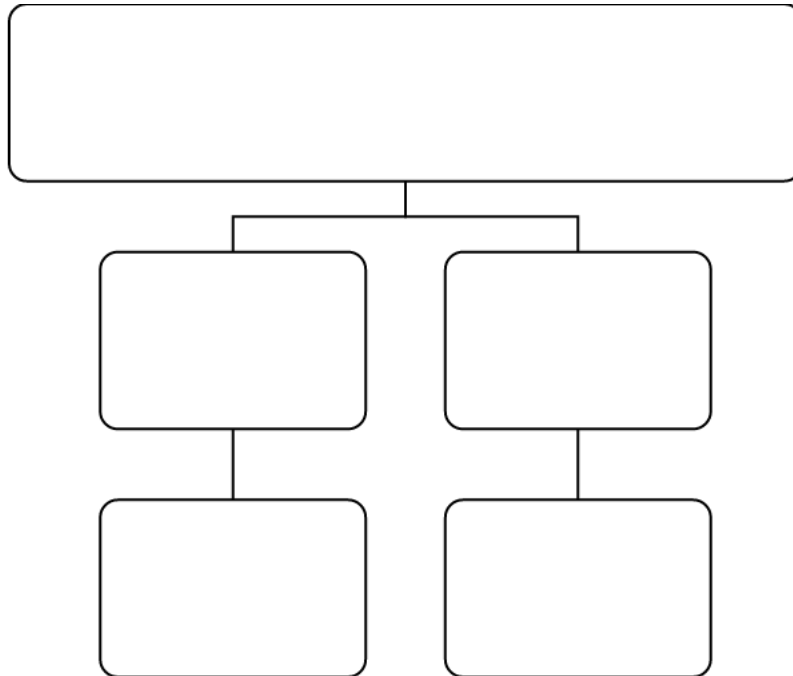
السؤال  
العاشر

اكمل مفتاح التصنيف التالي:



السؤال  
الحادي  
عشر

اكتب سؤال مناسب لمفتاح التصنيف



السؤال  
الثاني  
عشر

قارن بين مجاميع الحيوانات الخمسة

البرمائيات	الزواحف	الأسماك	الطيور	الثدييات	وجة المقارنة/ المجموعة
4 اقدام	بعضها له اقدام قصيرة	لها زعانف	قدمان	4 اقدام	عدد الأقدام
جلد رطب	جلد جاف/ حراشف	القشور	الريش	الشعر/ الوبر/ الصوف	غطاء الجسم
الخياشيم ثم الرئتين	بالرئتين	الخياشيم	بالرئتين	بالرئتين	طريقة التنفس
بالبويض	بالبويض	بالبويض	بالبويض	بالولادة	طريقة التكاثر
الضفدع/ السلمندر	التمساح/ الثعبان	الهامور/ القرش	الحمامة / الهدد	الاسد / الدولفين / القرد / القطه	مثال على أحد الحيوانات

السؤال  
الرابع  
عشر

