

الموضوع : مراجعة شاملة لإختبار التقويم الأول – الفصل الثالث

السؤال الأول : ضع دائرة حول رمز الاجابة الصحيحة فيما يأتي :



1- أفضل وحدة لقياس سعة الملعقة الصغيرة هي

- a) جرام b) كيلو جرام c) لتر d) مليلتر



2- أفضل وحدة لقياس كتلة السيارة هي

- a) لتر b) مليلتر c) كيلو جرام d) جرام



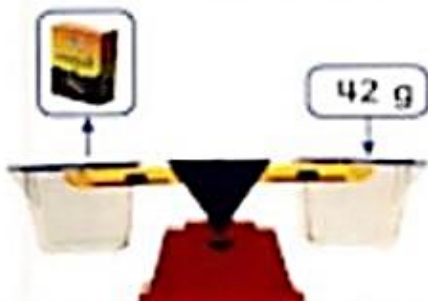
3- ما هو الوقت المبين على الساعة ؟

- a) 4:37 b) 1:30 c) 9:25 d) 8:00

4- ما كمية المياه الموجودة في الوعاء ؟



- a) 150 mL b) 100 mL
c) 900 mL d) 650 mL



5- ما كتلة عبوتين من الزبيب ؟

- a) 42 g b) 12 g
c) 84 g d) 30 g

الموضوع : مراجعة شاملة لإختبار التقويم الأول – الفصل الثالث

6- اشترى أحمد علبتي عصير . سعة علبة العصير الواحدة 50 mL .

ما السعة الاجمالية لعلبتي العصير ؟

- a) 50 mL b) 100 mL c) 25 mL d) 200 mL

7- يسع حوض سمك أيمن 81 لتراً من المياه . ودلوه يسع 9 لترات من المياه . كم دلو مياه يلزم لملء حوض السمك ؟

- a) 9 b) 81 c) 10 d) 100

8- طالب تبلغ كتلته 34 كيلوجراماً . وشخص بالغ كتلته 56 كيلو جراماً . ما الفارق في الكتلة بين الطالب والشخص البالغ ؟

- a) 56 b) 22 c) 34 d) 90

9- اذا كان عقرب الدقائق يشير الى الرقم 2 . فكم عدد الدقائق بعد الساعة ؟

- a) 5 b) 2 c) 10 d) 15

10- يستغرق سالم 50 دقيقة لاتمام التسوق من البقالة . فإذا بدأ الساعة 2:12 مساءً . ففي أي وقت سينهى تسوقه ؟

- a) 3:02 مساءً b) 2:42 مساءً c) 3:07 مساءً d) 2:52 مساءً

التاريخ: 2019/ 5/

اليوم:

مراجعة

الصف الثالث

الاسم :

الموضوع : مراجعة شاملة لإختبار التقويم الأول - الفصل الثالث

12- يمكن أن يسع كل اناء طهي 6 لترات من اليخنة . فاذا كان هناك 5 أوعية طهي ، فكم من اليخنة يمكن تحضيرها في وقت واحد ؟

- a) 6 لترات b) 30 لتر c) 5 لترات d) 11 لتر

13- يمكن لكل كيس أن يسع كتلة 3 كيلو جرامات . حمد لديه 24 كيلوجراماً من الفاكهة ليقسمها بالتساوي . فكم كيساً سيحتاج ؟

- a) 8 b) 3 c) 24 d) 27

14 - استغرق زايد ساعتين و 17 دقيقة لكتابة تقريره . وبدأ الكتابة الساعة 3:30 مساءً في أي وقت أنهى تقريره ؟

- a) 5:47 مساءً b) 3:47 مساءً c) 1:13 مساءً d) 12:00 مساءً

15- اشترت هبة 5 علب عصير . سعة علبة العصير الواحدة 50 mL .

ما السعة الاجمالية للخمس علب عصير ؟

- a) 50 mL b) 100 mL c) 250 mL d) 200 mL

الاسم : الصف الثالث مراجعة اليوم: التاريخ: 2019/ 5/


الموضوع : مراجعة شاملة لإختبار التقويم الأول – الفصل الثالث

السؤال الثاني: أكتب الوقت التالي بالأرقام:

- أ- السابعة و أربعة دقائق
- ب- عشر دقائق بعد الحادية عشر
- ج- خمسة وثلاثون دقيقة بعد السادسة

السؤال الثالث:

1- أكتب الوقت المبين على كل ساعة بالكلمات و الأرقام

| | |
|--|-------------|
|  | أقرأ: |
| | أكتب: |

التاريخ: 2019/ 5/



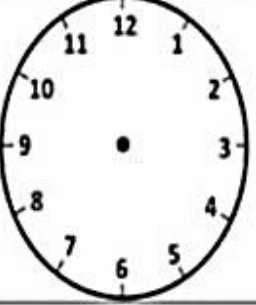

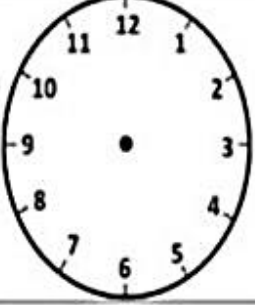

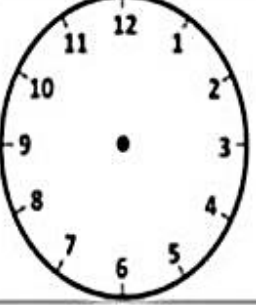




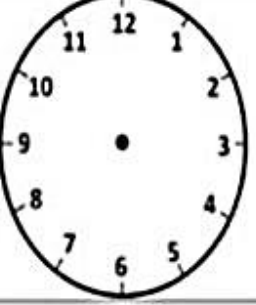




اليوم:

مراجعة

الصف الثالث

الاسم :

الموضوع : مراجعة شاملة لإختبار التقويم الأول - الفصل الثالث

| | | | |
|---|---|--|---|
|  |  |  |  |
| 2:20 | 4:30 | | |
|  |  |  |  |
| 12:30 | 9:30 | | |
|  |  |  |  |
| | 3:30 | 5:00 | |
|  |  |  |  |
| 7:30 | 12:00 | | |

لمنودج الإجابة

الموضوع: مراجعة شاملة لإختبار التقويم الأول - الفصل الثالث

السؤال الأول: ضع دائرة حول رمز الإجابة الصحيحة فيما يأتي:

- 1- أفضل وحدة لقياس سعة ملعقة الصغيرة هي
- a) جرام b) كيلو جرام c) لتر d) مليتر

- 2- أفضل وحدة لقياس كتلة السيارة هي
- a) لتر b) ليتر c) كيلوجرام d) جرام

- 3- ما هو الوقت المبين على الساعة؟
- a) 4:37 b) 1:30 c) 9:25 d) 8:00

4- ما كمية المياه الموجودة في الوعاء؟

- a) 150 mL b) 100 mL
c) 900 mL d) 650 mL

5- ما كتلة عبوتين من الزبيب؟

- a) 42 g b) 12 g
c) 84 g d) 30 g

6- اشترى أحمد علبتي عصير . سعة علبتي العصير الواحدة 50 mL .

ما السعة الاجمالية لعلبتي العصير ؟

- a) 50 mL b) 100 mL c) 25 mL d) 200 mL

7- يسع حوض سمك أيمن 81 لتراً من المياه . ودلوه يسع 9 لترات من المياه . كم دلو مياه يلزم لملء حوض السمك ؟

- a) 9 b) 81 c) 10 d) 100

8- طالب تبلغ كتلته 34 كيلوجراماً . وشخص بالغ كتلته 56 كيلو جراماً . ما الفرق في الكتلة بين الطالب والشخص البالغ ؟

- a) 56 b) 22 c) 34 d) 90

9- اذا كان عقرب الدقائق يشير الى الرقم 2 . فكم عدد الدقائق بعد الساعة ؟

- a) 5 b) 2 c) 10 d) 15

10- يستغرق سالم 50 دقيقة لاتمام التسوق من البقالة . فإذا بدأ الساعة 2:12 مساءً . ففى أي وقت سينهى تسوقه ؟

- a) 3:02 مساءً b) 2:42 مساءً c) 3:07 مساءً d) 2:52 مساءً



التاريخ: 2019/ 5/

اليوم:

مراجعة

الصف الثالث

الاسم:

الموضوع: مراجعة شاملة لإختبار التقويم الأول - الفصل الثالث

12- يمكن أن يسع كل اناء طهي 6 لترات من اليخنة . فلذا كان هناك 5 أوعية طهي ، فكم من اليخنة يمكن تحضيرها في وقت واحد ؟

- a) 6 لترات b) 30 لتر c) 5 لترات d) 11 لتر

13- يمكن لكل كيس أن يسع كتلة 3 كيلو جرامات . حمد لديه 24 كيلو جراماً من الفاكهة ليقسمها بالتساوي . فكم كيساً سيحتاج ؟

- a) 8 b) 3 c) 24 d) 27

14 - استغرق زايد ساعتين و 17 دقيقة لكتابة تقريره . وبدأ الكتابة الساعة 3:30 مساءً في أي وقت أنهى تقريره ؟

- a) 5:47 مساءً b) 3:47 مساءً c) 1:13 مساءً d) 12:00 مساءً

15- اشترت هبة 5 علب عصير . سعة علبة العصير الواحدة 50 mL . ما السعة الاجمالية للخمس علب عصير ؟

- a) 50 mL b) 100 mL c) 250 mL d) 200 mL

العام الدراسي
2019/2018
الفصل الثالث



هيئة المعرفة - دبي
مدرسة الشروق الخاصة
قسم الرياضيات

التاريخ: 2019/ 5/

اليوم:

مراجعة

الصف الثالث

الاسم:

الموضوع : مراجعة شاملة لإختبار التقويم الأول - الفصل الثالث

السؤال الثاني: أكتب الوقت التالي بالأرقام:

7:04

أ- السابعة و أربعة دقائق

11:10


ب- عشر دقائق بعد الحادية عشر

6:35

ج- خمسة وثلاثون دقيقة بعد السادسة

السؤال الثالث:

1- أكتب الوقت المبين على كل ساعة بالكلمات و الأرقام

| | |
|--|---|
|  | أقرأ: الحادية عشر وتسعة وثلاثون دقيقة |
| | أكتب: 11:39 |

التاريخ: 2019/ 5/

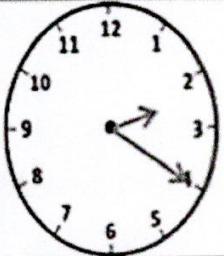
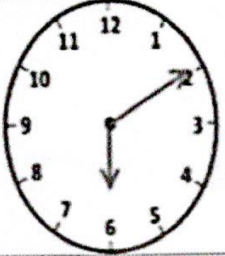
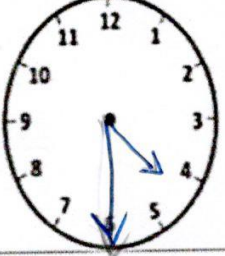
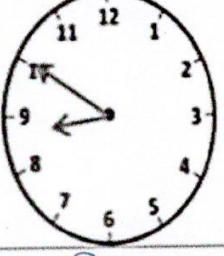
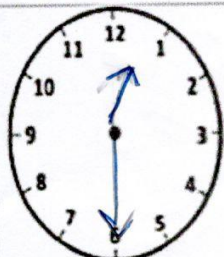
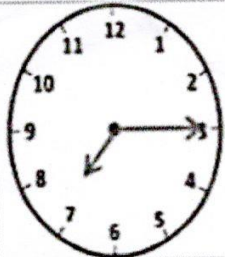
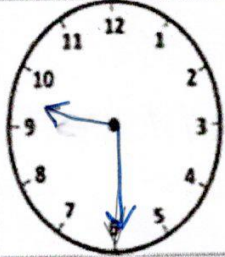
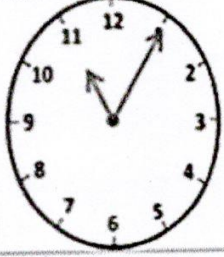
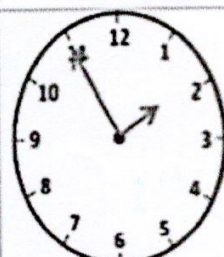
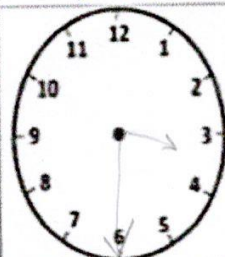
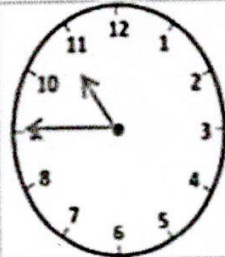
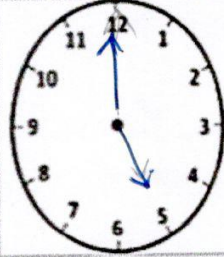
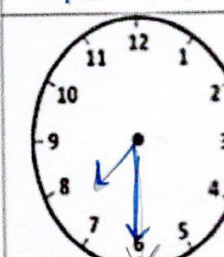
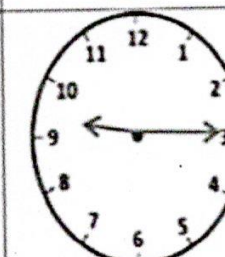
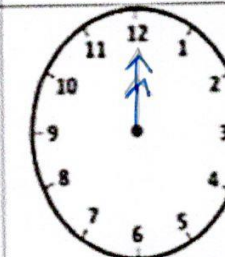

اليوم:

مراجعة

الصف الثالث

الاسم:

الموضوع: مراجعة شاملة لإختبار التقويم الأول - الفصل الثالث

| | | | |
|---|---|--|---|
|  |  |  |  |
| 2:20 | 6:10 | 4:30 | 8:50 |
|  |  |  |  |
| 12:30 | 7:15 | 9:30 | 11:05 |
|  |  |  |  |
| 1:55 | 3:30 | 10:45 | 5:00 |
|  |  |  |  |
| 7:30 | 9:15 | 12:00 | 2:10 |