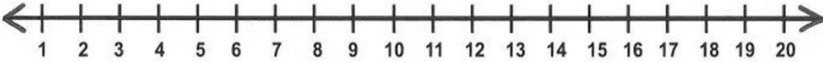


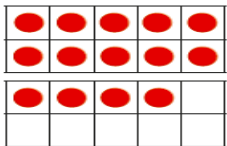
مدرسة البيان الابتدائية الثانية
تدريبات إثرائية لمادة الرياضيات
الصف الأول – منتصف الفصل الدراسي الثاني
2018 -2019




ملاحظة : هذه تدريبات إثرائية ، لا تغني عن الكتاب

اختر الإجابة الصحيحة بوضع علامة (X) داخل المربع:-


1	1- أستعمل خط الأعداد للعد التنازلي أو التصاعدي ،وأوجد ناتج الطرح ؟
	$16 - 5 = \underline{\hspace{2cm}}$
	
A	8
B	9
C	11

2	ما ناتج جملة الطرح .
	
	$14 - 9 = \underline{\hspace{2cm}}$
A	5
B	6
C	7

3	ما حقيقة الجمع لحل حقيقة الطرح المرتبطة :
	<p>$13 - 9 = ?$</p>  <p>$9 + \underline{\hspace{2cm}} = 13$</p> <p>$13 - 9 = \underline{\hspace{2cm}}$</p>
A	2
B	3
C	4

<p>ما العدد الناقص في الجملة العددية</p> <p>_____ + 6 = 12</p>	4
4	A
5	B
6	C

<p>ما ناتج جملة الطرح</p> <p>13 - 6</p>	5
6	A
7	B
8	C

<p>ما هو ترتيب الثعبان</p> <p>الأول</p> 	6
الثالث	A
الرابع	B
الخامس	C

<p>ما عدد الأرانب أدناه</p> 	7
26	A
27	B
28	C

8	أي من التالي يمثل (خمسة عشر)؟	
A	1 آحاد و 5 عشرات	
B	5 آحاد و 1 عشرات	
C	5 آحاد و 5 عشرات	

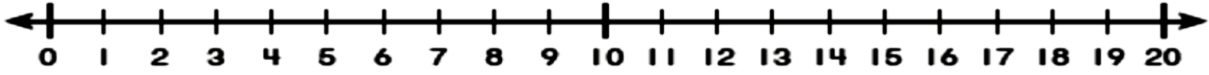
9	ما الجملة العددية التي تمثل الشكل أدناه	
A	$50 + 20$	
B	$50 + 30$	
C	$50 + 60$	

10	ما ناتج جملة الجمع	
$45 + 30$	A	55
B	65	
C	75	

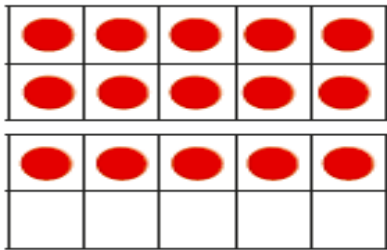
11	ما ناتج جملة الجمع	
$20 + 2$	A	22
B	23	
C	24	

السؤال الثاني : أجب عن السؤال التالي:

$$11 - 5 = \underline{\hspace{2cm}}$$

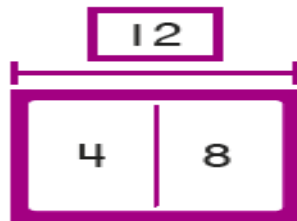


السؤال الثالث : أجد ناتج الطرح :



$$15 - 7 = \underline{\hspace{2cm}}$$

السؤال الرابع : أكتب عائلة الحقائق للنموذج :



$$\begin{array}{rclcl} \underline{\hspace{1cm}} & + & \underline{\hspace{1cm}} & = & \underline{\hspace{1cm}} \\ \underline{\hspace{1cm}} & + & \underline{\hspace{1cm}} & = & \underline{\hspace{1cm}} \\ \underline{\hspace{1cm}} & - & \underline{\hspace{1cm}} & = & \underline{\hspace{1cm}} \\ \underline{\hspace{1cm}} & - & \underline{\hspace{1cm}} & = & \underline{\hspace{1cm}} \end{array}$$

أحل المسائل التالية :

السؤال الخامس :

لدى سارة 14 لعبة ، أعطت صديقاتها 9 لعب ،

كم لعبة بقيت معها ؟

_____ ○ _____ = _____
بقي لدى سارة _____ ألعاب .

السؤال السادس :

تريد فاطمة شراء 13 كتاباً ، و قد اشترت حتى الآن 7 كتب ،

كم كتاباً بقي على فاطمة أن تشتري ؟

13 ○ _____ = _____
_____ كتاباً

السؤال السابع :

حصلت شيخة على المرتبة الأخيرة في السباق ، و قد شاركت في السباق 10 طالبات ،

ما المركز الذي حصلت عليه شيخة ؟

السؤال الثامن :

لدى مشاعل 5 صناديق ، يوجد 10 كتب في كل صندوق ،
ما عدد الكتب لدى مشاعل إجمالاً ؟

عَشْرَات _____

السؤال التاسع :

عدت ميثاء 49 قلماً ، ثم عدت 5 أقلام إضافية ،
ما عدد الأقلام التي عدتها ميثاء ؟

قلماً _____

السؤال العاشر :

لدى عائشة 15 صندوق و 2 من الصناديق ، وضعت 10 أزرار في الصندوق الأول ،
كم زراً وضعت في الصندوق الثاني ؟

أَزْرَارٍ _____

هُوَ _____ أَحَادٍ وَ _____ عَشْرَات.

السؤال العاشر :

لدى دانا 5 صناديق عصير و لدى نوره 5 صناديق عصير ، يوجد في كل صندوق 10 علب ،
ما إجمالي عدد العلب التي لدى دانا و نوره ؟

$$\underline{\hspace{2cm}} + \underline{\hspace{2cm}} = \underline{\hspace{2cm}}$$

علبة

السؤال الحادي عشر :

لدى العنود 33 ريال في حصالتها ، أعطاهما والدها 4 ريالات أخرى ،
كم ريالاً أصبح مع العنود ؟

$$\underline{\hspace{2cm}} + \underline{\hspace{2cm}} = \underline{\hspace{2cm}}$$

ريال