



اختبار الأول من الفصل الدراسي الثالث لمادة الرياضيات للصف الأول الأساسي

10

5

❖ السؤال الأول : استخدم التمثيل البياني . أجب عن الأسئلة التالية .

عصيرا لفاكهة المفضل	
عصير التفاح	
عصير البرتقال	
عصير الجزر	
عصير الفراولة	

كل



يمثل تلميذاً واحداً .

■ كم شخصاً اختارَ عصير التفاح ؟ -----

■ أي عصير فاكهة هو الأكثر تفضيلاً عند معظم التلاميذ ؟ -----

■ ما عدد التلاميذ الذين يفضلون عصير الفراولة ؟ -----

■ عدد التلاميذ الذين يفضلون عصير الجزر هو أكثر من عدد التلاميذ الذين يفضلون عصير البرتقال بـ -----

■ كم شخصاً شارك في استطلاع الرأي ؟ -----

❖ السؤال الثاني : حوّل الإجابة الصحيحة

الفصل المفضل		
الفصل	العدد بالرموز	الإجمالي
الصيف 	II IIII	
الخريف 	IIII IIII	
الربيع 	IIII	















1- كم شخصًا يحب الخريف ؟

a) 10

b) 9

c) 4

d) 7

الفاكهة المفضلة		
فراولة 	     	
برتقال 	   	
تفاح 		

2- كم يزيد عدد من اختاروا البرتقال عن اختاروا التفاح ؟

a) 3

b) 5

c) 6

d) 1











لون التفاح المفضل		
اللون	العدد بالرموز	الإجمالي
أحمر 	I	
أصفر 	III	
أخضر 	II	

3- ما نوع التمثيل البياني التالي ؟

a) جدول العلامات

b) تمثيل بالأعمدة

c) تمثيل بالصور

ما نحب عمله		
ممارسة الألعاب 	  	
قراءة كتاب 	    	
الرسم 	 	

4 - كم طالبًا يُحب قراءة الكتب ؟

a) 5

b) 2

c) 3

d) 4

5 - ما قيمة علامة العد ()

a) 7

b) 6

c) 8

d) 5