


United Arab Emirates  
Ministry of Education  
Al Bahar School for Basic  
Education c1



الإمارات العربية المتحدة  
وزارة التربية والتعليم  
مدرسة البحر للتعليم الأساسي ح1



# مراجعة

( مادة الرياضيات )  
الفصل الدراسي الثالث  
للفصل الأول  
العام الدراسي 2017/2018

إعداد المعلمة : هيفاء سعيد

## حوظ الإجابة الصحيحة


(1) قارن بين الطائرة والدراجة ؟




متساويان في الطول

الدراجة أطول

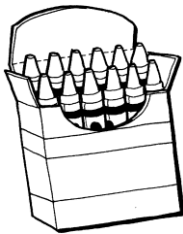
الطائرة أطول



(2) أي الأشياء أقصر من هذا الشكل ؟



(3) كتاب يبلغ طوله 10 مكعبات. علبة أقلام التلوين أقصر من الكتاب بمقدار 4 مكعبات. فكم يبلغ طول علبة أقلام التلوين ؟



6 مكعبات

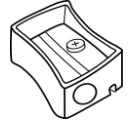

4 مكعبات

14 مكعبات

إعداد المعلمة : هيفاء سعيد

## حوط الإجابة الصحيحة

(4) ما الشي الأطول من القلم ؟



(5) تصل خولة إلى منزلها الساعة 3. وتصل أختها ريم إلى المنزل بعد ساعة واحدة. في أي ساعة تصل ريم إلى منزلها ؟



(6) يبدأ راشد قراءة القصص في الساعة 6:00. يقرأ لمدة ساعة واحدة. فمتى يتوقف عن القراءة؟



إعداد المعلمة : هيفاء سعيد

## حوظ الإجابة الصحيحة

(7) الساعة 8 و نصف ؟



(8) يبدأ حمد تمرين القفز في تمام الساعة 5 وينتهي بعد 30 دقيقة. ففي أي ساعة ينتهي التمرين ؟



(9) أي ساعة تظهر 12 و 30 دقيقة ؟





## حوط الإجابة الصحيحة

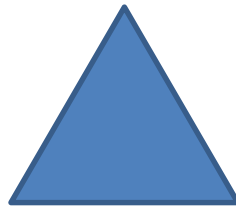

10) يقف عقرب الساعات بين 9 و 10 وعقرب الدقائق يقف على 6 فأي ساعة هذه ؟



11) شكل ثنائي الأبعاد لديه 4 أضلاع لها نفس الطول ؟

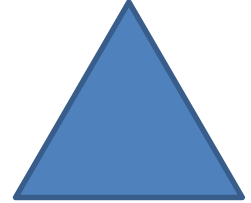



12) شكل ثنائي الأبعاد لديه 3 أضلاع و 3 رؤوس ؟




## حوط الإجابة الصحيحة

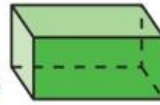
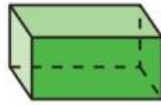
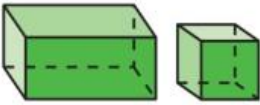
(13) شكل ثنائي الأبعاد لديه 4 أضلاع و 4 رؤوس.  
اثنان فقط من أضلاعه لهما نفس الطول ؟



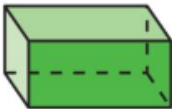
(14) شكل ثنائي الأبعاد لا أضلاع له ولا رؤوس؟



(15) كونت سارة هذا النمط ؟




ما الشكل الناقص؟



إعداد المعلمة : هيفاء سعيد

## أكمل كلاً مما يلي

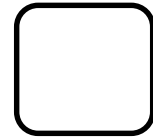


(16) اكتب الوقت الموضح على الساعة الرقمية :-



(17) اكتب الوقت الموضح بالدقائق على الساعة الرقمية :-




18) رتب الأشياء تبعاً للطول. اكتب 1 للجسم الطويل  
و 2 للأطول و 3 للأطول على الإطلاق.



19) ارسم عقرب الدقائق الموضح على الساعة التناظرية :-



20) تبدأ حصة الرياضيات في تمام الساعة 10:30 وتنتهي  
بعد ساعة . ففي أي ساعة تنتهي حصة الرياضيات ؟





إعداد المعلمة : هيفاء سعيد



(22) الأشكال التي لها  
0 رؤوس



(21) الأشكال التي لها  
4 أضلاع مستقيمة



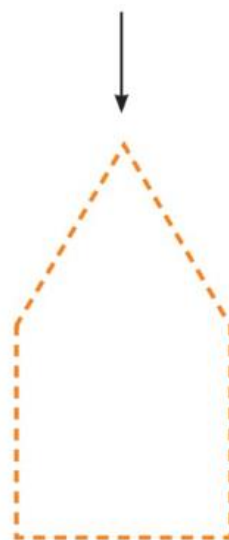
(24) الأشكال التي لها  
3 أضلاع و 3 رؤوس



(23) الأشكال المنحنية



25) ارسم دائرة حول الأشكال الهندسية المستخدمة في تكوين الشكل . ارسم خطاً مستقيماً لعرض نموذجك.



26) اكتب عدد الأضلاع والرؤوس.



أضلاع \_\_\_\_\_

رؤوس \_\_\_\_\_






أضلاع \_\_\_\_\_

رؤوس \_\_\_\_\_

اعداد المعلمة : هيفاء سعيد

(27) ارسم دائرة حول الأشياء المطابقة للشكل الهندسي.




(28) أنا شكل ثنائي الأبعاد لدى أقل من 4 أضلاع ، وكل أضلاعي مستقيمة. فأني شكل أنا ؟

مربع

مثلث

مستطيل



(29) جمعت سارة شكلين معاً. فكونت الشكل التالي. فما الشكلان اللذان جمعتهما بدرجة معاً ؟

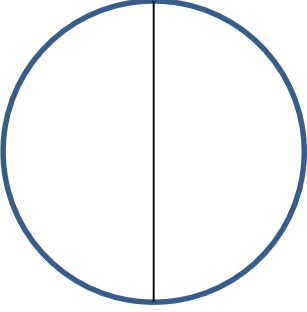
شبهها منحرف

مربعان

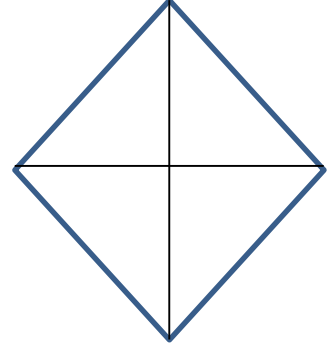
مثلثان

اعداد المعلمة : هيفاء سعيد

(30) اكتب عدد الأجزاء المتساوية



أجزاء متساوية \_\_\_\_\_

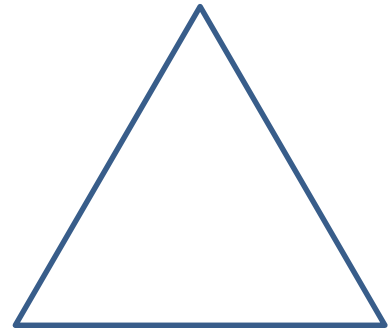


أجزاء متساوية \_\_\_\_\_

(31) ارسم خطوطاً مستقيمة لعرض الأجزاء المتساوية.



4 أجزاء متساوية



جزءان متساويان




(33) ارسم النصف الناقص



(32) ارسم الربع الناقص

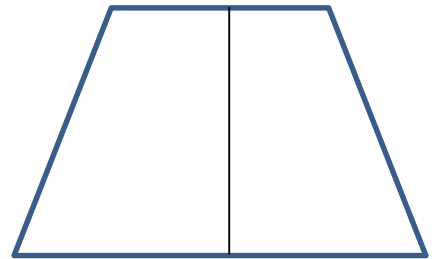


(35) لون ربع الشكل  
واكتب عدد الأجزاء  
المظلمة.



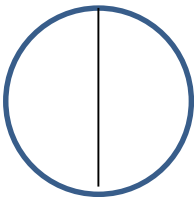
\_\_\_\_\_ من \_\_\_\_\_ أجزاء

(34) لون نصف الشكل  
واكتب عدد الأجزاء  
المظلمة.



\_\_\_\_\_ من \_\_\_\_\_ أجزاء

(36) ارسم دائرة حول الشكل الذي يظهر الأنصاف :



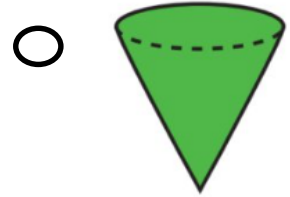

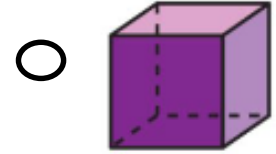
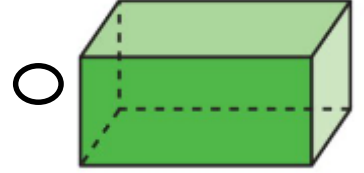
### 37) صل الأشكال بمسمياتها الصحيحة

المكعب

منشور مستطيل

مخروط

الإسطوانة



38) أخذت مريم إسطوانة .  
ما عدد الدوائر التي لديها ؟



2



4






6



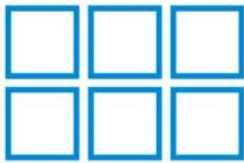
8



(39) ارسم دائرة حول شكل الأوجه التي تكون الجسم.



(40) ارسم دائرة حول الجسم الذي يمكن تكوينه من الأوجه.



إعداد المعلمة : هيفاء سعيد