




اختبار لمادة الرياضيات

الصف الثاني ()
استخدام علامات الاحصاء
أسم الطالب :

وجوه خضر	وجوه زرق	وجوه حمر
		

1 - كم مرة ظهر اللون الأخضر ؟





2 - كم مرة ظهر اللون الأزرق ؟

3 - ما مجموع اللون الأخضر مع اللون الأزرق ؟

4 - ارسم علامات العد 9 في الجدول (وجوه حمر) .

5 - ما عدد الكل ؟



وجوه خضر	وجوه زرق	وجوه حمر
		
		

1 - كم مرة ظهر اللون الأزرق ؟

2 - كم مرة ظهر اللون الأحمر ؟

3 - ما مجموع اللون الأزرق مع اللون الأحمر ؟

4 - ارسم علامات العد 12 في الجدول (وجوه خضر) .

5 - ما عدد الكل ؟