

# تدريبات لامتحان الرياضيات صف ثاني الفصل الدراسي الثاني 2019

## مراجعة المفردات

١١. حوِّط حول الرقم الذي يمثل **المئات**. ارسم خطًا واحدًا أسفل رقم **الآحاد**. ارسم خطًا مزدوجًا أسفل رقم **العشرات**.

600

## تمرين على الاختبار

٨. يحتوي عدد على 6 عشرات و 9 آحاد و 5 مئات. ما هذا العدد؟

695  
☐

596  
☐

569  
☐

965  
☐

## مراجعة المفردات

- حوِّط حول الأعداد التي تمثل الكلمة التالية.  $300 + 42$
٩. الصيغة الموسعة  $300 + 42$   $300 + 40 + 2$   $3 + 4 + 2$

## تمرين على الاختبار

١٣. عدد ما يوجد به الرقم 5 في منزلة العشرات. والرقم الموجود في منزلة الآحاد أقل من الرقم الموجود في منزلة العشرات بمقدار 3. والرقم الموجود في منزلة المئات أقل من الرقم الموجود في منزلة الآحاد بمقدار ١. فما العدد؟

5١2  
☐

2١5  
☐

١52  
☐

١25  
☐

## مراجعة المفردات

١٠. ضع دائرة حول العدد الذي يُمثل **الآلاف**.

١,365  
↑

١,000  
↑

3,65١  
↑

## تمرين على الاختبار

11. حدد نمط الأعداد الذي يمثل العدد بمقدار 10 تنازليًا.

820, 830, 840

☐

980, 970, 960

☐

923, 922, 921

☐

400, 500, 600

☐

## مراجعة المفردات

صل الكلمات بما يطابقها.

=

61. أكبر من

>

17. أصغر من

<

18. يساوي

## تمرين على الاختبار

20. لدى فاطمة 368 من بذور زهرة دوار الشمس. فكم عدد المئات التي لديها؟

3

☐

6

☐

8

☐

368

☐

## تمرين على الاختبار

6. كيف يمكنك تفكيك العدد 128 لإيجاد حل الجملة العددية للجمع؟

$$128 + 94 = \underline{\hspace{2cm}}$$

$$108 + 20$$

☐

$$100 + 28$$

☐

$$122 + 6$$

☐

$$120 + 8$$

☐

## تمرين على الاختبار

18. أوجد حاصل الجمع.

$$600 + 300 = \underline{\hspace{2cm}}$$

900

☐

300

☐

9

☐

3

☐

منتديات صقر الجنوب التعليمية - المنهاج

الإماراتي للعام ٢٠١٩

## تمرين على الاختبار

13. أوجد ناتج الجمع.

$$825 + 100 = \underline{\hspace{2cm}}$$

725

☐

900

☐

925

☐

920

☐

## تمرين على الاختبار

18. عدت سهيلة 297 بذرة بطيخ. وعدت ياسمين عددًا أكبر من بذور البطيخ التي عدتها سهيلة بمقدار 100 بذرة. كم عدد البذور التي عدتها ياسمين؟

100

☐

197

☐

297

☐

397

☐

## تمرين على الاختبار

12. أوجد ناتج الجمع.

$$368 + 619 = \underline{\hspace{2cm}}$$

919

☐

968

☐

987

☐

997

☐

## تمرين على الاختبار

12. أوجد ناتج الجمع.

$$373 + 465 = \underline{\hspace{2cm}}$$

738

☐

838

☐

938

☐

818

☐

## تمرين على الاختبار

12. أوجد ناتج الجمع.

$$369 + 264 = \underline{\hspace{2cm}}$$

633

☐

533

☐

433

☐

133

☐

## تمرين على الاختبار

11. حدد الإجابة التي توضّح كيفية إعادة كتابة الجملة العددية وحلها.

$$427 + 228 = \underline{\hspace{2cm}}$$

$$\begin{array}{r} 427 \\ 228 + \\ \hline 6415 \end{array}$$

☐

$$\begin{array}{r} 3 \text{ 11 17} \\ 427 \\ 228 - \\ \hline 199 \end{array}$$

☐

$$\begin{array}{r} 427 \\ 228 + \\ \hline 645 \end{array}$$

☐

$$\begin{array}{r} 1 \\ 427 \\ 228 + \\ \hline 655 \end{array}$$

☐

## تمرين على الاختبار

23. الشهر الماضي، شاهدت حمدة التلفزيون لمدة 115 ساعة. والشهر الحالي، ستقضي ساعات أقل في مشاهدة التلفزيون. وهي تريد أن يكون مجموع المشاهدات خلال الشهرين 200 ساعة. فكم عدد الساعات التي يمكنها مشاهدة التلفزيون خلالها هذا الشهر؟

85

☐

95

☐

185

☐

315

☐

## تمرين على الاختبار

6. كيف يمكنك تفكيك 355 لحل  $355 - 94$ ؟

355 و 100

☐

300 و 55

☐

255 و 100

☐

255 و 94

☐

## تمرين على الاختبار

14. أي جملة عددية مما يلي يمكن أن تساعدك في حل  $700 - 500$ ؟

$7 - 2$

☐

$2 + 5$

☐

$5 + 2$

☐

$7 - 5$

☐

## تمرين على الاختبار

13. أوجد ناتج  $363 - 100$ .

163

☐

263

☐

363

☐

463

☐

## تمرين على الاختبار

16. أوجد ناتج  $300 - 300$ .

600  
☐

300  
☐

100  
☐

0  
☐

## تمرين على الاختبار

15. أي مسائل الطرح التالية بحاجة إلى إعادة تجميع من أجل حلها؟

$$392 - 222$$

☐

$$385 - 266$$

☐

$$692 - 321$$

☐

$$295 - 172$$

☐

## تمرين على الاختبار

15. أي مسائل الطرح التالية لا تحتاج إلى إعادة تجميع من أجل حلها؟

$$363 - 148$$

☐

$$734 - 371$$

☐

$$357 - 147$$

☐

$$367 - 288$$

☐

## تمرين على الاختبار

11. أي المسائل تحتاج لإعادة التجميع مرتين؟

$$354 - 134$$

☐

$$367 - 263$$

☐

$$364 - 274$$

☐

$$364 - 278$$

☐

## تمرين على الاختبار

11. أي مسألة مما يلي توضح كيفية إعادة كتابة المسألة؟

$$368 - 179 = \underline{\hspace{2cm}}$$

$$\begin{array}{r} 368 \\ - 179 \\ \hline 200 \end{array}$$

☐

$$\begin{array}{r} 179 \\ - 368 \\ \hline 487 \end{array}$$

☐

$$\begin{array}{r} 368 \\ - 179 \\ \hline 189 \end{array}$$

☐

$$\begin{array}{r} 368 \\ + 179 \\ \hline 547 \end{array}$$

☐

مكتبات صقر الجنوب التعليمية  
الاماراتي للعام ١٩٢٠



## تمرين على الاختبار

4. نضجت 152 ثمرة طماطم في الحديقة العام الماضي. وهذا العام لم ينضج سوى 98 ثمرة. فكم عدد ثمرات الطماطم الزائدة في العام الماضي؟

252  
☐

250  
☐

54  
☐

52  
☐



## تمرين على الاختبار

14. أوجد ناتج  $600 - 289$ .

889  
☐

311  
☐

301  
☐

489  
☐

## تمرين على الاختبار

23. يوجد 334 سيارة في موقف السيارات يوم الأحد. يوم الاثنين، يوجد 182 سيارة. كم عدد السيارات الزائدة يوم الأحد؟

334  
☐

182  
☐

152  
☐

150  
☐

## مراجعة المفردات

حوّط حول الصورة التي تطابق الكلمة.

3. تمثيل بياني بالصور



الحيوان الأليف المفضل				
				سكند
				أرب
				فهد

المفتاح: كل صورة حيوان = 1 صوت

نوع الكتاب	الاحصاء	الإجمالي
مغامرات	11	
مرح	1111	
رياضة	1111	

## تمرين على الاختبار


9. كم إجمالي عدد الأشخاص الذين ولدوا في مايو وأغسطس؟

7  
☐

8  
☐

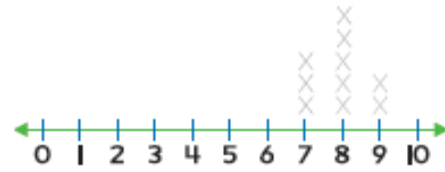
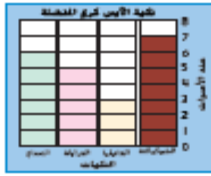
3  
☐

4  
☐



## مراجعة المفردات

4. ضع دائرة حول التمثيل البياني بالنقاط المجمعة.



## تمرين على الاختبار

7. كم عدد الأشخاص الذين يمتلكون 5 قطط؟



2  
○  
3  
○  
0  
○  
1  
○

## تمرين على الاختبار

15. توجد 4 زرافات في حديقة الحيوان. كل زرافة لها 4 أرجل. فكم عدد الأرجل إجمالاً؟

2  
○  
4  
○  
8  
○  
16  
○