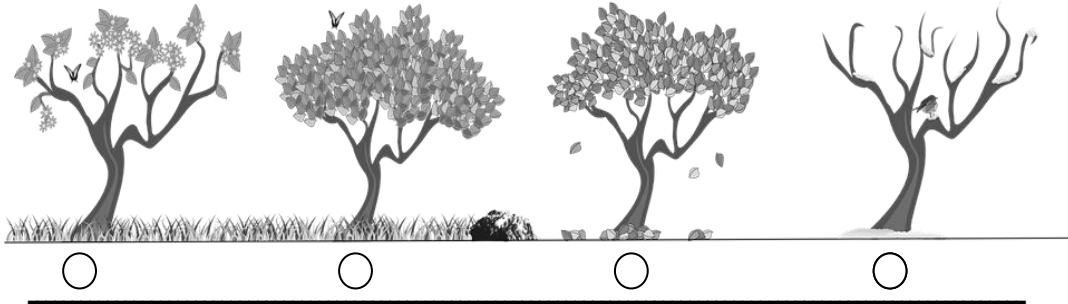


ضع إشارة ✓ أو X وفق العبارات التالية :

- 1 - في فصل الشتاء الطقس بارد وممطر ومثلج ()
- 2 - في فصل الشتاء يصبح الليل طويل ()
- 3 - في فصل الشتاء الحيوانات تتكاثر وتلد صغارها ()
- 4 - في فصل الشتاء تسقط جميع أوراق الأشجار ()
- 5 - في فصل الشتاء يرتدي الناس ملابس نظارات شمسية ()

لون دائرة شكل الشجرة في فصل الشتاء




اختر الإجابة الصحيحة :

- 1 - في فصل الشتاء يكون الطقس (بارد - دافئ)
- 2 - في فصل الشتاء يصبح النهار (طويل - قصير)
- 3 - ينمو للحيوانات في فصل الشتاء فرو (أبيض - بني)
- 4 - في فصل الشتاء نشرب المشروبات (الباردة - الساخنة)
- 5 - في فصل الشتاء يرتدي الناس ملابس (خفيفة - صوفية)
- 6 - في فصل الشتاء تكون السماء غالباً (غائمة - صافية)
- 7 - الأشجار في فصل الشتاء (تسقط جميع أوراقها - تتفتح أزهارها)

ضع إشارة ✓ أو X وفق العبارات التالية :

- 1 - في فصل الربيع الطقس دافئ ويتساقط القليل من المطر ()
- 2 - في فصل الربيع الحيوانات تهجر لبلاد دافئة ()
- 3 - في فصل الربيع تتفتح أزهار وأوراق الأشجار ()
- 4 - في فصل الربيع يرتدي الناس ملابس سميكة ()
- 5 - الفصل هو وقت من أوقات السنة ()

لون دائرة شكل الشجرة في فصل الربيع



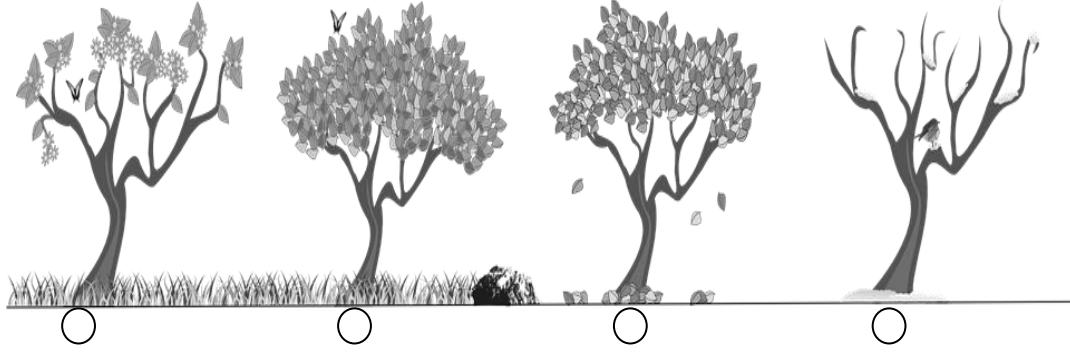
اختر الإجابة الصحيحة :

- 1 - في فصل الربيع يكون الطقس (عاصف - دافئ)
- 2 - ينمو للحيوانات في فصل الربيع فرو (أبيض - بني)
- 3 - في فصل الربيع يرتدي الناس ملابس (خفيفة - صوفية)
- 4 - في فصل الربيع تكون السماء غالباً (غائمة - صافية)
- 5 - الأشجار في فصل الربيع (تسقط جميع أوراقها - تتفتح أزهارها)
- 6 - الفصل الذي يأتي بعد فصل الربيع (الخريف - الصيف)

ضع إشارة ✓ أو X وفق العبارات التالية :

- 1 - في فصل الصيف يكون الطقس حار ()
- 2 - في فصل الصيف الحيوانات تلد صغارها وتتكاثر ()
- 3 - في فصل الصيف النباتات تنضج ثمارها وتكبر ()
- 4 - في فصل الصيف الطقس يرتدي الناس ثياب سميكة ()
- 5 - في فصل الصيف يرتدي الناس القبعات والنظارات الشمسية ()

لون دائرة شكل الشجرة في فصل الصيف




اختر الإجابة الصحيحة :

- 1 - في فصل الصيف يكون الطقس (حار - ماطر)
- 2 - في فصل الصيف يصبح النهار (طويل - قصير)
- 3 - في فصل الصيف نشرب المشروبات (الباردة - الساخنة)
- 4 - في فصل الصيف يرتدي الناس ملابس (خفيفة - صوفية)
- 6 - في فصل الصيف تكون السماء غالباً (غائمة - صافية)
- 7 - في فصل الصيف يذهب الناس كثيراً إلى (البحر - الغابة)

ضع إشارة ✓ أو X وفق العبارات التالية :

- 1 - في فصل الخريف يكون الطقس بارد قليلاً ()
- 2 - في فصل الخريف الحيوانات تهاجر إلى بلاد دافئة ()
- 3 - في فصل الخريف تتفتح الأوراق والأزهار ()
- 4 - في فصل الخريف يرتدي الناس ملابس سميقة ()

لون دائرة شكل الشجرة في فصل الخريف



اختر الإجابة الصحيحة :

- 1 - في فصل الخريف يكون الطقس (عاصف - حار)
- 2 - في فصل الخريف تكون الرياح (خفيفة - شديدة)
- 3 - في فصل الخريف يرتدي الناس ملابس (خفيفة - سميقة)
- 4 - في فصل الخريف تكون السماء غالباً (غائمة - صافية)
- 5 - في فصل الخريف تبدأ أوراق الأشجار (بالتساقط - بالتفتح)
- 6 - في فصل الخريف لون أوراق الأشجار (أصفر - أخضر)
- 7 - في فصل الخريف تهاجر الحيوانات إلى بلاد (باردة - دافئة)

لون دائرة صورة فصل الصيف



☐



☐



☐

لون دائرة الإجابة الصحيحة : -



الطقس في هذه الصورة هو طقس

غائم - حار - عاصف

☐ ☐ ☐

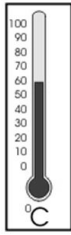
الفصل في هذه الصورة هو فصل

الشتاء - الصيف - الربيع

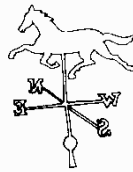
☐ ☐ ☐



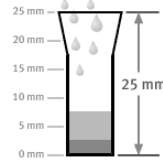
الأداة التي تستخدم لتحديد اتجاه الرياح



☐



☐



☐



☐



☐



☐

يرتدي الناس في فصل الصيف

لون الشجرة التي تكون في فصل الخريف



☐




☐



☐

حدد قراءة درجة الحرارة التي يظهرها الترمومتر



- 20

☐

60

☐

10

☐

رقم لترتب الفصول الأربعة في السنة

الصيف

☐

الشتاء

☐

الربيع

☐

الخريف

☐