



تدريب رياضيات (3)
الفصل الدراسي الأول / الصف الأول

مدرسة الغشامية الابتدائية للبنين

اسم التلميذ

أعد لأجمع. أستعمل خط الأعداد للمساعدة؟

1




1) $3 + 2 = \text{-----}$

2) $7 + 3 = \text{-----}$

مع حمد 4 أقلام تلوين، ومع صديقه راشد 4 أقلام تلوين،
فكم قلماً مع الاثنين معاً؟

2



أقلام تلوين -----

استعمل حقيقة الضعف لحل حقيقة قريبة الضعف؟

3

$$2 + 4 = ?$$

$$\underline{\quad\quad} + \underline{\quad\quad} = \underline{\quad\quad}$$

$$\underline{\quad\quad} + \underline{\quad\quad} = \underline{\quad\quad}، \text{إِذَنْ،}$$

استعمل الأعداد الموجودة على البطاقات و اكتب جملتي جمع.

4



$$3 + \text{-----} = \text{-----}$$

$$5 + \text{-----} = \text{-----}$$





تدريب رياضيات (2)
الفصل الدراسي الأول / الصف الأول


مدرسة الغشامية الابتدائية للبنين

اسم التلميذ

السؤال الأول: ضع دائرة حول رمز الإجابة الصحيحة:

1	أي جملة جمع تمثل الصورة؟ 
A	$2 + 2 = 4$
B	$3 + 3 = 6$
C	$3 + 4 = 7$

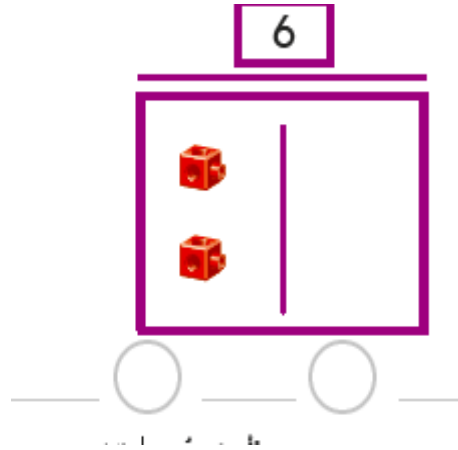
2	يوجد 9 كرات سلة، أخذت منها 4 ، كم كرة تبقت؟ 
A	3
B	4
C	5

3	في العلبة 10 أقلام تلوين، سقط منها 3 أقلام . كم قلماً بقي في العلبة؟  $10 - 3 = \text{-----}$
A	7
B	8
C	9

4

لدى أحمد 2 سمكات خضراء، اشترى المزيد من السمك و صار لديه 6 سمكات.

مثل جملة الجمع و أكتبها و ما عدد السمكات التي اشتراها؟



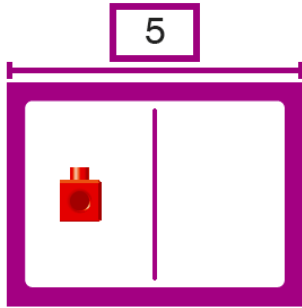
5

ارسم المكعبات الناقصة ثم أكتب جملة عددية تمثل القصة.

مع حمد 5 سيارات لعبة، أعطى لزميلة سيارة واحدة.

كم سيارة تبقت مع حمد؟

الإجابة:



$$\underline{\quad\quad\quad} - \underline{\quad\quad\quad} = \underline{\quad\quad\quad}$$







تدريب رياضيات (1)
الفصل الدراسي الأول / الصف الأول
وحدة الأعداد

مدرسة الغشامية الابتدائية للبنين

اسم التلميذ

السؤال الأول: ضع دائرة حول رمز الإجابة الصحيحة:

ما عدد السمكات التالية ؟		1
		
A	2	
B	3	
C	5	

أي المجموعات التالية عددها 5 حافلات ؟		2
A		
B		
C		

ما العدد الكلي للعصافير؟		3
		
A	2 و 4 يصبح 6	
B	2 و 5 يصبح 7	
C	2 و 6 يصبح 8	

أكتب جملة الجمع المناسبة للمجموعتين.



مع أحمد 3 سيارات ، و مع خالد 6 سيارات . مثلها في مجموعتين.

أكتب جملة الجمع للسيارات مع أحمد وخالد معاً؟

--	--

$$\underline{\hspace{2cm}} + \underline{\hspace{2cm}} = \underline{\hspace{2cm}}$$