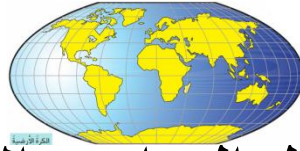


مُرَاجَعَةٌ دراسَات إجتماعية صف (3)

(العام الدراسي 2018-2019)



الفصل الدراسي الأول

ملخص مهارات ومعارف الوحدة الأولى (بيئتي الإماراتية)

مهارة التصنيف	مهارة الربط	مهارة الاكتشاف
مهارة التلوين	مهارة إكمال الجمل	مهارة التمييز



سارة منصور

اسم الطالب
الصف والشعبة

مُعَلِّمة المادة: سارة منصور

الدرس 1 : النظام البيئي في كوكب الأرض

السؤال الأول : ضع علامة صح أمام العبارة الصحيحة وعلامة خطأ أمام العبارة الخاطئة :

1. ينتج عن الحركة السنوية للأرض تعاقب الليل والنهار . ()
2. مسبار الأمل مشروع إماراتي سيتوجه نحو كوكب زحل . ()
3. تدور الأرض مرتين مرة حول نفسها ومرة حول الشمس . ()
4. الكوكب الأحمر في المجموعة الشمسية هو كوكب زحل . ()
5. كوكب الأرض يعيش عليه الإنسان وشكله شبه كروي ويحيط به الغلاف الجوي . ()
6. مشروع دولة الإمارات على كوكب المريخ هو مسبار الأمل . ()

السؤال الثاني : اكمل الفراغات التالية :

(الشرق - 24 - السنوية - الغرب - الليل والنهار - اليومية - الفصول الأربعة - 365)

- تدور الأرض حول نفسها كل ساعة ويسمى بالحركة..... فينتج عنه
- دوران الأرض حول الشمس من إلى تسمى بالحركة
-وتستغرق مدة دورنها يوماً وينتج عنها

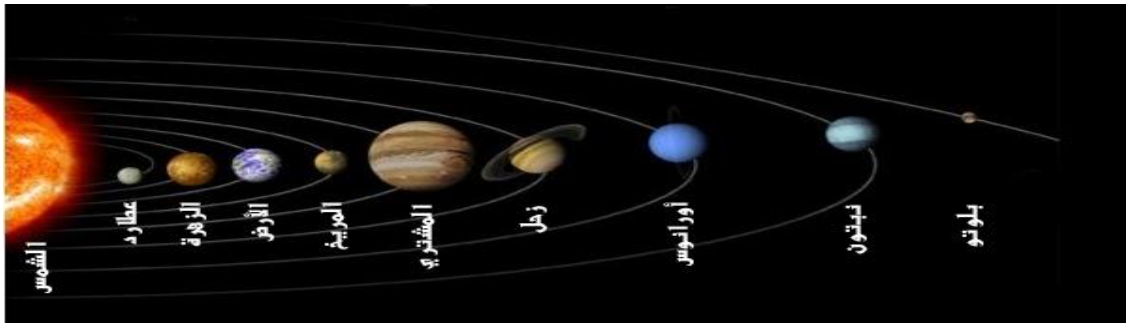
السؤال الثالث : اختر الإجابة الصحيحة :

1. أنا أصغر الكواكب في المجموعة الشمسية (الزهرة - الأرض - بلوتو)
2. سميت بنجم الصبح والمساء ودرجة حرارتي عالية (الزهرة - المريخ - زحل)
3. لوني أحمر بسبب أكسيد الحديد في ترابي (المريخ - الأرض - نبتون)
4. أنا أقرب كوكب في المجموعة الشمسية (المشتري - زحل - عطارد)
5. أنا أكبر واضخم الكواكب (أورانوس - المشتري - بلوتو)
6. أنا لدى 17 قمرا يطلق على بالكوكب الأزرق . (نبتون - الأرض - المريخ)
7. أنا سابع كوكب بعيدا عن الشمس (بلوتو - أورانوس - بلوتو)
8. أنا شكلي كروي ويعيش على سطحي الإنسان . (زحل - الأرض - بلوتو)

السؤال الرابع : صل بين الكواكب وترتيبها في المجموعة الشمسية :

الترتيب	الكواكب
4	المشتري
2	زحل
1	عطارد
5	نبتون
7	المريخ
8	الزهرة
6	أورانوس
3	الأرض
9	بلوتو

السؤال الخامس : اكتب رقم الكوكب من حيث القرب من الشمس :



المريخ	نبتون	عطارد	الأرض	المشتري	الكوكب
					رقمة

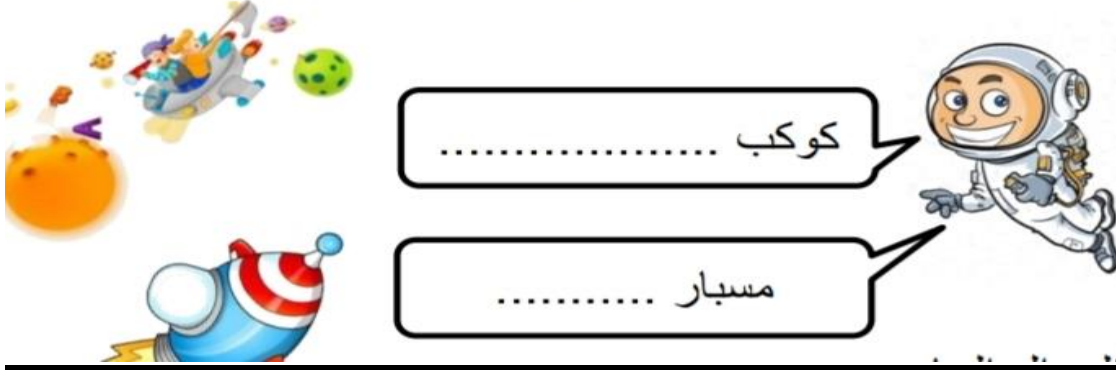
اكمل الفراغات بالكلمات الآتية : (المريخ - شبه كروي - الكائنات الحية - الأرض)

* أنا كوكب شكلي ويعيش على سطحي

..... مشروع مستقبلي على كوكب

السؤال السادس :

اذكر أسم الكواكب لمشروع دولتي الحبية المستقبلي

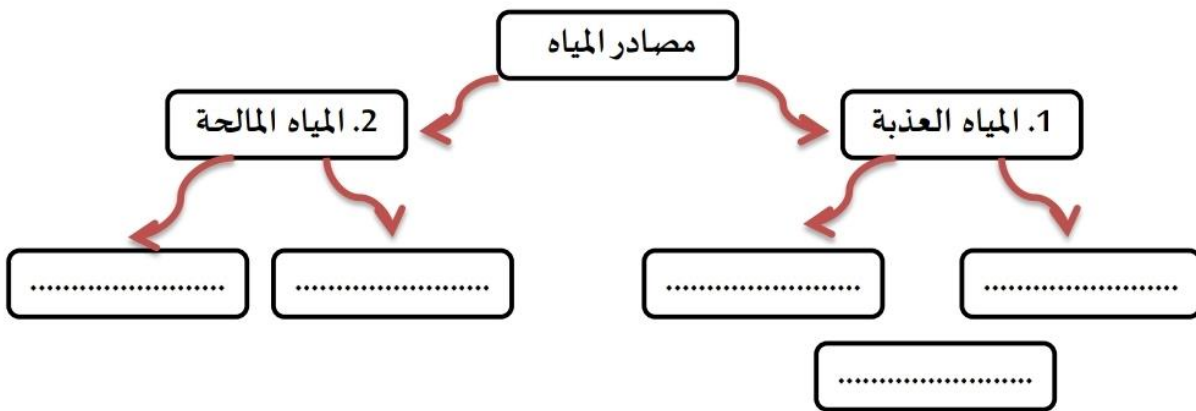


السؤال السابع : ضع علامة صح أو علامة خطأ :


- 1- من مصادر المياه العذبة البحار . ()
- 2- تقع دولة الإمارات في نطاق المناخ الصحراوي الذي يتميز بالحرارة وقلّة الأمطار . ()

السؤال الثامن : أكمل الخريطة الذهنية :

(المياه الجوفية – البحار والمحيطات – البحيرات المالحة – الكتل الجليدية – الأنهار والبحيرات)



السؤال التاسع : من المشكلات التي تعاني منها دولة الإمارات :



السؤال العاشر : أكمل الفراغات التالية :

- 1- مناخ دولة الإمارات العربية المتحدة هو ويتميز ب
- و..... مما يؤدي إلي حدوث
- 2-الإجراءات والحلول التي تعتمدها دولة الإمارات لتأمين المياه للسكان :
-
 -

السؤال الحادي عشر : سجل اسفل كل صورة مصادر التلوث :

التربة	الماء	الهواء
		

السؤال الثاني عشر : لون الكائنات الحية في هذه الصورة :



الدرس 2 : بيئي مسؤوليتي

السؤال الأول : ضع علامة صح أو علامة خطأ :

1. التحقق العلمي والتكنولوجي الذي حققه الإنسان أدى الى تطور حياته في مجالات مختلفة . ()
2. طبقة الأوزون هي جزء من الغلاف الجوي لكوكب المريخ والذي يحتوى بشكل مكثف على الأوزون . ()
3. من مسببات ثقب الأوزون الدخان المتصاعد في الهواء . ()
4. حماية البيئة جزء لا يتجزأ من تاريخنا وتراثنا ونمط حياتنا (الشيخ زايد بن سلطان ال نهيان رحمه الله) ()
5. نتج عن تلوث الهواء تدمير طبقة الأوزون . ()
6. إعادة التدوير من الأعمال التي تحمي البيئة من التلوث . ()
7. نحافظ على نظافة بيئتنا برمي النفايات في الحاويات المخصصة لها . ()
8. يجب علينا أن نحرص على عدم تلويث شواطئنا . ()
9. نحافظ على نظافة بيئتنا بأن لا نشارك في حملات التطوع لتنظيف شواطئنا . ()
10. أرمى النفايات على شاطئ البحر . ()
11. ابتعد عن استخدام الاكياس البلاستيكية . ()
12. أعيد تدوير النفايات في أشياء ممكن الاستفادة منها . ()
13. اترك صنبور المياه مفتوحاً . ()
14. نحافظ على نظافة بيئتنا برمي النفايات في الحاويات المخصصة لها . ()
15. يجب علينا أن نحرص على عدم تلويث شواطئنا . ()
16. نحافظ على نظافة بيئتنا بأن لا نشارك في حملات التطوع لتنظيف شواطئنا . ()

السؤال الثاني : اكمل البطاقة التعريفية الآتية :

(الضارة - الهواء - الأوزون)

ينتج عن تلوث تدمير طبقة التي تحميها من اشعة الشمس

.....

(الحاويات - إعادة تدوير - النباتات - مدينتي)

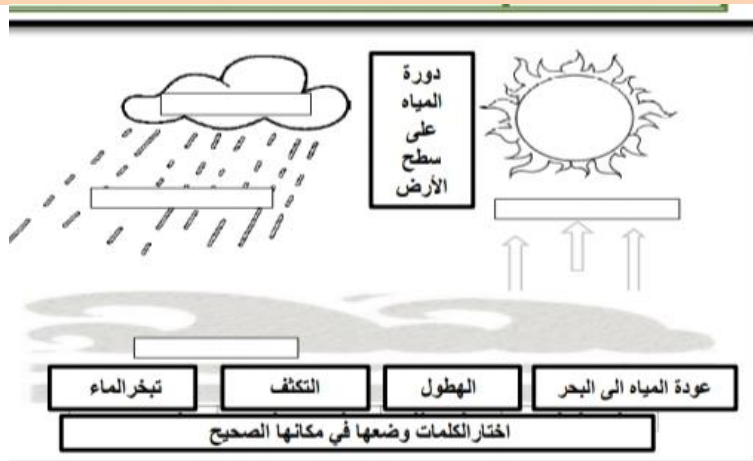
1. أشارك بدور فاعل ونشيط في المحافظة على نظافة
2. اتجنب إلحاق الأذى بالحيوانات و
3. أتخلص من النفايات بوضعها في المخصصة لها .
4. استخدمني للأشياء المستعملة سابقا في تصميم أعمال جديدة ومفيدة تسمى

السؤال الثالث : ضع الكلمات التالية في المكان المناسب :

(التقدم الزراعي - التقدم العمراني - التقدم التقني - التقدم الصناعي)



السؤال الرابع : ضع الكلمات في مكانها المناسب :



السؤال الخامس : صل بين الكلمة والصورة الصحيحة :

1 / العالمية



حماية طبقة الأوزون

قانون البحار



2 / المحلية



جمعية أصدقاء البيئة

وزارة التغير المناخي
والبيئة



السؤال السادس : أكمل جهود دولة الإمارات في حماية البيئة :



جائزة الدولية للبيئة

جائزة للوعي البيئي



جائزة التقديرية للبيئة

الدرس الثالث : فخر الإمارات (الشيخ محمد بن زايد - حفظه الله -)

السؤال الأول : اكمل الفراغات الآتية باختيار الكلمة المناسبة :

(2004 م - الإسلامي - الثالث - الشهيد - أم الإمارات)

1. ترتيب صاحب السمو الشيخ محمد بن زايد بين اخوته هو
2. تولى صاحب السمو الشيخ محمد بن زايد منصب ولي عهد ابوظبي في سنة
3. يعتبر صاحب السمو الشيخ محمد بن زايد مؤثراً في العالم العربي و
4. تحتفل دولة الإمارات في 30 نوفمبر من كل عام بيوم
5. تلقب الشيخة فاطمة بنت مبارك ب



السؤال الثاني : اكمل البطاقة التعريفية الآتية :

1. من صاحب هذه الصورة الشيخ (محمد بن راشد حفظه الله - محمد بن زايد حفظه) الله
2. ولد صاحب السمو في مدينة الشارقة - عجمان - العين
3. اسم والده..... (الشيخ زايد بن سلطان رحمه الله - الشيخ راشد بن سعيد رحمه الله)
4. اسم والدته (الشيخة سلامة - الشيخة فاطمة بن مبارك)

السؤال الثالث : اكمل الفراغات :

1. ما اسم هذا الشعار :.....
2. متى تحتفل دولة الإمارات العربية به



السؤال الرابع : اكتب أهم مجالات اهتمام الشيخ محمد بن زايد - حفظه الله -



.....



.....



.....

السؤال الخامس : اكمل البطاقة التعريفية الآتية :

- صاحب السمو الشيخ
- مكان الميلاد
- اسم والد الشيخ
- اسم والدته الشيخة
- صفاته

السؤال السادس : اكتب بعض انجازات صاحب السمو الشيخ محمد بن زايد ؟



.....



.....



.....



.....

السؤال السابع :

من خلال الصور أستنتج بعض صفات صاحب السمو الشيخ محمد بن زايد آل نهيان.



.....



.....



.....

السؤال الثامن :

صل يا بطل مواقف صاحب السمو الشيخ محمد بن زايد داخل دول الامارات وخارجها:-

يتفقد القوات الاماراتية في
السعودية



مساندة أسر الشهداء



السؤال التاسع :

1- اذكر السلاح الحقيقي في وقتنا الحالي كما حدده سمو الشيخ محمد بن زايد

.....

2- سجل دورك تجاه وطننا الغالي وأنت علي مقاعد الدراسة