

الصف: الثاني الأساسي

المادة: الرياضيات

الدرس: الوقت بالساعة

التاريخ: 1820 / 04 / 09

إعداد المعلمة: عائشة راغب



ورقة عمل عدد 1




دائرة التعليم والمعرفة
مدرسة الرؤية الخاصة
الفصل الدراسي الثالث

الاسم:

مؤشرات الأداء:

1- ان يكتب الطالب الوقت لاقرب ساعة .


















تذكر : ان كلمة ساعة أقصر من كلمة دقيقة

لذلك فان عقرب الساعة القصير يمثل

الساعات و العقرب الطويل للساعة يمثل الدقائق

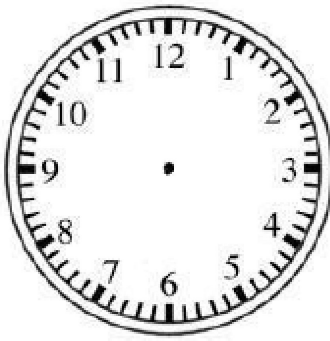
السؤال الأول : اذكر الوقت الظاهر أمامك



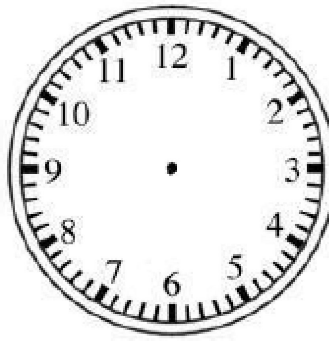


: - ارسم عقارب الساعة ثم أكتب الوقت

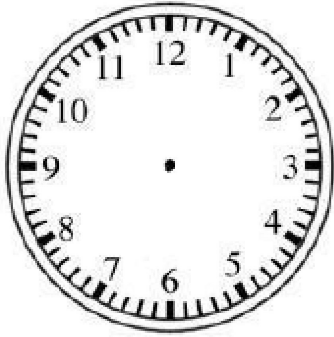
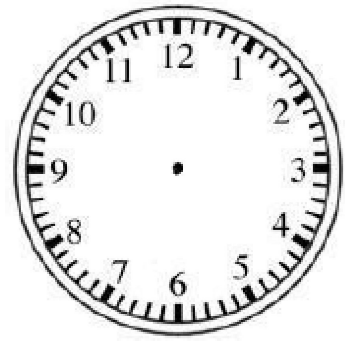
الساعة 8



الساعة 12



الساعة 9



مسائل كلاسيكية
مهمة جدا

السؤال الثاني : حل المسائل

انها بعد الساعة السادسة و قبل الثامنة . فما الوقت اذا كان (1)

تماما موجود على الساعة ؟

. وضح الوقت الظاهر على وجه الساعة التناظرية

(2) الوقت على ساعة أسيل هو 5 ساعات بعد 3:00. اكتب الرقم الموجود على ساعته .

3) يصل خميس الى المنزل في الساعة 2 . و يصل سعيد الى المنزل بعد ساعة واحدة .

فما الوقت الذي يصل فيه سعيد ؟

بارك الله فيك