

مراجعة عامة لمادة الدراسات الاجتماعية والتربية الوطنية  
للفصل الرابع للفصل الدراسي الأول 2017 – 2018

السؤال الأول : ضع إشارة ( / ) أمام العبارة الصحيحة وإشارة ( X ) أمام العبارة غير الصحيحة :

- 1- تتكون اليابسة على الكرة الأرضية من سبع قارات . ( )
- 2- يعرف خط الطول الرئيسي بخط جرينتش . ( )
- 3- يبلغ مجموع دوائر العرض 360 دائرة عرضية . ( )
- 4- يقع مدار السرطان في نصف الكرة الجنوبي . ( )
- 5- يمر خط الاستواء عند دائرة عرض صفر . ( )
- 6- تبلغ مساحة دولة الإمارات 83,600 كم<sup>2</sup> . ( )
- 7- تأسست دولة الإمارات العربية المتحدة في 2 ديسمبر عام 1971 م . ( )
- 8- يمر مدار الجدي في الجزء الجنوبي من دولة الإمارات العربية المتحدة . ( )
- 9- نشأت حضارة ملوفا في أبوظبي . ( )
- 10- أعلى قمة في جبال دولة الإمارات هي قمة جبل حفيت . ( )
- 11- تتركز الجبال في دولة الإمارات في المنطقة الشرقية . ( )
- 12- من الجزر الإماراتية المحتلة جزيرة طناب الكبرى . ( )
- 13- يسود دولة الإمارات المناخ الاستوائي . ( )
- 14- من النباتات المعمرة في دولة الإمارات نبات الغاف . ( )
- 15- النمط السائد للأسرة الإماراتية قديماً هو الأسرة الممتدة . ( )
- 16- يعد بيت الطين من أشهر البيوت البدوية في دولة الإمارات . ( )
- 17- أول مدرسة شبه نظامية في دولة الإمارات هي المدرسة التيمية المحمودية . ( )
- 18- انتشرت حرفة الصيد والغوص على اللؤلؤ على سواحل الإمارات العربية المتحدة قديماً . ( )
- 19- تزعمت قبيلة آل نهيان حلف بني ياس في دولة الإمارات العربية المتحدة . ( )
- 20- ينتسب الرسول - صلى الله عليه وسلم - إلى قبيلة الأوس والخزرج . ( )
- 21- لقب الشيخ زايد بن خليفة آل نهيان بلقب زايد الثاني . ( )
- 22- يتكون المجلس الأعلى من حكام الإمارات السبع . ( )

السؤال الثاني - أولاً: أكمل العبارات التالية بما يناسبها من كلمات :

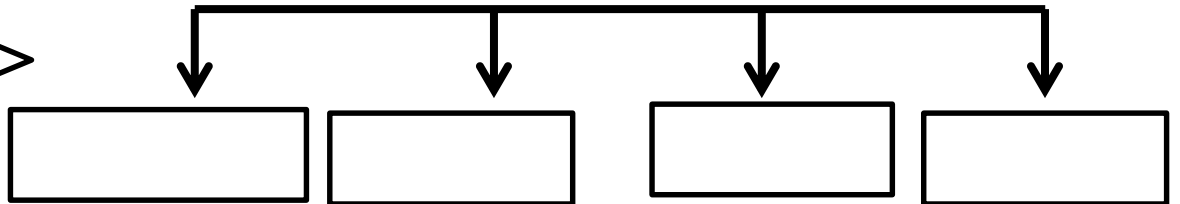
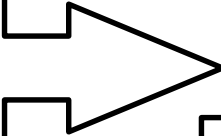
- دُلما - الجد - آسيا - الشهيد - الذيد - الحبال - الفجيرة -  
الحضارة - الجاهلي - عاصفة الحزم - البراجيل - الحولي -  
الحكومة - قصر الحصن

- 1- تقع دولة الإمارات العربية المتحدة في جنوب غرب قارة .....
- 2- يسمى كل جهد قام به الإنسان لتحسين ظروف حياته باسم .....
- 3- من السهول الداخلية في دولة الإمارات سهل .....
- 4- جزيرة تعد من المناطق السكنية في دولة الإمارات هي جزيرة .....
- 5- نبات ينمو عقب سقوط المطر يسمى النبات .....
- 6- سمي مكيف الهواء المحلي في دولة الإمارات قديماً باسم .....
- 7- يصنع من ليف النخل .....
- 8- يعتبر صاحب القرار في الأسرة الإماراتية قديماً .....
- 9- استقرت قبيلة الشرقيون في إمارة .....
- 10- شيد الشيخ زايد بن خليفة آل نهيان قلعة .....
- 11- ولد الشيخ زايد بن سلطان آل نهيان في .....
- 12- سلطة تتولى إدارة شؤون الدولة هي ..
- 13- خصص يوم 30 نوفمبر في دولة الإمارات يوم ... ..
- 14- حلف شكلته الدول العربية لنصرة قضية اليمن هو .. ..

ثالثاً : رتب الهيكل التنظيمي لحكومة دولة الإمارات العربية المتحدة:  
( المجلس الأعلى - القضاء الاتحادي - رئيس الدولة -  
المجلس الوطني - نائب رئيس الدولة - مجلس الوزراء )

ثانياً : رتب خطوات الاتحاد على المخطط الذهني التالي:

اجتماع دبي الأول 25 - فبراير - 1968  
اعلان قيام الاتحاد 2 - ديسمبر - 1971  
اجتماع عرقوب السديرة 18 - فبراير - 1968  
اجتماع دبي الثاني 18 - يوليو 1971

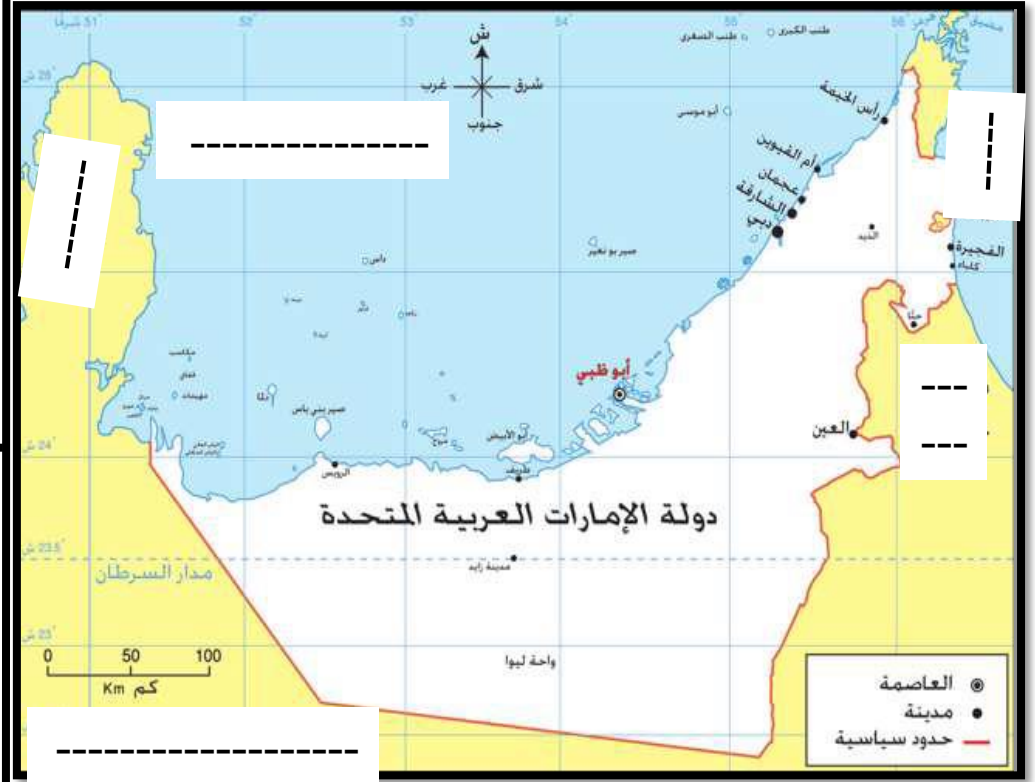


## السؤال الرابع : ضع المفهوم المناسب في المربع :

- 1- موقع المكان بالنسبة لليابسة والماء
- 2- موقع المكان بالنسبة لخطوط الطول ودوائر العرض
- 3- دائرة العرض الرئيسية ودرجتها صفر وتقسّم العالم إلى نصفين متساويين
- 4- منطقة من اليابسة محاطة بالمياه من ثلاث جهات .
- 5- استيراد السلع وإعادة تصديرها إلى دول العالم .
- 6- أراض طولية منخفضة تحيطها أراض مرتفعة من الجوانب
- 7- أماكن تخصص لحماية الأنواع الحيوانية والنباتية المهددة بالانقراض .
- 8- مناطق منخفضة في الصحراء تتوافر فيها المياه .
- 9- حالة الجو خلال شهر أو فصل أو سنة .
- 10- تتكون من ثلاثة أجيال أو أكثر.
- 11- المياه التحتية التي تنساب تحت الأرض بعد سقوط الأمطار.
- 12- بيت يصنع من سعف النخيل يستخدم في الصيف.
- 13- مجموعة من الناس ينتمون إلى أصل واحد تجمعهم رابطة الدم .
- 14- هو المعاهدة على التعاون ومد يد العون
- 15- قناة تحفر على سطح الأرض لتجميع المياه الجوفية .
- 16- خطوط حددها الإنسان ورسمت حتى تفصل بين دولة وأخرى.
- 17- السلطة التي تتولى إدارة شؤون البلاد وتنظيم العلاقة بين الأفراد.
- 18- مجموعة من القواعد والقوانين تنظم الحكم في الدولة.

السؤال الخامس : أولا : حدد على خريطة دولة الإمارات العربية المتحدة ما يلي :

( السعودية - بحر عمان - قطر - الخليج العربي - سلطنة عمان )



ثانيا : سجل أهمية الموقع الجغرافي لدولة الإمارات بناء على الصور التالية :



\_\_\_\_\_

\_\_\_\_\_

\_\_\_\_\_

ثالثا : صنف الحقوق والواجبات وفق الجدول التالي :

احترام الدستور - حماية ممتلكاتي - الدفاع عن الدولة - توفير التعليم

الحقوق	الواجبات

رابعا : قارن بين حلف بني ياس وحلف القواسم وفق معطيات الجدول التالي:

المقارنة	بني ياس	القواسم
الزعامة		
نوع القوة		
مقرهم		

السؤال السادس - أولا : صنف الظواهر التالية وفق الجدول التالي :

السيجي - الذيد - دلما - حفيت - الدقاقة  
- صير بني ياس - جيس - حام

جبال	جزر	أودية	سهول داخلية

ثانيا : سجل أسماء الأشكال التالية أسفل الصورة:










ثالثا: أجب عن الأسئلة التالية :

1- سجل اثنتين من الأهمية الاقتصادية للجبال :

-----\*

-----\*

2- سجل اثنتين من الأهمية الاقتصادية للسهول الساحلية :

-----\*

-----\*

3- سجل اثنتين من أهمية الجزر :

-----\*

-----\*

4- سجل اثنتين من سمات الأسرة الممتدة في دولة الإمارات قديما :

-----\*

-----\*

5- سجل اثنتين من الحرف الإماراتية قديما :

-----\*

-----\*

6- سجل اثنتين من انجازات الشيخ زايد الأول في إمارة أبوظبي :

-----\*

-----\*

7- سجل اثنتين من مهام الحكومة في دولة الإمارات العربية المتحدة :

-----\*

-----\*

السؤال السابع : أجب عن الأسئلة التالية :

أولا : قارن بين السهل الساحلي الشرقي والسهل الساحلي الغربي  
وفق معطيات الجدول التالي :

أوجه المقارنة	السهل الساحلي الشرقي	السهل الساحلي الغربي
الطول		
الاتساع		
المدن		

ثالثا: كون تعميما جغرافيا مستعينا بالكلمات التالية :

( الجبال - الحرارة - الارتفاع )

ثانيا : فسر ( اذكر السبب ) ما يلي :

رابعا : حدد على الخريطة أسماء القبائل في دولة الإمارات العربية المتحدة :



1- ضيق السهل الساحلي الشرقي في دولة الإمارات :

-----\*

2- احتلال ايران للجزر الثلاث :

-----\*

3- تشكيل قوة عاصفة الحزم :

-----\*

-----\*

3- أهمية دوائر العرض :

-----\*

-----\*

مراجعة عامة لمادة الدراسات الاجتماعية والتربية الوطنية  
للفصل الدراسي الأول 2017 – 2018

اسمي : \_\_\_\_\_  
صفي : الرابع ( )

السؤال الأول : ضع إشارة ( / ) أمام العبارة الصحيحة وإشارة ( X ) أمام العبارة غير الصحيحة :

- 1- تتكون اليابسة على الكرة الأرضية من سبع قارات . ( / )
- 2- يعرف خط الطول الرئيسي بخط جرينتش . ( / )
- 3- يبلغ مجموع دوائر العرض 360 دائرة عرضية . ( X )
- 4- يقع مدار السرطان في نصف الكرة الجنوبي . ( X )
- 5- يمر خط الاستواء عند دائرة عرض صفر . ( / )
- 6- تبلغ مساحة دولة الإمارات 83,600 كم . ( / )
- 7- تأسست دولة الإمارات العربية المتحدة في 2 ديسمبر عام 1971 م . ( / )
- 8- يمر مدار الجدي في الجزء الجنوبي من دولة الإمارات العربية المتحدة . ( X )
- 9- نشأت حضارة ملوखा في أبوظبي . ( X )
- 10- أعلى قمة في جبال دولة الإمارات هي قمة جبل حفيت . ( X )
- 11- تتركز الجبال في دولة الإمارات في المنطقة الشرقية . ( / )
- 12- من الجزر الإماراتية المحتلة جزيرة طنب الكبرى . ( / )
- 13- يسود دولة الإمارات المناخ الاستوائي . ( X )
- 14- من النباتات المعمرة في دولة الإمارات نبات الغاف . ( / )
- 15- النمط السائد للأسرة الإماراتية قديما هو الأسرة الممتدة . ( / )
- 16- يعد بيت الطين من أشهر البيوت البدوية في دولة الإمارات . ( X )
- 17- أول مدرسة شبه نظامية في دولة الإمارات هي المدرسة التيمية المحمودية . ( / )
- 18- انتشرت حرفة الصيد والغوص على اللؤلؤ على سواحل الإمارات العربية المتحدة قديما . ( / )
- 19- تزعمت قبيلة آل نهيان حلف بني باس في دولة الإمارات العربية المتحدة . ( / )
- 20- ينسب الرسول - صلى الله عليه وسلم - إلى قبيلة الأوس والخزرج . ( X )
- 21- لقب الشيخ زايد بن خليفة آل نهيان بلقب زايد الثاني . ( X )
- 22- يتكون المجلس الأعلى من حكام الإمارات السبع . ( / )

السؤال الثاني - أولاً: أكمل العبارات التالية بما يناسبها من كلمات :

دلما - الجد - آسيا - الشهيد - الذيد - الحبال - الفجيرة -  
الحضارة - الجاهلي - عاصفة الحزم - البراجيل - الحولي -  
الحكومة - قصر الحصن

ثالثاً : رتب الهيكل التنظيمي لحكومة دولة الإمارات العربية المتحدة:  
( المجلس الأعلى - القضاء الاتحادي - رئيس الدولة -  
المجلس الوطني - نائب رئيس الدولة - مجلس الوزراء )

1- رئيس الدولة

2- نائب رئيس الدولة

3- المجلس الأعلى

4- مجلس الوزراء

5- المجلس الوطني

6- القضاء الاتحادي

- 1- تقع دولة الإمارات العربية المتحدة في جنوب غرب قارة ..... **آسيا** .....
- 2- يسمى كل جهد قام به الإنسان لتحسين ظروف حياته باسم ..... **الحضارة** .....
- 3- من السهول الداخلية في دولة الإمارات سهل ..... **الذيد** .....
- 4- جزيرة تعد من المناطق السكنية في دولة الإمارات هي جزيرة ..... **دلما** .....
- 5- نبات ينمو عقب سقوط المطر يسمى الثبات ..... **الحولي** .....
- 6- سمي مكيف الهواء المحلي في دولة الإمارات قديماً باسم ..... **البراجيل** .....
- 7- يصنع من ليف النخل ..... **الحبال** .....
- 8- يعتبر صاحب القرار في الأسرة الإماراتية قديماً ..... **الجد** .....
- 9- استقرت قبيلة الشرفيون في إمارة ..... **الفجيرة** .....
- 10- شيد الشيخ زايد بن خليفة آل نهيان قلعة ..... **الجاهلي** .....
- 11- ولد الشيخ زايد بن سلطان آل نهيان في ... **قصر الحصن** .....
- 12- سلطة تتولى إدارة شؤون الدولة هي .. **الحكومة** .....
- 13- خصص يوم 30 نوفمبر في دولة الإمارات يوم ... **الشهيد** .....
- 14- حلف شكاكته الدول العربية لتصرة قضية اليمن هو .. **عاصفة الحزم** .....

ثانياً : رتب خطوات الاتحاد على المخطط الذهني التالي:

اجتماع دبي الأول 25 - فبراير - 1968  
اعلان قيام الاتحاد 2 - ديسمبر - 1971  
اجتماع عروق السديرة 18 - فبراير - 1968  
اجتماع دبي الثاني 18 - يوليو - 1971

اعلان قيام الاتحاد  
2 - ديسمبر - 1971

اجتماع دبي الثاني  
18 - يوليو - 1971

اجتماع دبي الأول  
25 فبراير - 1968

اجتماع عروق السديرة  
18 - فبراير - 1968



## السؤال الرابع : ضع المفهوم المناسب في المربع :

- 1- موقع المكان بالنسبة لليابسة والماء **الموقع النسبي**
- 2- موقع المكان بالنسبة لخطوط الطول ودوائر العرض **الموقع الفلكي**
- 3- دائرة العرض الرئيسية ودرجتها صفر وتقسّم العالم إلى نصفين متساويين **خط الإستواء**
- 4- منطقة من اليابسة محاطة بالمياه من ثلاث جهات . **شبه الجزيرة**
- 5- استيراد السلع وإعادة تصديرها إلى دول العالم . **تجارة الترانزيت**
- 6- أراض طولية منخفضة تحيطها أراض مرتفعة من الجوانب **الوادي**
- 7- أماكن تخصص لحماية الأنواع الحيوانية والنباتية المهددة بالانقراض . **المحميات الطبيعية**
- 8- مناطق منخفضة في الصحراء تتوافر فيها المياه . **الواحة**
- 9- حالة الجو خلال شهر أو فصل أو سنة . **المناخ**
- 10- تتكون من ثلاثة أجيال أو أكثر. **الأسرة الممتدة**
- 11- المياه التحتية التي تنساب تحت الأرض بعد سقوط الأمطار. **الآبار**
- 12- بيت يصنع من سعف التخليل يستخدم في الصيف. **العريش**
- 13- مجموعة من الناس ينتمون إلى أصل واحد تجمعهم رابطة الدم . **القبيلة**
- 14- هو المعاهدة على التعاون ومد يد العون **الحلف**
- 15- قناة تحفر على سطح الأرض لتجميع المياه الجوفية . **الافلاج**
- 16- خطوط حددها الإنسان ورسمت حتى تفصل بين دولة وأخرى. **الحدود السياسية**
- 17- السلطة التي تتولى إدارة شؤون البلاد وتنظيم العلاقة بين الأفراد. **الحكومة**
- 18- مجموعة من القواعد والقوانين تنظم الحكم في الدولة. **المستور**

ثالثا : صنف الحقوق والواجبات وفق الجدول التالي :

احترام الدستور - حماية ممتلكاتي - الدفاع عن الدولة -  
توفير التعليم

الواجبات	الحقوق
احترام الدستور	حماية ممتلكاتي
الدفاع عن الدولة	توفير التعليم

رابعا : قارن بين حلف بني ياس وحلف القواسم وفق معطيات الجدول التالي:

المقارنة	بني ياس	القواسم
الزعامة	آل نهيان	القواسم
نوع القوة	برية	بحرية
مقرهم	أبوظبي والظفرة	رأس الخيمة وشارقة

السؤال الخامس : أولا : حدد على خريطة دولة الإمارات العربية المتحدة ما يلي :  
( السعودية - بحر عمان - قطر - الخليج العربي - سلطنة عمان )



ثانيا : سجل أهمية الموقع الجغرافي لدولة الإمارات بناء على الصور التالية :



الأهمية الاستراتيجية



الأهمية التاريخية




الأهمية الاقتصادية

السؤال السادس - أولا : صنف الظواهر التالية وفق الجدول التالي :

السيحي - النيد - دلما - حفيت - الدقاقة  
- صير بني ياس - جيس - حام

جبال	جزر	أودية	سهول داخلية
حفيت	دلما	حام	النيد
جيس	صير بني ياس	السيحي	الدقاقة

ثانيا : سجل أسماء الأشكال التالية أسفل الصورة:



جزيرة



وادي



واحة



جبال

ثالثا: أجب عن الأسئلة التالية :

1- سجل اثنين من الأهمية الاقتصادية للجبال :

\* تزويدنا بالمواد اللازمة للبناء

\* تخزين مياه الأمطار

2- سجل اثنين من الأهمية الاقتصادية للسهول الساحلية :

\* الصيد البحري

\* السياحة

3- سجل اثنين من أهمية الجزر :

\* محميات طبيعية

\* مناطق سكنية

4- سجل اثنين من سمات الأسرة الممتدة في دولة الإمارات قديما :

\* التعاون بين أفراد الأسرة

\* الجد هو رب الأسرة

5- سجل اثنين من الحرف الإماراتية قديما :

\* صيد الأسماك

\* الرعي

6- سجل اثنين إنجازات الشيخ زايد الأول في إمارة أبوظبي :

\* بناء قلعة الجاهلي

\* اهتم بالزراعة

7- سجل اثنين من مهام الحكومة في دولة الإمارات العربية المتحدة :

\* الدفاع عن الوطن

\* وضع القوانين

السؤال السابع : أجب عن الأسئلة التالية :

أولا : قارن بين السهل الساحلي الشرقي والسهل الساحلي الغربي وفق معطيات الجدول التالي :

أوجه المقارنة	السهل الساحلي الشرقي	السهل الساحلي الغربي
الطول	قصير	طويل
الاتساع	ضيق	واسع
المدن	القصيرة - كلباء - خور فكان	أبوظبي - دبي - الشارقة - عجمان - أم القيوين - رأس الخيمة

ثالثا: كون تعميما جغرافيا مستعينا بالكلمات التالية :

( الجبال - الحرارة - الارتفاع )

-----ارتفاع الجبال يؤدي إلى انخفاض الحرارة-----

ثانيا : فسر ( اذكر السبب ) ما يلي :

1- ضيق السهل الساحلي الشرقي في دولة الإمارات :  
\*-----لوجود الجبال-----

2- احتلال ايران للجزر الثلاث :  
\*-----أهمية موقعها وثرواتها-----

3- تشكيل قوة عاصفة الحزم :  
\*-----الحرص على أمن الخليج-----  
\*-----لإعادة الاستقرار إلى اليمن-----

3- أهمية دوائر العرض :  
\*-----تحديد المواقع-----  
\*-----التعرف على المناخ والنبات الطبيعي-----

رابعا : حدد على الخريطة أسماء القبائل في دولة الإمارات العربية المتحدة :



مديرة المدرسة: فاطمة حمد الكعبي