



دائرة التعليم والمعرفة
DEPARTMENT OF EDUCATION
AND KNOWLEDGE

مدرسة الهير للتعليم الأساسي والثانوي
مادة الدراسات الاجتماعية والتربية الوطنية
المعلم عمر حسن

الاسم :

الهدف العام : مراجعة عامة للاختبارات

اليوم	التاريخ	المادة المقررة في الاختبار
الاثنين	11/12/2017	الفصل الأول كامل حتى يصل جديد

الصف الرابع



الوحدة الأولى



1

- 1- موقع المكان منسوباً لليابسة والماء ، مفهوم:
A- الموقع النسبي B- الفلكي C- المكاني
- 2- هي جميع الأجسام التي تدور حول الشمس ، مفهوم:
A- الكوكب B- النجم C- المجموعة الشمسية
- 3 الكوكب الوحيد المعروف بدعمه للحياة هو كوكب :
A- المريخ B- عطارد C- الزهرة D- الأرض
- 4 اللون الأخضر على نموذج الكرة الأرضية يمثل :
A- الماء B- الهواء C- اليابس D- جميع ماذكر
- 5 اللون الأزرق على نموذج الكرة الأرضية يمثل :
A- الماء B- الهواء C- اليابس D- جميع ماذكر
- 6 نقاط الاستدلال الأربعة " الشمال والجنوب والشرق والغرب " تسمى:
A- الجهات الأصلية B- مقياس الرسم C- المفتاح
- 7- عدد قارات العالم :
A- سبع B- ثمان C- أربع D- خمس
- 8 تقع اليابان في قارة:
A- آسيا B- أفريقيا C- أوروبا D- استراليا
- 9 يحد آسيا من جهة الشمال المحيط
A- الهادي B- المتجمد الشمالي C- الهندي
- 10 من فوائده التعرف على الدول والحدود السياسية بين الدول هذا يشير إلى:
A- الخريطة الطبيعية B- الخريطة السياسية C- الخريطة الاقتصادية
- 11 من القارات التي تقع في نصف الكرة الشمالي بالكامل:
A- آسيا B- أوروبا C- أفريقيا D- أستراليا
- 12- من القارات التي تقع في نصف الكرة الجنوبي بالكامل:
A- آسيا B- أمريكا الشمالية C- أفريقيا D- أستراليا
- 13- واحدة من القارات التالية لا تمر بها دائرة الاستواء:
A- آسيا B- أوروبا C- أفريقيا D- أمريكا الجنوبية

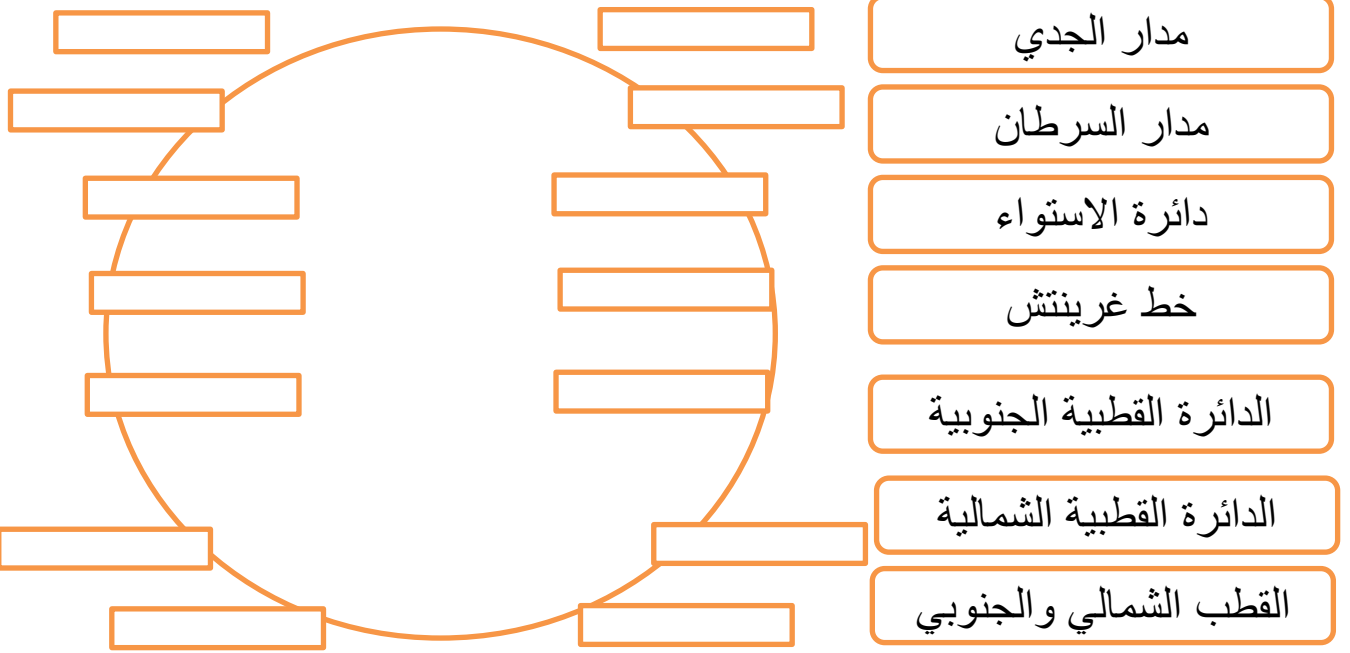
النشاط الثاني: ضع إشارة (v) أمام الإجابة الصحيحة وإشارة (x) أمام العبارة الغير صحيحة فيما يلي :

- 1-) (الموقع الجغرافي يقصد به موقع أي جسم على سطح الأرض .
- 2-) (خطوط الطول هي خطوط وهمية تمتد من الشرق إلى الغرب .
- 3-) (خط غرينتش هو دائرة عرض رئيسة تمتد من الشمال إلى الجنوب.
- 4-) (عدد خطوط الطول 360 خط .
- 5-) (خطوط الطول تقسم الأرض إلى قسمين شرقي وغربي " 180 شرقاً 180 غرباً"
- 6-) (اذا كانت المدينة شرق غرينتش نزيد ساعة و غربه نقلل ساعة.
- 7-) (كل 15 خط يشكل 60 دقيقة وكل 4 دقائق خط واحد .
- 8-) (نستفيد من خطوط الطول في تحديد المكان والمُناخ .
- 9-) (دوائر العرض هي عبارة عن دوائر وهمية تمتد من الشرق إلى الغرب .
- 10-) (دائرة العرض الرئيسية والتي تقسم الأرض إلى قسمين شمالي وجنوبي هي دائرة الأستواء
- 11-) (نعتبر مدار السرطان ومدار الجدي من خطوط الطول.
- 12-) (عدد دوائر العرض 180 دائرة 90 شمال الأستواء 90 جنوبه.
- 13-) (نستفيد من دراسة دوائر العرض في تحديد المُناخ والمكان .

النشاط الثالث : استكمل الفراغات الموجودة في الجمل التالية
بالكلمات المناسبة من صندوق المعرفة :

مدار السرطان
مدار الجدي
القطب الشمالي
القطب الجنوبي
دائرة الأستواء
خط غرينتش
83.600 كم مربع
اللغة العربية
2-12-1971

- تاريخ ميلاد دولة الإمارات العربية المتحدة هو
- اللغة الرسمية لدولة الإمارات هي
- مساحة دولة الإمارات العربية
- رقمه صفر وهو من دوائر العرض
- يقسم الأرض إلى قسمين (ش) (غ)
- يقع جنوب دائرة الأستواء
- يقع شمال دائرة الأستواء
- رقمه 90s على طرف الكرة الأرضية
- رقمه 90n على طرف الكرة الأرضية

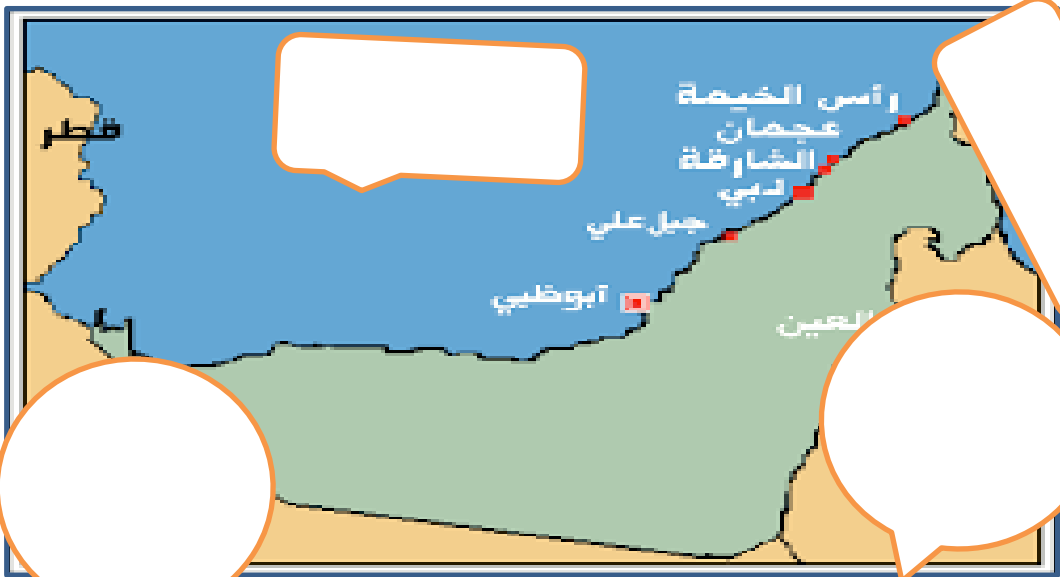


النشاط الخامس : ضع دائرة على الإجابة الصحيحة

- 1- تعد دولة الإمارات العربية المتحدة دولة اتحادية تتكون من إمارات :
A- سبع B- ست C- خمس D- أربع
- 2 إنا دولتنا جزء من الأمة العربية يوحد بيننا الدين والتاريخ واللغة من أقوال :
A- الشيخ زايد B- الشيخ خليفة C- الشيخ محمد
- 3 موقع الإمارات الفلكي من 22-26.5 هو موقع الدولة بين :
A- دائرتي عرض B- بين خطي طول
- 4 موقع الإمارات الفلكي من 51-56.5 هو موقع الدولة بين :
A- دائرتي عرض B- بين خطي طول
- 5 تقع دولة الإمارات بالنسبة لدائرة الاستواء:
A- شمال B- جنوب C- شرق D- غرب
- 6 تقع دولة الإمارات بالنسبة لخط غرينتش:
A- شمال B- جنوب C- شرق D- غرب
- 7 منطقة من اليابس محاطة بالماء من ثلاث جهات تعرف بـ:
A- الجزيرة B- السهل C- شبه الجزيرة

- 8- آسيا - أفريقيا - أوروبا من قارات العالم :
 A- الجديد B- القديم C- الحديث D- المكتشف
- 9- شبه الجزيرة العربية والخليج العربي يشكلان البوابة للوطن العربي:
 A- الشرقية B- الغربية C- الشمالية D- الجنوبية
- 10- يمتد الوطن العربي في قارتي :
 A- آسيا وأوروبا B- أفريقيا وآسيا D- أمريكا الجنوبية وآسيا
- 11- تقع الإمارات بالنسبة للقارة الآسيوية في:
 A- جنوب غرب B- جنوب شرق
- 12- تقع دولة الإمارات بالنسبة لشبه الجزيرة العربية في :
 A- شمال B- جنوب C- شرق D- غرب
- 13- هي خطوط حددها الانسان ورسمت حتى تفصل بين الدول ،هذا مفهوم:
 A- الخليج B- الحدود السياسية C- خطوط الطول
- 14 - لسان كبير من الماء محاط بالماء من ثلاث جهات :
 A- الجزيرة B- السهل C- شبه الجزيرة D- الخليج

النشاط السابع : على خريطة دولة الإمارات عين الموقع النسبي لها



النشاط الثامن : على خريطة العالم حدد كل من دوائر العرض
الرئيسية وخط الطول الرئيس



النشاط التاسع : حدد الموقع الفلكي لدولة الإمارات العربية المتحدة





النشاط الحادي عشر : استكمل الفراغات في الجمل الآتية من الكلمات المناسبة في صندوق المعرفة

- 1- قيام العديد من الحضارات في الإمارات يدل على
- 2- تحد الإمارات من الجهة الشرقية سلطنة
- 3- تحد الإمارات من جهة الجنوب والغرب
- 4- تشرف عليه الإمارات من جهة الشمال
- 5- تشرف الإمارات عليه من جهة الشرق
- 6- موقع الإمارات في قلب العالم يدل على
- 7- وقوع الإمارات على طرق التجارة العالمية اكسبها
- 8- استيراد السلع ثم إعادة تصديرها تسمى
تجارة
- 9- كل جهد قام به الانسان مفهوم
- 10- إننا نسعى إلى السلام ونحترم حق الجوار ونرعى الصديق
من أقوال

السعودية
عُمان
الخليج العربي
بحر عُمان
الشيخ زايد
الأهمية الاستراتيجية
الأهمية الاقتصادية
الأهمية التاريخية
الترانزيت
الحضارة

*السهل الساحلي
الشرقي

- السهل الساحلي الغربي
- *الجبال



النشاط الثالث عشر : اربط بين المظاهر التضاريسية والصورة



صحراء

واحة

سهل

جبل

- 1- تقسم السهول الساحلية في الإمارات إلى :
 2 - A 3 - B 4 - C 7 - D
- 2 هي ارض مرتفعة له قمة :
 A -- الجبال B - السهول C - الصحراء D - الواحات
- 3 أرض منخفضة مستوية تمتد بالقرب من البحار
 A - الجبال B - السهول C - الصحراء D - الواحات
- 4 كثبان رملية صفرا تغطي مساحة كبيرة من الدولة :
 A - الجبال B - السهول C - الصحراء D - الواحات
- 5- أرض منخفضة وسط الصحراء تتوفر فيها المياه العذبة :
 - A - الجبال - B - السهول - C - الصحراء D - الواحات
- 6 - من الصفات التي لا توجد في السهل الساحلي الغربي :
 A الطول b - الضيق C - الاتساع D - كثرة المدن
- 7- يقع السهل الساحلي الشرقي على بحر :
 - A - الميت B - المتوسط C - الأحمر D - عُمان
- 8- يقع السهل الساحلي الغربي على الخليج :
 - A - الميت B - المتوسط C - العربي D - عُمان
- 9 - عدد إمارات بلادي هو
 A - سبع B - ثمان C - تسع
- 10- من العوائد الاقتصادية للجبال :
 A - الصيد البحري B - الغوص C - الزراعة والمياه
- 11 - هي أراض طويلة منخفضة تحيطها أراض مرتفعة من الجوانب مفهوم :
 A - جبل B - سهل C - وادي D - صحراء

النشاط الخامس عشر: تقسم الجبال إلى قسمين مع ضرب مثال :

.....

.....

.....

-تعد السهول سمة مشتركة في اجزاء كثيرة من دولتنا كم أنها ذات قيمة اقتصادية كبيرة ،فالسهول هي أرض منبسطة قليلة الارتفاع وتقسم في دولة الإمارات إلى قسمين : سهول داخلية وسهول ساحلية، والسهول الساحلية تقسم إلى قسمين : سهل ساحلي شرقي وسهل ساحلي غربي ،و الساحل الشرقي يشرف على بحر عمان ويتميز بالضيق بسبب وجود الجبال والقصر وقلة المدن حيث يوجد فيه إمارة واحدة وهي إمارة الفجيرة، بينما السهل الساحلي الغربي طويل وواسع وكثير المدن وعليه 6 إمارات هي أبوظبي ودبي والشارقة وعجمان وام القيوين ورأس الخيمة وترتبط بهذا الساحل كثير من الظواهر الطبيعية مثل الخور والجزر والسبخة وتكمن الأهمية الاقتصادية في السهول الداخلية (بالصيد البري والزراعة والرعي) والسهول الساحلية (الصيد البحري والتجارة والغوص)

السؤال الأول : وضح المقصود بالسهول ؟

السؤال الثاني : علل ضيق السهل الساحلي الشرقي ؟

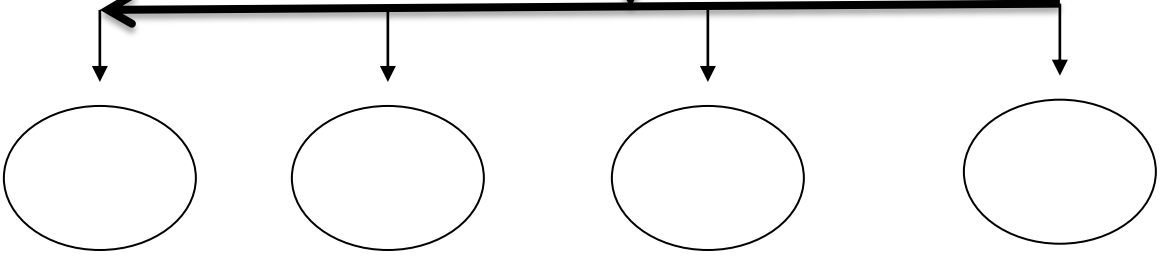
السؤال الثالث : من الظواهر الطبيعية في السهول الساحلية الغربية ؟

.....و.....و.....


النشاط السابع عشر: قارن بين معطيات الجدول التالي :

أوجه المقارنة	السهل الساحلي الغربي	السهل الساحلي الشرقي
الطول		
الاتساع		
الامتداد		
يشرف على		
من المدن		
من الإمارات		

النشاط الثامن عشر : حدد مظاهر السطح في دولة الإمارات العربية



اذكرا لأهمية الاقتصادية للجبال؟



.....
.....
.....

النشاط التاسع عشر : استكمل الفراغات في الجمل الآتية من الكلمات المناسبة في صندوق المعرفة

- 1- قيام العديد من الحضارات في الإمارات يدل على
- 2- تحد الإمارات من الجهة الشرقية سلطنة
- 3- تحد الإمارات من جهة الجنوب والغرب
- 4- تشرف عليه الإمارات من جهة الشمال
- 5- تشرف الإمارات عليه من جهة الشرق
- 6- موقع الإمارات في قلب العالم يدل على
- 7- وقوع الإمارات على طرق التجارة العالمية اكسبها

السعودية
عُمان
الخليج العربي
بحر عُمان
الشيخ زايد
الأهمية الاستراتيجية
الأهمية الاقتصادية
الأهمية التاريخية
الترانزيت
الحضارة

- 1- من الجزر المحتلة من قبل إيران وتقع في المياه الإقليمية الإماراتية جزيرة:
A- طناب الكبرى B- دلمة C- داس D- أبو الأبيض
- 2 تم احتلال الجزر الإماراتية الثلاث عام :
A -- 1981 B- 1971 C- 2003 D- 1970
- 3 -أماكن تخصص لحماية الأنواع الحيوانية والنباتية المهددة بالانقراض:
A- الجبال B- المحمية الطبيعية C- احديقة الحيوان D- الواحات
- 4 من المحميات الطبيعية في دولة الإمارات جزيرة:
A- دلمة B -أبو موسى C- صير بني ياس D-بندق
- 5 يابس محاطة بالماء من جميع الجهات هذا مفهوم :
A-الجزيرة B-السهول C-شبه الجزيرة D-الواحات
- 6 أكبر الجزر الإماراتية هي جزيرة :
A-أبو الأبيض B-طناب الصغرى C-طناب الكبرى
- 7 من الجزر السكنية في دولة الإمارات جزيرة :
A - بندق B- دلمة C-أبو الأبيض D-داس
- 8 من الجزر ذات الوظيفة الاقتصادية جزيرة :
A - بندق B- دلمة C-أبو الأبيض D-داس
- 9 إن الصحراء هي المساحة الأكبر وجوداً في جغرافيتنا ...الخ من أقوال
A- سمو الشيخ زايد رحمه الله B- صاحب السمو الشيخ خليفة حفظه الله
- 10 من خصائص الصحراء :
A - ندرة المطر والغطاء النباتي B- زيادة السكان والحرارة المنخفضة في الصيف
- 11 لقد علمتني الصحراء أن نصبر طويلاً حتى ينبت الخير " من أقوال :
A- سمو الشيخ زايد رحمه الله B- صاحب السمو الشيخ خليفة حفظه الله

النشاط الحادي والعشرون : للصحراء أهمية اقتصادية كبيرة تحدث عنها في نقاط :

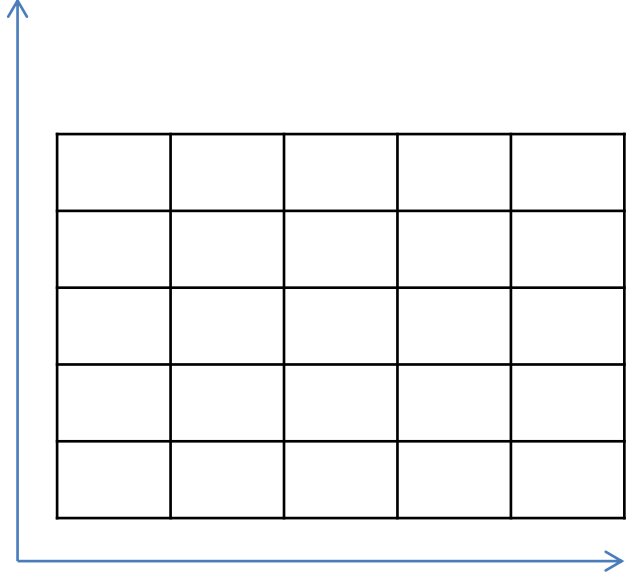
- 1- هو حالة الجو في منطقة ما خلال فترة زمنية طويلة :
A- الطقس B- الجو C- المناخ D- الحرارة
- 2 هو حالة الجو في منطقة ما خلال فترة زمنية قصيرة :
A- الطقس B- الجو C- المناخ D- الحرارة
- 3 -يقع منتزه القرم في إمارة :
A- ام القيوين B- الشارقة C- أبوظبي D- دبي
- 4 تقع دولة الإمارات العربية المتحدة في المنطقة الحرارية :
A-الحارة B -المدارية C- المدارية الجافة D-الرطوبة
- 5- يسود في الإمارات الإقليم :
A-الصحراوي الحار B-البحر المتوسط C-الأستوائي D-الموسمي
- 6- المدار الذي يقطع الإمارات هو مدار :
A-الاستواء B-الجدي C-السرطان
- 7 - ترتفع الحرارة بشكل كبير وتزيد الرطوبة في فصل :
A- الربيع B- الشتاء C- الصيف D-الخريف
- 8- إعتدال الحرارة وسقوط الأمطار في فصل :
A- الربيع B- الشتاء C- الصيف D-الخريف
- 9 المناطق الساحلية هي أكثر من المناطق الداخلية
A برودة ومطر B حرارة C- مطر D-مطر وحرارة
- 10 العلاقة بين المناخ وحياة الناس والنبات :
A -- قوية B- عادية C- ضعيفة
- 11 كلما الارتفاع 150م الحرارة :
A- زاد وتقل B- تقل وتزيد

النشاط الثالث والعشرون : ماهي العوامل المؤثرة في المناخ في دولة الإمارات :

.....
.....

النشاط الرابع والعشرون : استكمل الرسم البياني الخاص بالمناخ :

اليوم	الدرجة
الأحد	15
الاثنين	20
الثلاثاء	25
الأربعاء	30
الخميس	35



1- ماهي المتغيرات الموجودة في هذا الرسم البياني؟

2- ضلل اليوم الذي تسوده درجة حرارة عالية؟

3- هذا ارسم يعبر عن الطقس أم عن المناخ؟

4- ما هو معدل درجات الحرارة خلال الاسبوع؟

5- ضلل اليوم الذي تسوده درجة حرارة أدنى؟

6- أي الفصول يعبر عنه هذا الرسم البياني ؟

النشاط الخامس والعشرون : قارن بين الصيف والشتاء في دولة الإمارات :

أوجه المقارنة	الصيف	الشتاء
درجة الحرارة		
الأمطار		

- 1-) () النباتات المعمرة هي التي تنمو طوال العام دون تدخل الانسان .
- 2-) () النبات الحولي هو النبات الذي ينمو عقب سقوط الأمطار .
- 3-) () نبات السدر والغاف السمر من النباتات الحولية .
- 4-) () الكمأ من النباتات المعمرة .
- 5-) () يستفاد من النباتات المعمرة في الرعي
- 6-) () يستفاد من النبات الحولي في الحصول على الخشب للوقود .
- 7-) () النبات المعمر لا يستهلك من الماء .
- 8-) () تعد الحياة البرية أنعكاس للظروف الطبيعية المتمثلة في تنوع المناخ والنبات .
- 9-) () اليوم البيئي العالمي يصادف يوم 11-4 من كل عام .
- 10-) () أشهر فصل الصيف مارس و فبراير وابريل
- 11-) () أشهر فصل الخريف سبتمبر وأكتوبر ونوفمبر .
- 12-) () أشهر فصل الربيع أغسطس ويونيو ويوليو .
- 13-) () أشهر فصل الشتاء ديسمبر ويناير ونوفمبر .

النشاط السابع والعشرون : صنف الكلمات التالية وفق الجدول :

السمر
السدر
الغاف
الحميض
الأرنب
الخبيز
الهر
الصفرد

المرار
السحالي
الحباري
الغزال
الكروان
الفقع
الحيات

الطيور	الزواحف	الثدييات	نبات حولي	نبات معمر

الوحدة الثانية

بلادي بين الماضي والحاضر

رؤية المدرسة إعداد طالب قادر على الابتكار ومواكبة التقدم
التكنولوجي ملتزم بفضائل الاخلاق محب لوطنه في ظل
قيادة ابوية واعية ومعلم متميز ومشاركة مجتمعية

رسالة المدرسة تقديم تعليم عالي الجودة عالمي المستوى
إسلامي التوجه وطني السمات في بيئة تعليمية وتربوية جاذبة
و قادر على الإبداع والمنافسة لجيل يصنع المستقبل



- 1- الأسرة التي تتكون من ثلاثة أجيال أو أكثر تعرف بالأسرة ::
A- الممتدة B- النواة C- الصغيرة D- الحديثة
- 2 تتكون الأسرة الممتدة من :
A- الجد B- الجدة C- الأب والأم والأبناء D- جميع ماذكر
- 3 -هي الخلية الأساسية في بناء المجتمع :
A- الأب B- الأم C- المجتمع D- الأسرة
- 4 واحدة من التالي ليست من سمات الأسرة الممتدة :
A-التعاون والتكافل B -التمزق C- الجد رب الأسرة D- الاستقرار
- 5- لعبت دور أساسي في عملية التنمية هي:
A-الدولة B-المرأة C-الجد D-الأمة
- 6- المياه التحتية التي تنساب تحت سطح الأرض بعد سقوط المطر هي :
A-العيون B-الآبار C-الافلاج
- 7 - من القائل أن دور المرأة لا يقل عن دور الرجل الشيخ :
A- زايد B- محمد C- خليفة D-سلطان
- 8- يعلم الأطفال القرآن والحديث والحساب قديماً هو :
A- المعلم B- الشيخ C- المطوع D-العالم
- 9 المكان الذي كان يتعلم به الأطفال في القدم :
A المدرسة B- الكتاب C- الجامعة D-الكلية
- 10 بيت يصنع من سعف النخيل يستخدم في فصل الصيف هو:
A -- العريش B- الطين C- بيت الشعر
- 11 مكيف الهواء المحلي الذي تغلب به السكان على الطبيعة هو:
A- البراجيل B- المهف

النشاط الثاني : ماهي الأدوار التي كانت تقوم به المرأة قبل الاتحاد :

.....
.....

البيئة الصحراوية

البيئة الجبلية

البيئة الساحلية

بيوت من الطين

بيوت من الشعر

بيوت من الخشب

الرعي

الصيد

الزراعة

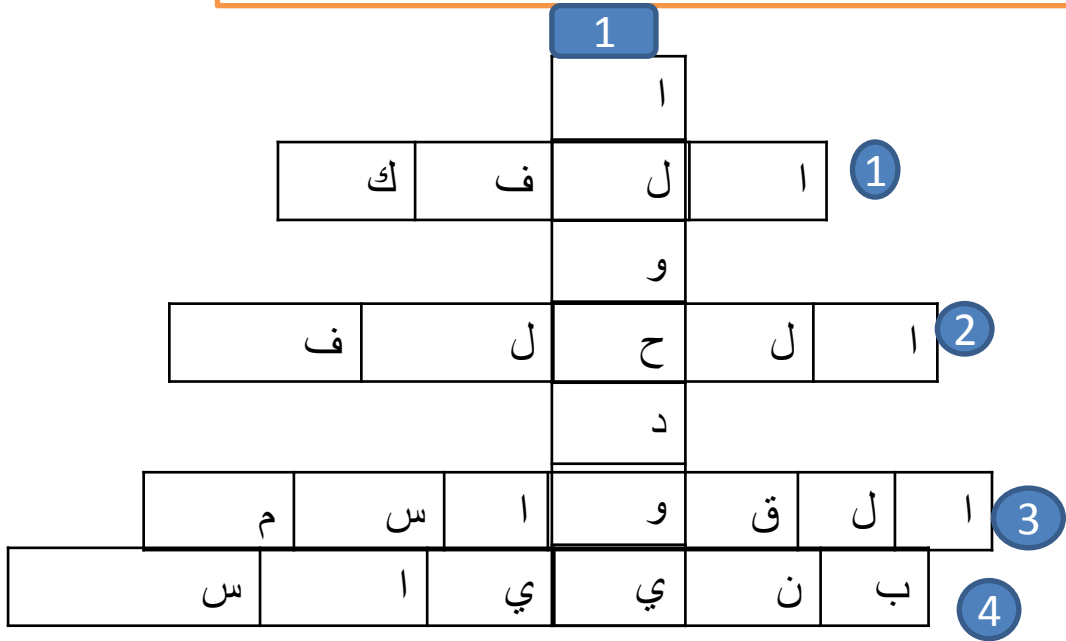


بيت الشعر
بيت الطين والحصى
العريش
البراجيل
الحبال
الطوي
شبه نظامي
خلف بن عبدالله

النشاط الرابع : من خلال الكلمات الموجودة في صندوق المعرفة أستكمل الفراغات التالية

- 1- كان التعلم في المدرسة المحمودية في الشارقة
- 2- من المساكن في المناطق الجبلية
- 3- صنعت المساكن في المناطق الساحلية من
- 4- يصنع من ليف النخيل
- 5- يعمل على إدخال الهواء والشمس
- 6- المساكن في البيئة البدوية من
- 7- تاجر اللؤلؤ المعروف
- 8- هو بئر الماء

النشاط الخامس أ : استخراج من الشكل المتقاطع الكلمات المناسبة وضعها في المكان المناسب



الخط الأفقي:

1 يدور حول القدرة على حل المشكلات

2 المعاهدة على التعاون ومد يد العون

3 حلف بحري تشكل في الإمارات

4 حلف بري تشكل في الإمارات

الرأسي

1 دعوة إلى التوحد

ب - وضح المقصود بالقبيلة ؟

.....
.....

....

- 1- تتكون دولة الإمارات من إمارات :
A- سبع 7 B- ثمان 8 C- تسع 9 D- ست 6
- 2 تزعم حلف بني ياس قبيلة :
A - القواسم B- آل نهيان C- الشرقي D- النعم
- 3 مقر حلف القواسم في إمارة :
A دبي B- الشارقة C- ابوظبي D- عجمان
- 4 مقر حلف بني ياس في إمارة :
A - دبي B- الشارقة C- ابوظبي D- عجمان
- 5 أول من فكر في العمل الوحدوي هو الشيخ
A - زايد الثاني B- زايد الأول C- خليفة D- راشد
- 6 الدولة التي كانت تحتل المنطقة هي :
A السويد B- فرنسا C- بريطانيا D- مصر
- 7 أعلنت بريطانيا عن انسحابها من المنطقة كان عام :
A 1971 B- 1968 C- 1975 D- 1972
- 8 باني الاتحاد هو الشيخ رحمه الله :
A- خليفة B- زايد C- سلطان D- محمد
- 9 الخطوة الأولى في الاتحاد :
A- دبي الأول B- السديرة C- دبي الثاني D- قيام الدولة
- 10 الخطوة الثانية في الاتحاد :
A - دبي الأول B- السديرة C- دبي الثاني D- قيام الدولة
- 11 الخطوة الثالثة في الاتحاد :
A - دبي الأول B- السديرة C- دبي الثاني D- قيام الدولة
- 12 الخطوة الرابعة في الاتحاد :
A دبي الأول B- السديرة C- دبي الثاني D- قيام الدولة
- 13 والد ووالدة الشيخ زايد هما :
A- سلطان وسلامة B- خليفة وسلامة C- محمد وفاطمة



السديرة

مؤسس
الاتحادقيام
الدولةدبي
الثانيدبي
الأول

النشاط الثامن : علل دعوة الشيخ زايد لقيام دولة موحدة في المنطقة ؟

.....
.....

النشاط التاسع : أأكمل الفراغات التالية ؟

- 1- عقد اجتماع عرقوب السديرة عام وجمع
- 2- عقد اجتماع دبي الأول عام وحضره
- 3- عقد اجتماع دبي الثاني عام وحضره
- 4- إعلان قيام الدولة كان عام وضم
- 5- الإمارة التي تخلفت عن دخول الاتحاد هي
- 6- عرقوب السديرة يقع بين إمارة أبوظبي و.....

النشاط العاشر : سمي القبائل الحاكمة في دولة الإمارات وفق الإمارة على الخريطة :
(آل نهيان - آل مكتوم - القاسمي - الشرقي - النعيمي - آل علي)



النشاط الحادي عشر : استخلص من النص روابط الوحدة بين أبناء الإمارات؟

.....
.....

إن أبناء هذه المنطقة اخوة من أصل واحدة
ولغتهم واحدة ، ودينهم واحد حتى الأرض
التي عاشوا عليها من آلاف السنين
كانت واحدة



النشاط الثاني عشر أ : صمم خط زمني تتحدث فيه عن خطوات قيام الاتحاد

النشاط الثاني عشر ب : علل أسباب مشاركة الإمارات في عاصفة الحزم؟

.....
.....
.....

النشاط الثالث عشر : من خلال الكلمات الموجودة في صندوق المعرفة أستكمل الفراغات التالية

الحكومة
الدستور
رئيس الدولة
نائب رئيس الدولة
المجلس الأعلى
المجلس الوطني
القضاء الاتحادي
الحقوق
الواجبات
التضحية
الانتماء
الأناية
طاعة ولي الأمر
يوم الشهيد
سالم سهيل
عاصفة الحزم
واحة الكرامة

- 1- متحف يخلد بطولات الشهداء
- 2- السلطة التي تتولى إدارة شؤون البلاد
- 3- مصطلح أطلق على عملية الدفاع عن اليمن
- 4- مجموعة القواعد والقوانين تنظم الحكم في الدولة
- 5- الشيخ خليفة بن زايد هو
- 6- الشيخ محمد بن راشد هو
- 7- يتكون من حكام الإمارات السبع
- 8- أول شهيد في الإمارات
- 9- حددته الدولة في تاريخ 11-30 من كل عام تكريم للشهداء .
- 10- حث الإسلام على
- 11- يتكون من 40 عضواً يمثل السلطة التشريعية
- 12- يحرص على تطبيق العدالة
- 13- طاعة ولي الأمر تعتبر من
- 14- التعاون يعتبر من
- 15- معناها حب النفس
- 16- معناها الأشياء التي يجب أن تحصل عليها
- 17- معناها الأشياء التي يجب أن تقوم بها

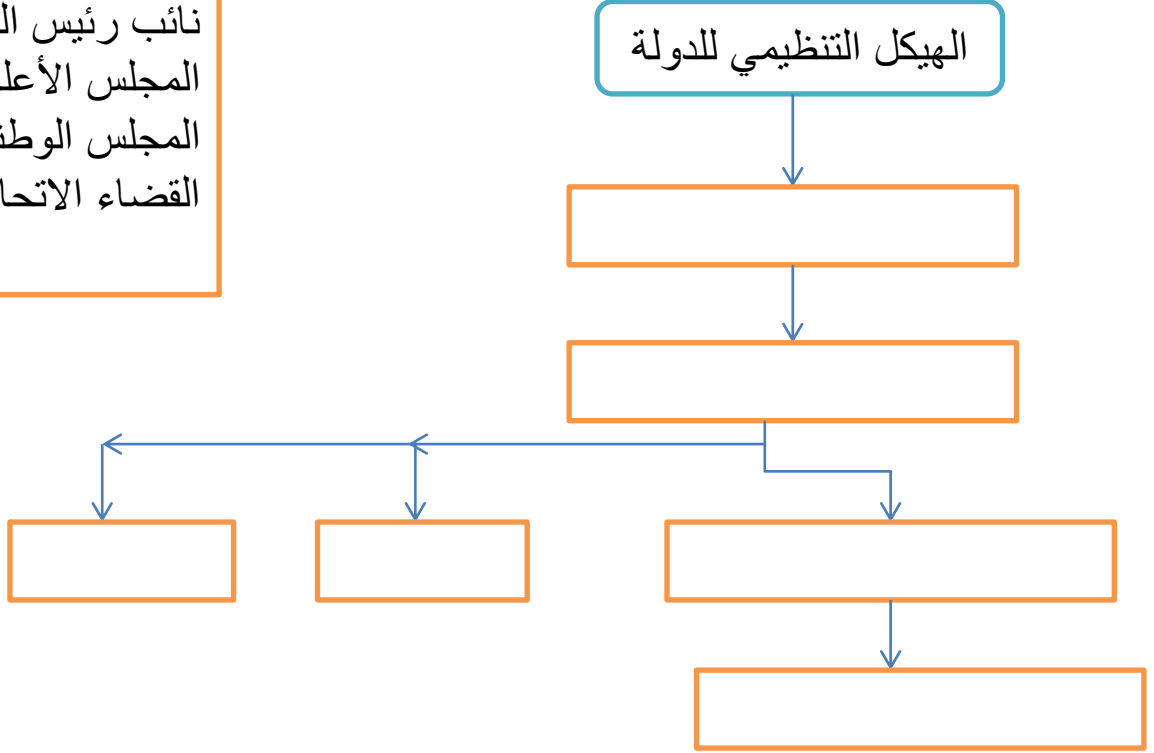
النشاط الرابع عشر: ما هي مهمة الحكومة :

.....

.....

النشاط الخامس عشر : من خلال الكلمات الموجودة في صندوق المعرفة أستكمل الخريطة الذهنية ؟

الحكومة
رئيس الدولة
نائب رئيس الدولة
المجلس الأعلى
المجلس الوطني
القضاء الاتحادي



النشاط السادس عشر: صنف الكلمات التالية وفق معطيات الجدول؟
« يحمي ممتلكاتي - العلاج - التعليم - الصحة - العمل - احترام الدستور - الدفاع عن الدولة
- حماية الأموال - المساواة - حماية الأموال العامة »

الحقوق	الواجبات