

2017

## مادة الرياضيات

## الاختبار التدريبي

## نبذة عن الاختبار التدريبي

يحتوي الاختبار التدريبي على 10 أسئلة. صمم هذا الاختبار ليعطيك فكرة عن نمط أسئلة اختبار IBT الرئيسي.

## أجب على الأسئلة:

كل سؤال لديه أربعة اختيارات. اختر الإجابة الأنسب من الاختيارات الأربعة : A ، B ، C ، D .  
سوف تجد إجابات الأسئلة في آخر صفحة من هذا الكتيب.

## الأدوات المسموح بها في هذا الاختبار

يمكن استخدام قلم رصاص في هذا الاختبار. لا يمكنك استخدام الآلة الحاسبة في هذا الاختبار.

## الزمن المخصص للاختبار :

الزمن المحدد لإكمال الاختبار هو 15 دقيقة.

1

2 14 21 33 46 57 78

كم عددًا من الأعداد السابقة يعتبر عددًا زوجيًا؟

2 A

3 B

4 C

7 D

2



كم الساعة في الشكل السابق؟

8:51

A

9:09

B


10:09

C

10:44

D

3



كم عدد المربعات وعدد المثلثات الموجودة في الشكل السابق؟

A مثلث و مربع

B مثلث و مربعان

C مثلثان و مربع

D مثلثان و مربعان

4 في كل مرة ترى حصة قطة في الشارع، ترسم خطأً على ورقة.

يبين الشكل هذا أنها رأت 5 قطط :  $||||$

هذه هي ورقة حصة:



كم عدد القطط التي رأتها حصة؟

3

A

4

B

10

C

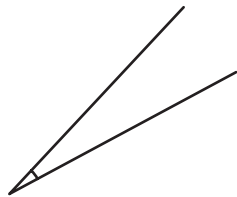
12

D

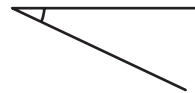
5 أي من الزوايا التالية هي الأكبر؟



A



B



C



D

6

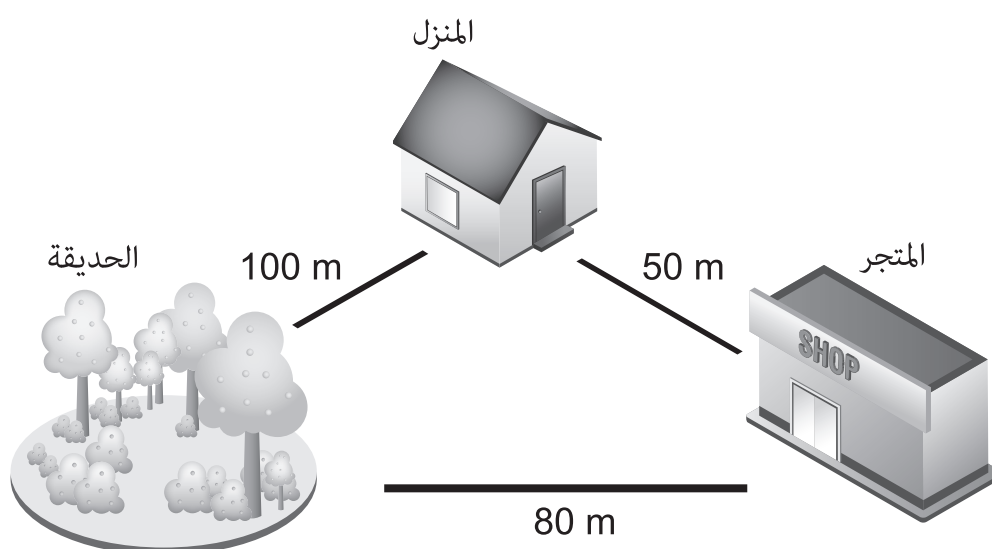
يوجد في كيس كرتان ذات لون أحمر و 4 كرات زرقاء و 5 كرات خضراء و 3 كرات صفراء.  
أغلق راشد عينيه وأخذ كرة من الكيس.

ماذا سيكون لون الكرة على الأرجح؟

- A أحمر
- B أزرق
- C أخضر
- D أصفر

7

تبين الخريطة التالية المسافات بين الأماكن في المدينة التي تعيش بها جميلة.



تركت جميلة المنزل و ذهبت إلى المتجر.

وبعد ذلك رجعت إلى المنزل مشياً قبل الذهاب إلى الحديقة

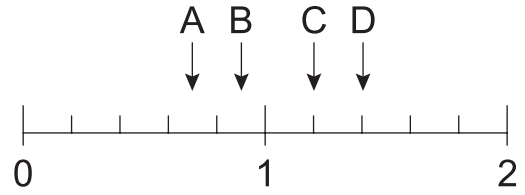
ما إجمالي المسافة التي مشتها جميلة؟

- A 130 m
- B 150 m
- C 200 m
- D 230 m

8 أي من الأعداد التالية هو الأكبر؟

- A تسعة و سبعون  
B أربعة آلاف و واحد  
C ثمانية وثلاثة وعشرون  
D ثلاثة آلاف وتسعمائة وتسعة وتسعون

9 أي سهم يشير إلى 0.7 على خط الأعداد التالي؟



- A سهم A  
B سهم B  
C سهم C  
D سهم D

10

سبح راشد 100 m في زمن مقداره 3 دقائق و 54 ثانية.  
ما الوقت الذي استغرقه راشد في السباحة بالثانية؟

**A** 114 ثانية

**B** 234 ثانية

**C** 294 ثانية

**D** 354 ثانية

الإجابات الصحيحة

<b>C</b>	1
<b>A</b>	2
<b>C</b>	3
<b>D</b>	4
<b>D</b>	5
<b>C</b>	6
<b>C</b>	7
<b>B</b>	8
<b>A</b>	9
<b>B</b>	10

