



# قسم الدراسات الاجتماعية



## الدراسات الاجتماعية والتربية الوطنية

الصف السابع - الفصل الأول



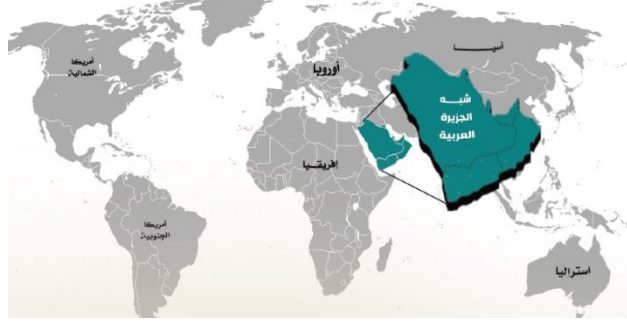
إعداد وتقديم

محمد صبري الطنطاوي

اسم الطالب: .....

الشعبة: .....

## الوحدة الأولى / درس: موقع شبه الجزيرة العربية وأهميتها



### قارن بين الجزيرة وشبه الجزيرة:

شبه الجزيرة	الجزيرة
تحيطها المياه من ثلاث جهات مثل شبه جزيرة : قطر	تحيطها المياه من جميع الجهات مثل جزيرة : البحرين

\*تصل شبه الجزيرة العربية بين : قارة آسيا وأفريقيا  
\*تحد شمال شبه الجزيرة العربية: دولة: العراق ، المملكة الأردنية

### \*قارن بين خطوط الطول ودوائر العرض

*دوائر العرض	*خطوط الطول
هي دوائر وهمية على شكل دوائر تامة الاستدارة *تمتد شبه الجزيرة العربية على ( ٢٠ دائرة عرضيه )	هي خطوط وهمية على شكل أنصاف دوائر *تمتد شبه الجزيرة العربية على ( ٢٦ خطاً )

### \*أهمية شبه الجزيرة العربية عبر التاريخ:

* الحضارة: كل جهد يقوم به الإنسان لتحسين ظروف حياته سواء كانت مادية أم معنوية *أسباب قيام الحضارات: الموقع الجغرافي المتميز – إشرافها على مسطحات مائية ومضايق هامه
--------------------------------------------------------------------------------------------------------------------------------------------------------------------------

## اختار التعريف الصحيح:

الموقع الفلكي - الموقع المكاني - الموقع النسبي

المفهوم	التعريف
	المكان من حيث المساحة التي يشغلها
	موقع المكان بالنسبة لخطوط الطول ودوائر العرض
	المكان منسوباً إلى البحار أو الدول المجاورة له

## أكمل العبارات التالية:

- \*تبلغ مساحة شبه الجزيرة العربية حوالي.....
- \*تصل شبه الجزيرة العربية بين قارتي.....و.....
- \*قامت في شبه الجزيرة العربية العديد من الحضارات القديمة مثل حضارة .....و.....
- \*تحد شبه الجزيرة العربية من الشمال دولة.....و.....
- \*تعتبر ..... أكبر دول شبه الجزيرة العربية في المساحة
- \*تقع شبه الجزيرة العربية في نصف الكرة.....

مهام أداء : ٥ درجات

## اربط السبب بالنتيجة:

السبب	النتيجة
غلق مضيق هرمز	.....
قيام العديد من الحضارات في شبه الجزيرة العربية	.....

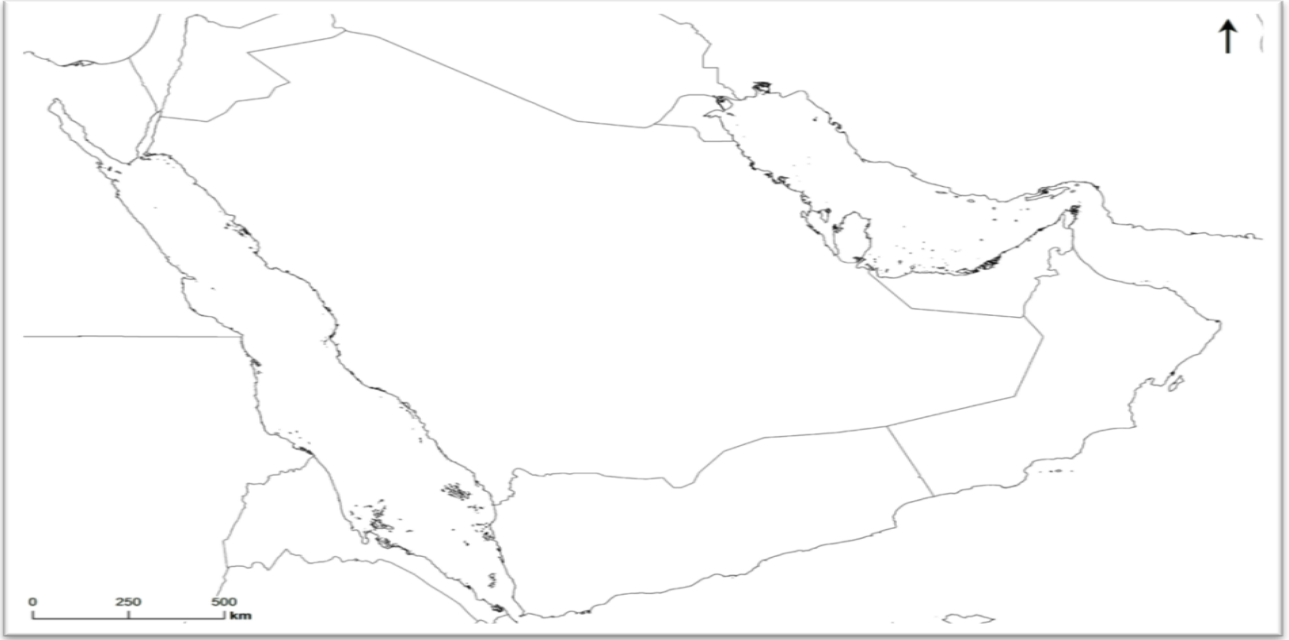
## أكمل المخطط التالي: ( أهمية موقع شبه الجزيرة العربية )

الأهمية الدينية	الأهمية الحضارية	الأهمية الاقتصادية
مهبط الديانات السماوية ويوجد فيها الحرمان الشريفان	قامت فيها العديد من الحضارات	منطقة اتصال بين العالم وجود مواد الخام

## مهام أداء: 5 درجات

حدد على خريطة شبه الجزيرة العربية:

- \* دولة الإمارات العربية المتحدة
- \* البحر الأحمر
- \* الخليج العربي
- \* بحر العرب
- \* مضيق هرمز
- \* مضيق باب المندب
- \* بحر عمان



سجل ما تعلمته

.....

.....

.....

.....

.....

.....

وضح الفرق بين الجبل والهضبة والسهول

المفهوم	التعريف
الجبل	هو أرض مرتفعة عن سطح البحر ويبدأ ارتفاعه من ١٠٠٠ متر
الهضبة	هي أرض ممتدة واسعة متوسطة الارتفاع
السهول	هي أرض مستوية السطح قليلة الارتفاع

## اشكال التضاريس

## السهول

## \*سهول تهامة

هي سهول ساحلية ضيقة تمتد بمحاذاة ساحل البحر الأحمر

## \*سهول الاحساء

تقع في شرق المملكة العربية السعودية على ساحل الخليج العربي وهي سهول زراعية خصبة وفيها الكثير من السبخات

## الهضاب

\*هضبة نجد ،تقع في وسط شبه الجزيرة العربية وتتحصر فيها صحراء الربع الخالي ، وصحراء النفود ، وتوجد فيها بعض الأودية الجافة مثل وادي الباطن

\*هضبة حزموت، تقع في جنوب شبه الجزيرة العربية

## الجبال

## \*الانكسارية

مثل

جبال مدين ، جبال الحجاز ، جبال عسير مرتفعات اليمن

## \*الالتوائية

مثل

جبال عمان

## \*الأهمية الاقتصادية للجبال

وجود معادن كالذهب والنحاس والألماس، التربة الخصبة التي تساعد على قيام الزراعة

الوطن شجرة طيبة  
لا تنمو إلا في تربة  
التضحيات وتسقى  
بالعرق والدم

### قارن بين جبال ( مدين ، الحجاز ، عسير ) :-

أوجه المقارنة	جبال مدين	جبال الحجاز	جبال عسير
الموقع	تقع في شمال شبه الجزيرة العربية	تقع وسط شبه الجزيرة العربية موازية للبحر الأحمر	تقع في الجنوب من الجبال الانكسارية
الارتفاع	جبال شاهقة يصل ارتفاعها إلى ٢٥٨٠ متر	قليلة الارتفاع ويصل ارتفاعها إلى ١٥٠٠ متر	ويصل أقصى ارتفاعها إلى ٣٣٠٠ متر

### قارن بين هضبة ( نجد ، حضرموت ) :-

أوجه المقارنة	هضبة نجد	هضبة حضرموت
الموقع	تقع وسط شبه الجزيرة العربية	تقع في أقصى الجنوب من شبه الجزيرة العربية
الخصائص	أكبر في المساحة ، وفيها صحراء الربع الخالي ، وصحراء النفود ، وفيها العديد من الأودية الجافة مثل وادي الباطن.	هضبة قاحلة جرداء وأدى فقرها إلى طرد السكان منها

### قارن بين سهول ( تهامة ، والإحساء ) :-

أوجه المقارنة	سهول تهامة	سهول الأحساء
الموقع	تمتد على ساحل البحر الأحمر	تمتد على ساحل الخليج العربي
الخصائص	ضيقة بسبب قرب الجبال من الساحل ، ومن أشهر مدنها مكة المكرمة وجدة.	سهول زراعية خصبة ويوجد بها الكثير من السبخات.

تعاون مع مجموعتك  
في حل النشاط

اكتب التعريف أمام كل مفهوم:

المفهوم	التعريف
التضاريس	هي أشكال سطح الأرض مثل الجبال ، الهضاب ، السهول
الالتوائية	هي حركات باطنية بطيئة أدت إلى ضغوط جانبية
الانكسار	هي حركات باطنية بطيئة أصابت الصخور
الهضاب	منطقة مرتفعه ممتدة وليس لها قمة
السهول	أرض مستوية السطح ومنبسطة

مهام أداء: 5 درجات

أعين المواقع وألون

على خريطة شبه الجزيرة العربية الصماء ألون المناطق الجبلية والهضاب والسهول :

ملاحظة: استخدم ألوان الطبيعة:



تعاون مع  
مجموعتك

ارسم مخطط ذهني يضم الجبال الالتوائية والجبال الانكسارية

أقرأ: وأقارن

أقرأ الخريطة صفحة ٢٠ في كتاب الطالب وأقارن بين سهول تهامة  
و سهول الأحساء من خلال الجدول التالي:

الخصائص	الموقع	السهول
		سهول تهامة
		سهول الأحساء



قارن بين المناخ والطقس

الطقس حالة الجو لفترة زمنية قصيرة ( يوم ، أسبوع )	المناخ حالة الجو لفترة زمنية طويلة ( فصلاً ، سنة )
---------------------------------------------------------	-------------------------------------------------------

العوامل المؤثرة في المناخ

الموقع الفلكي	توزيع اليابس والماء	أشكال التضاريس
يؤثر الموقع الفلكي في مناخ شبه الجزيرة العربية يخترقها مدار ( السرطان ) حيث يقع معظمها في نطاق المناخ الصحراوي هذا الاتساع يؤدي إلى اختلاف درجات الحرارة في جنوبها عن وسطها عن شمالها	تؤثر المسطحات المائية في مناخ شبه الجزيرة العربية من ثلاث جهات حيث تعمل على تلطيف الحرارة على السواحل	تنخفض الحرارة بالارتفاع ، كما تؤثر التضاريس في حركة الرياح وكميات الأمطار وتوزيعها

\*قلة تأثير المسطحات المائية المجاورة :

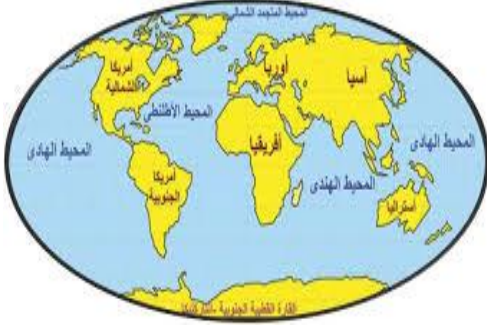
بسبب اتساع مساحة اليابس وضيق المسطحات المائية المجاورة

\*تزداد الرطوبة في المناطق الساحلية : لقربها من المسطحات المائية

\*تزداد الرطوبة في دبي ، وتقل في العين

\*تقل الأمطار في السفوح الشرقية لجبال عسير لأنها تقع في منطقة ظل المطر وأنها ليست مواجهاً للرياح مقارنة بالسفوح الغربية المواجه للرياح تكون أكثر في كميات الأمطار

ألاحظ الصور التي أمامي، ثم اكتب أسفل  
الصورة العامل المؤثر في المناخ:



توزيع اليابس والماء



الموقع الفلكي



التضاريس

أقرأ صفحة ٢٦ في كتاب الطالب، ثم أصمم مخطط ذهني لعناصر المناخ:

قارن بين الإقليم الموسمي ذو الأمطار الصيفية، والموسمي ذو الأمطار الشتوية:

أوجه المقارنة	الموسمي ذو الأمطار الصيفية	الموسمي ذو الأمطار الشتوية
الموقع	يمتد في جنوب غرب شبه الجزيرة العربي	يمتد شرق شبه الجزيرة العربية
الخصائص	*ارتفاع الحرارة *سقوط الأمطار صيفاً	*سقوط الأمطار شتاءً

ابحث في مصادر المعرفة عن أسماء نباتات حولية، ونباتات معمرة، وألصق صور لكل نوع



## # واجب

كون التعميمات التالية: مستخدماً الكلمات:

الرطوبة - السواحل - ترتفع - الداخل - تقل



أصنف التعريفات التالية من خلال الجدول التالي:

- هي الزيادة الناجمة عن هجرة السكان داخليا أو خارجياً - زيادة معدلات المواليد المرتفعة  
مقابل انخفاض معدل الوفيات - الخصائص السكانية مثل العمر والنوع والحالة  
الاجتماعية - نصيب الكيلومتر الواحد من الأفراد


التعريف	المفهوم
	الزيادة الطبيعية
	الكثافة العامة للسكان
	الزيادة غير الطبيعية
	تركيب السكان

ألاحظ الصور، ثم أكتب أسفل كل صورة ما تدل عليه من العوامل المؤثرة في توزيع السكان:



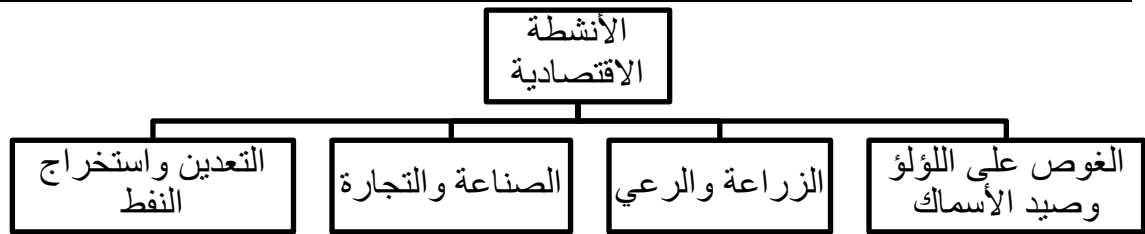
أقرأ بيانات الجدول، ثم مثل بأعمدة الرسم البياني:

الدولة	مليون عدد 2015 نسمة السكان عام
دولة الإمارات العربية المتحدة	8.7
المملكة العربية السعودية	31.5
مملكة البحرين	1.3
الجمهورية اليمنية	26.6



ما المقصود بالمفاهيم التالية:

المفهوم	التعريف
الزراعة المحمية	هي طريقة حديثة لزراعة داخل بيوت بلاستيكية لتوفير المناخ الملائم
الصناعات الاستخراجية	استخراج المعادن والنفط والغاز من باطن الأرض
الصناعات التحويلية	تحويل المواد الخام إلى منتجات مفيدة للاستهلاك
التعدين	هو استخراج المعادن من باطن الأرض وتنقيتها وإعدادها للتصنيع



فسر: \* تدهور مهنة الغوص على اللؤلؤ؟

١ - ظهور اللؤلؤ الصناعي في اليابان

٢ - اكتشاف النفط

\*تعد مهنة الرعي من المهن القديمة في شبه الجزيرة العربية؟

بسبب توافر مساحات واسعة من المراعي

\*اهتمام دول شبه الجزيرة العربية بالزراعة

لتحقيق الاكتفاء الذاتي من الغذاء - لتنويع مصادر الدخل

\*تطور حركة الصادرات والواردات

نتيجة تطور الانتاج تطور وسائل النقل

## صنف حقول النفط والموانئ لدول شبة الجزيرة العربية

الزكم - ساحل - دخان - الغوار - ناطح - جبل الظنة - الأحمدي - سترة - رأس تنورة - الفحل - رأس عيسى - المهرة - الخوير - السفانية - عوالي - رأس لفان - الروضتين - الرميلة - صافر - أبوسعفة - الشاهين

الدولة	أهم حقول النفط	أهم الموانئ
دولة الإمارات العربية المتحدة	الزكم - ساحل	جبل الظنة
المملكة العربية السعودية	السفانية- الغوار	رأس تنورة
سلطنة عمان	الخوير - ناطح	الفحل
دولة الكويت	الروضتين - الشاهين	الأحمدي
دولة قطر	دخان - سترة	رأس لفان
مملكة البحرين	عوالي - أبوسعفة	الرميلة
جمهورية اليمن	المهرة - صافر	رأس عيسى

## صنف المناطق الزراعية التالية حسب الجدول التالي:

العين - واحة القصيم - ظفار - المدينة - واحة ليوا - واحة نزوى - مأرب - حضرموت - الذيد - حائل - سهل الباطنة - سهل الحمراية - القطيف - صعدة - الحديدية -

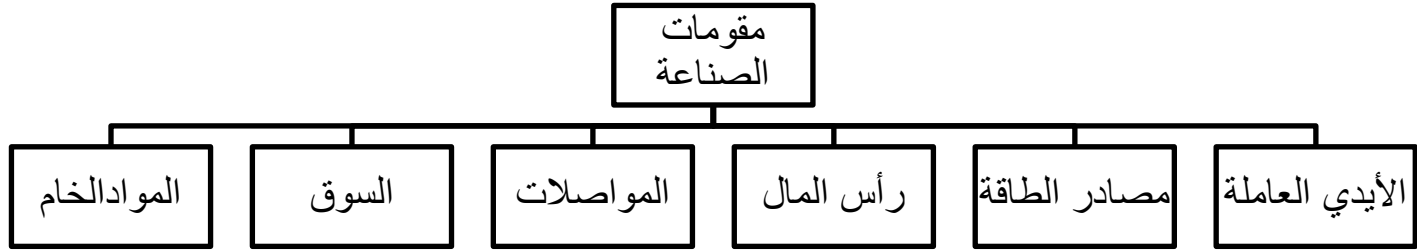
الدولة	المدينة
الإمارات	العين - واحة ليوا- الذيد- سهل الحمراية
السعودية	حائل- القطيف- واحة القصيم -
اليمن	صعدة - الحديدية- مأرب - حضرموت
سلطنة عمان	سهل الباطنة - - واحة نزوى

## صنف صادرات والواردات في شبة الجزيرة العربية من خلال الجدول التالي:

الآلات - المعدات الكهربائية - التمور - المواد الغذائية - النفط - السيارات - الغاز الطبيعي - الإسمنت - الملابس - المنتجات البتروكيماوية - الأسماك

الواردات	الصادرات
الآلات	النفط
لمعدات الكهربائية	الإسمنت
السيارات	المنتجات البتروكيماوية
الغاز الطبيعي	الأسماك
الملابس	
المواد الغذائية	التمور

## أكمل المخطط التالي:



اكتب ماتعلمته

.....  
.....  
.....



\*استنتاج تطور النقود

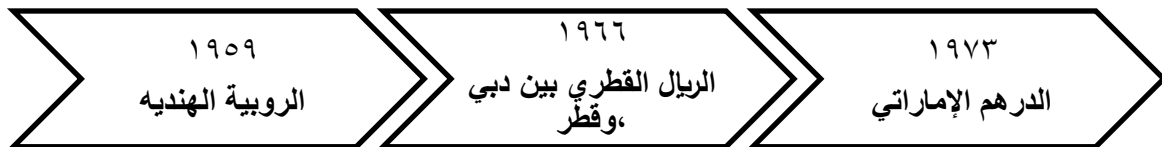
ظهرت النقود لتسهيل عملية التبادل التجاري ، استعمل العرب أنواع من النقود ضربت النقود اليمينية من الذهب والفضة والنحاس  
\*المقايضة ( هي مبادلة سلعة بسلعة أخرى )

\*سبب قيام الحكومات والدول إلى نقش صورها على النقود

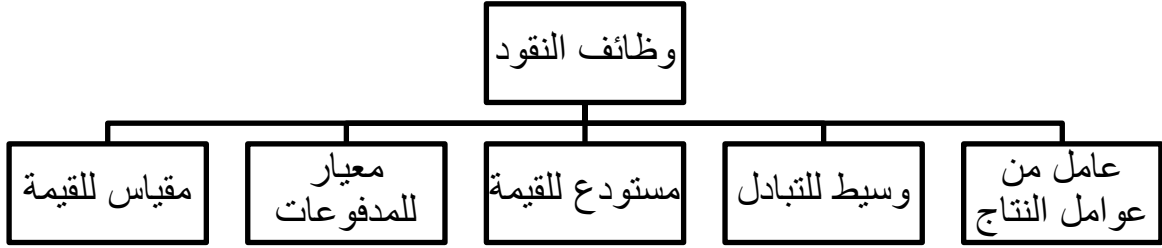
لبيان هويتها وقيمتها.

\*أنواع النقود

النقود المعدنية	النقود الورقية	النقود المصرفية	النقود الإلكترونية
صنعت من المعادن مثل الذهب والنحاس والفضة ، وتكون على هيئة أقراص مستديرة منقوشة وكتب عليها عبارات اسلامية	بداية استخدمها في القرن السادس عشر *من مميزاتها ، سهولة حملها *من عيوبها سهولة تزويرها	نقود الودائع ، عبارة عن أموال يدعها الأفراد في المصارف	عرف بالنقود البلاستيكية مودعه فسي المصارف *سهولة حملها *يمكن إتلافها أضيعها

النقود في دولة الإمارات العربية المتحدة:

## \*وظائف النقود:



### اختار المفهوم الصحيح أمام التعريف المناسب:

( المقايضة - النقود - النقود الورقية - النقود المعدنية - النقود الإلكترونية - النقود المصرفية )

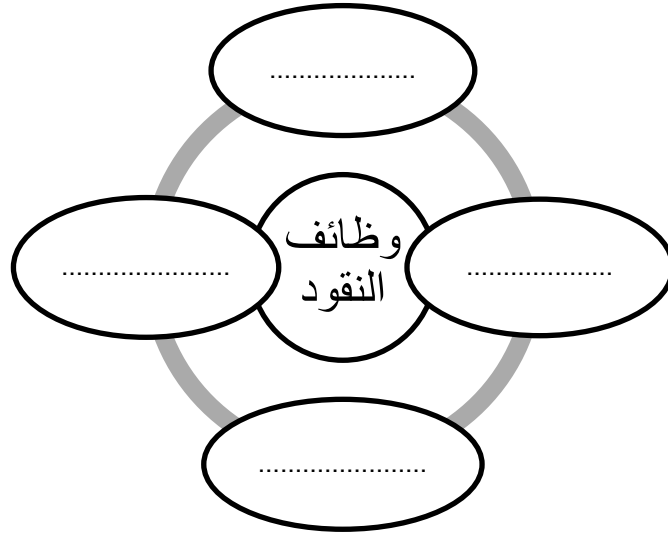
المفهوم	التعريف
	عبارة عن أموال يودعها الأفراد والمؤسسات في المصارف التجارية
	كل شيء يتمتع بالقبول العام من قبل جميع المتعاملين
	صنعت من معادن مثل الحديد والنحاس والقصدير
	تعتبر من أهم النقود الائتمانية وتعود بداية استخدامها في القرن السادس عشر
	مبادلة سلعة بسلعه أخرى مثل الإبل بالقمح أو التمور وأدوات زراعية
	مبالغ نقدية مودعة في المصارف

أقرأ صفحة ٤٨ من كتاب الطالب، ثم أستنتج الصعوبات التي ساهمت في عجز نظام  
المقايضة:

.....

.....

أكمل المخطط التالي:



الوطن هو المكان الذي تحبه، فهو  
المكان الذي قد تغادره أقدامنا لكن قلوبنا  
تظل فيه.

( تقيم ذاتي ) ( بطاقة تقييم الوحدة )



بعد دراسة الوحدة الاولى وتعلم مهاراتها قيم المهارات التي اكتسبتها

ملاحظات المعلم	ملاحظات ولي الأمر	الدرجة				المهارة
		٤	٣	٢	١	
						أعين موقع شبه الجزيرة العربية
						أعد أهمية موقع شبه الجزيرة العربية
						أرسم خريطة شبه الجزيرة العربية
						أناقش أحوال العرب قبل ظهور الإسلام
						أميز أنواع النقود
						أستخلص الأهمية الاقتصادية للجزر الإماراتية الثلاث
						أعين أشكال التضاريس في شبه الجزيرة العربية
						أقارن بين أشكال التضاريس
<u>توقيع المعلم</u>	<u>توقيع ولي الأمر</u>					المجموع

الوحدة الثانية / الدرس الأول: أحوال العرب قبل ظهور الإسلام في شبه الجزيرة العربية

**\*قارن بين القبيلة ، والملا:**

<b>القبيلة</b> جماعة من الناس تربط بينهم روابط الأخوة والعشيرة والعادات ويجمعهم موطن واحد ويحكمهم ما يسمى بشيخ القبيلة	<b>الملا</b> يضم رؤساء القبائل وتكون أوامره بالأجماع
---------------------------------------------------------------------------------------------------------------------------	---------------------------------------------------------

**\*قارن بين أسباب اتصال عرب الجنوب بحضارات العالم ، وعوامل ازدهار التجارة في مكة:**

<b>أسباب اتصال عرب الجنوب بحضارات العالم</b>	<b>وعوامل ازدهار التجارة في مكة</b>
بسبب موقعهم الجغرافي المتميز *من أشهر الحضارات. سبأ - حمير - معين	وقوع مكة على منتصف الطريق بين مأرب في الجنوب والبتراء في الشمال ومن أشهر الأسواق: سوق (عكاظ)

**\*استنتج المناطق الزراعية ومناطق الرعي في شبه الجزيرة العربية:**

<b>الزراعة</b> الطائف - يثرب - اليمن	<b>الرعي</b> نجد - الحجاز
-----------------------------------------	------------------------------

**قارن بين طبقات المجتمع قبل الإسلام**

<b>الصرحاء</b> أبناء القبيلة العرب وبيئهم روابط	<b>الموالي</b> وهم الخدم والحلفاء وهم من غير العرب	<b>العبيد والرقيق</b> هم من يشتري من الأسواق أو من أسرى الحروب
----------------------------------------------------	-------------------------------------------------------	-------------------------------------------------------------------

تغريده للشيخ محمد بن زايد في اليوم العالمي للمرأة  
المرأة في وطننا مصدر فخرنا الدائم بما تمارسه من دور  
وتبذله من تضحيات، وأمهات الشهداء نماذج ملهمة لتلك  
التضحيات



أتعاون مع مجموعتي

أكمل جدول المفاهيم:

المفهوم	التعريف
المأ	
القبيلة	
العبيد والرقيق	
الموالي	
الصرحاء	
الوزارة	
الشورى	

أكمل العبارات التالية:

التجارية - الرعي - الزراعة - الأصنام - التجارة - الصناعة - نجد - الحجاز

\*عرف عن العرب بعبادة ..... قبل ظهور الإسلام.

\*اشتهرت مكة عند العرب بالمكانة الدينية و ..... لوقوعها في منتصف طريق  
التجارة

\*اعتمد العرب قبل ظهور الإسلام في شبة الجزيرة العربية في النشاط الاقتصادي  
على ..... و.....

\*انتشرت حرفة ..... بين الأقاليم البدوية المتنقلة مثل ..... و.....

\*أما الزراعة مارسها سكان المناطق الحضرية

لتوافر.....و.....

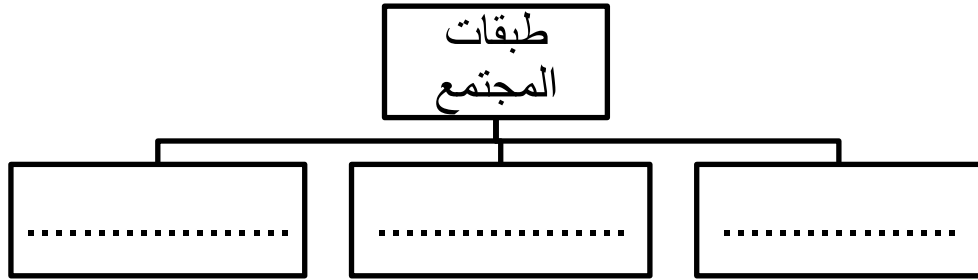
\*أما الصناعة فكانت بدائية مثل صناعة.....و.....

\*كان لأهل مكة رحلتين في السنة رحلة الشتاء لبلاد..... ورحلة

الصيف لبلاد.....

\*كان للعرب اسواق تجارية مشهورة مثل سوق.....

كان مجتمع شبه الجزيرة العربية قبل ظهور الإسلام ينقسم إلى عدة طبقات اجتماعية



اكتب ما تعلمته...



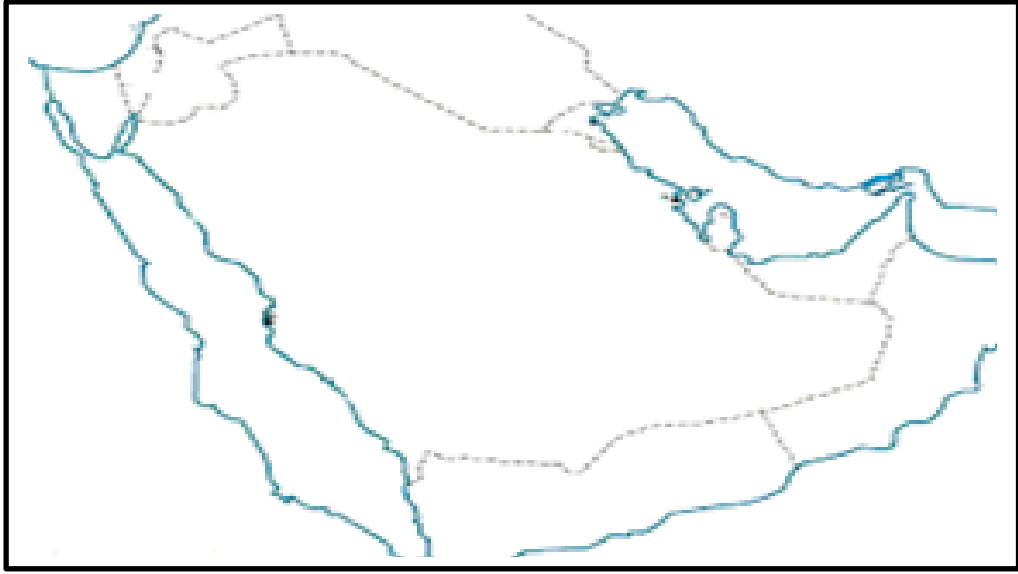
.....  
.....

الوحدة الثانية / درس : التاريخ الحديث والمعاصر لدول شبة الجزيرة العربية

أتعاون مع مجموعتي

حدد على خريطة شبة الجزيرة العربية:

(الإمارات العربية المتحدة - المملكة العربية السعودية - الكويت - قطر - سلطنة عمان - اليمن - البحرين )



رتب على الخط الزمني التالي:

مراحل قيام ( المملكة العربية السعودية )

( حائل ١٩٢٤ - الحجاز ١٩٢٥ نجد ١٩١٢ - عسير ١٩٣٢ - الأحساء ١٩١٣ )



حائل ١٩٢٤



ما المقصود بالمفاهيم التالية:

الباب العالي : هو مقر الحكومة العثمانية

فرمان: هو أمر أو حكم أو دستور موقع من الحاكم

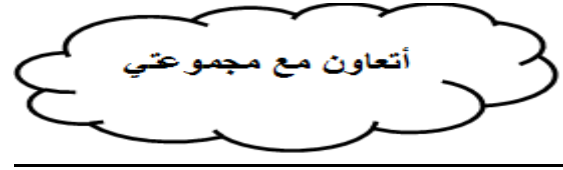
أكمل العبارات التالية:

\*تتكون البحرين من ..... جزيرة

\*سبب تسمية البحرين بهذا الاسم لو جود ..... وتلقب .....

\*هاجر ..... من الكويت إلى الزبارة

\*تتميز سواحل قطر كثرة ..... و .....



اربط السبب بالنتيجة:

السبب	النتيجة
بعد وفاة الإمام سعيد بن سلطان اختلف أبناؤه على الحكم	
استطاعت هذه الدولة تكوين قوة ضخمة	

أستكمل بينات الجدول التالي:

عانت البلاد من التجزئة القبلية - تقع في جنوب غرب شبه الجزيرة - تدهور  
الأحوال الاقتصادية والاجتماعية والتعليمية

الموقع الجغرافي والاستراتيجي لجمهورية اليمن	أحول بلاد اليمن في ظل الاستعمار	أسباب الثورة اليمنية

الوحدة الثالثة / درس: أحافظ على هويتي الوطنية

أختار المفهوم الصحيح للتعريف المناسب:

المواطنة الصالحة - الوطنية - الوطن

المفهوم	التعريف
	حب الفرد وإخلاصه لوطنه الذي يشمل الانتماء إلى الأرض والناس والعادات والتقاليد
	الأرض التي ولد فيها الإنسان أو اختار أن يعيش فيها
	موروث مشترك من المبادئ والقيم والعادات والسلوكيات بين الأفراد في الدولة

أصم مخطط لصفات المواطن الصالح:

صف شعورك عند سماعك للنشيد الوطني

.....  
.....  
.....

# غرد أنا أحب الإمارات #



أقرأ النص، ثم أجب عن الأسئلة التالية:

المواطن الصالح يتحمل مسؤولية واجباته تجاه وطنه ويتواصل مع الآخرين لقضاء حاجاتهم، فالتطوع خدمة إنسانية اجتماعية دينية تسودها المحبة والإخاء، ولا يهدف التطوع إلى تحقيق ربح مادي، بل إكساب شعور الانتماء للمجتمع وتحمل المسؤوليات، ومن أهمية التطوع الحفاظ على القيم الإسلامية، وتعزيز الشعور بالانتماء والولاء للوطن، اكتساب مهارات وخبرات جديدة، استثمار أوقات الفراغ، تقديم المساعدة للآخرين.

\*اقترح عنواناً للنص:

.....

\*استنتج تعريف التطوع

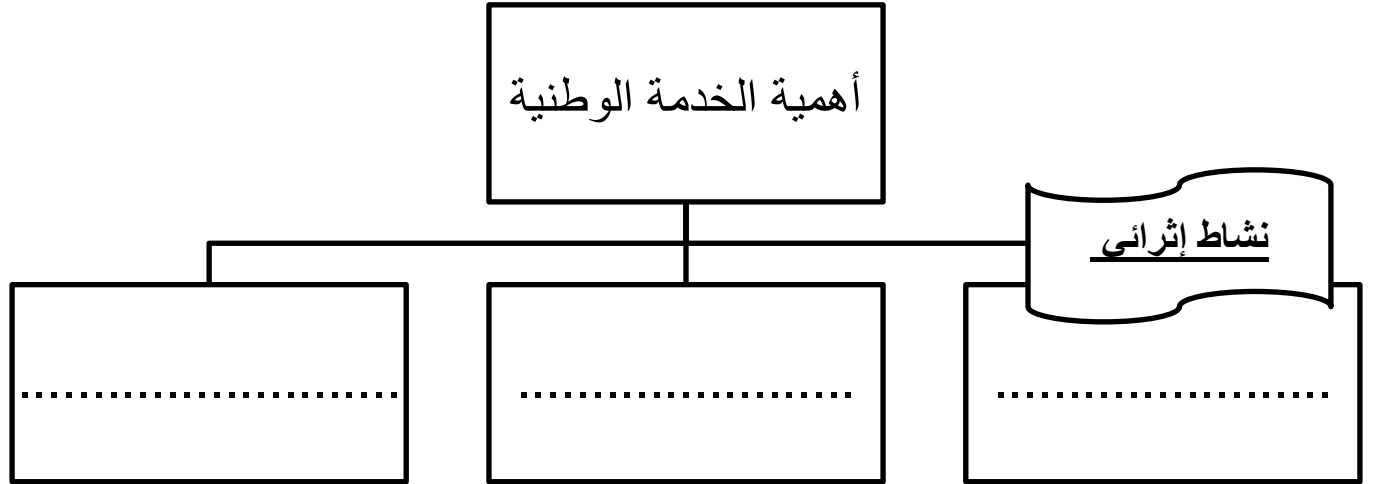
.....

مالهدف من العمل التطوعي

.....

أرسم مخطط ذهني لأهمية العمل التطوعي:

أقرأ صفحة ٨٤ من الكتاب ثم أكمل المخطط الذهني:



صنف من خلال الجدول التالي: أهداف الخدمة الوطنية والإنجازات:

- تشكيل قوة دفاع وطني إضافي - المساهمة في حماية المنشآت النفطية -
- بناء جيل جديد واثق وواعد - بناء جيش احتياط من أبناء الدولة

أهداف الخدمة الوطنية	إنجازات الخدمة الوطنية



#أغرد برسالة شكر لحماية الوطن#

.....  
.....



استخدم شبكة المعلومات: واكتب في سطور عن ( قانون الخدمة الوطنية)

.....  
.....  
.....

ابحث عن شعار المناسبات الوطنية واكتب مسماها



الشعار	المناسبات الوطنية

## صنف التعريفات التالية أمام المفهوم من خلال الجدول التالي:

هويتها التي تتفاخر بها ورمز سيادتها وتماسكها – مناسبة وطنية خالدة تعبر عن اتحاد دولة الإمارات – مناسبة وطنية تخذ فيها أسماء الشهداء

المفهوم	التعريف

### أسجل نتيجة واحدة أتوقعها

\*تحديد يوم ٣٠ نوفمبر يوماً للشهيد

.....

\*تحديد يوم الثاني من ديسمبر يوماً تاريخياً

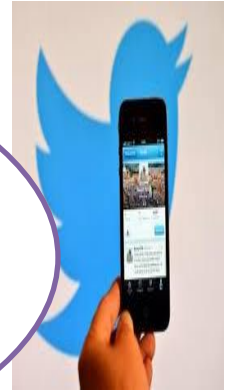
.....

# غرد أوصف شعوري وأنا أشاهد علم بلادي يرفرف عالياً #

.....



# غرد # أعاهدك - أماراتنا #



من فكر الباني المؤسس

الوحدة يجب أن تكون بين الدول وشعوب  
المنطقة - أن تكون وحدة بين شعوب المنطقة  
لا بين حكامها، لأن الشعوب أخلد وأبقى  
الشيخ زايد بن سلطان آل نهيان - رحمه الله



الوحدة الثالثة: الدرس الثالث: المناسبات الوطنية في دولة الإمارات

ابحث عن شعار المناسبات الوطنية واكتب مسماها



الشعار	المناسبات الوطنية

## صنف التعريفات التالية أمام المفهوم من خلال الجدول التالي:

هويتها التي تتفاخر بها ورمز سيادتها وتماسكها – مناسبة وطنية خالدة تعبر عن اتحاد دولة الإمارات – مناسبة وطنية تخلد فيها أسماء الشهداء

المفهوم	التعريف

### أسجل نتيجة واحدة أتوقعها

\*تحديد يوم ٣٠ نوفمبر يوماً للشهيد

.....

\*تحديد يوم الثاني من ديسمبر يوماً تاريخياً

.....

# غرد أوصف شعوري وأنا أشاهد علم بلادي يرفرف عالياً #

.....



## أفتخر بشهداء الوطن



مِنْ مَخْرَجٍ وَاللَّهُ

إعداد وتقديم  
أ/ محمد صبري الطنطاوي

