

مدرسة الإمارات الخاصة - العين

EMIRATES

PRIVATE SCHOOL - AL AIN

www.epsalain.com

WE

Established in 1982

نمتلك التاريخ ... ونستشرف المستقبل
have a long educational history and
look forward to a better future



EPS
AL AIN

تفرد
تطور، فهم، ريادة، دوام



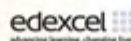
مادة

التربية الوطنية

المنهاج الإماراتي

إسم الطالب:

حقوق الطباعة والإعداد والنشر لمدرسة الإمارات الخاصة بالعين



Tel.: +971 3 7679322 Fax: +971 3 7679732 P.O. Box: 17549 Al Ain, U.A.E.

E-mail: emiratesaa.pvt@adec.ac.ae

س1- أكمل العبارة بالكلمة المناسبة مما بين القوسين :

(حب الوطن – 2008 – تقديم القهوة والتمر – العلم – اللهجة)

1- العام الذي أطلق عليه عام الهوية الوطنية في دولة الإمارات
العربية المتحدة عام

2- الهوية هي الشيء الذي يدل على الفرد ، مثل :

اللباس ، ،

3- الهوية الوطنية هي الانتماء للأرض و

4- من آداب إكرام الضيف عند أهل الإمارات:

أ/

ب/

س2- اكتب الواجبات التي يجب أن يحافظ عليها صاحب بطاقة الهوية.

1-

2-

3-

س3- صل الصورة بما يناسبها:

جواز السفر



خلاصة القيد



شهادة الميلاد



بطاقة الهوية



س1- صل الصورة بالعبارة المناسبة :



مناطق
يكثُر فيها السكان



مناطق
يقل فيها السكان



س2- انظر الى الخريطة ثم أكمل :



- 1- عاصمة دولة الإمارات هي
- 2- يتركز السكان بالدولة في
- 3- يتكون السكان في الدولة من
- 4- أسباب الزيادة السكانية في دولة الإمارات :

..... *

..... *

..... *

- 5- من مشكلات الازدحام السكاني:

..... *

..... *

س1- ميّز المعالم القديمة من الحديثة فيما يأتي بكتابة كلمة (قديمة أو حديثة) تحت الصورة :



.....

.....



.....

.....

س2- هناك أيضا معالم أخرى في بلادي مثل :

..... *

..... *

..... *


س3- صل الصورة بما يناسبها :



قلعة الجاهلي



مسبار الامل



جزيرة المرجان

أولاً : اكتب الكلمة المناسبة تحت الصورة والتي تدل على أهمية المياه :



.....

.....




.....

ثانياً : صنف الكلمات الآتية وفق الجدول :

(عين المبصرة - مياه الخليج العربي - وادي الوريعة - عين خت)

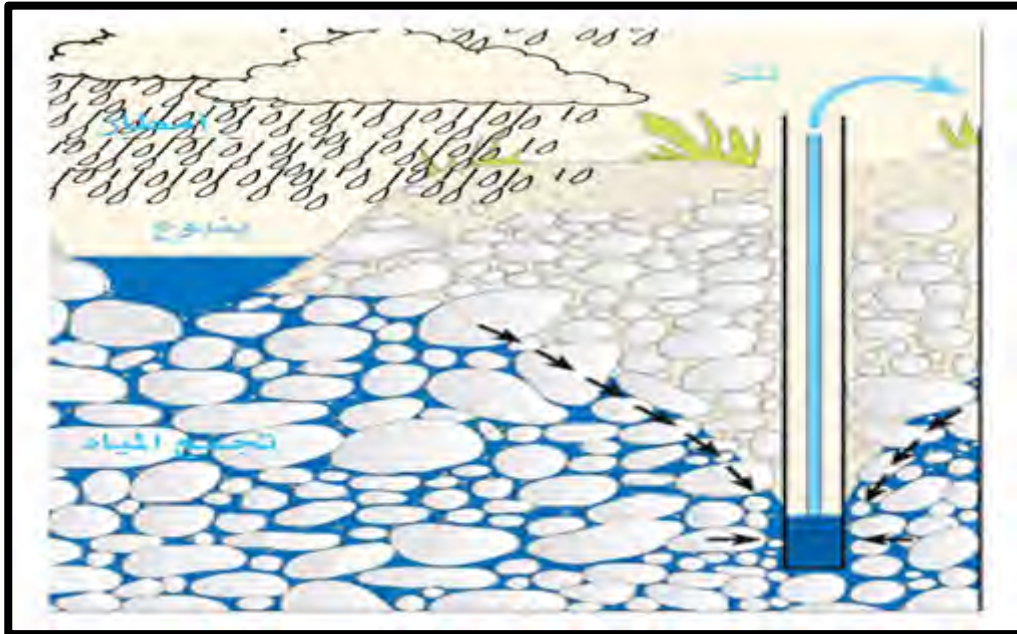
مياه باطنية	مياه سطحية
.....
.....

ثالثاً: اكتب أمام كل صورة استخدام الماء فيها



رابعاً: من خلال الصورة التالية اكتب خطوات تخزين المياه الجوفية

- 1-
- 2-
- 3-



خامساً: كيف تحافظ على المياه العذبة؟

- 1-
- 2-
- 3-

الطاقة في بلادي

(الطاقة هي القدرة على الحركة و أداء العمل)

أولاً : تتنوع مصادر الطاقة ومنها :



.....

.....



.....

.....

الطاقة في بلادي

ثانياً : صنف مصادر الطاقة الآتية حسب الجدول :




المياه - النفط - الفحم - الشمس - الغاز الطبيعي - الرياح

طاقة غير متجددة	طاقة متجددة
.....
.....
.....

ثالثاً: ضع علامة (√) أمام العبارة الصحيحة وعلامة (x) أمام العبارة الخطأ:

- 1- السيارات الكهربائية تمنع حدوث التلوث. ()
- 2- مدينة مصدر منتجة للطاقة الشمسية المتجددة. ()
- 3- تقع مدينة مصدر في إمارة رأس الخيمة . ()
- 4- يوجد في مدينة مصدر مساكن وشركات ومدارس حديثة. ()

رابعاً: اكتب اسم نوع الطاقة المتجددة تحت كل صورة:



ثروات بلادي

أولاً: صنف أسماء الصور التالية وفق الجدول الآتي :

الرمان



الجزر



التفاح



الفلفل



العنب



الطماطم



الفواكه	الخضراوات
.....
.....
.....

التربية الوطنية / الصف الثاني

ثروات بلادي

ثانياً: أكتب أسماء بعض الحيوانات التي تربى في بلادي :

..... ،

..... ،

ثالثاً : أكتب أسماء بعض أنواع الأسماك التي تعيش في بحار بلادي :

..... ،

..... ،

رابعاً: صل الصورة بما يناسبها :





فواكه



خضروات



خامساً: أكتب أسماء الحيوانات التي تربي في دولتي أسفل كل صورة:



التربية الوطنية / الصف الثاني




المهن في بلادي

(المهنة هي عمل يحتاج إلى تدريب و مهارة)

س1- اكتب اسم المهنة تحت الصورة :



س2- اكتب اسم المهنة أسفل كل صورة مما يلي :



س3- ضع علامة (✓) أمام الجملة الصحيحة وعلامة (x) أمام الجملة الخطأ :

- 1- أقول شكرا لمعلمتي عندما تقدم لي النصيحة . ()
- 2- ألقي النفايات في الشارع لأن عامل النظافة سيجمعها. ()
- 3- أحرص على استذكار دروسي لأنني أحب وطني. ()
- 4- عندما أطلب مساعدة عامل النظافة أقول له من فضلك. ()
- 5- أصعد إلى الحافلة دون السلام على السائق. ()

س4- عبر بالرسم عن المهنة التي تتمناها في المستقبل :

التربية الوطنية / الصف الثاني

الصناعة في بلادي

تقسم الصناعات إلى نوعين : تقليدية و حديثة

س1- أميز فيما يلي الصناعة التقليدية من الحديثة بكتابة كلمة (تقليدية أو حديثة) تحت الصورة :



.....

.....



.....

.....

س2- اكتب أسماء أربع صناعات تقليدية في دولة الإمارات العربية المتحدة.

- 1-
- 2-
- 3-
- 4-

س3- اكتب أسماء أربع صناعات حديثة في دولة الإمارات العربية المتحدة.

- 1-
- 2-
- 3-
- 4-

س4- اكتب أكبر عدد من مسميات الصناعات التي يدخل فيها الألومنيوم .

-
-
-
-
-