



# مذكرة مراجعة للعلوم للصف الأول للفصل الدراسي الأول للعام الدراسي 2016/2017

اسم الطالب .....

1. أي شكل يظهر كائناً حياً ؟



2. أي شكل لا يظهر كائناً حياً ؟



3. حوط الشيء الذي تحتاج إليه الحيوان لينمو ؟



4. حوط الشيء الذي تحتاج إليه هذه النبتة تنمو ؟

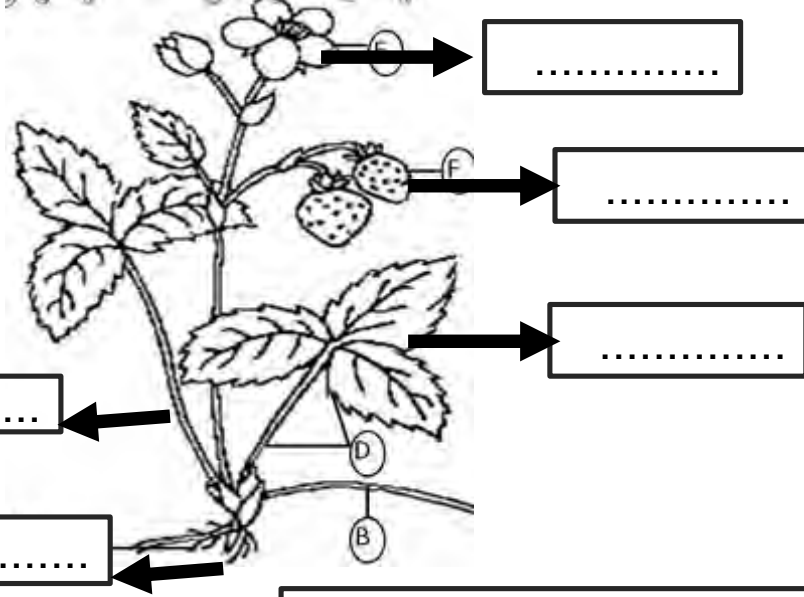


5. حوط الشيء الذي لا يحتاج إليه هذا الحيوان لينمو ؟



## الملاحظة

1. أكتب على الرسم رقم المناسب ؟  
1. جذور 2 ساق 3 أوراق 4 زهور 5 ثمرة



2. حوّل جزء النبات المسؤول عن صنع الغذاء للنبات ؟



3. حوّل جزء النبات المسؤول عن حمل النبتة و نقل الماء و الغذاء و إلى أجزاء النبتة ؟




4. حوّل جزء النبات المسؤول عن تثبيت النبتة وامتصاص الماء من التربة ؟

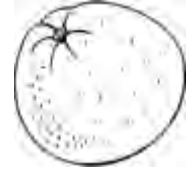



## الملاحظة

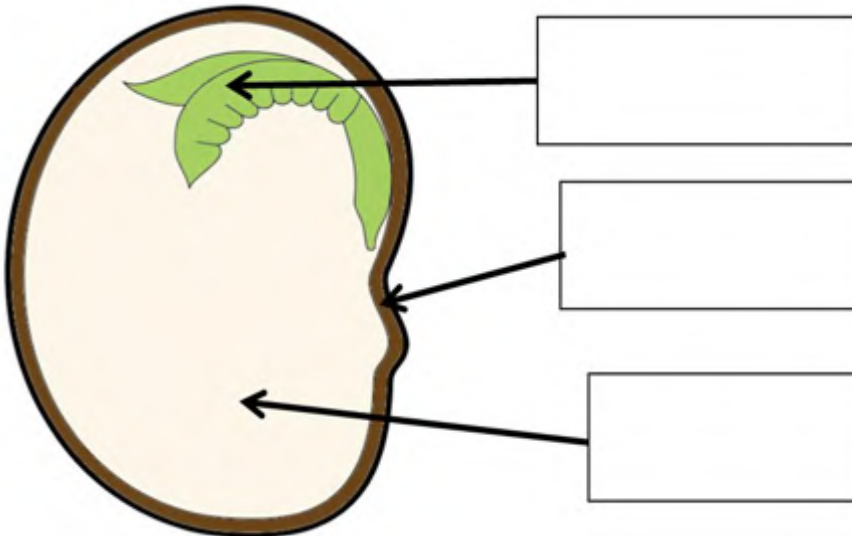

1. حوط جزء النبات ينمو حول البذرة ؟



2. حوط جزء النبات الذي ينتج البذور ؟



3. حوط جزء النبات يمكن أن يتحول إلى نبات جديد؟




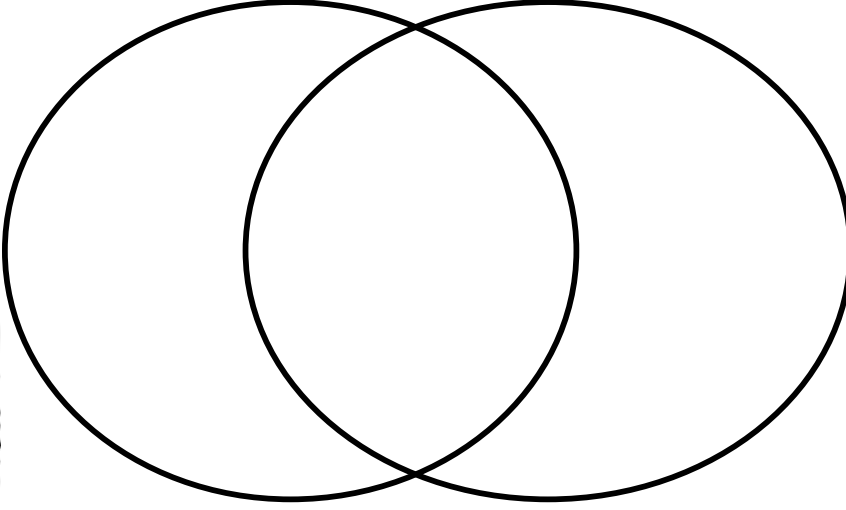
أكتب على الرسم رقم  
المناسب ؟

1. غطاء البذرة

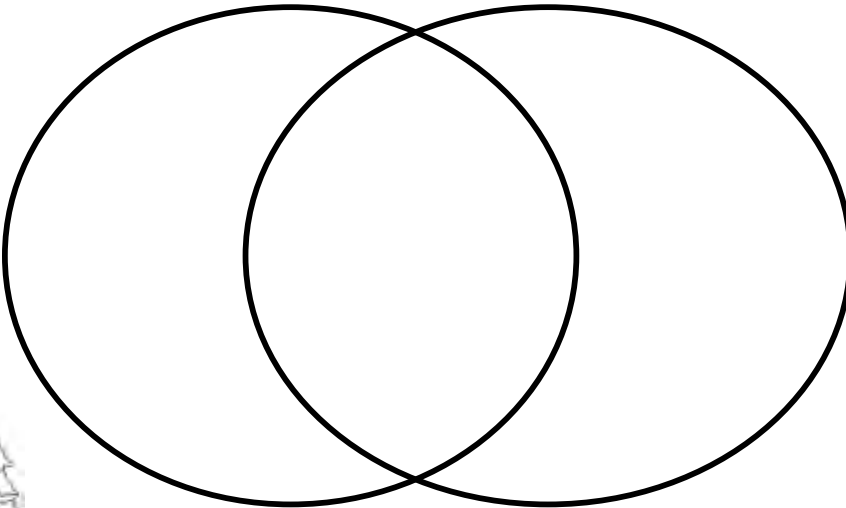
2. غذاء البذرة

3. البادرة

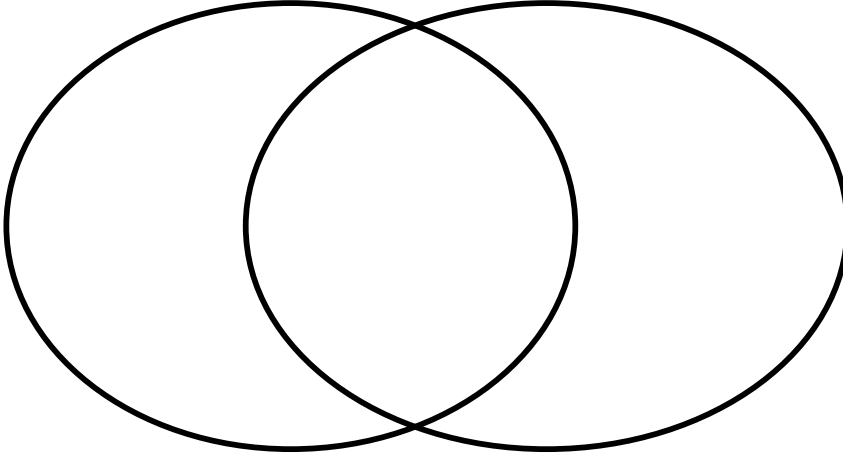
1. ما أوجه الشبه بين النباتات الصحراوية و النباتات الغابات المطيرة ؟  
1. سيقان سمكية وأوراق شائكة 2. أوراق مسننة 3. تحتاج إلى الماء



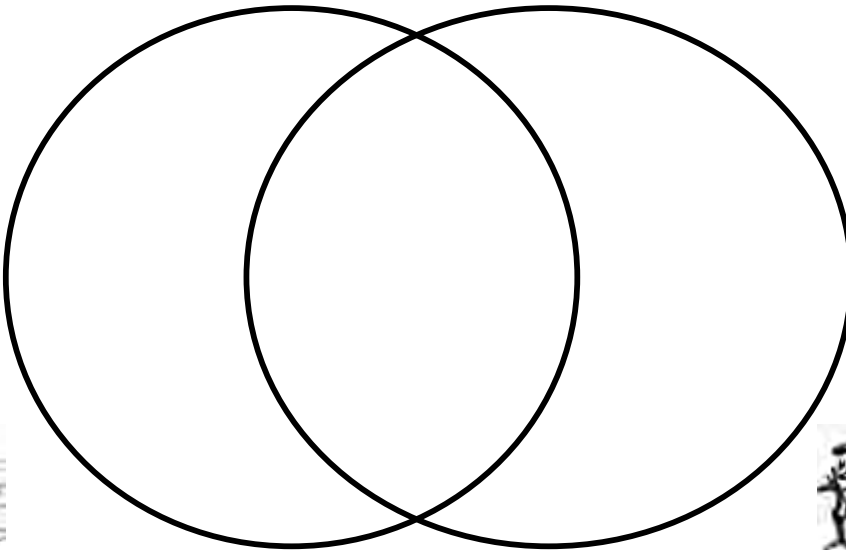
2. ما أوجه الشبه بين النباتات الغابات المطيرة ونباتات المناطق القطبية ؟  
1. تنمو في مجموعات بالقرب من سطح الارض  
2. أوراق مسننة 3. تحتاج إلى مواد غذائية




1. ما أوجه الشبه بين الارض العشبية و الغابة ؟  
1. مكان جاف 2. العديد من الاشجار 3. الكثير من الأعشاب 4. الراكون  
5. كلب البراري 6. الزرافة 7. نقار الخشب 8. موطن بري



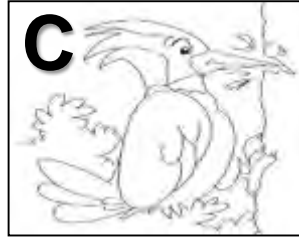
2. ما أوجه الشبه بين البحيرة و المحيط ؟  
1. مسطح مائي 2. مالح 3. تحيط به اليابسة من كل الإتجاهات  
4. عميق للغاية 5. الحوت 6. القندس 7. أسد البحر



1. صنف الحيوانات التالية على حسب المجموعات .



الزرافة



نقار الخشب




الراكون



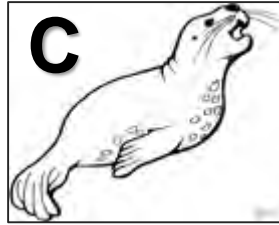
كلب البراري

الغابات	الارض العشبية


2. صنف الحيوانات التالية على حسب المجموعات .




القنس



أسد البحر



حوت



بجعة

المحيط	البحيرة

1. توقع ما سيحدث ؟



○ تنمو      ○ تموت      ○ لا تتأثر



○ تنمو      ○ تموت      ○ لا تتأثر



○ تنمو      ○ تموت      ○ لا تتأثر



## الملاحظة

1. فأنت تأكل اي جزء من النبتة ؟



عندما تأكل

بذرة

أوراق

ساق

جذور

2. فأنت تأكل اي جزء من النبتة ؟



عندما تأكل

بذرة

أوراق

ساق

جذور

3. فأنت تأكل اي جزء من النبتة ؟



عندما تأكل

بذرة

أوراق

ساق

جذور

4. فأنت تأكل اي جزء من النبتة ؟



عندما تأكل

بذرة

أوراق

ساق

جذور



**D**



**C**



**B**



**A**

1. الرسم الذي يوضح أكلك للجذور هو ؟

**A**

**B**

**C**

**D**

2. الرسم الذي يوضح أكلك للساق هو ؟

**A**

**B**

**C**

**D**

3. الرسم الذي يوضح أكلك الأوراق هو ؟

**A**

**B**

**C**

**D**

4. الرسم الذي يوضح أكلك بذرة هو ؟

**A**

**B**

**C**

**D**

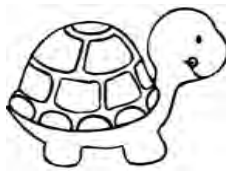
1. صنف الحيوانات التالية على حسب المجموعات .



**F**



**E**



**D**



**C**



**B**



**A**

ثدييات	طيور	زواحف

2. صنف الحيوانات التالية على حسب المجموعات .




**F**



**E**



**D**



**C**



**B**



**A**

برمائيات	أسماك	حشرات

## التصنيف

1. صنف الحيوانات التالية على حسب المجموعات .

التنفس بالرئتين	التنفس بالخياشيم




2. صنف الحيوانات التالية على حسب المجموعات .

تولد	تبيض



3. صنف الحيوانات التالية على حسب المجموعات .

يغطي جسمه القشور	يغطي جسمه الحراشف




4. صنف الحيوانات التالية على حسب المجموعات .

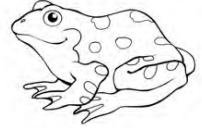
جلد جاف	جلد املس



1. حوط الحيوان الذي يعيش في الماء فقط ؟





2. حوط الحيوان الذي يتنفس بالخياشيم فقط ؟



3. حوط الحيوان الذي يغطي جسمه الريش ؟



4. حوط الحيوان الذي توجد له زعانف




5. حوط الحيوان الذي له 8 ارجل ؟



6. حوط الحيوان الذي يتكون جسمه من 3 أجزاء ؟




7. حوط الحيوان الذي يتكاثر بالولادة ؟





8. حيوان من الثدييات وله مقدرة على الطيران ؟




9. حوط الحيوان الذي يضع البيض فقط ؟




10. حوط الحيوان الذي يمكنه الانتقال بين الماء واليابسة ؟



11. حوط الحيوان الذي يغطي جسمه القشور ؟




12. حوط الحيوان الذي يغطي جسمه الحراشف ؟






A. أي مما يلي ليس من صفات الطيور ؟

1. يغطي جسمها الريش
2. تلد صغارها
3. لها منقار



B. أي مما يلي ليس من صفات الزواحف ؟

1. يغطي جسمها الحراشف
2. تبيض
3. تتنفس بالخياشيم



C. أي مما يلي ليس من صفات الثدييات ؟

1. تلد صغارها
2. يغطي جسمها الشعر
3. تتنفس بالخياشيم



A



B

الحيوان الذي له منقار للحصول على غذائه .

A

B

الحيوان له أرجل قوية للتحرك بسرعة للحصول على الغذاء .

A

B




ماذا يساعد الطيور في الحصول على الغذاء ؟

الريش

المنقار

الريشتان




ماذا يساعد الأسماك في السباحة ؟

الزعانف

القشور

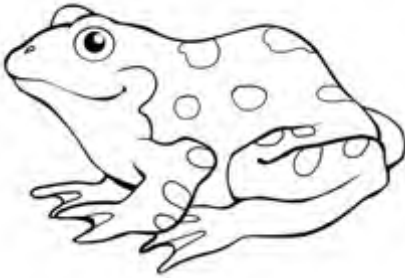
العيون






D. أي مما يلي ليس من صفات الأسماك؟

1. يغطي جسمها قشور
2. تتنفس بالرتتان
3. لها زعانف



E. أي مما يلي ليس من صفات البرمائيات ؟

1. تعيش في الماء فقط
2. تبيض
3. جلد ناعم واملس



F. أي مما يلي ليس من صفات نباتات الصحراء ؟

1. سيقان سميقة
2. اوراق سميقة
3. اوراق مدببة

A. حيوان يعيش في البراري ؟

1. الراكون
2. الزرافة
3. نقار الخشب

D. حيوان يعيش في الغابة ؟

1. غزال
1. كلب البراري
2. زرافة

B. أي مما يلي ليس من صفات البحيرة ؟

1. ماء عذب
2. تحيط به اليابسة من جميع الاتجاهات
3. عميق جداً

E. أي مما يلي ليس من صفات المحيط ؟

1. ماء مالح
2. عميق للغاية
3. تحيط به اليابسة من جميع الاتجاهات

C. حيوان يعيش في البحيرة ؟

1. القندس
2. الحوت
3. القرش

F. حيوان يعيش في المحيط ؟

1. أسد البحر
2. البطة
3. القندس



A. يوضح الرسم ؟

1. دورة الحياة
2. مدى العمر
3. السلسلة الغذائية



B. ورقة البیداء إذا قطعت  
ووضعت في الماء ينمو لها ؟

1. ساق
2. أوراق
3. جذور

E. النباتات التي تعيش في القطب  
الشمالي و الجنوبي ، تنمو بالقرب من  
سطح الرض

1. تحميها من الرياح
2. تحميها من البرد
3. للبقاء في التربة المتجمدة

C. النبتة التي تنمو من براعم  
موجودة على السطح الخارجي ؟

1. الفاصولياء
2. البیداء
3. البطاطا

D. تنمو النباتات في الغابات  
المطيرة ، تساعد اوراقها الكبيرة  
و المسننة في بقائها لأنها

1. تخزين الماء
2. تحميها من الشمس
3. تتخلص من الماء الزائد

F. تنمو النباتات في الصحراء حيث  
تتميز

1. سيقان سمكة
2. اوراق مسننة
3. تنمو بعضها بالقرب من بعض

A. يوضح الرسم ؟



1. دورة الحياة
2. مدى العمر
3. السلسلة الغذائية

B. يوضح الرسم ؟



1. دورة الحياة
2. مدى العمر
3. السلسلة الغذائية



E. يوضح الرسم ؟

1. تمويه
2. مأوى
3. برعم


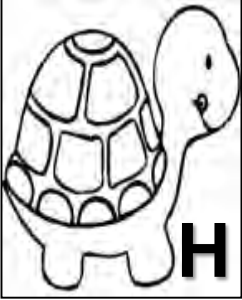


D. يوضح الرسم ؟

1. تمويه
2. مأوى
3. برعم

C. يوضح الرسم ؟

1. تمويه
2. مأوى
3. برعم

## التصنيف



حيوانات تهاجر في الشتاء بحثاً عن  
الغذاء والدفيء

حيوان لديه رقبة طويلة ليصل  
لأوراق الشجر

حيوان له اعين كبيرة ليرى في الليل

حيوان له أنف طويل ليصل  
للحشرات تحت الأرض

حيوان يخرج سائلاً ذا رائحة كريهة  
ليبتعد عن الحيوانات

حيوان يغير ريشه ليمنع الاعداء من  
رؤيته

حيوان يدخل في السبات شتاءً

حيوان يختبئ داخل قوقعة ليحافظ  
على سلامته


حيوان لديه هذه الأسنان و ياكل النباتات



حيوان لديه هذه الأسنان و ياكل النباتات



حيوان لديه هذه الأسنان و ياكل اللحوم




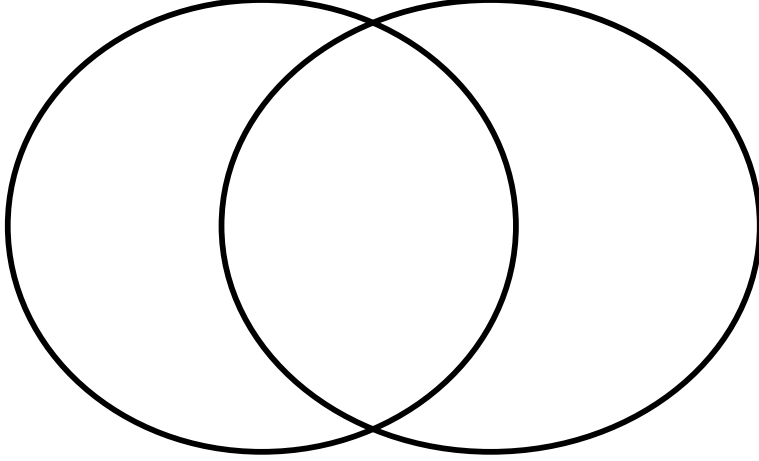
حيوان لديه هذه الأسنان و ياكل اللحوم



## المقارنة

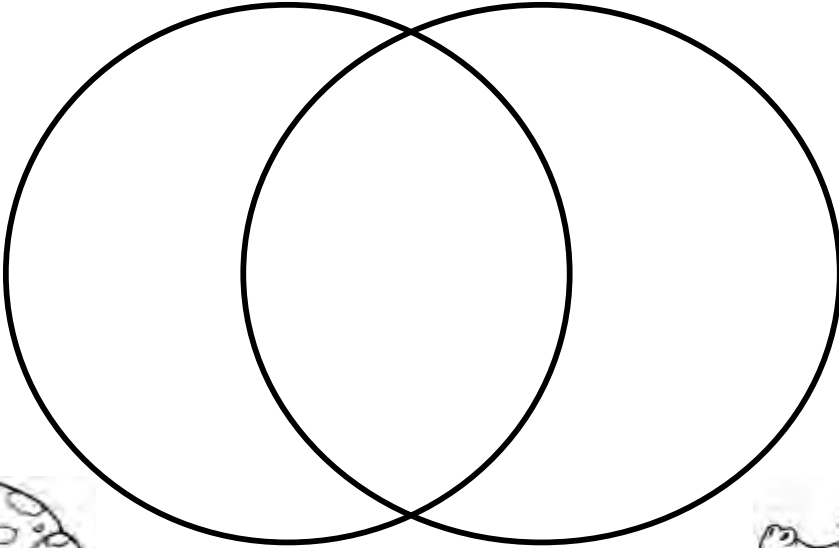
1. ما أوجه الشبه بين الماعز و الكناري ؟

1. لها ريش 2. تبيض 3. تلد صغارها 4. تتنفس بالرئتان 5. لها شعر




2. ما أوجه الشبه بين التمساح و الضفدع ؟

1. تبيض 2. جلد جاف 3. جلد املس ورطب 4 . 4 ارجل





## المقارنة

3. ما أوجه الشبه بين السمكة و الضفدع ؟  
1. قشور 2. تبيض 3. جلد أملس ورطب 4. تعيش في الماء فقط  
5. تنتقل بين اليابسة و الماء



4. ما أوجه الشبه بين السمكة و السلحفاة ؟  
1. تبيض 2. لها قشور 3. لها حراشف


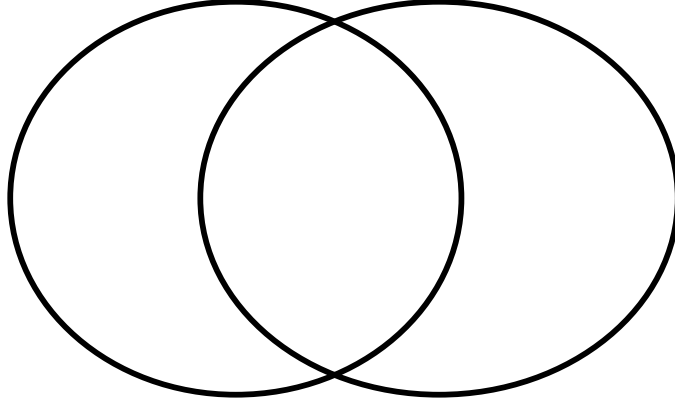




## المقارنة

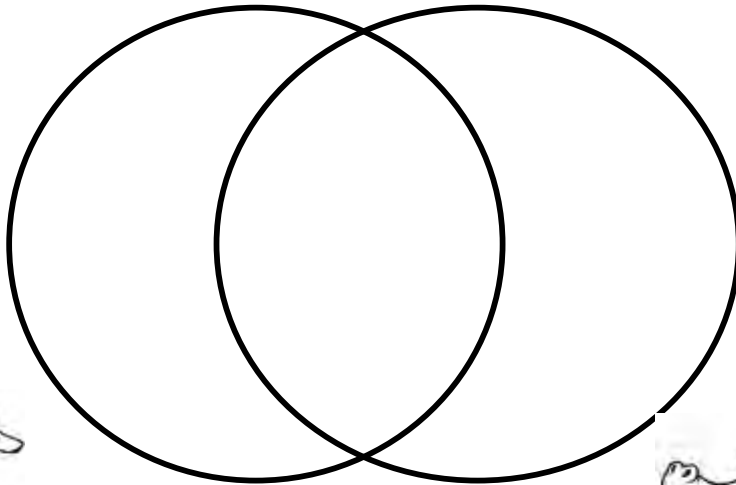
5. ما أوجه الشبه بين السمكة و البطة ؟

1. تبيض
2. تتنفس بالرئتين
3. لها قشور
4. لها ريش
5. تتنفس بالخياشيم



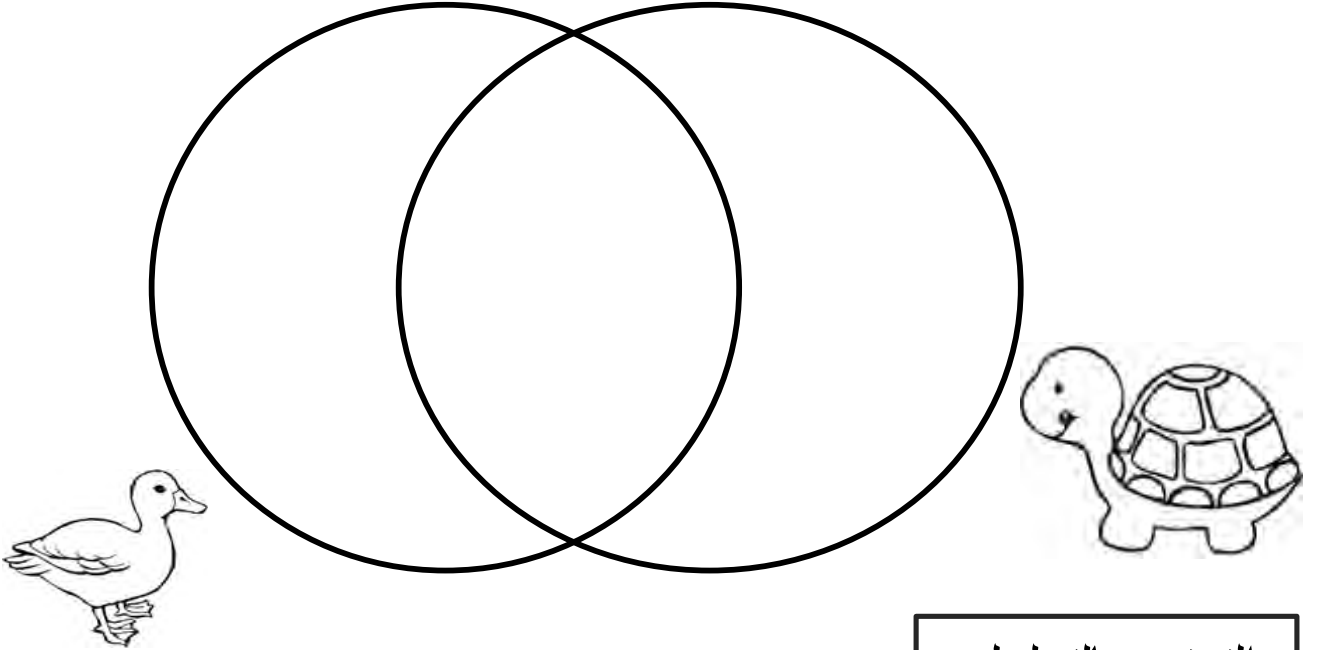
6. ما أوجه الشبه بين التمساح و البطة ؟

1. تبيض
2. التنفس بالرئتان
3. لها ريش
4. رجلان
5. 4 ارجل
6. لها حراشف



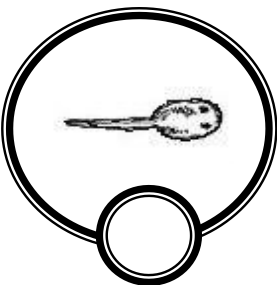

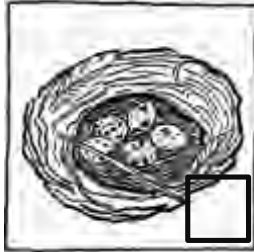




## المقارنة

5. ما أوجه الشبه بين دورة حياة الضفدع و دورة حياة الطائر ؟  
1. يفقس من بيض 2 . يعيش في اليابسة 3. يعيش في الماء



## الترتيب بالتسلسل






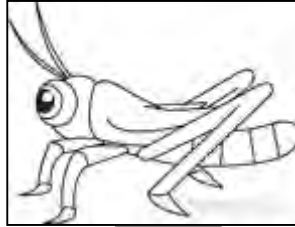
تساعد هذه النحلة النبتة في

1. الحصول على الغذاء
2. إنتاج نبات جديد
3. الحصول على مأوى

الترتيب بالتسلسل


رتب بالتسلسل الصحيح السلسلة الغذائية





















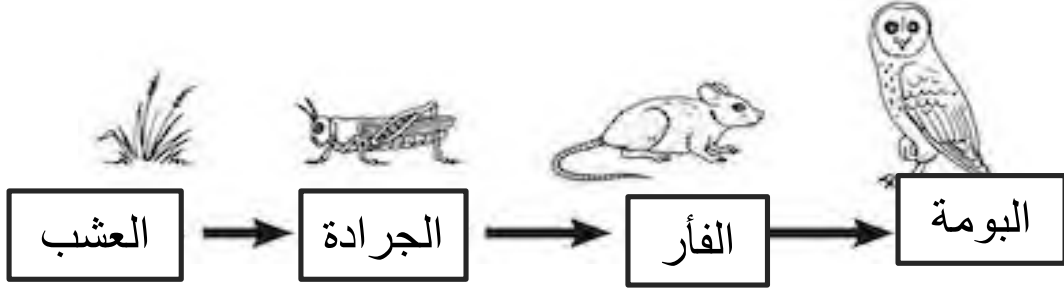






## الترتيب بالتسلسل

انظر للسلسلة الغذائية ، ثم اختر الإجابة الصحيحة



2. من خلال الرسم الذي أمامك ماذا تاكل الجرادة ؟

1. البومة
2. الجرادة
3. العشب

1. من خلال الرسم الذي أمامك من يأكل الفأر ؟

1. البومة
2. الجرادة
3. العشب

4. من خلال الرسم الذي أمامك ماذا تاكل البومة ؟

1. الفأر
2. الجرادة
3. العشب

3. من خلال الرسم الذي أمامك من يأكل الجرادة ؟

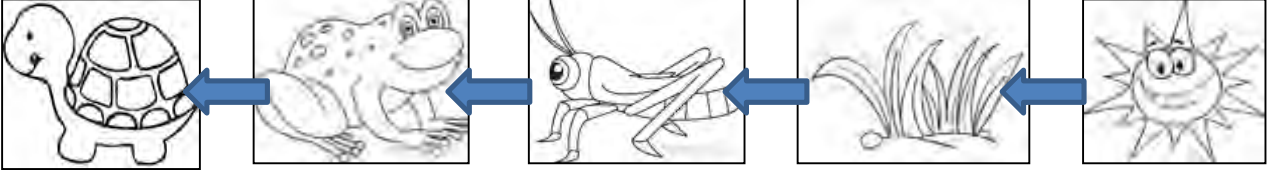
1. البومة
2. الفأر
3. العشب

5. الكائن الحي الذي يقع في بداية السلاسل الغذائية هو

البومة      الفأر      الجرادة      العشب

## الترتيب بالتسلسل

انظر للسلسلة الغذائية ، ثم اختر الإجابة الصحيحة



السلحفاة

الضفدع

الجرادة

العشب

الشمس

2. من خلال الرسم الذي أمامك ماذا تأكل الجرادة ؟

1. البومة
2. الجرادة
3. العشب

1. من خلال الرسم الذي أمامك من يأكل الضفدع ؟

1. العشب
2. الجرادة
3. السلحفاة

4. من خلال الرسم الذي أمامك ماذا تأكل السلحفاة ؟

1. الضفدع
2. الجرادة
3. العشب

3. من خلال الرسم الذي أمامك من يأكل الجرادة ؟

1. السلحفاة
2. الضفدع
3. العشب

5. تأتي دائما في بداية السلاسل الغذائية هو

السلحفاة

الضفدع

الجرادة

العشب

الشمس