

مذكرة مراجعة للصف الاول الاساسي لمادة الرياضيات

اشراف

الاستاذة : كلثوم الهاشمي

الاستاذة : فهيمة محمد

الاسم :

الصف :

الوحدة 7 تنظيم الرسوم البيانية واستخدامها

اكتب الإجمالي. واستخدم التمثيل البياني في الإجابة عن الأسئلة.

الفصل المفضل		
الفاكهة	العدد بالرموز	الإجمالي
الصيف		
الخريف		
الشتاء		
الربيع		

1. كم شخصاً يحبون الشتاء ؟
2. بكم يزيد عدد الذين اختاروا الخريف عن الربيع ؟
3. هل 7 أشخاص يحبون الصيف ؟
4. كم شخصاً شارك في الاستطلاع الرأي ؟

اكتب الإجمالي، واستخدم جدول العلامات في الإجابة عن السؤال.

الرياضة المفضلة		
الرياضة	العدد بالرموز	الإجمالي
كرة القدم 		
كرة السلة 		
بيسبول 		

5. أي رياضة حصلت على أصوات أكثر من كرة السلة؟

أكمل كلاً من العبارات التالية.





استطلاع الرأي

جدول العلامات

7. يمكنك تجميع البيانات بعمل
8. يعرض البيانات باستخدام علامات الإحصاء.

1. اكتب القيم الإجمالية في جدول العلامات.

7				
6				
5				
4				
3				
2				
1				
0				

2. استخدم جدول العلامات الموجود في التمرين 1 في رسم تمثيل بياني بالأعمدة.

إضافة البيتزا المفضلة		
الإجمالي	العدد بالرموز	الإضافة
7		جبنة
3		بيروني
2		سجق

تقيم نورة حفل بيتزا، وتطلب من المدعوين اختيار نوع البيتزا المفضل لهم. إذا طلبت نورة نوعاً واحداً، فأأي نوع طلبت؟ فسّر.


أكمل كلاً من العبارات التالية.

تمثيل بياني مصور

تمثيل بياني بالأعمدة

5. يستخدم _____ الأعمدة في عرض البيانات.

6. يستخدم _____ الصور في عرض البيانات.



اكتب القيم الإجمالية في
جدول العلامات.

الأشكال	علامات العد	العدد الإجمالي

ما تسمى التمثيل البياني جدول
علامات العد

استخدم جدول بعلامات العد 1 وارسم تمثيل بياني بالصورة

							المستطيل
							المثلث
							الدائرة




.....
أي الأشكال الهندسية أكثر تفضيلاً
عند الطلبة؟
بكم يزيد الدائرة عن المستطيل ؟
.....

7. كم صوتاً يمثل كل تمثيل بياني مصور؟

1	2	3	4
○	○	○	○

استخدم/ي جدول العلامات لرسم تمثيل بياني
مصور

اكتب القيم الاجمالية في جدول العلامات.

وسائل النقل المفضلة						
						سيارة 
						قطار 
						طيار 

وسائل النقل المفضلة		
الاسم	العدد بالرموز	الاجمالي
سيارة 		
قطار 		
طيارة 		

1. قطف محمد 9 تفاحات, وقطف صديقة خالد 5 تفاحات .

كم يزيد عدد التفاحات التي قطفها محمد عن خالد؟

اظهر استطلاع الرأي أن 5 اشخاص يحبون الجري, و 8 اشخاص يحبون السباحة, و 5 اشخاص يحبون القفز.

كم شخصا تم استطلاع رأية؟

أكمل كلاً من العبارات التالية.

تمثيل بياني مصور

البيانات

5. يعرض التمثيل البياني المعلومات أو _____.

6. _____ يستخدم الصور في عرض البيانات.

حل المسائل عن الساعة – الوقت

يبدأ حفل العشاء الساعة 5 تماما وينتهي بعد 3 ساعات . ففي أي وقت ينتهي الحفل .
ارسم الوقت ف يساعة التناظرية والساعة الرقمية



الساعة الزائدة نصف ساعة . عقرب الساعات يقف بين 6 و 7 كم الساعة إذا . ارسم
عقارب الساعة ؟



عند حسن تمرين الساعة 7 ويستمر لمدة ساعتين . أي وقت ينتهي التمرين ؟



عادت فاطمة من الاستراحة الساعة 11 وظلت في الاستراحة لمدة ساعة
أي ساعة بدأت الاستراحة



الوحدة 9 أشكال ثنائية الأبعاد والحصص المتساوية

أذكر كل شكل وارسمه

أنا شكل ثنائي الأبعاد لدي 4 أضلاع . ضلعان منها طويلان ومتساويان والضلعان الآخران قصيران وأيضا متساويان . فأني شكل أنا؟

أنا شكل ثنائي الأبعاد لدي 4 رؤوس . وكل أضلاعي متساوية في الطول فأني شكل أنا؟

أنا شكل ثنائي الأبعاد لا أضلاع لي ولا رؤوس . فأني شكل أنا؟

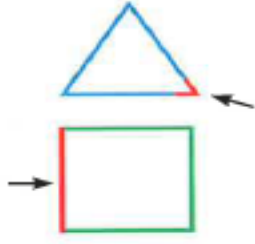
أنا شكل ثنائي الأبعاد عدد أضلاعي أقل من 4 ولي 3 رؤوس . فأني شكل أنا؟

أنا شكل ثنائي الأبعاد لدي 4 أضلاع فقط اثنان من أضلاعي متساويان . فأني شكل أنا؟



ارسم خطوطاً لتوصيل الكلمات بما يطابقها.

1. ضلع

2. رأس



اكتب عدد الأجزاء المتساوية



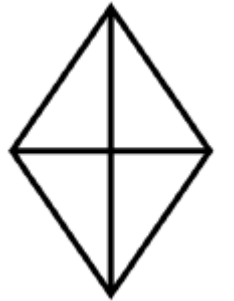
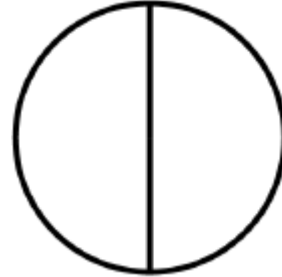

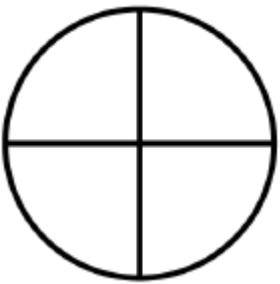
..... أجزاء متساوية

..... أجزاء متساوية

..... أجزاء متساوية

لون ربع الشكل الهندسي :



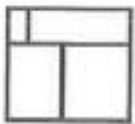
لون نصف الشكل الهندسي :



ارسم دائرة حول الإجابات الصحيحة.

10. أجزاء متساوية

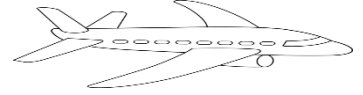
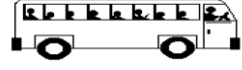
9. الكل



الوحدة 8 القياس

قارن/ي بين الاجسام , ارسم/ي دائرة حول الإجابة الصحيحة؟

1- حافلة مدرسة أطول من السيارة, الطائرة أطول من حافلة المدرسة.



اقصر

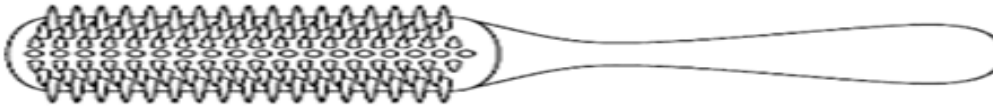
أطول من

هل السيارة أطول من الطائرة ام اقصر؟

رتب/ي الاجسام تبعا للطول. اكتب/ي 1 للجسم القصير , و 2 للجسم الاقصر, و 3
للاقصر علي الاطلاق؟



قس باستخدام . اكتب حوالي كم مكعب



1	2	3	4	5	6	7	8
---	---	---	---	---	---	---	---

الأشكال الهندسية صل الاسم بالشكل المناسب :

1- أنا شكل ثلاثي لي وجه واحد
ورأس واحد

2- أنا شكل ثنائي عدد رؤوسي
صفر

3- أنا شكل ثنائي عدد أضلاعي
4 وجميع أضلاعي بنفس الطول

4- أنا شكل ثلاثي متكون من 6
مربعات

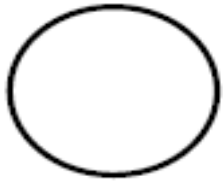
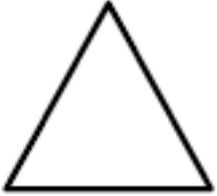
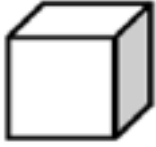
5- أنا شكل ثلاثي لي وجهان

6- أنا شكل ثنائي لي ثلاثة
أضلاع

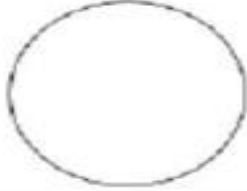

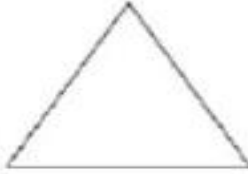






7- أنا شكل ثلاثي لي ثمانية
رؤوس ووجهي مستطيل

8- أنا شكل ثنائي لي أربعة
أضلاع ضلعان لهم نفس الطول

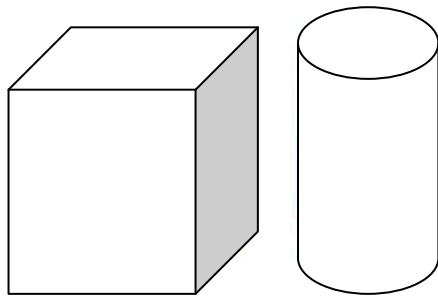
9- أنا شكل ثنائي لي أربعة
رؤوس ضلعان لهما نفس الطول
والضلعان مختلفان



كم عدد الاضلاع

		
1 0 2	2 3 4	3 1 2
		
4 2 5	2 5 4	0 1 2
		
6 5 4	9 8 6	8 10 6

ما عدد الأوجه في المكعب والإسطوانة إجمالاً؟



- | | | | |
|-----------------------|-----------------------|-----------------------|-----------------------|
| 2 | 4 | 6 | 8 |
| <input type="radio"/> | <input type="radio"/> | <input type="radio"/> | <input type="radio"/> |

